



- 1 Gambar 1 berkaitan karya Ibn Khaldun yang menekankan kehidupan Bandar yang bertamadun.



Gambar 1

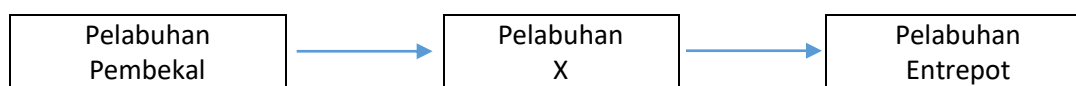
- Apakah ciri kehidupan tersebut ?
- A Kestabilan politik
 - B Ketinggian moral
 - C Kemajuan ekonomi
 - D Kebebasan beragama
- 2 Apakah fungsi zigurat dalam tamadun Mesopotamia?
- A Makam diraja
 - B Kubu pertahanan
 - C Rumah ibadat
 - D Tempat pertarungan
- 3 Mengapakah dua orang konsul dilantik dalam sistem pemerintahan republik di Rom?
- A Memudahkan perluasan empayar
 - B Mengimbangi kuasa pemerintah
 - C Memilih pemimpin berwibawa
 - D Mengelakkan penaklukan kuasa asing
- 4 Gambar 2 berkaitan acara dalam Sukan Olimpik di Yunani pada tahun 776 S.M.



Gambar 2

- Mengapakah sukan tersebut diadakan?
- A Menghormati tuhan
 - B Memilih panglima perang
 - C Mempamerkan kekuatan tentera
 - D Memantapkan semangat patriotisme

5 Rajah 1 berkaitan tahap perkembangan pelabuhan dalam kerajaan awal di Asia Tenggara.



Apakah X ?

- A Pelabuhan darat
- B Pelabuhan tentera
- C Pelabuhan kerajaan
- D Pelabuhan perikanan

6 Mengapakah konsep dewa-raja diamalkan dalam kerajaan awal di Asia Tenggara?

- A Memperkukuh kedudukan pemerintah
- B Kepercayaan kepada alam semesta
- C Kepelbagaian amalan beragama
- D Mengiktiraf golongan agama

7 Maklumat berikut berkaitan dengan kehidupan masyarakat Arab pada Zaman Jahiliah.

- Menyembah berhala
- Menanam bayi perempuan
- X

Apakah X?

- A Menjalinkan kerjasama antara kabilah
- B Memiliki ilmu pengetahuan tinggi
- C Mengamalkan semangat asabiah
- D Mempunyai susun lapis masyarakat

8 Maklumat berikut berkaitan peristiwa yang berlaku dalam kehidupan Nabi Muhammad SAW.

Umur	Peristiwa
35 tahun	Menyelesaikan pertelingkahan perletakan semula Hajar Aswad

Apakah ciri keperibadian yang boleh dicontohi daripada peristiwa tersebut?

- A Kegigihan
- B Bersemangat
- C Bersifat pemaaf
- D Kebijaksanaan

- 9 Apakah faktor kemenangan tentera Islam dalam Perang Khandak pada tahun 627 Masihi?
- A Senjata moden
 - B Tentera ramai
 - C Bantuan luar
 - D Strategi berkesan
- 10 Mengapakah orang Islam Madinah melakukan Baiah al-Ridwan pada tahun 628 M?
- A Kebenaran memasuki kota Madinah
 - B Menawan semula kota Makkah
 - C Membela kematian Uthman bin Affan
 - D Ancaman perang oleh orang Arab Quraisy
- 11 Maklumat berikut berkaitan dengan perlantikan khalifah pada zaman pemerintahan Khulafa al-Rasyidin.

Sistem Syura

Mengapakah proses tersebut dilaksanakan?

- A Menjamin taat setia
 - B Meneruskan tradisi
 - C Kemunculan golongan Mozarab
 - D Kemosotan pengaruh gereja
- 12 Penyebaran Islam membawa kepada pertembungan kebudayaan antara tamadun dunia. Apakah kesan pertembungan tersebut?
- A Kebangkitan ghazi
 - B Keruntuhan kelas sosial
 - C Kemunculan golongan Mozarab
 - D Kemosotan pengaruh gereja
- 13 Apakah perkara yang tercatat pada batu bersurat yang ditemui di Kuala Berang Terengganu pada tahun 1899 Masihi?
- A Asal-usul negeri
 - B Undang-undang negeri
 - C
 - D

14 Jadual 1 berkaitan dengan pemimpin kerajaan di Asia Tenggara.

Pemerintah	Kerajaan
Sultan Malik al-Zahir	Samudera-Pasai
Sultan Iskandar Thani	Acheh

Jadual 1

Apakah persamaan tokoh tersebut?

- A Menerapkan unsur-unsur Islam
- B Mengelakkan amalam hidup mewah
- C Menggalakkan aktiviti pelayaran
- D Menghapuskan pengangguran

15 Maklumat berikut berkaitan pepatah dalam masyarakat Melayu tradisional

Siakap senohong gelama ikan duri
Bercakap bohong lama-lama mencuri

Apakah pengajaran daripada pepatah tersebut?

- A Jangan bersikap tamak
- B Sabar dalam kehidupan
- C Adil dalam tindakan
- D Jauhi perkara yang dilarang

16 Maklumat berikut adalah bandar yang muncul pada zaman Kemuncak Pertengahan di Itali

- Venice
- Genoa

Apakah faktor kemunculan bandar tersebut?

- A Kestabilan politik
- B Kekayaan sumber alam
- C Pusat perdagangan antarabangsa
- D Perkembangan kegiatan penjelajahan

17 Pada zaman Revolusi Perindustrian, Akta Antipenggabungan telah diwujudkan.

Apakah kesan pelaksanaan akta tersebut?

- A Gaji pekerja disekat
- B Wanita mendapat gaji lumayan
- C Peluang meningkatkan kemahiran
- D Eksploitasi kanak-kanak dilarang

18 Jadual 2 merujuk kepada kadar pengeluaran bijih timah di Tanah Melayu pada abad ke-20.

Tahun	Peratus pengeluaran
1915	28%
1925	44%
1935	66%

Jadual 2

Mengapakah pengeluaran tersebut meningkat ?

- A Penglibatan pembesar tempatan
 - B Penggunaan teknologi moden
 - C Pengawalan harga pasaran
 - D Penguatkuasaan undang-undang
- 19 Mengapakah Lord Settlement Order diperkenalkan oleh British di Sarawak pada tahun 1933?
- A Melindungi tanah peribumi
 - B Meningkatkan cukai pertanian
 - C Membawa masuk pelabur asing
 - D Memajukan kegiatan perladangan
- 20 Antara berikut, yang manakah ciri sistem pendidikan vernakular di Tanah Melayu?
- A Menyatukan masyarakat pelbagai kaum
 - B Melantik guru dari negara asal
 - C Sukatan pelajaran yang sama
 - D Mendapat bantuan kerajaan
- 21 Rajah 2 menunjukkan perubahan yang berlaku dalam sistem pentadbiran di Asia Tenggara.



Rajah 2

Mengapakah berlaku perubahan tersebut?

- I Mengukuhkan kedudukan raja
 - II Memodenkan sistem pentadbiran
 - III Mengeksploitasi ekonomi tempatan
 - IV Memantapkan pendidikan rakyat
- A I dan II
 - B I dan IV
 - C II dan III
 - D III dan IV

22 Maklumat berikut berkaitan dasar ekonomi penjajah di Asia Tenggara

- Sistem Tanaman Paksa
- Sistem Polo

Apakah kesan pelaksanaan sistem tersebut terhadap penduduk tempatan?

- A Mempelbagaikan jenis tanaman
- B Memajukan kawasan pedalaman
- C Meningkatkan ekonomi dagangan
- D Membangkitkan semangat nasionalisme

23 Tokoh berikut telah terlibat dalam konflik kawasan sempadan di Negeri Sembilan pada tahun 1874.

- Dato' Kelana Syed Abdul Rahman
- Dato' Syahbandar Abdullah Tunggal

Mengapakah berlaku perbalahan tersebut?

- A Memonopoli kawasan perlombongan
- B Menguasai kawasan pertanian
- C Merebut hak memungut cukai
- D Menyaingi jawatan pembesar

24 Jadual 3 menerangkan novel yang diterbitkan sebelum Perang Dunia Kedua di Tanah Melayu.

Tahun	Tajuk Novel	Pengarang
1930-an	Anak Mat Lela Gila	Ishak Haji Muhammad

Jadual 3

Apakah tema novel tersebut?

- A Mencintai tanah air
- B Meningkatkan taraf hidup
- C Kebebasan kaum wanita
- D Kepentingan pendidikan

- 25 Gambar 3 berkaitan gagasan 1 Malaysia yang mempunyai persamaan dengan konsep bangsa Malaysia.



Gambar 3

Bagaimana konsep bangsa Malaysia dapat dicapai ?

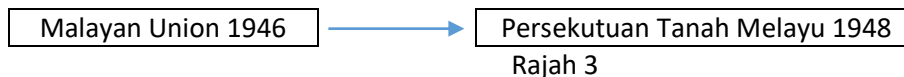
- A Perkongsian amalan agama
 - B Penggunaan bahasa kebangsaan
 - C Pengekalan sistem pendidikan vernakular
 - D Persempadanan negara berasaskan bangsa
- 26 Gambar 4 merujuk kepada pemimpin di negeri Johor pada abad ke 19.



Gambar 4 : Sultan Abu Bakar

Apakah sumbangan baginda ?

- A Merangka peta negeri
 - B Menggubal perlembagaan
 - C Menubuhkan pusat kebudayaan
 - D Mewajibkan penggunaan bahasa Melayu
- 27 Rajah 3 menunjukkan perubahan sistem pentadbiran British di Tanah Melayu.



Rajah 3

Mengapakah berlaku perubahan tersebut?

- A Ketegasan orang Melayu
- B Penentangan orang dagang
- C Tuntutan ekonomi penjajah
- D Desakan golongan berhaluan kiri

- 28 Gambar 5 menunjukkan pemimpin tempatan yang terlibat dalam pembunuhan Gabenor British di Sarawak pada tahun 1949.



Gambar 5 : Rosli Dhobi

Mengapakah beliau bertindak sedemikian?

- A Menolak sistem cukai
 - B Mempertahan adat resam
 - C Menggugat kuasa pembesar
 - D Menentang penyerahan negeri
- 29 Dialog berikut mungkin berlaku selepas pilihan raya Majlis Perundangan Persekutuan 1955.

Pak Leman : Tahniah ! Nampaknya Parti Perikatan telah menang besar kali ini.

Pak Yahya : Ini hasil keberkesanan manifesto yang dibentangkan oleh pemimpin parti

Apakah yang dijanjikan dalam manifesto tersebut?

- A Peningkatan taraf kesihatan penduduk
 - B Pengekalan sistem pentadbiran Barat
 - C Peluang pekerjaan kepada rakyat
 - D Perjuangan kemerdekaan Tanah Melayu
- 30 Maklumat berikut berkaitan dengan suruhanjaya bebas yang ditubuhkan di Tanah Melayu.

Tahun	Suruhanjaya
1956	Suruhanjaya Reid

Apakah peranan suruhanjaya tersebut?

- A Merangka perlembagaan Persekutuan Tanah Melayu
- B Melatih rakyat tempatan dalam pentadbiran
- C Menganjurkan rundingan antara kaum
- D Mencadangkan tarikh pilihan raya

- 31 Perdana Menteri Tunku Abdul Rahman telah mengumumkan cadangan pembentukan Malaysia di Hotel Adelphi, Singapura pada 27 Mei 1961.

Mengapakah beliau bersetuju dengan pembentukan tersebut?

- A Memenuhi desakan pelabur asing
- B Membanteras pengaruh komunis
- C Menghalang kemasukan imigran
- D Meneruskan dasar neokolonialisme

- 32 Maklumat berikut merujuk kepada Parti Perikatan Sabah pada tahun 1962.

- UNKO
- USNO
- Parti Pasok Momogun
- Parti Bersatu
- Parti Demokratik

Apakah kepentingan penubuhan parti tersebut?

- A Mengembalikan kuasa rakyat
- B Memulakan proses demokrasi
- C Menyokong gagasan Malaysia
- D Mempertahankan hak semua kaum

- 33 Gambar 6 merujuk kepada Duli Yang Maha Mulia Seri Paduka Baginda Yang di-Pertuan Agong ke-15 iaitu Sultan Muhammad V



Gambar 6 : Sultan Muhammad V

Apakah bidang kuasa baginda mengikut Perlembagaan Malaysia?

- A Membubarkan parlimen
- B Menggubal undang-undang
- C Memilih ahli Dewan Rakyat
- D Menetapkan tarikh pilihan raya

- 34 Gambar 7 menunjukkan kawasan pilihanraya kecil di Parlimen Sungai Besar dan Kuala Kangsar pada 18 Jun 2016.



Gambar 7

Mengapakah pilihanraya kecil ini diadakan?

- A Pembentukan parti baru
 - B Berlakunya kematian
 - C Hilang sokongan rakyat
 - D Pemecatan keahlian parti
- 35 Gambar 8 merujuk kepada lirik Negaraku yang menjadi kebanggaan rakyat Malaysia.



Gambar 8

Apakah nilai yang diterapkan?

- A Keagungan
- B Kegigihan
- C Kemajuan
- D kesetiaan

36 Maklumat berikut berkaitan dengan peranan sebuah agensi kerajaan Malaysia.

X
<ul style="list-style-type: none">• Menambah guna tenaga bumiputera• Meningkatkan ekuiti bumiputera

Apakah X ?

- A MARA
- B FAMA
- C FELDA
- D FELCRA

37 Kerajaan telah memperkenalkan program pembangunan in-situ dalam Dasar Pertanian Negara (DPN)

Apakah strategi yang digunakan untuk menjayakan program tersebut ?

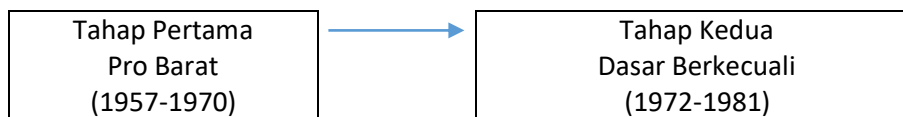
- A Membuka petempatan baru
- B Menambah peluang pekerjaan
- C Menggalakkan industri kecil dan sederhana
- D Memulihkan kawasan berproduktiviti rendah

38 Rukun Negara diisytiharkan oleh Majlis Gerakan Negara (MAGERAN) pada 31 Ogos 1970.

Apakah tujuan pengisytiharan tersebut ?

- A Mengeratkan perpaduan rakyat
- B Memartabatkan bahasa kebangsaan
- C Melindungi hak istimewa pribumi
- D Mengukuhkan kedudukan pemerintah

39 Rajah 3 berkaitan dengan perkembangan dasar luar Malaysia.



Rajah 3

Mengapakah berlaku perubahan tersebut ?

- A Penglibatan dalam Komanwel
- B Perjanjian kerjasama ketenteraan
- C Pergolakan politik di Vietnam
- D Kemelesetan ekonomi dunia

40 Pergerakan Negara-Negara Berkecuali (NAM) ditubuhkan pada bulan September 1961.

Apakah prinsip perjuangan pertubuhan tersebut ?

- I Meningkatkan taraf hidup penduduk
 - II Mengekalkan keamanan dunia
 - III Mengelakkan campur tangan asing
 - IV Mengembangkan sektor pelancongan
- A I dan II
 - B I dan IV
 - C II dan III
 - D III dan IV

**PERATURAN PEMARKAHAN KERTAS 1
SEJARAH SPMRSM 2018**

NO SOALAN	JWPN	ARAS	TING	TEMA	BAB	M/SURAT	ANEKA PILIHAN	ANEKA PELENGKAP	CATATAN
1	B	S	4	7.1a	1	5	/		G1
2	C	R	4	7.1a	1	13	/		
3	B	R	4	7.1b i	2	42	/		
4	A	R	4	7.1.b i	2	64	/		G2
5	C	R	4	7.2b i	3	79	/		R1
6	A	R	4	7.2b ii	3	85	/		
7	C	S	4	8.1a i	4	101-102			
8	D	S	4	8.1b i	4	106	/		
9	D	S	4	8.2b iii	5	130	/		
10	C	S	4	8.2d	5	132	/		
11	D	S	4	8.3a ii	6	143	/		
12	C	S	4	8.3e ii	6	164-165	/		
13	B	S	4	8.4a i	7	177	/		
14	A	T	4	8.4a i	7	186	/		J1
15	D	T	4	8.5b i	8	201	/		
16	C	R	4	9.1a ii	9	217-218	/		
17	A	S	4	9.1c iii	9	236	/		
18	B	S	4	9.2b ii	10	251	/		J2
19	A	S	4	9.2c i	10	261	/		
20	B	S	4	9.2d iii	10	265	/		
21	C	S	5	10.1a	1	8		/	R2
22	D	S	5	10.1b	1	15	/		
23	C	S	5	10.2a	2	39	/		
24	A	S	5	10.2b	2	53	/		J3
25	B	S	5	11.1a	3	66	/		G3
26	B	R	5	11.1c i	3	80	/		G4
27	A	S	5	11.1d	4	95 & 104	/		R3
28	D	R	5	11.1e	4	111	/		G5
29	D	S	5	11.1e ii	5	122	/		
30	A	S	5	11.1e iii	5	125-126	/		
31	B	S	5	11.1f i	6	138-139	/		
32	C	T	5	11.1f ii	6	143-144	/		
33	A	S	5	11.2a ii	7	168	/		G6
34	B	T	5	11.2a iv	7	178	/		G7
35	D	T	5	11.2c ii	7	191	/		G8
36	A	R	5	11.3a i	8	201	/		
37	D	R	5	11.3a ii	8	206	/		
38	A	S	5	11.3b i	8	210-211	/		
39	C	T	5	12.2a iii	9	241	/		R3
40	C	S	5	12.2b iii	9	249		/	G9