

SULIT

MODUL PERKEMBANGAN PEMBELAJARAN
(MPP SIRI 3/2018)
SEJARAH SPM

1249/1

Kertas 1
Ogos/September
1 jam

Satu jam

JANGAN BUKA KERTAS SOALAN INI SEHINGGA DIBERITAHU

1. Kertas soalan ini mengandungi 40 soalan
2. Jawab semua soalan
3. Tiap-tiap soalan diikuti oleh empat pilihan jawapan iaitu, A, B, C dan D. Bagi setiap soalan pilih satu jawapan sahaja. Hitamkan jawapan anda pada kertas jawapan objektif yang disediakan.
4. Jika anda hendak menukar jawapan, padamkan tanda yang telah dibuat. Kemudian hitamkan jawapan yang baru.

Kertas soalan ini mengandungi 13 halaman bercetak

[Lihat sebelah
SULIT

1249/1 @ MPP Siri 3 2018

SULIT

2

1249/1

- 1 Perkembangan tulisan telah membawa kepada kemajuan dalam Tamadun Mesopotamia.

Apakah bukti pernyataan tersebut?

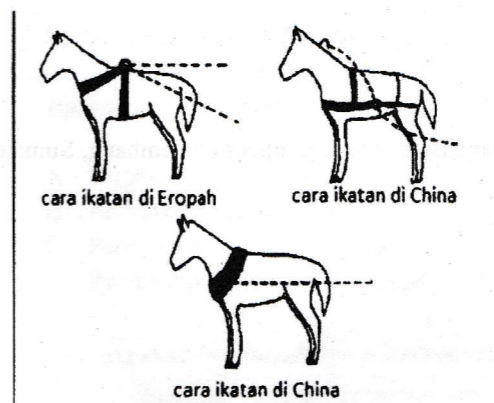
- A Penghasilan kalendar
- B Perkodan senibina
- C Pengkatalogan ubat-ubatan
- D Pelantikan pegawai kerajaan

- 2 Apakah kepentingan tamadun berikut terhadap tamadun Indus?

- Tamadun Mesir Purba
- Tamadun Mesopotamia

- A Memodenkan bidang perubatan
- B Meningkatkan teknologi pengangkutan
- C Memperkembangkan sektor pertanian
- D Memajukan perancangan bandar

- 3 Gambar di bawah merupakan salah satu sumbangan Tamadun China kepada dunia.



Gambar 1

Apakah kepentingan ikatan kolar kuda China berbanding Eropah?

- A Memudahkan kuda dikawal
- B Mengelak kuda tercekik
- C Menambah kelajuan kuda
- D Menghalang kuda terjatuh

7 Pada 6 Ogos 610 Masihi, Nabi Muhammad SAW menerima wahyu yang pertama. Apakah kesan peristiwa tersebut?

- A Kemunculan kerajaan baharu Islam
- B Penentangan orang Arab Quraisy terhadap Islam
- C Penyebaran agama Islam secara meluas
- D Pemisahan Zaman Jahiliah dengan Zaman Islam

8 Tokoh berikut adalah antara yang terawal memeluk agama Islam.

- Amir bin Fuhairah
- Bilal bin Rabah

Mengapakah mereka tertarik kepada ajaran Islam?

- A Kebebasan beragama
- B Perubahan status
- C Persamaan taraf
- D Desakan keluarga

9 Maklumat berikut berkaitan dengan Perjanjian Aqabah Kedua.

Tahun	Pihak yang terlibat
622 Masihi	<ul style="list-style-type: none"> • Nabi Muhammad SAW • Wakil Aus dan Khazraj

Apakah kesan perjanjian tersebut?

- A Pelantikan Khulafa al-Rasyidin
- B Penentangan puak Quraisy
- C Penamatan Zaman Jahiliah
- D Penghijrahan umat Islam

10 Maklumat berikut menunjukkan sistem perundangan di Madinah dan Malaysia.

Madianah	Malaysia
Piagam Madinah	Perlembagaan Malaysia

Apakah persamaan sistem perundangan tersebut?

- A Kebebasan beragama
- B Pemisahan kaum
- C Pengagihan kuasa
- D Keistimewaan ketua negara

4 Maklumat di bawah berkaitan dengan seni bina Tamadun Yunani.

- Binaan berbentuk kubah
- Tempat menjalankan kerja awam
- Tempat memuja dan menyimpan patung dewa

Apakah binaan tersebut?

- A Acropolis
- B Aqueduct
- C Pantheon
- D Colloseum

5 Apakah peranan baray kepada masyarakat kerajaan awal di Asia Tenggara?

- I Membekalkan air minuman
- II Mengairi kawasan pertanian
- III Menjadi pusat perdagangan
- IV Merupakan kawasan petempatan

- A I dan II
- B I dan IV
- C II dan III
- D III dan IV

6 Gambar di bawah merupakan prasasti Telaga Batu yang dijumpai di Palembang, Sumatera.



Gambar 2

Apakah kepentingan prasasti tersebut?

- A Amalan taat setia
- B Orde kosmos
- C Unsur magis
- D Keagamaan

- 11 Pada zaman Khalifah Ali bin Abu Talib, tercetus peperangan saudara yang membawa kepada kemunculan golongan Syiah dan Khawarij.

Apakah nama perang saudara tersebut?

- A Perang Tabuk
B Perang Siffin
C Perang Uhud
D Perang Khandak

- 12 Mengapakah Cordova dianggap penting kepada dunia Islam dan Eropah pada abad ke-10 M?

- I Pusat kebudayaan
II Pusat Perdagangan
III Pusat penterjemahan
IV Pusat pengajian tinggi

- A I dan II
B I dan IV
C II dan III
D III dan IV

- 13 Gambar berikut menunjukkan batu bersurat yang ditemui di Kuala Berang Terengganu.



Gambar 3

Apakah yang dapat dibuktikan melalui penemuan tersebut?

- A Kedatangan agama Islam
B Kepentingan tulisan jawi
C Kepadatan perdagangan
D Kemunculan kesusasteraan

- 14 Kebijaksanaan *Wali Songo* berjaya mengislamkan ramai penduduk tempatan di Asia Tenggara.

Bagaimanakah mereka mengembangkan ajaran Islam?

- A Memaksa rakyat mengamalkan cara Islam
B Menirikan markas dakwah Islamiah
C Meminta bantuan kerajaan Islam yang kuat
D Meluaskan jajahan takluk kerajaan Islam

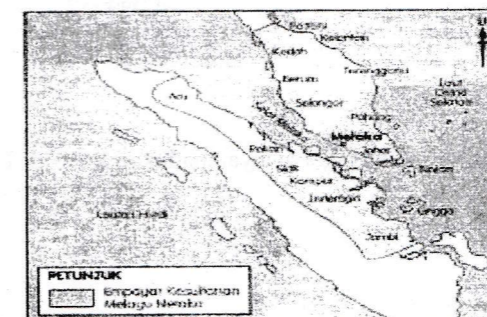
- 15 Tokoh berikut berperanan dalam Kesultanan Melayu Melaka.

- Makhdum Sayid Abdul Aziz
- Maulana Abu Bakar
- Maulana Sadar Johan

Apakah peranan mereka?

- A Mengetuai utusan diplomatik
B Menetapkan istiadat diraja
C Menasihati pemerintah
D Menguatkuasakan undang-undang

- 16 Peta berikut menunjukkan jajahan takluk Kesultanan Melayu Melaka.



Peta 1

Apakah faktor yang membolehkan Melaka meluaskan jajahan takluk?

- A Bantuan orang asing
B Pengaruh agama Islam
C Mempunyai senjata canggih
D Kekuatan strategi perang

- 17 Jadual di bawah berkaitan dengan tokoh di Eropah pada abad ke-15.

Tokoh	Negara
Ferdinand Aragon	Spanyol
Putera Henry	Portugal

Jadual 1

Pernyataan manakah yang berkaitan dengan tokoh tersebut?

- A Penerokaan kawasan Timur
B Pembukaan pelabuhan baru
C Peperangan sesama mazhab
D Perebutan takhta pemerintahan

- 18 Sistem feudal yang diamalkan pada awal Zaman Pertengahan di Eropah mempunyai persamaan dengan sistem feudal yang diamalkan dalam masyarakat Melayu tradisional.

Apakah persamaan tersebut?

- A Golongan agama menerajui pentadbiran
- B Petani berpeluang meningkatkan status sosial
- C Rakyat berhak memilih pemerintah
- D Raja pemilik tanah secara mutlak

- 19 Kejatuhan harga getah menyebabkan British memperkenalkan Rancangan Sekatan Stevenson pada tahun 1922.

Bagaimanakah rancangan tersebut dapat mengatasi kejatuhan harga getah?

- A Pengeluaran getah dihadkan
- B Peningkatan mutu getah asli
- C Penggunaan getah dipelbagaikan
- D Penawaran getah tiruan dilarang

- 20 Mengapakah sistem pendidikan pada zaman penjajah gagal menyatupadukan kaum di Tanah Melayu?

- A Penubuhan sekolah Inggeris
- B Pengaruh golongan mubaligh
- C Pengamalan asuhan keluarga
- D Perkembangan sekolah vernakular

- 21 Penjajah Sepanyol memaksa penduduk Filipina menerima Sistem Encomienda.

Mengapakah sistem tersebut menimbulkan kebencian penduduk tempatan terhadap penjajah?

- A Syarat kerakyatan ketat
- B Harga komoditi rendah
- C Imigran bertambah
- D Cukai tinggi

- 22 Mengapakah corak gerakan nasionalisme di Asia Tenggara berubah daripada sederhana kepada radikal?

- A Sekatan pengaruh luar
- B Perjuangan tidak berkesan
- C Kekurangan sumber kewangan
- D Sokongan pemerintah tempatan

- 23 Haji Abdul Rahman Limbong telah memimpin penduduk tempatan Kuala Temelong, Terengganu menentang British.

Mengapakah penentangan tersebut dilakukan?

- A Pengenalan pendidikan sekular
- B Pengenalan peraturan tanah
- C Perlucutan jawatan pembesar
- D Pembunuhan penduduk tempatan

- 24 Majalah Guru memainkan peranan penting dalam memajukan bidang pendidikan pada awal abad ke-20 di Tanah Melayu.

Apakah isu yang difokuskan dalam majalah tersebut?

- A Menghargai warisan bangsa
- B Memperjuangkan hak wanita
- C Memajukan bidang kesusasteraan
- D Mengekalkan nilai murni masyarakat

- 25 Senarai merujuk antara alat kebesaran diraja.

- Tengkolok Diraja
- Gendik Diraja

Apakah kepentingan alat di atas?

- A Mewakili kawasan pemerintahan pembesar
- B Lambang kekayaan sesebuah kerajaan
- C Menunjukkan pentadbiran demokratik
- D Simbol kedaulatan raja dan kerajaan

- 26 Senarai berikut adalah undang-undang tubuh kerajaan Melayu.

- Undang-Undang Tubuh Kerajaan Johor
- Undang-Undang Tubuh Kerajaan Terengganu

Mengapakah undang-undang tersebut digubal?

- A Meningkatkan kecekapan pemerintah
- B Mengekalkan kedaulatan negeri
- C Menamatkan pemerintahan beraja
- D Membentuk pentadbiran demokratik

27

Tahun	Peristiwa
1946	Pengenalan Malayan Union

Apakah kesan peristiwa di atas terhadap orang Melayu?

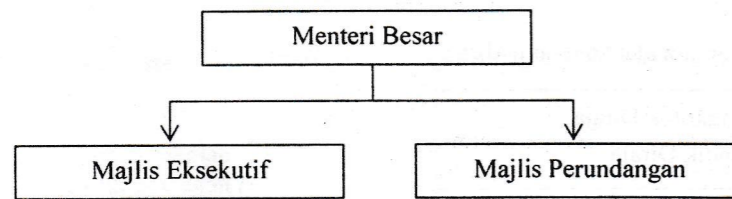
- A Perpaduan kukuh
- B Ekonomi meningkat
- C Budaya berkembang
- D Kuasa sultan bertambah

28 Pada tahun 1949, Gabenor Sarawak Duncan Stewart telah dibunuh.

Apakah kesan pembunuhan tersebut?

- A Vyner Brooke melepaskan kuasa pentadbiran
- B Pengaruh golongan radikal meningkat
- C Rosli Dhobi dihukum gantung
- D Demonstrasi berakhir

29



Rajah 1

Apakah fungsi Menteri Besar?

- A Ketua pentadbir negeri
- B Melantik pembesar istana
- C Ketua upacara rasmi
- D Mengetuai angkatan tentera

30 Senarai berikut merujuk kepada wakil penduduk Tanah Melayu yang berunding dengan Sir Henry Gurney pada Julai 1950.

- Tunku Yaakob ibni Sultan Abdul Hamid
- Dr. Lee Tiang Keng
- Dato' EEC Thuraisingam

Apakah kejayaan rundingan tersebut?

- A Kemerdekaan diisytiharkan
- B Pilihan raya Majlis Perundangan Persekutuan dirancang
- C Sistem ahli ditubuhkan
- D Perpaduan kaum tercapai

MPP 3

SEJARAH KERTAS 1

31 Maklumat berikut merujuk kepada Rundingan kemerdekaan Tanah Melayu.

Rundingan telah berlangsung di London dari 18 Januari hingga 8 Februari 1956

Apakah keputusan yang telah dicapai dalam rundingan tersebut?

- A Menetapkan syarat kerakyatan
- B Menentukan tempat pengisytiharan
- C Memutuskan corak pentadbiran negara
- D Membentuk suruhanjaya menggubal perlembagaan

32 Jawatankuasa berikut ditubuhkan pada bulan Julai 1961.

Jawatankuasa	Pengerusi
Jawatankuasa Perundangan Perpaduan Kaum	Donald Stephens

Apakah peranan jawatankuasa tersebut?

- A Merangka perlembagaan negara
- B Menetapkan tarikh pilihan raya umum
- C Menjelaskan tentang Gagasan Malaysia
- D Merintis kerjasama pelbagai parti politik

33 Jadual berikut menerangkan tentang pembentukan pasukan United Nations Malaysia Mission (UNMM).

Tarikh	Ogos 1963
Peristiwa	Meninjau pendapat rakyat Sarawak dan Sabah

Apakah keputusan yang diambil oleh majoriti rakyat tersebut?

- I Bersetuju menyertai Persekutuan Malaysia
- II Mengubah keputusan dalam Suruhanjaya Cobbold
- III Melancarkan penentangan terhadap Indonesia
- IV Menuntut kemerdekaan

- A I dan II
- B I dan IV
- C II dan III
- D III dan IV

MPP 3

SEJARAH KERTAS 1

34 Maklumat berikut berkaitan dengan Perkara 24 dalam Perlembagaan Malaysia.

Seseorang yang mempunyai kerakyatan negara lain akan dilucutkan kewarganegaraannya

Mengapakah perkara tersebut digubal dalam Perlembagaan Malaysia?

- A Mengawal kemasukan pendatang asing ke negara ini
- B Mengawal penghijrahan rakyat ke luar negara
- C Menjamin hak istimewa kaum bumiputera
- D Menjamin kesetiaan rakyat kepada negara

35

- Dewan Rakyat
- Dewan Negara

Maklumat di atas berkaitan badan perundangan di negara kita.

Apakah persamaan ciri kedua-dua dewan tersebut?

- I Tempoh masa berkhidmat
- II Membahaskan rang undang-undang
- III Ahlinya boleh dilantik sebagai menteri
- IV Pemilihan ahli melalui pilihan raya

- A I dan II
- B I dan IV
- C II dan III
- D III dan IV

36 Dasar di bawah menggambarkan keprihatinan kerajaan dalam mewujudkan masyarakat yang maju dan berdaya saing.

- X**
- Merapatkan jurang ekonomi
 - Membasmi kemiskinan tanpa mengira kaum
 - Menghapuskan identiti kaum mengikut fungsi ekonomi

X ialah

- A Wawasan 2020
- B Dasar Ekonomi Baru
- C Dasar Pembangunan Nasional
- D Rancangan Pembangunan Lima Tahun

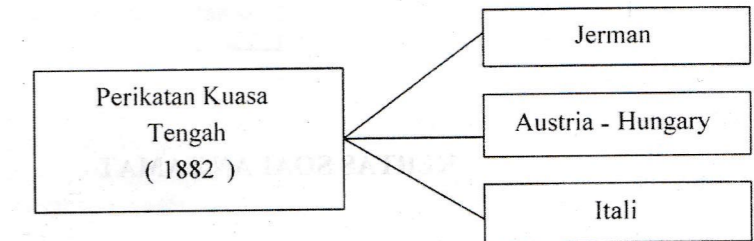
37

Tahun	Penubuhan
1977	Universiti Kebangsaan Malaysia

Apakah matlamat penubuhan institusi di atas?

- A Mengiktiraf bahasa Melayu sebagai bahasa ilmu
- B Melaksanakan dasar pendidikan Melayu
- C Memperkukuhkan perpaduan nasional
- D Memupuk jati diri bangsa Malaysia

38



Rajah 2

Rajah di atas merujuk kepada perikatan negara di Eropah yang wujud pada akhir abad ke-19.

Apakah implikasi pembentukan pakatan tersebut?

- A Perebutan bahan mentah
- B Peningkatan ekonomi dunia
- C Permulaan persaingan kuasa
- D Pembentukan perpaduan sejagat

39

Pergerakan Negara-Negara Berkecuali (NAM)
 -Ditubuhkan pada bulan September 1961.
 -Dianggotai oleh negara di Asia, Afrika dan Amerika Selatan.

Antara berikut yang manakah berkaitan dengan pergerakan di atas?

- I Mengekalkan keamanan dunia
- II Menggalakkan kerjasama teknologi
- III Mengukuhkan kerjasama pertahanan
- IV Mengeratkan hubungan negara anggota

- A I dan II
- B I dan IV
- C II dan III
- D III dan IV

40 Malaysia menentang dasar Apartheid yang diamalkan oleh Afrika Selatan.

Apakah tindakan Malaysia terhadap negara tersebut?

- A Memutuskan hubungan diplomatik
- B Menghalang perhubungan perdagangan
- C Menamatkan perlindungan politik
- D Menyekat bantuan kemanusiaan

KERTAS SOALAN TAMAT