

Jawab **Semua** Soalan

1. Gambar berkaitan dengan sejenis kegiatan



Apakah jenis aktiviti dalam gambar di atas?

- A Satu aktiviti yang menjalankan kegiatan sosial
- B Satu aktiviti yang member sumbangan kepada pengguna
- C Satu aktiviti pertukaran barang dan perkhidmatan dalam sistem barter
- D Satu aktiviti jual beli barang dan perkhidmatan untuk mendapatkan keuntungan

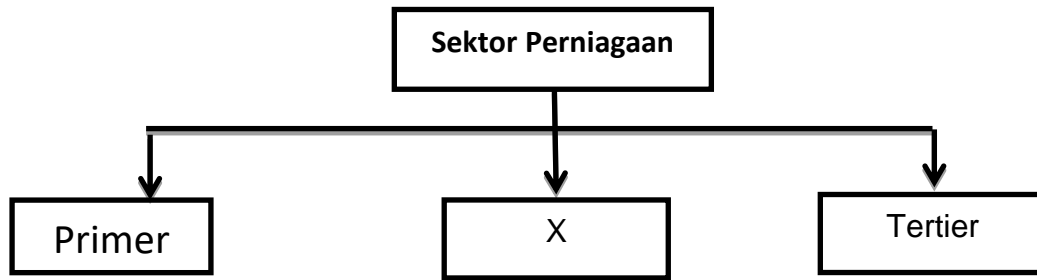
2. Maklumat di bawah ini berkaitan dengan satu bentuk perniagaan

- Perniagaan dikendalikan mengikut sistem piawaian yang ditetapkan oleh pemegang hak sesuatu jenama
- Peniaga tidak boleh melakukan sebarang inovasi tanpa kebenaran pemegang hak

Apakah bentuk perniagaan yang sesuai bagi kenyataan di atas?

- A Syarikat Sendirian berhad
 - B Kontrak Pengeluaran
 - C Usaha sama
 - D Francais
3. Antara yang berikut, manakah kelebihan perkongsian liabiliti terhad (PLT) berbanding dengan perkongsian berhad?
- I Mudah diuruskan
 - II Mudah ditubuhkan
 - III Hayat Perkongsian berterusan
 - IV semua rakan kongsi mempunyai tanggungan terhad
- A I dan II
 - B I dan IV
 - C II dan III
 - D III dan IV

4. Rajah di bawah ini berkaitan dengan sektor perniagaan



Manakah yang mewakili X?

- I Pertanian
 - II Pembinaan
 - III Perkilangan
 - IV Perhutanan
- A I dan II
 - B I dan IV
 - C II dan III
 - D III dan IV
5. Maklumat berikut berkaitan dengan kilang kek

Kilang Roti Fatimah menjalankan pengeluaran secara intensif buruh. Ia dikategori sebagai perniagaan saiz sederhana kerana memiliki saiz buruh yang ramai.

Kriteria di atas merujuk kepada

- A Syer pasaran
- B Bilangan buruh
- C Jumlah modal
- D Jumlah jualan tahunan

6. Antara yang berikut, manakah bukan ciri sesebuah perniagaan yang mempunyai skala perniagaan Tempatan?

- I mempunyai pekerja yang berkemahiran tinggi
- II syer pasaran ialah masyarakat tempatan
- III jualan tahunan perniagaan adalah rendah
- IV memerlukan modal yang banyak

- A I dan II
- B I dan IV
- C II dan III
- D III dan IV

7. Maklumat yang berikut berkaitan dengan tindakan yang boleh diambil oleh kerajaan untuk mengatasi masalah deflasi.

- | |
|--|
| <ul style="list-style-type: none">• Menurunkan kadar cukai pendapatan• Mengurangkan kadar faedah bank |
|--|

Apakah kesan tindakan tersebut?

- A Kos pinjaman perniagaan meningkat
- B Harga barang dan perkhidmatan menurun
- C Pengeluar mengurangkan operasi pengeluaran
- D Permintaan untuk barang dan perkhidmatan akan meningkat.

8. Penyataan manakah yang menunjukkan trend pertumbuhan ekonomi yang meningkat?

- A Guna tenaga semakin menurun
- B Peniaga mengurangkan operasi pengeluaran
- C Jualan dan keuntungan perniagaan adalah malar
- D Cukai yang dikutip oleh kerajaan semakin meningkat

9. Maklumat berikut berkaitan dengan peranan suatu agensi kerajaan yang terlibat dalam penyelidikan dan pembangunan (R&D)

- Memastikan hasil keluaran industri menepati piawaian yang ditetapkan
- Memastikan produk tidak menyeleweng dari segi kualiti yang ditetapkannya.
- Aktiviti penyelidikan membantu dalam pembangunan dan perubahan teknologi

Apakah agensi berkenaan?

- A MEDEC
 - B MARDI
 - C SIRIM
 - D FELDA
10. Maklumat yang berikut berkaitan dengan satu factor luaran yang mempengaruhi perniagaan

Kerajaan telah memperkenalkan cukai barang dan perkhidmatan (GST) pada kadar 6% pada 1 April 2016

Apakah faktor luaran tersebut?

- A Politik dan perundangan
 - B Sosiobudaya Ekonomi
 - C Ekonomi
 - D Teknologi
11. Pilih pernyataan yang berkaitan dengan konsep visi yang betul
- A Ditetapkan oleh pihak pengurusan bawahan
 - B Satu pernyataan tentang tujuan kewujudan organisasi
 - C Objektif harus ditetapkan terlebih dahulu sebelum visi organisasi
 - D Visi seharusnya dapat dicapai dalam masa kurang daripada lima tahun

12. Pernyataan di bawah merujuk kepada objektif sebuah syarikat

Syarikat Mesra Sdn Bhd akan mengeluarkan 50 000 unit kereta pada tahun hadapan

Apakah ciri-ciri objektif bagi syarikat tersebut?

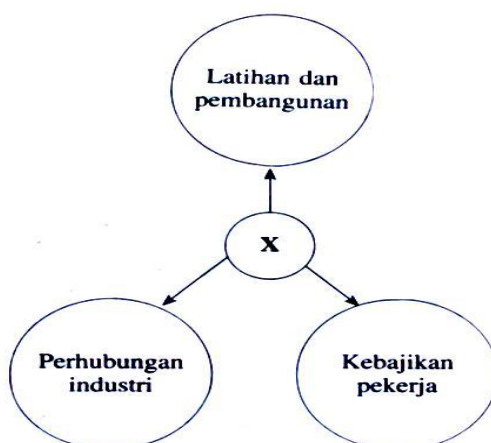
- A Boleh diukur
 - B Munasabah
 - C Boleh dicapai
 - D Jangkamasa
13. Manakah bukti bahawa sesuatu perniagaan itu sedang mengalami pertumbuhan?
- A Pemilik mengubah lokasi perniagaan
 - B Pemilik meningkatkan bilangan pekerja
 - C Hasil meningkat dari semasa ke semasa
 - D Pemilik membawa masuk modal tambahan
14. Pilih pernyataan yang berkaitan dengan unsur faktor dalaman organisasi
- I Syarikat Berjaya memperkenalkan teknologi baharu dalam operasi pengeluaran
 - II Undang-undang baharu yang diluluskan akan meningkatkan kos operasi syarikat
 - III Keadaan ekonomi melesit telah memberi kesan kepada jualan syarikat
 - IV Para pekerja syarikat diberikan latihan untuk meningkatkan kemahiran
- A I dan II
 - B I dan IV
 - C II dan III
 - D III dan IV

15. Pernyataan di bawah merujuk kepada kesan kegagalan perniagaan mencapai matlamat dan objektif.

Kegagalan mendapatkan untung boleh menjejaskan imej perniagaan

Apakah kesannya terhadap perniagaan?

- A Sukar untuk mendapat pembiayaan bank
 B Terpaksa membayar pembekal secara tunai
 C Pengguna tidak akan membeli produk syarikat
 D Sukar untuk mendapatkan bekalan bahan mentah
16. Pernyataan manakah benar tentang struktur organisasi?
- A Susun atur aset dan sumber manusia dalam organisasi perniagaan
 B Menunjukkan susunan dan hubungan antara setiap bahagian fungsian dalam organisasi
 C Menunjukkan aliran maklumat terkini dan autoriti di antara setiap tahap dalam perniagaan
 D Merupakan carta organisasi yang menghubungkan semua bahagian dalam organisasi perniagaan
17. Rajah di bawah ini berkaitan dengan peranan bahagian fungsian



Apakah X?

- A Peranan bahagian pentadbiran
 B Peranan pengurusan sumber manusia
 C Peranan penyelidikan dan pembangunan
 D Peranan teknologi maklumat dan komunikasi (ICT)

18. Maklumat di bawah ini berkaitan dengan penggunaan teknologi maklumat dan komunikasi.

Kebelakangan ini, semakin banyak perniagaan menggunakan laman sosial untuk mengiklankan produk mereka

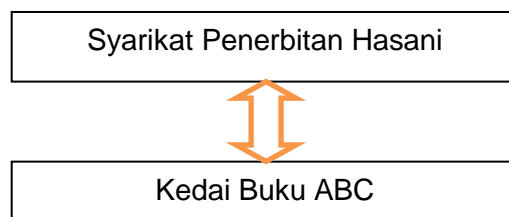
Apakah matlamat perniagaan berbuat demikian?

- A Untuk mencari pelanggan baharu
 - B Untuk melakukan promosi jualan
 - C Untuk meningkatkan jualan dan keuntungan
 - D Untuk meluaskan rangkaian rakan perniagaan
19. Maklumat yang berikut berkaitan dengan unsur dalam proses komunikasi

- Penting untuk mengukur tahap keberkesanan proses komunikasi
- Boleh terdiri daripada tulisan, kata atau isyarat badan

Apakah unsur tersebut ?

- A Enkod
 - B Dekod
 - C Saluran
 - D Maklum balas
20. Rajah di bawah menunjukkan dua buah perniagaan yang terdapat di Kulim, Kedah



Mengapakah kedua-dua perniagaan ini memerlukan bahagian fungsian yang sama?

- A Supaya boleh bersaing secara adil
- B Untuk merebut syer pasaran yang sama
- C Memaksimumkan kepuasan pelanggan
- D Mencapai visi, misi dan objektif yang dirancang

21. Maklumat yang berikut berkaitan dengan peranan pengurusan sumber manusia.

Pengurus menetapkan Indeks Pencapaian Utama (KPI) kumpulan untuk memastikan hasil kerja yang ditetapkan dapat dicapai.

Apakah peranan pengurusan sumber manusia?

- A Menentukan deskripsi tugas
- B Pemantapan budaya professional
- C Menggalakkan kreativiti dan inovasi
- D Membangunkan pasukan untuk mencapai sasaran

22. Pilih pernyataan yang tepat tentang sumber fizikal perniagaan.

- A Aset nyata sesebuah perniagaan
- B Aset ketara sesebuah perniagaan
- C Bangunan dan kemudahan perniagaan
- D Peralatan teknologi maklumat dan komunikasi perniagaan

23. Antara yang berikut, manakah yang merupakan jenis sumber teknologi?

- I Kilang
- II Lesen Perisian
- III Kemahiran dan pengalaman
- IV Peralatan teknologi maklumat dan komunikasi

- A I dan II
- B I dan IV
- C II dan III
- D III dan IV

24. Antara yang berikut, manakah yang **bukan** berkaitan dengan prosedur mengurus sumber fizikal sesebuah kilang perabot?
- I Menyelenggarakan semua mesin supaya operasi pengeluaran lancar
 - II Mengambil insurans kebakaran dan kecurian untuk mengelakkan kerugian
 - III Menyediakan mesin dan peralatan terkini untuk meningkatkan mutu keluaran
 - IV Menghasilkan pelbagai jenis perabot untuk pasaran tempatan dan antarabangsa
- A I dan II
 - B I dan IV
 - C II dan III
 - D III dan IV
25. Antara yang berikut, manakah yang merupakan sumber pembiayaan luaran?
- I Pajakan
 - II Overdraf bank
 - III Simpanan peribadi
 - IV Modal daripada keuntungan
- A I dan II
 - B I dan IV
 - C II dan III
 - D III dan IV
26. Pilih prosedur yang betul bagi mendapatkan sumber pembiayaan.
- A Menyediakan rancangan perniagaan → Mendapatkan khidmat nasihat kewangan → Membuat permohonan → Pembiayaan diluluskan
 - B Mendapatkan khidmat nasihat kewangan → Membuat permohonan → Menyediakan rancangan perniagaan → Pembiayaan diluluskan
 - C Menyediakan rancangan perniagaan → Membuat permohonan → Mendapatkan khidmat nasihat kewangan → Pembiayaan diluluskan
 - D Membuat permohonan → Menyediakan rancangan perniagaan → Pembiayaan diluluskan → Mendapatkan khidmat nasihat kewangan

27. Antara yang berikut, manakah yang merupakan komponen Penyata Kewangan?

- I Kunci Kira Kira
 - II Akaun Semasa
 - III Akaun Simpanan
 - IV Penyata Aliran Tunai
- A I dan II
B I dan IV
C II dan III
D III dan IV

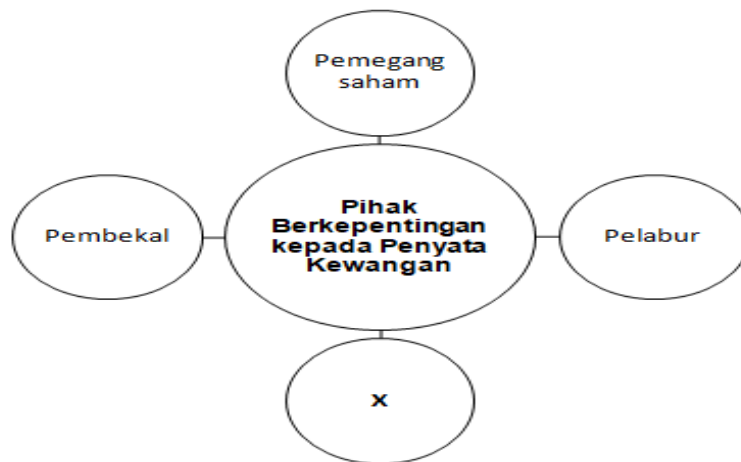
28. Maklumat yang berikut berkaitan dengan penyata aliran tunai.

	RM
Baki Awal	(200)
Pemiutang	100
Pinjaman	150
Jualan tunai	300
Penghutang	250

Berapakah baki akhir?

- A RM 400
B RM 600
C RM 650
D RM 800

29. Rajah yang berikut berkaitan dengan pihak berkepentingan kepada penyata kewangan sesebuah perniagaan.



Siapakah X?

- I Pelanggan
 - II Pengimport
 - III Pihak pengurusan
 - IV Institusi kewangan
- A I dan II
 - B I dan IV
 - C II dan III
 - D III dan IV
30. Berikut merupakan kepentingan penyata aliran tunai kepada perniagaan. *kecuali*
- I Dapat mengetahui jumlah hasil dan belanja perniagaan
 - II Dapat mengetahui kedudukan aset dan liabiliti perniagaan
 - III Dapat mengetahui jumlah penerimaan dan pembayaran tunai
 - IV Dapat mengetahui sama ada dapat menjelaskan liabiliti semasa perniagaan
- A I dan II
 - B I dan IV
 - C II dan III
 - D III dan IV

31. Maklumat berikut diperolehi daripada sebuah firma pada 31 Disember 2018.

	<u>RM</u>
Aset semasa	24,000
Liabiliti semasa	8,000
Aset bukan semasa	48,000
Liabiliti bukan semasa	4,000

Hitung nisbah semasa

- A 2:1
- B 3:1
- C 4:1
- D 6:1

32. Jadual di bawah menunjukkan nilai aset, liabiliti dan ekuiti pemilik Syarikat Zafran.

Hitungkan nilai Y?

Aset	Liabiliti	Ekuiti Pemilik
Y	RM 6 768	RM 14,472

- A RM 35, 712
- B RM 21,240
- C RM 14,472
- D RM 6,768

33. Pernyataan yang manakah menggambarkan tentang ciri-ciri keperibadian seorang usahawan?

- A Usahawan yang tabah akan mudah berputus asa
- B Usahawan yang bijak akan pandai merebut peluang perniagaan
- C Usahawan yang berdikari akan sentiasa mengharap bantuan orang lain
- D Usahawan yang optimistik akan sentiasa membangunkan kehidupannya sahaja

34. Apakah maksud stok bergerak perlahan?

- A Barang-barang yang dijual secara hutang dan lambat menerima bayaran
- B Barang-barang yang mengambil masa yang lama untuk dijual
- C Barang- barang yang lambat diterima daripada pembekal
- D Barang-barang yang pantas untuk dijual

35. Antara yang berikut, manakah yang merupakan keberuntungan perniagaan kepada seseorang usahawan?
- I Melaksanakan tanggungjawab social
 - II Penggunaan peralatan dan teknologi terkini
 - III Memberi kebebasan untuk mengurus perniagaan
 - IV Mendapatkan sumber manusia yang tidak ada pengalaman
- A I dan II
B I dan IV
C II dan III
D III dan IV
36. Berapakah tempoh masa syarikat perlu melantik setiausaha syarikat selepas pemerbadanan syarikat?
- A 10 hari
B 15 hari
C 30 hari
D 45 hari
37. Antara yang berikut, dokumen manakah yang difailkan sebagai rekod kos operasi?
- I Bil air
 - II Bil Internet
 - III Caj Bank
 - IV Slip daftar tunai
- A I dan II
B I dan IV
C II dan III
D III dan IV

38. Maklumat di bawah ini berkaitan dengan Penyata Aliran Tunai?

- Modal
- Jualan Tunai
- Penerimaan daripada penghutang

Di bahagian manakah maklumat tersebut dicatatkan dalam Penyata Aliran Tunai?

- A Pembayaran
 - B Penerimaan
 - C Baki h/b
 - D Baki b/b
39. Pernyataan manakah yang benar mengenai Pengeluaran?
- A Aktiviti pertukaran hak milik sesuatu produk
 - B Aktiviti untuk menyalurkan produk atau perkhidmatan
 - C Aktiviti mengeluarkan barang untuk memenuhi kehendak pengguna
 - D Aktiviti untuk merancang dan mengawal aspek perbelanjaan dalam perniagaan
40. Apakah tujuan sesuatu Rancangan Perniagaan itu disediakan?
- I. Untuk mencari pelanggan
 - II. Untuk mendapatkan pekerjaan
 - III. Untuk menilai prestasi perniagaan
 - IV. Untuk mendapatkan pinjaman
- A I dan II
 - B I dan IV
 - C II dan III
 - D III dan IV

-----KERTAS SOALAN TAMAT-----

