



PROJEK JAWAB UNTUK JAYA (JUJ) 2019



**SIJIL PELAJARAN MALAYSIA
PERNIAGAAN
Kertas 1 / Set 1**

3766 / 1

1 Jam 15 Minit

**PERNIAGAAN
KERTAS 1
SET 1**

JANGAN BUKA KERTAS SOALAN INI SEHINGGA DIBERITAHU

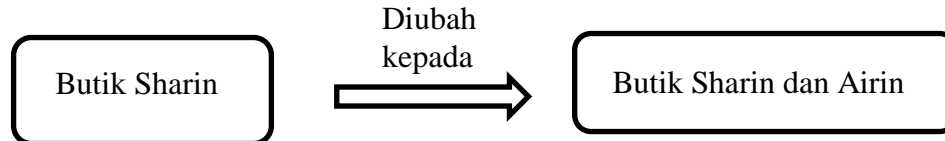
1. *Kertas soalan ini mengandungi 40 soalan*
2. *Jawab **semua** soalan*
3. *Tiap-tiap soalan diikuti oleh empat pilihan jawapan yang berhuruf A, B, C dan D. Bagi tiap-tiap soalan, pilih **satu** jawapan sahaja. Tandakan semua jawapan anda pada kertas yang disediakan.*
4. *Penggunaan kalkulator saintifik yang **tidak** boleh diprogramkan dibenarkan.*

Kertas soalan ini mengandungi 13 halaman bercetak

1 Pernyataan manakah yang benar mengenai Organisasi Bermotifkan Untung (OBU)?

- A Modal daripada kerajaan, sumbangan dan yuran ahli
- B Modal daripada pemilik, pinjaman dan keuntungan perniagaan
- C Memberi kepuasan dan menjaga kebajikan ahli
- D Menjalankan perniagaan secara percuma

2 Rajah di bawah ini menunjukkan perubahan bentuk milikan perniagaan.



Mengapakah Sharin mengambil tindakan tersebut?

- I Perniagaan berterusan
 - II Modal yang lebih besar
 - III Risiko dapat disebarikan
 - IV Menanggung liabiliti terhad
-
- A I dan II
 - B I dan IV
 - C II dan III
 - D III dan IV

3 Apakah kelebihan memiliki syer dalam Syarikat Awam Berhad berbanding dengan Syarikat Sendirian Berhad?

- A Pemilik syer dapat memindahkan milik syer dengan mudah
- B Pemilik syer boleh menghadiri mesyuarat agung tahunan
- C Pemilik syer berhak memilih ahli lembaga pengarah
- D Pemilik syer menanggung liabiliti tidak terhad

4 Antara yang berikut, manakah tujuan usaha sama dilaksanakan?

- I Untuk memberikan bantuan kepada perniagaan
- II Untuk berkongsi pengalaman dan kepakaran
- III Untuk meningkatkan kedudukan syarikat
- IV Untuk menambahkan jualan

- A I, II dan III
- B I, II dan IV
- C I, III dan IV
- D II, III dan IV

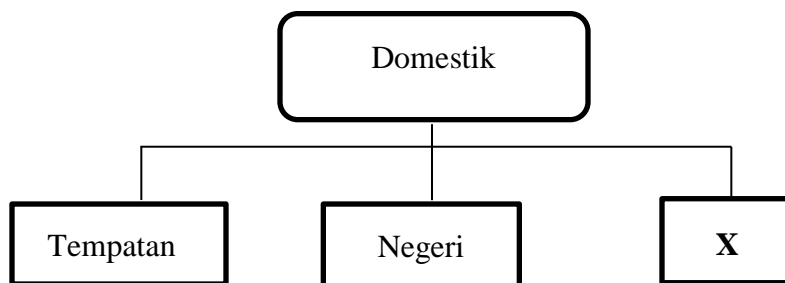
5 Pernyataan manakah yang betul tentang sektor primer?

- A Melibatkan pemprosesan bahan mentah
- B Meliputi aktiviti pengekstrakan sumber semula jadi
- C Menghasilkan barang melalui proses transformasi
- D Melibatkan aktiviti pembuatan dan pengilangan

6 Apakah kelebihan perniagaan bersaiz kecil?

- A Meningkatkan keuntungan tahunan
- B Kos overhead yang lebih rendah
- C Menikmati ekonomi bidangan
- D Pelaporan kewangan dirahsiakan

7 Rajah di bawah ini berkaitan dengan skala perniagaan.



Apakah X?

- A Zon
- B Global
- C Kebangsaan
- D Antarabangsa

8 Maklumat di bawah ini berkaitan dengan kesan perubahan yang wujud dari aspek undang-undang.

Akta X digubal oleh pihak kerajaan bertujuan untuk melarang perniagaan menggunakan hak paten perniagaan lain tanpa mendapat kebenaran.

Apakah akta X ?

- A Akta Kontrak 1950
- B Akta Syarikat 1965
- C Akta Hak Cipta 1987
- D Akta Persaingan 2010

9 Maklumat di bawah ini berkaitan dengan sejenis pelepasan cukai yang diberikan oleh kerajaan kepada Syarikat XYZ Sdn. Bhd.

- Menyertai promosi kerajaan
- Dikecualikan pembayaran cukai selama 5 tahun

Apakah jenis pelepasan cukai yang layak diterima oleh syarikat itu?

- A Taraf perintis
- B Potongan cukai
- C Pengecualian cukai
- D Elaun pelaburan semula

10 Maklumat yang berikut berkaitan dengan sejenis pengangguran.

- Sektor perniagaan mengutamakan penggunaan mesin-mesin dan jentera bagi menggantikan pekerja

Apakah jenis pengangguran tersebut?

- A Pengangguran teknologi
- B Pengangguran bermusim
- C Pengangguran struktur
- D Pengangguran kitaran

11 Apakah kesan inflasi terhadap individu?

- A Penambahan stok yang tidak terjual
- B Kadar pengangguran bertambah
- C Penurunan pendapatan bersih
- D Kuasa beli menurun

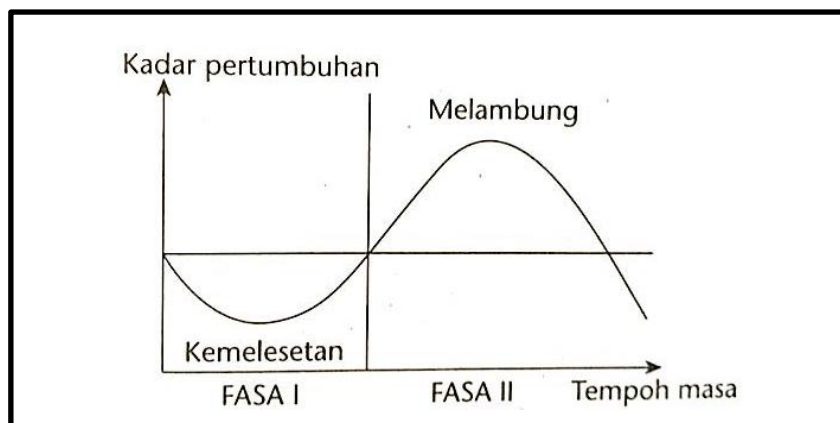
12 Maklumat yang berikut berkaitan dengan sejenis pasaran.

- Jual beli syer dan sekuriti, pertukaran wang asing, pinjaman dan pelaburan

Apakah jenis pasaran tersebut?

- A Pasaran saham
- B Pasaran produk
- C Pasaran kewangan
- D Pasaran komoditi

13 Graf di bawah ini menunjukkan kitaran ekonomi.



Apakah yang berlaku semasa ekonomi berada pada Fasa II?

- A Pendapatan kerajaan merosot
- B Pengangguran akan meningkat
- C Perniagaan menambahkan pengeluaran produk
- D Penduduk mempunyai pendapatan yang mencukupi

14 Manakah yang merupakan kelebihan sumber manusia dalaman?

- I Memotivasikan pekerja
- II Melahirkan idea baharu
- III Memperolehi kemahiran yang tinggi
- IV Memperolehi maklumat pekerja sedia ada

- A I dan II
- B I dan IV
- C II dan III
- D III dan IV

15 Pereka fesyen terkenal Rizalmin telah mengeluarkan koleksi fesyen baju kurung menggunakan fabrik satin. Apakah faktor luaran yang telah diambil kira oleh pereka fesyen tersebut?

- A Ekonomi
- B Teknologi
- C Kebudayaan
- D Sosiobudaya

16 Pernyataan manakah yang benar tentang visi?

- I Menggambarkan matlamat jangka panjang yang ingin dicapai
- II Mengambil masa melebihi lima tahun untuk mencapainya
- III Menerangkan aktiviti perniagaan yang sedang dijalankan
- IV Menyatakan sebab sesebuah organisasi wujud

- A I dan II
- B I dan IV
- C II dan III
- D III dan IV

17 Maklumat di bawah merujuk kepada peranan salah satu bahagian fungsian dalam organisasi.

- Menjalankan urusan dalaman
- Mengurus rekod
- Mengendalikan mesyuarat

Apakah bahagian fungsian berkenaan ?

- A Pentadbiran
- B Pengagihan
- C Perekodan
- D Pemasaran

18 Maklumat yang berikut berkaitan dengan peranan bahagian fungsian kewangan.

Y berperanan membantu akauntan dalam menyelia rekod kewangan dan mengurus semua bentuk hutang.

Siapakah Y ?

- A Pembantu tadbir
- B Penyelia akaun
- C Pegawai audit
- D Pegawai kredit

19 Rajah di bawah menunjukkan satu proses pengeluaran.



Apakah input Q?

- I Modal
- II Tanah
- III Teknologi
- IV Usahawan

- A I dan II
- B I dan IV
- C II dan III
- D III dan IV

20 Antara yang berikut, manakah kepentingan mewujudkan pasaran baharu?

- I Membantu mewujudkan peluang pasaran
- II Menguasai pasaran yang lebih besar
- III Melibatkan dalam pasaran tepu
- IV Meningkatkan pasaran pekerja

- A I dan II
- B I dan IV
- C II dan III
- D III dan IV

21 Maklumat berikut berkaitan dengan peranan pengurusan sumber manusia.

Syarikat Cutie membayar bonus kepada pekerja yang berprestasi tinggi.

Apakah peranan pengurusan sumber manusia tersebut ?

- A Membentuk persekitaran kerja kondusif
- B Latihan bagi peningkatan kemahiran
- C Menggalakkan kreativiti dan inovasi
- D Pemberian insentif yang munasabah

22 Maklumat berikut menunjukkan kemahiran kebolehterajaan Muthu dan Samy.

- Muthu – lepasan universiti
- Samy – menjadi tukang paip selama 10 tahun

Apakah kelebihan Samy berbanding Muthu jika mereka memohon jawatan sebagai penyelia di sebuah kilang batang paip ?

- A Berkelayakan dalam bidang tertentu
- B Berpengalaman dalam industri tertentu
- C Berpengalaman dan berpengetahuan luas
- D Berkemahiran tentang produk dan perkhidmatan

23 Apakah struktur organisasi yang digunakan secara meluas oleh kebanyakan organisasi?

- A Struktur organisasi berdasarkan fungsi
- B Struktur organisasi berdasarkan produk
- C Struktur organisasi berdasarkan matriks
- D Struktur organisasi berdasarkan geografi

24 Pernyataan manakah yang betul tentang produk siap?

- A Barang siap yang sedia dijual dan disimpan di dalam gudang
- B Bekalan yang digunakan dalam operasi sesebuah perniagaan
- C Barang akhir setelah siap diproses dan sedia untuk dijual
- D Bekalan yang digunakan untuk menghasilkan barang lain

25 Maklumat berikut berkaitan dengan karya-karya.

- Karya seni
- Filem
- Siaran

Apakah perlindungan yang layak diterima oleh karya-karya tersebut?

- A Paten
- B Lesen perisian
- C Cap dagangan
- D Hak Cipta Terpelihara

26 Maklumat berikut berkaitan dengan sejenis pembiayaan luaran.

- Kemudahan pembelian akaun penghutang atau invois yang disediakan oleh institusi kewangan

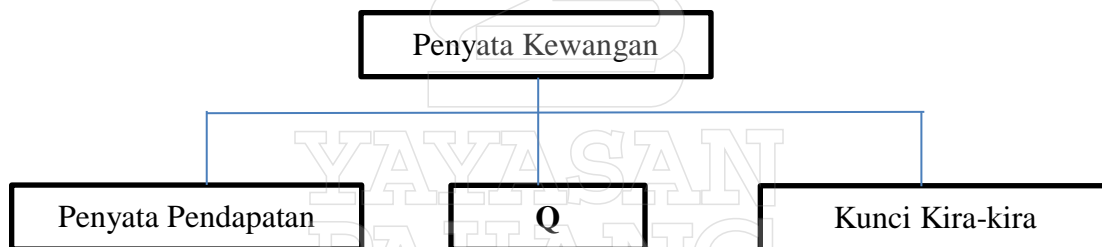
Apakah jenis pembiayaan luaran tersebut ?

- A Pajakan
- B Ar-Rahnu
- C Sewa beli
- D Pemfaktoran

27 Apakah peranan Syarikat Jaminan Kredit (CGC)?

- A Memberi latihan dan bimbingan kepada peniaga
- B Membantu usahawan PKS untuk berdaya maju
- C Membangunkan infrastruktur asas perniagaan
- D Memasarkan produk bagi pihak usahawan PKS

28 Rajah di bawah berkaitan rekod kewangan dalam penyata kewangan.

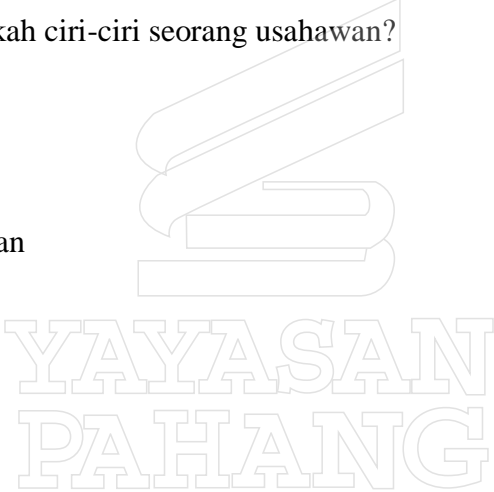


Apakah Q?

- A Penyata Penyesuaian Bank
- B Akaun Penerimaan dan Pembayaran
- C Akaun Perdagangan dan Untung Rugi
- D Penyata Aliran Tunai

29 Apakah Aset Semasa?

- A Aset yang mempunyai jangka hayat melebihi setahun
- B Aset yang mudah ditukarkan nilai kepada tunai
- C Aset yang mempunyai tahap kecairan rendah
- D Aset yang dimiliki oleh sebuah syarikat

- 30 Apakah kepentingan penyata kewangan kepada pembekal (vendor)?
- A Memastikan pelaburan mendapat keuntungan yang maksimum
 - B Mengetahui prestasi dan kedudukan kewangan sesebuah syarikat
 - C Mengukur keupayaan syarikat menjelaskan hutang perniagaan
 - D Menilai kecekapan syarikat sebelum memberi kemudahan kredit
- 31 Apakah nisbah yang digunakan untuk menentukan peratusan pertambahan pada kos bagi menentukan harga jualan?
- A Pusing ganti aset
 - B Pulangan atas modal
 - C Peratusan untung tokokan
 - D Peratusan untung bersih
- 32 Antara yang berikut, manakah ciri-ciri seorang usahawan?
- I Kreatif
 - II Produktif
 - III Berjimat cermat
 - IV Semangat berpasukan
- A I dan II
B I dan IV
C II dan III
D III dan IV
- 
- 33 Manakah antara berikut, kelebihan menjadi seorang usahawan kepada masyarakat ?
- A Membuka peluang pekerjaan
 - B Mewujudkan sikap berdikari
 - C Meminimumkan keuntungan
 - D Memupuk minat keusahawanan

34 Antara berikut, manakah ciri-ciri lokasi yang strategik?

- I Mudah untuk dikunjungi
- II Berhampiran dengan pemborong
- III Kemudahan alat yang cukup
- IV Tumpuan orang ramai

- A I dan II
- B I dan IV
- C II dan III
- D III dan IV

35 Antara berikut, yang manakah merupakan akta penubuhan perniagaan?

- I Akta Syarikat 2016
- II Akta Hak Cipta 1997
- III Akta Perhubungan Industri 1967
- IV Akta Perkongsian Liabiliti Terhad 2012

- A I dan II
- B I dan IV
- C II dan III
- D III dan IV

36 Maklumat berikut berkaitan dengan ciri sejenis pemilikan perniagaan.

- Liabiliti terhad
- Hayat berterusan
- Entiti berasingan

Apakah jenis pemilikan perniagaan tersebut?

- A Koperasi
- B Milikan Tunggal
- C Syarikat Awam Berhad
- D Perkongsian Liabiliti Terhad

37 Antara berikut, yang manakah sebab penamatan perniagaan?

- I Pertukaran pemilik
- II Berhijrah ke luar negara
- III Perintah mahkamah
- IV Berhenti berniaga

- A I dan II
- B I dan IV
- C II dan III
- D III dan IV

38 Maklumat berikut berkaitan sejenis dokumen perniagaan.

- Mengandungi maklumat ambilan oleh pemilik daripada perniagaannya untuk kegunaan pemilik sendiri.

Apakah dokumen berikut?

- A Memo
- B Invois
- C Nota kredit
- D Penyata tunai

39 Apakah dokumen yang akan dihantar kepada pembeli jika berlaku pembelian secara kredit?

- A Penyata bank
- B Resit rasmi
- C Invois
- D Memo

40 Mengapakah rancangan perniagaan perlu disediakan oleh usahawan sebelum memulakan perniagaan?

- A Memberi gambaran tentang perniagaan yang dirancang
- B Memantau dan menilai operasi perniagaan yang akan berjalan
- C Menyakinkan agensi kerajaan untuk memberikan kontrak kepada peniaga
- D Menangani dan menjangka risiko yang akan dialami dalam perniagaan

KERTAS SOALAN TAMAT