

**Jawab semua soalan**

1. Apakah tujuan sesebuah koperasi mengadakan Mesyuarat Agung Tahunan
  - A. Memilih anggota baharu
  - B. Meluluskan undang-undang kecil
  - C. Mendapat sijil perakuan pendaftaran
  - D. Menubuhkan jawatankuasa penaja
  
2. Pernyataan di bawah berkaitan dengan konsep asas perniagaan.

X- Sesuatu yang boleh dilihat atau disentuh

Y- Aktiviti yang boleh mendatangkan faedah

Pilih pernyataan yang tepat tentang X dan Y

	X	Y
A.	Perniagaan	Perkhidmatan
B.	Barang	Keuntungan
C.	Barang	Perkhidmatan
D.	Keperluan	kehendak

3. Maklumat berikut menunjukkan sejenis pengangguran.

En Ali, seorang nelayan terpaksa berhenti menangkap ikan semasa musim tengkujuh kerana ombak bergelora.

Pengangguran di atas dikenali sebagai

- A. Pengangguran kitaran
  - B. Pengangguran struktur
  - C. Pengangguran teknologi
  - D. Pengangguran bermusim
- 
4. Antara berikut, yang manakah peranan yang dimainkan oleh pihak kerajaan dalam menangani isu-isu perniagaan?
    - I. Tingkat pertumbuhan ekonomi negara
    - II. Membantu mengurus sesebuah perniagaan yang bermasalah
    - III. Memantau dan kawal guna tenaga penuh
    - IV. Mengawal inflasi dan deflasi
    - A. I, II dan III
    - B. I, II dan IV
    - C. I, III dan IV
    - D. II, III dan IV
  
  5. Apakah maksud visi?
    - A. Visi merupakan satu perancangan jangka panjang di dalam sesebuah organisasi
    - B. Visi merupakan satu perancangan jangka pendek di dalam sesebuah organisasi
    - C. Visi merupakan satu ketetapan menjelaskan aktiviti organisasi yang akan dilaksanakan untuk mencapai visi
    - D. Visi menyatakan maklumat tentang tujuan perniagaan yang tepat dan khusus

6. Apakah kesan negatif yang wujud jika sesebuah perniagaan tidak membentuk objektif perniagaan yang sesuai ?

- A. Berlaku kerugian
- B. Sumber tidak diagih dengan betul
- C. Wawasan perniagaan tidak dapat di capai
- D. Perniagaan tidak berada pada landasan yang betul

7. Deflasi adalah satu keadaan berlaku kejatuhan harga barang dan perkhidmatan secara berterusan. Apakah kesan jika deflasi berlaku di negara kita ?

- I. Barang tiada di pasaran
  - II. Kenaikan harga tidak terkawal
  - III. Penduduk kehilangan pekerjaan
  - IV. Membantutkan aktiviti perniagaan
- A. I dan II
  - B. I dan IV
  - C. II dan III
  - D. III dan IV

8. Maklumat berikut berkaitan dengan gaya pengurusan.

- Majikan bertoleransi dengan pekerja
- Hubungan baik antara pekerja dengan majikan

Apakah gaya pengurusan yang di gambarkan di atas?

- A. Autokratik
- B. Sokongan
- C. Demokrasi
- D. Laissez-faire

9. Apakah yang akan berlaku sekiranya negara gagal mencapai guna tenaga penuh?

- A. Politik tidak stabil
- B. Pengangguran meningkat
- C. Wujud pepercahan kaun
- D. Kemelesetan ekonomi

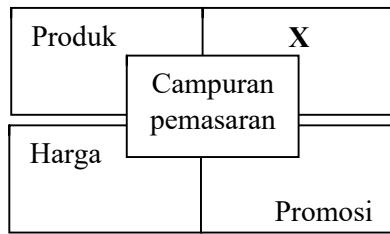
10. Maklumat berikut berkaitan dengan peranan suatu agensi kerajaan yang terlibat dalam penyelidikan dan pembangunan (R & D)

- Memastikan hasil keluaran industry menepati piawaian yang ditetapkan
- Memastikan produk tidak menyeleweng dari segi kualiti yang ditetapkan
- Aktiviti penyelidikan membantu dalam pembangunan dan perubahan pasaran

Apakah agensi berkenaan

- A. MEDEC
- B. MARDI
- C. SIRIM
- D. FELDA

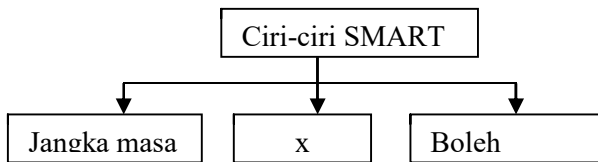
11. Rajah menunjukkan campuran pemasaran.



Apakah X ?

- A. Kos
- B. Agihan
- C. Jualan
- D. Penawaran

12. Rajah di bawah menunjukkan ciri-ciri SMART.



Antara yang berikut yang manakah mungkin sekali ialah x ?

- I. Spesifik
  - II. Ringkas
  - III. Boleh difahami
  - IV. Boleh dicapai
- A. I dan II
  - B. I dan IV
  - C. II dan III
  - D. III dan IV

13. Maklumat di bawah berkaitan dengan kos bagi pengeluaran 30 000 unit produk X.

	RM
Kos tetap	360 000
Bahan langsung	150 000
Buruh langsung	120 000

3

Apakah titik pulang modal (unit) bagi pengeluaran produk X sekiranya harga produk itu ialah RM15 seunit ?

- A. 60 000 unit
- B. 56 000 unit
- C. 42 000 unit
- D. 36 000 unit

14. Apakah faktor yang boleh mempengaruhi perubahan visi, misi dan objektif perniagaan?

- A. Teknologi maklumat dan komunikasi
- B. Demografi
- C. Kewangan
- D. Sosiobudaya

15. Antara berikut yang manakah kepentingan bahagian fungsian dalam syarikat Proton Bhd ?

- I. Membuka peluang pekerjaan
- II. Membantu mencapai objektif
- III. Melancarkan perjalanan operasi syarikat
- IV. Mengembangkan perniagaan

- A. I dan II
- B. I dan IV
- C. II dan III
- D. III dan IV

16. Maklumat di bawah berkaitan dengan aplikasi teknologi maklumat terhadap bahagian fungsian E dalam sesebuah organisasi.

- Laman web
- Blog
- Laman social seperti Facebook dan Twitter

Apakah bahagian fungsian E ?

- A. Pemasaran
- B. Pembelian
- C. Jualan
- D. Pengeluaran

17. Antara yang berikut faktor persekitaran manakah merupakan punca syarikat tidak dapat menambahkan tingkat keluarannya?

- I. Sumber manusia
  - II. Kewangan
  - III. Teknologi
  - IV. Ekonomi
- A. I dan II
  - B. I dan IV
  - C. II dan III
  - D. III dan IV

18. Rajah di bawah ini menunjukkan satu proses pengeluaran.



Apakah W ?

- A. Proses tranformasi
- B. Proses pembuatan
- C. Proses ekologi
- D. Proses teknologi

19. Antara berikut, yang manakah merupakan peranan fungsian jualan?

- I. Mengurus belian barang
  - II. Menghantar barang jualan
  - III. Mengambil tindakan pertanyaan pelanggan
  - IV. Menyediakan sebut harga kepada pelanggan
- A. I dan II

- B. I dan IV
- C. II dan III
- D. III dan IV

20. Mengapakah penggunaan Teknologi Maklumat dan Komunikasi penting dalam sesebuah organisasi perniagaan?

- A. Dapat meluaskan pasaran
- B. Dapat memproses barang dengan cepat
- C. Dapat meningkatkan kuantiti pengeluaran
- D. Dapat mengagihkan barang kepada pengguna

21. Perniagaan manakah yang sesuai untuk mengamalkan struktur organisasi berdasarkan matriks?

- A. Agensi pengiklanan
- B. Institusi kewangan
- C. Kilang roti dan kek
- D. Pengeluar kereta

22. Maklumat berikut berkaitan dengan sumber manusia.

- Menjaga kebajikan pekerja
- Mengagihkan sumber manusia berdasarkan kelayakan dan kemahiran

Apakah yang boleh dikaitkan dengan maklumat di atas?

- A. Pengurusan sumber manusia
- B. Kebolehkerjaan sumber manusia
- C. Sistem penggajian sumber manusia
- D. Struktur organisasi sumber manusia

23. Gambar di bawah menunjukkan pekerja yang diberikan penghargaan.



Apakah peranan yang dimainkan oleh pengurusan sumber manusia organisasi di atas ?

- A. Prestasi pasukan  
 B. Pemberhentian pekerja  
 C. Latihan peningkatan kemahiran  
 D. Pemberian insentif yang munasabah
24. Apakah ciri struktur organisasi berdasarkan geografi ?
- A. Dikenali sebagai sistem berbilang arahan  
 B. Sesuai untuk organisasi yang bersaiz kecil  
 C. Diwujudkan untuk memenuhi keperluan pelanggan  
 D. Untuk tujuan penyelarasan jabatan di pelbagai wilayah

25. Gambar di bawah menunjukkan beberapa sumber fizikal.



Apakah tujuan sumber fizikal di atas digunakan ?

- A. Menyimpan stok  
 B. Mengedarkan produk  
 C. Memproses bahan mentah  
 D. Mempercepatkan urusan perniagaan

26. Maklumat berikut berkaitan dengan aktiviti yang dijalankan di sebuah kilang.

- Penyediaan jadual pemeriksaan ke atas mesin
- Kerja-kerja pembaikan ke atas mesin yang rosak

Apakah yang berkaitan dengan aktiviti di atas ?

- A. Paten  
 B. Hak cipta terpelihara  
 C. Perlindungan insurans dan keselamatan  
 D. Penyelenggaraan dan baik pulih secara terancang
27. Apakah perbezaan antara sumber teknologi untuk perniagaan berasaskan produk dengan perniagaan berasaskan perkhidmatan?
- A. Perniagaan perkhidmatan tiada produk yang boleh dipatenkan  
 B. Perniagaan perkhidmatan tiada produk yang diberi hak cipta terpelihara  
 C. Perniagaan perkhidmatan tiada produk yang diberi lesen perisian  
 D. Perniagaan perkhidmatan tiada produk yang diberi cap dagangan

28. Antara yang berikut, manakah merupakan kelebihan memperoleh jentera melalui skim pajakan ?

- I. Dapat menjana pendapatan
  - II. Dimiliki selepas tamat tempoh pajakan
  - III. Jentera yang rosak akan dibaiki oleh penyewa
  - IV. Dapat menggunakan mesin tanpa mengeluarkan modal yang tinggi
- A. I dan II
  - B. I dan IV
  - C. II dan III
  - D. III dan IV

29. Gambar di bawah menunjukkan sebuah logo agensi kerajaan.



Manakah yang benar mengenai agensi tersebut ?

- A. Menyediakan kemudahan ruang niaga
- B. Menawarkan modal tambahan kepada usahawan
- C. Memberi jaminan kredit
- D. Menawarkan geran insentif dalam bidang sains dan teknologi

30. Bagaimanakah sesebuah perniagaan dapat mengetahui bahawa pembiayaan telah diluluskan ?

- A. Perniagaan mengandaikan sendiri bahawa pembiayaan telah diluluskan
- B. Dana telah dimasukkan ke dalam akaun perniagaan
- C. Menerima surat pemberitahuan daripada sumber pembiayaan
- D. Sumber pembiayaan mengunjungi premis perniagaan

31. Apakah jenis sumber pembiayaan yang membolehkan perniagaan mencagar barang yang berharga untuk mendapatkan pinjaman ?

- A. Syer
- B. Overdraf
- C. Ar-rahnu
- D. Pemfaktoran

32. Apakah kekuatan sesebuah perniagaan menggunakan sumber pembiayaan luaran ?

- A. Memerlukan penjamin
- B. Tidak dikenakan faedah
- C. Dibayar dalam jangka masa yang pendek
- D. Ansuran bulanan boleh mengikut kemampuan peminjam

33. Maklumat berikut berkaitan dengan ciri-ciri keperibadian Hj. Zamberi.

Haji Zamberi mengusahakan tauhu yang halal bagi dipasarkan kepada pengguna Muslim.

Apakah cii keperibadian tersebut ?

- A. Komitmen yang tinggi
- B. Yakin diri dan optimistik
- C. Pandai mengambil peluang
- D. Kebolehan menentukan misi dan visi

34. Gambar menunjukkan beberapa barang keperluan harian.



Apakah jenis stok bagi barang tersebut ?

- A. Stok bergerak cepat
- B. Stok bergerak lambat
- C. Stok tidak bergerak
- D. Stok lambakan

35. Antara yang berikut, yang manakah merupakan faktor penting dalam pelaksanaan strategi pemasaran ?

- I. Sasaran pasaran
  - II. Kemahiran pekerja
  - III. Modal yang mencukupi
  - IV. Campuran pemasaran
- A. I dan II

- B. I dan IV
- C. II dan III
- D. III dan IV

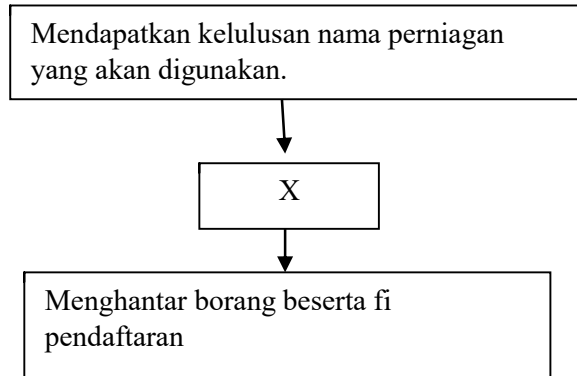
36. Apakah faedah yang diperoleh oleh seorang peniaga yang mendafarkan perniagaan di Suruhanjaya Syarikat Malaysia ?

- A. Memperoleh untung yang lumayan
- B. Melayakkan mendapat kemudahan menjalankan perniagaan
- C. Dikenakan cukai perniagaan yang rendah
- D. Dikecualikan membayar lesen perniagaan untuk tempoh tiga tahun pertama

37. Definisi yang tepat tentang rancangan perniagaan...

- A. Dokumen bertulis yang menerangkan jenis perniagaan yang akan dijalankan oleh sesebuah perniagaan
- B. Dokumen bertulis yang menerangkan latar belakang perniagaan secara terperinci
- C. Dokumen bertulis yang menerangkan tentang kedudukan projek perniagaan
- D. Dokumen bertulis yang menerangkan maklumat perniagaan secara terperinci

38. Rajah di bawah menunjukkan prosedur pendaftaran perniagaan milikan tunggal.



Pernyataan manakah yang benar tentang X ?

- Melengkapkan borang kelulusan nama
- Permohonan carian nama perniagaan
- Mengisi Borang Pendaftaran Perniagaan (Borang A)
- Menyerahkan bayaran pendaftaram perniagaan

39. Maklumat di bawah berkaitan dengan rancangan perniagaan.

- Alamat tetap
- Pengalaman
- Kedudukan akademik

Bahagian manakah maklumat tersebut direkodkan ?

- Rancangan operasi
- Latar belakang perniagaan
- Objektif projek
- Latar belakang pemilik

40. Maklumat di bawah berkaitan dengan objektif projek.

Kumpulan yang dikenalpasti akan menggunakan produk atau perkhidmatan yang dihasilkan oleh pengeluar

Apakah elemen tersebut ?

- Sasaran pekerja
- Sasaran jualan
- Sasaran pelanggan
- Sasaran untung

**-KERTAS SOALAN TAMAT-**