



**MAJLIS PENGETUA SEKOLAH MENENGAH MALAYSIA
CAWANGAN NEGERI SEMBILAN DARUL KHUSUS**

**PROGRAM PENINGKATAN AKADEMIK TINGKATAN 5
SEKOLAH-SEKOLAH NEGERI SEMBILAN 2019**

SEJARAH

KERTAS 1

Satu Jam

JANGAN BUKA KERTAS PEPERIKSAAN INI SEHINGGA DIBERITAHU

1. *Kertas peperiksaan ini mengandungi 40 soalan.*
2. *Jawab semua soalan.*
3. *Tiap-tiap soalan diikuti empat pilihan jawapan, iaitu A, B, C dan D. Bagi setiap soalan, pilih satu jawapan sahaja. Hitamkan jawapan anda pada kertas jawapan objektif yang disediakan.*
4. *Jika anda hendak menukar jawapan, padamkan tanda yang telah dibuat. Kemudian hitamkan jawapan yang baharu.*

Kertas peperiksaan ini mengandungi 16 halaman bercetak.

[Lihat halaman sebelah

1 Senarai berikut adalah tokoh sarjana yang menulis tentang sejarah.

- Syed Naquib al-Attas
- Richard Sullivan

Apakah persamaan pandangan mereka dalam mengukur tahap ketamadunan sesebuah masyarakat?

- A Penekanan unsur rohaniah
- B Pembangunan pembandaran
- C Kedaulatan undang-undang
- D Kehidupan berorganisasi

2 Dialog berikut mungkin berlaku dalam kalangan penduduk kota Akkad, Mesopotamia pada 2291 – 2255 S.M..

Penduduk A : Mengapakah Raja Naramsin memaksa penduduk menyembahnya?
Penduduk B : Kerana beliau adalah “Raja Empat Penjuru Alam”.

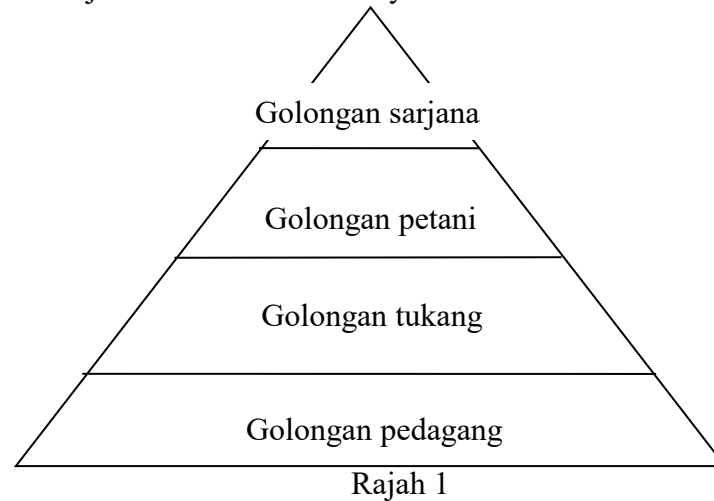
Berdasarkan dialog di atas, mengapakah gelaran tersebut diperoleh?

- A Menguasai wilayah yang luas
- B Menerima mandat daripada tuhan
- C Merupakan jelmaan Tuhan Horus
- D Mengamalkan pemerintahan teokrasi

3 Mengapakah Undang-undang Justinian dalam tamadun Rom menjadi asas kepada sistem perundangan hari ini?

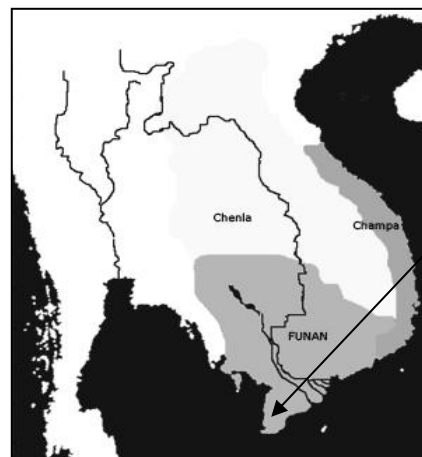
- I Kedudukan raja mengatasi undang-undang
 - II Pemerintah menggubal undang-undang
 - III Hukuman berasaskan bukti yang cukup
 - IV Seseorang tidak bersalah sehingga terbukti bersalah
- A I dan II
 - B I dan IV
 - C II dan III
 - D III dan IV

- 4 Rajah 1 menunjukkan kelas sosial masyarakat China menurut Confucius.



Bagaimanakah individu di China boleh menukar kelas sosialnya kepada kedudukan yang lebih baik?

- A Memajukan perdagangan
 - B Menyertai birokrasi awam
 - C Meningkatkan tahap pendidikan
 - D Memiliki harta kekayaan
- 5 Peta 1 menunjukkan pelabuhan Oc-eo yang merupakan pelabuhan utama kerajaan Funan.



Peta 1

Mengapakah pelabuhan ini menjadi tumpuan pedagang?

- A Kedudukan strategik
- B Kestabilan politik
- C Kekuatan ketenteraan
- D Keseimbangan ekonomi

[Lihat halaman sebelah

- 6 Gambar 1 menunjukkan tempat suci untuk upacara angkat sumpah yang diadakan di Telaga Batu, Palembang.



Gambar 1

Mengapakah upacara tersebut diadakan

- A Mengakui raja sebagai dewa-raja
 - B Mempercayai kesaktian raja
 - C Menjamin kesetiaan pembesar
 - D Mengukuhkan pengaruh pembesar
- 7 Maklumat berikut berkaitan dengan peperangan yang berlaku dalam masyarakat Arab Jahiliah.

Perang al-Basus
<ul style="list-style-type: none">• Berlaku antara Bani Taghlib dengan Bani Bakar• Berlanjutan selama 40 tahun

Berdasarkan maklumat tersebut, apakah kesimpulan yang dapat dibuat berkaitan dengan masyarakat Arab Jahiliah?

- A Semangat kesukuan melampau
- B Menuntut keadilan
- C Mengumpul kekayaan
- D Suka dengan kemenangan

- 8 Wahyu pertama yang diturunkan oleh Allah kepada Nabi Muhammad SAW ialah surah al-Alaq ayat 1 – 5.
Mengapakah umat Islam diperintah untuk melakukan pembacaan melalui surah tersebut?
- I Menyebarkan agama Islam
 - II Menambah ilmu pengetahuan
 - III Menggalakkan melakukan kajian
 - IV Membetulkan akhlak masyarakat Arab
- A I dan II
 - B I dan IV
 - C II dan III
 - D III dan IV
- 9 Piagam Madinah merupakan sebuah perlembagaan bertulis terawal dalam sejarah Islam.
Apakah keistimewaan perlembagaan tersebut?
- A Bersifat tegas
 - B Menjamin keamanan
 - C Mempertahan maruah Islam
 - D Berpandukan wahyu Allah
- 10 Kota Makkah telah berjaya dibuka semula oleh Nabi Muhammad SAW pada tahun 630 M..
Mengapakah peristiwa tersebut penting kepada kerajaan Islam Madinah?
- A Menggubal perlembagaan baru
 - B Memperkukuh negara Islam
 - C Menghargai perjuangan tokoh
 - D Menghapuskan sistem kabilah

[Lihat halaman sebelah

- 11 Kaedah pemilihan khalifah dalam Islam yang pertama ialah melalui proses syura atau musyawarah.

Apakah kesan pelaksanaan proses tersebut?

- A Meneruskan kesinambungan pemerintahan
- B Meningkatkan taraf ekonomi negara
- C Memastikan pemerintahan yang adil
- D Menjamin pentadbir yang berkeelayakan

- 12 Maklumat berikut merujuk kepada cara pertembungan tamadun Islam dengan tamadun lain.

- Perdagangan
- Kebudayaan
- Hubungan diplomatik

Apakah kesan daripada pertembungan tersebut?

- A Pembahagian kelas sosial
- B Pertambahan penduduk
- C Penyerapan budaya
- D Peningkatan bilangan tentera

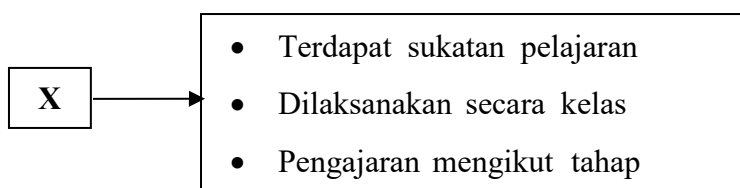
- 13 Maklumat berikut menunjukkan teori kedatangan Islam ke Asia Tenggara.

- Islam dari Semenanjung Tanah Arab
- Islam dari India
- Islam dari China

Apakah persamaan cara penyebaran Islam berdasarkan ketiga-tiga teori tersebut?

- A Menerusi perluasan kuasa
- B Melalui perdagangan
- C Melalui pertukaran kebudayaan
- D Menerusi kesusasteraan

- 14 Apakah kriteria penganugerahan jawatan syahbandar kepada seorang pedagang Islam di sesebuah pelabuhan di Asia Tenggara?
- A Mentaati pemerintah
 - B Mahir berniaga
 - C Bersifat jujur
 - D Bijak mentadbir
- 15 Maklumat berikut berkaitan pendidikan di Tanah Melayu.



- Apakah X?
- A Sistem pondok
 - B Sistem madrasah
 - C Pembelajaran di masjid
 - D Pengajaran di istana
- 16 Mengapakah institusi baitulmal diperkenalkan oleh Kesultanan Melayu Melaka?
- A Menetapkan kadar cukai
 - B Mengendalikan adat istiadat
 - C Menentukan tugas pembesar
 - D Menguruskan harta kerajaan
- 17 Apakah aspek yang ditekankan oleh gereja Katolik pada Zaman Pertengahan di Eropah?
- A Penguasaan kemahiran teknologi
 - B Pengukuhan institusi keluarga
 - C Penerokaan wilayah baru
 - D Pembelajaran ilmu akhirat


[Lihat halaman sebelah

18 Perjanjian Tordesillas telah ditandatangani oleh Sepanyol dan Portugal pada tahun 1494.

Apakah kesan perjanjian tersebut?

- A Mewujudkan kerjasama ketenteraan
- B Mengukuhkan institusi gereja
- C Perkongsian pelabuhan di timur
- D Pembahagian kawasan penjelajahan

19 Gambar 2 ialah Henry N. Ridley.

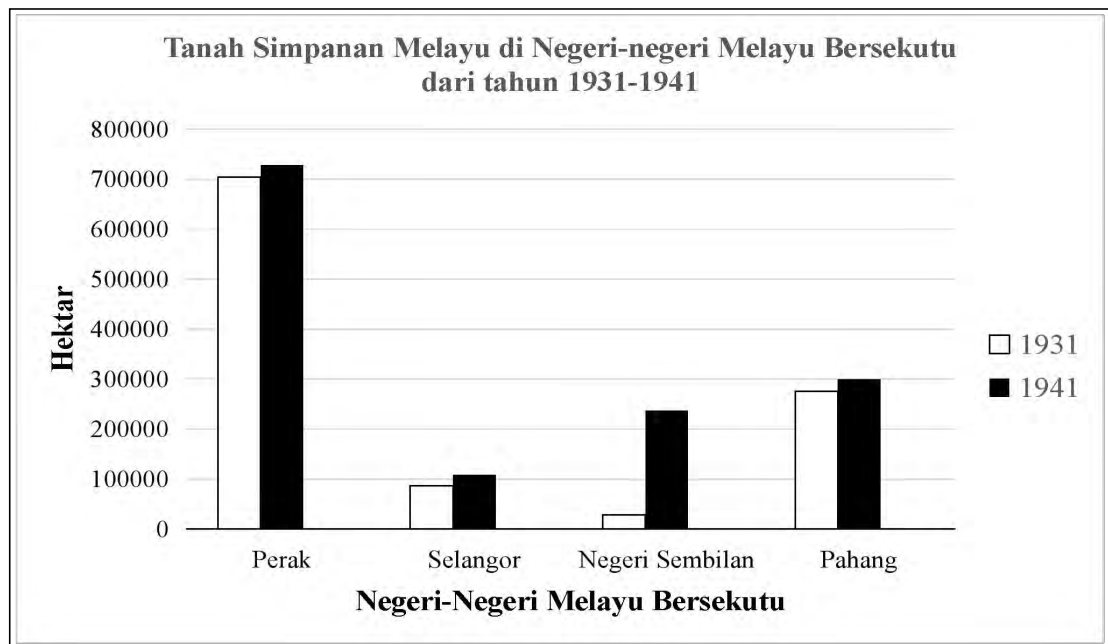


Gambar 2

Bagaimanakah beliau membantu memajukan perusahaan getah di Tanah Melayu?

- A Memberi subsidi baja
- B Membawa masuk imigran luar
- C Mengagih benih secara percuma
- D Memajak tanah peribumi

- 20 Graf berikut menunjukkan keluasan Tanah Simpanan Melayu di Negeri-negeri Melayu Bersekutu.



Akta Tanah Simpanan Melayu telah diperkenalkan pada 25 November 1913.

Apakah kesan akta tersebut terhadap orang Melayu?

- A Meningkatkan taraf hidup
 - B Mengekalkan pemilikan tanah
 - C Mengusahakan pertanian komersial
 - D Membayar cukai yang tinggi
- 21 Sistem Polo diperkenalkan oleh penjajah Sepanyol selepas ekspedisi Miguel Lo'pez de Legazpi di Filipina pada 13 Februari 1565.

Sumber : https://ms.wikipedia.org/wiki/Sejarah_Filipina

Apakah kesan perlaksanaan sistem tersebut terhadap penduduk peribumi?

- A Memberi peluang mentadbir
- B Menjadi buruh paksa
- C Meningkatkan ekonomi
- D Menghapuskan pengaruh pembesar

[Lihat halaman sebelah

- 22 Maklumat berikut berkaitan tindakan Perancis terhadap gerakan nasionalisme di Vietnam.

Penjajah	Tindakan
Perancis	<ul style="list-style-type: none"> • Menangkap pemimpin-pemimpin Viet Nam Quac Dang Dang (VNQDD) • Menghukum bunuh Nguyen Thai Hoc

Apakah kesan tindakan tersebut?

- A Melancarkan gerakan dakyah
 B Melancarkan pemberontakan di Tongkin
 C Gerakan nasionalisme menjadi lebih radikal
 D Gerakan nasionalisme kembali bercorak sederhana
- 23 Maklumat berikut berkaitan dengan karya penulisan di Tanah Melayu.

Tajuk Majalah	Bulan Melayu
Pengarang	Zainon Sulaiman
Tahun Terbitan	1930

Apakah mesej yang terkandung dalam karya tersebut?

- A Memperjuangkan hak wanita
 B Memajukan bahasa dan sastera Melayu
 C Meniupkan semangat cinta akan negara
 D Membincangkan pentafsiran Islam
- 24 Maklumat berikut berkaitan dengan pertubuhan yang menentang pendudukan Jepun di Tanah Melayu antara tahun 1941 hingga tahun 1945.

- | |
|---|
| <ul style="list-style-type: none"> • Force 136 • Malayan People's Anti –Japanese Army (MPAJA) |
|---|

Apakah tindakan pertubuhan tersebut?

- A Menyebarkan propaganda
 B Melaksanakan perang saraf
 C Menubuhkan tentera semut
 D Menjalankan perang gerila

- 25 Setelah campur tangan British di Semenanjung Tanah Melayu, British mula merujuk kerajaan Melayu sebagai negeri dan menetapkan sempadan setiap kerajaan.

Mengapakah British bertindak demikian?

- A Mengukuhkan kedaulatan negeri
 - B Meluputkan konsep kerajaan Melayu
 - C Menghapuskan sistem pemusatan kuasa
 - D Membentuk pentadbiran tempatan yang sistematik
- 26 Undang-Undang Tubuh Kerajaan Terengganu diluluskan oleh Sultan Zainal Abidin III pada tahun 1911.
- Berdasarkan undang-undang tersebut, apakah syarat untuk menjadi pemerintah di Terengganu?

- I Bergelar Nik dan Wan
 - II Pewaris takhta
 - III Berbangsa Melayu
 - IV Taat setia kepada Sultan
- A I dan II
 - B I dan IV
 - C II dan III
 - D III dan IV

- 27 Maklumat berikut berkaitan dengan Perjanjian Persekutuan Tanah Melayu 1948.

Perjanjian Persekutuan Tanah Melayu menjelaskan tentang Rakyat Raja Melayu dan Rakyat British.
--

Siapakah yang dimaksudkan dengan Rakyat British?

- A Mereka yang berasal daripada England
- B Mereka yang berasal daripada China dan India
- C Mereka yang berasal daripada Pulau Pinang dan Melaka
- D Mereka yang berasal daripada Kepulauan Melayu

[Lihat halaman sebelah

- 28 Maklumat berikut berkaitan dengan perkembangan di Sarawak.

Perlembagaan 1941

Antara berikut, yang manakah berkaitan dengan perlembagaan tersebut?

- I Perlembagaan bertulis pertama di Sarawak
 - II Pentadbiran Sarawak akan diserahkan kepada British
 - III Kuasa mentadbir dibahagikan kepada pusat dan wilayah
 - IV Ahli Majlis Negeri akan dilantik oleh Raja Sarawak
- A I dan II
 - B I dan IV
 - C II dan III
 - D III dan IV
- 29 Maklumat berikut adalah keputusan Pilihan Raya 1955.

Parti yang bertanding	Jumlah kerusi yang ditandingi	Jumlah kerusi yang dimenangi
Parti Perikatan	52	51
Parti Negara	30	-
PAS	11	1

Apakah faktor utama yang membawa kejayaan kepada Parti Perikatan?

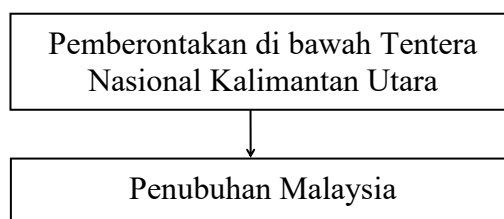
- A Perjuangan Perikatan memenuhi hasrat rakyat berbilang kaum
 - B Perikatan mendapat sokongan daripada pihak British
 - C Perikatan mempunyai pemimpin yang berwibawa
 - D Perikatan mempunyai kewangan yang kukuh
- 30 Raja-raja Melayu telah menerima kerakyatan jus soli yang dituntut oleh orang dagang dengan syarat.
- Apakah syarat tersebut?
- A Mengiktiraf kedudukan istimewa orang Melayu
 - B Menubuhkan kerajaan persekutuan
 - C Membahagikan tiga jenis kerakyatan
 - D Mengamalkan kebebasan beragama

- 31 Maklumat berikut merujuk gabungan parti politik di Sabah dan Sarawak pada abad ke-20.

Tahun	Parti
1961	Parti Perikatan Sabah
1962	Parti Perikatan Sarawak

Apakah ciri persamaan perjuangan parti-parti tersebut?

- I Menyokong pembentukan Malaysia
 - II Mempercepatkan kemerdekaan negeri
 - III Menangani pencerobohan Indonesia
 - IV Menentang pengaruh komunis di Sabah dan Sarawak
- A I dan II
 - B I dan IV
 - C II dan III
 - D III dan IV
- 32 Rajah berikut merujuk kepada tindakan Parti Rakyat Brunei (PRB).

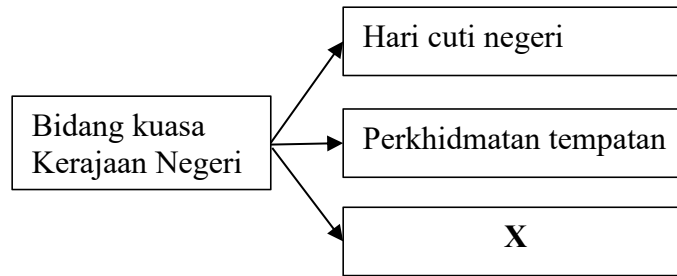


Mengapakah pemberontakan tersebut dilancarkan?

- A Menentang ancaman komunis
 - B Menubuhkan Persekutuan Borneo
 - C Menyekat pengaruh British di Brunei
 - D Menghalang proses kemerdekaan Brunei
- 33 Apakah bidang kuasa Badan Perundangan dalam sistem pemerintahan Malaysia?
- A Mentafsir perlembagaan
 - B Menggubal undang-undang
 - C Menentukan kesahihan undang-undang
 - D Membatalkan akta yang bercanggah dengan perlembagaan

[Lihat halaman sebelah

34 Rajah berikut menerangkan bidang kuasa Kerajaan Negeri.



Apakah X?

- A Tanah
- B Pelajaran
- C Kesihatan
- D Kerakyatan

35 Gambar 3 merupakan Jata Negara yang menjadi lambang kerajaan Malaysia.



Gambar 3

Mengapakah lambang tersebut penting kepada kerajaan Malaysia?

- I Mengukuhkan perpaduan rakyat
 - II Menjadikan ekonomi negara maju
 - III Memastikan semangat kenegerian tinggi
 - IV Melahirkan rakyat yang sedia berkorban
- A I dan II
 - B I dan IV
 - C II dan III
 - D III dan IV

- 36 Rancangan Malaysia Keempat merupakan rancangan Malaysia tahap kedua yang dilaksanakan pada tahun 1981-1985.

Apakah tumpuan yang diberikan dalam rancangan tersebut?

- A Menggalakkan sektor pelancongan
- B Meningkatkan pengeluaran makanan
- C Membangunkan kawasan luar bandar
- D Memajukan sektor perindustrian berat

- 37 Maklumat berikut merupakan tiga strategi yang dilaksanakan dalam menjayakan pembangunan ekonomi negara.

- Mengelompokkan kampung-kampung
- Meningkatkan pendapatan golongan petani
- Pelaksanaan projek pembangunan oleh agensi kerajaan

Apakah dasar yang berkaitan dengan maklumat tersebut?

- A Dasar Penswastaan
 - B Dasar Pertanian Negara
 - C Dasar Hala Tuju Cara Baru
 - D Dasar Peningkatan Daya Pengeluaran Negara
- 38 Maklumat berikut mengenai institusi pengajian tinggi yang ditubuhkan pada tahun 1977.

Universiti Kebangsaan Malaysia

Mengapakah kerajaan mengambil langkah menubuhkan institusi tersebut?

- A Memartabatkan Bahasa Melayu
- B Meningkatkan sistem pendidikan negara
- C Melahirkan lebih ramai golongan terpelajar
- D Menawarkan lebih banyak tempat belajar

[Lihat halaman sebelah

39 MAPHILINDHO merupakan gabungan tiga buah negara iaitu Malaysia, Filipina dan Indonesia.

Apakah matlamat pertubuhan tersebut?

- A Membendung pengaruh komunis
- B Mengadakan perjanjian perdagangan
- C Meningkatkan hubungan persahabatan
- D Mengadakan kerjasama teknikal

40 Globalisasi merujuk kepada perubahan yang menjadikan dunia tanpa sempadan.

Apakah usaha kerajaan Malaysia dalam menghadapi era globalisasi tersebut?

- A Menggalakkan kemasukan pelabur luar
- B Mencontohi budaya kerja negara maju
- C Mengubah sistem pendidikan negara
- D Menyediakan kemudahan ICT

KERTAS SOALAN TAMAT

