

1 Apakah faktor utama kejatuhan kerajaan Mesopotamia?

- A Rampasan kuasa golongan bangsawan
- B Penguasaan Parsi
- C Sekatan kerajaan Mesir Purba
- D Serangan oleh tamadun Indus

2 Kandungan karya di bawah pada masa kini amat penting kepada masyarakat.

The Art of War

Apakah kepentingan karya tersebut?

- A Menyusun strategi perniagaan
- B Membina sistem pertahanan
- C Penilaian peperiksaan
- D Taktik peperangan

3 Negara berikut mengamalkan sistem pemerintahan demokrasi.

- Malaysia
- Indonesia
- Amerika Syarikat

Apakah persamaan ketiga-tiga buah negara tersebut?

- A Perdana Menteri mengetuai negara
- B Ahli Dewan dilantik oleh ketua negara
- C Dewan Senat meluluskan undang-undang
- D Rakyat diberi hak memilih pemimpin

- 4 Gambar 1 adalah Tembok Besar China yang dibina oleh Maharaja Shih Huang Ti pada zaman Dinasti Chin (221 S.M. hingga 206 S.M.).



Gambar 1

- Mengapakah tembok tersebut dibina?
- A Menandakan sempadan negeri
  - B Menjamin keselamatan wilayah
  - C Menjadi benteng penghalang banjir
  - D Melambangkan keagungan kerajaan
- 5 Anda sebagai pemimpin masyarakat maritim di Asia Tenggara. Apakah usaha anda untuk memajukan negara anda?
- A Meningkatkan kemahiran membina kapal
  - B Meningkatkan hasil pertanian
  - C Memperbanyak sistem saliran
  - D Mempertingkatkan usaha mencari hasil hutan

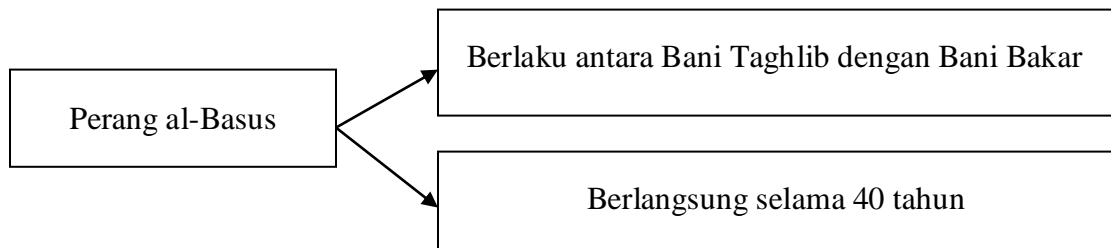
*[Lihat halaman sebelah*

- 6 Maklumat berikut berkaitan dengan warisan yang ditinggalkan oleh kerajaan awal di Asia Tenggara.

- Candi Borobudur
- Bahasa Sanskrit
- Institusi beraja

Apakah rumusan yang boleh dibuat berdasarkan maklumat tersebut?

- A Pengaruh Hindu dan Buddha
  - B Pemimpin yang berwibawa
  - C Kepakaran seni bina
  - D Kepentingan pendidikan
- 7 Rajah 1 menunjukkan peperangan yang berlaku dalam kalangan masyarakat Arab Jahiliah.



Rajah 1

Sebagai seorang pemimpin, bagaimanakah anda dapat mengelakkan berlakunya peperangan tersebut?

- A Meningkatkan ekonomi masyarakat
- B Meningkatkan persefahaman penduduk
- C Mengukuhkan bidang ketenteraan
- D Memelihara kebajikan rakyat

- 8 Mengapa Nabi Muhammad SAW digelar al-Amin?
- A Pemaaf dan pengampun
  - B Suka membantu orang miskin
  - C Bergaul dengan semua orang
  - D Tidak pernah berbohong dan dipercayai
- 9 Apakah kepentingan Piagam Madinah yang dirangka oleh Nabi Muhammad SAW pada tahun 622 Masihi?
- A Memberi panduan pemerintahan negara
  - B Melindungi tradisi masyarakat Arab
  - C Menamatkan permusuhan dengan Rom
  - D Menyediakan strategi menghadapi ancaman Quraisy
- 10 Nabi Muhammad SAW berjaya membuka semula kota Makkah pada tahun 630 Masihi bersamaan tahun 8 Hijrah.
- Apakah peristiwa yang membawa kepada pembukaan semula kota tersebut?
- A Peluasan kuasa tentera Quraisy
  - B Pembunuhan beberapa orang Bani Khuza'ah
  - C Penguasaan ekonomi oleh orang Yahudi
  - D Penawanan Uthman bin Affan
- 11 Antara berikut, yang manakah sumbangan Khalifah Uthman bin Affan kepada kerajaan Islam Madinah?
- I Membentuk angkatan tentera laut
  - II Memperkenalkan kalendar Islam
  - III Membina empangan, terusan dan tali air
  - IV Membina jalan raya, jambatan dan rumah rehat
- A I dan II
  - B I dan IV
  - C II dan III
  - D III dan IV

*[Lihat halaman sebelah*

- 12 Maklumat berikut berkaitan dengan bandar-bandar utama kerajaan Islam.

<b>Bandar</b>	<b>Kerajaan Islam</b>
Cordova	Bani Umayyah
Baghdad	Bani Abbasiyah

Apakah persamaan bandar-bandar tersebut?

- A Pelabuhan yang strategik
  - B Perusahaan pembuatan barangan
  - C Pusat perdagangan antarabangsa
  - D Pusat perkembangan ilmu
- 13 Sultan Mansur Syah dan Sultan Muzafar Syah telah mengahwinkan puteri-puteri mereka dengan raja Siak, Kampar, Inderagiri dan Jambi di Sumatera Utara.

Mengapakah mereka berbuat demikian?

- A Meningkatkan hubungan perdagangan
  - B Menjalinkan hubungan diplomatik
  - C Mengukuhkan empayar Melaka
  - D Meluaskan penyebaran Islam
- 14 Maklumat berikut berkaitan pengaruh Islam dalam bidang kesusasteraan pada zaman kemuncak kerajaan Melayu Melaka.

- |  |
|--|
| <ul style="list-style-type: none"><li>• Hikayat Amir Hamzah</li><li>• Hikayat Ali Hanafiah</li></ul> |
|--|

Apakah peranan karya tersebut?

- A Mengembangkan ilmu tasawuf Islam
- B Menyebarkan pengaruh kesusasteraan rakyat
- C Merupakan sumber rujukan perundangan Islam
- D Memberi semangat di medan perang

15 Senarai berikut ialah cerita rakyat dalam masyarakat Melayu.

- |  |
|--|
| <ul style="list-style-type: none"><li>• Batu Belah Batu Bertangkup</li><li>• Bawang Merah Bawang Putih</li></ul> |
|--|

Apakah kebaikan cerita tersebut?

- A Meningkatkan kerjasama
  - B Memberi hiburan
  - C Memberi pengajaran
  - D Meningkatkan pengetahuan
- 16 Bagaimanakah Syahbandar membantu perkembangan perdagangan di Melaka pada abad ke-16?

- A Menguatkuasakan Hukum Kanun Melaka
- B Membantu sultan dalam pentadbiran
- C Menjaga urusan kelautan
- D Menjadi ketua pelabuhan

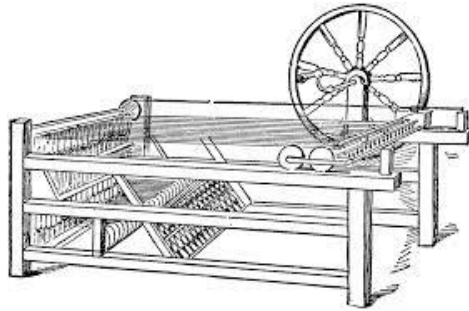
17 Pada abad ke-15, para pelaut Eropah telah mula menjalankan kegiatan penjelajahan dan penerokaan ke Timur.

Apakah faktor yang mendorong kegiatan tersebut?

- A Menguasai pentadbiran tempatan
- B Memperkenalkan tanaman baru
- C Menyebarkan budaya Barat
- D Mendapatkan barangan mewah

*[Lihat halaman sebelah*

- 18 Gambar 2 berkaitan mesin ciptaan John Hargreaves pada zaman Revolusi Perindustrian di Britain.



Gambar 2

- Apakah kegunaan mesin tersebut?
- A Menenun kain  
 B Menjana kuasa  
 C Memintal benang  
 D Menggerakkan kincir
- 19 Jadual 1 berkaitan bilangan sekolah rendah mengikut aliran dalam sistem pendidikan vernakular di Tanah Melayu pada tahun 1938.

Aliran	Sekolah	Pelajar	Guru
Melayu	788	56904	2810
Inggeris	271	41917	2350
Cina	996	86147	3556
Tamil	607	26271	864

Jadual 1

- Apakah kesan pelaksanaan sistem tersebut?
- A Menyukarkan usaha perpaduan kaum  
 B Menaik taraf kehidupan rakyat  
 C Memajukan sistem pendidikan  
 D Meningkatkan perbelanjaan pendidikan

- 20 Peta 1 menunjukkan landasan kereta api yang dibina pada abad ke-20 di Tanah Melayu.



Peta 1

- Apakah kesan pembinaan landasan tersebut?
- A Kemajuan sektor perindustrian  
 B Kewujudan bandar-bandar baru  
 C Perkembangan pusat pentadbiran  
 D Pembukaan tanah baru untuk getah
- 21 Negara China dan India menjadi sasaran imperialisme Barat pada abad ke-19.  
 Mengapakah negara tersebut menjadi sasaran?
- A Kekayaan bahan mentah  
 B Pasaran yang luas  
 C Tanah pamah yang subur  
 D Tenaga kerja yang ramai
- 22 Sistem birokrasi Barat dalam pentadbiran di Thailand telah diperkenalkan oleh Raja Chulalongkorn.  
 Mengapakah beliau memperkenalkan sistem tersebut?
- A Mengukuhkan kuasa raja  
 B Memenuhi tuntutan rakyat  
 C Memelihara kedaulatan negara  
 D Meningkatkan taraf hidup rakyat

[Lihat halaman sebelah



23 Jadual 2 berkaitan dengan pembesar-pembesar tempatan yang menentang British.

Pembesar	Kawasan Pengaruh
Dol Said	Naning
Syarif Masahor	Sungai Rajang
Dato' Bahaman	Temerloh

Jadual 2

Mengapakah ketiga-tiga pembesar tersebut menentang British?

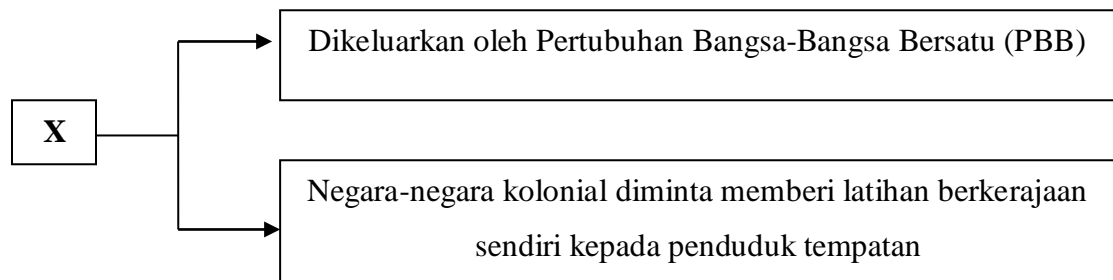
- A British menangkap pengikut-pengikut pembesar  
 B British campur tangan dalam adat istiadat  
 C Pembesar kehilangan kawasan dan pengaruh  
 D Pembesar dipaksa mematuhi undang-undang Barat
- 24 Pasukan Force 136 ditubuhkan dalam kalangan orang Melayu.  
 Apakah tujuan penubuhan pasukan tersebut?
- A Menentang Jepun  
 B Menentang MPAJA  
 C Membantu Bintang Tiga  
 D Menjaga kepentingan British
- 25 Senarai berikut merupakan peristiwa yang berlaku di Barat pada penghujung abad ke-18 dan ke-19.

- |   |
|---|
| <ul style="list-style-type: none"> <li>• Revolusi Inggeris 1688</li> <li>• Revolusi Perancis 1789</li> <li>• Perang Kemerdekaan Amerika 1776</li> </ul> |
|---|

Apakah kesan peristiwa tersebut?

- A Berakhirnya sistem pemerintahan beraja  
 B Bermulanya dasar peluasan kuasa  
 C Pembentukan negara bangsa moden  
 D Pengukuhan sistem pemerintahan feodal

- 26 Apakah tindakan Sultan Muhammad II bagi mengukuhkan kewibawaan baginda di Kelantan?
- A Memperkenalkan sistem monarki
  - B Membentuk Sistem Jemaah Menteri
  - C Menjalin hubungan baik dengan Siam
  - D Menggubal undang-undang negeri
- 27 Rajah 2 merujuk kepada faktor pembentukan Persekutuan Tanah Melayu.



Rajah 2

- Apakah X?
- A Piagam Pasifik 1947
  - B Piagam London 1945
  - C Piagam Atlantik 1945
  - D Piagam PBB 1947
- 28 Mengapakah penyerahan Sarawak kepada British ditentang oleh penduduk tempatan?
- A Bercangah dengan Perlembagaan 1941
  - B Bimbang kehilangan warisan dan budaya
  - C Menggugat kedudukan pembesar tempatan
  - D Menjejaskan hak istimewa peribumi

[Lihat halaman sebelah

- 29 Maklumat berikut berkaitan dengan Persidangan Kebangsaan.

Tahun	Peristiwa
Februari 1953	Penubuhan Persidangan Kebangsaan

Persidangan Kebangsaan ditubuhkan pada bulan Februari 1953.

Apakah tujuan penubuhan persidangan tersebut?

- A Meningkatkan taraf ekonomi penduduk Tanah Melayu
  - B Memupuk kerjasama sosial bagi meningkatkan taraf hidup
  - C Mendapatkan sokongan daripada penduduk Tanah Melayu
  - D Mencapai kerjasama politik bagi memupuk perpaduan
- 30 Gambar 3 ialah tokoh yang berjasa kepada Persekutuan Tanah Melayu.



Gambar 3

Apakah peranan beliau dalam proses untuk mendapatkan kemerdekaan Tanah Melayu?

- A Pengerusi Majlis Gerakan Negara (MAGERAN)
- B Pengerusi Parti Kemerdekaan Tanah Melayu (IMP)
- C Perunding Jawatankuasa Hubungan Antara Kerajaan
- D Perunding dalam tuntutan kemerdekaan di London

- 31 Dialog berikut berkaitan dengan tuntutan rakyat Sarawak dan Sabah.

<p>Tokoh A : Kita perlu menuntut kuasa mengawal hal imigresen</p> <p>Tokoh B : Kita juga perlu mengawal perkhidmatan awam</p> <p>Tokoh C : Tuntutan ini perlu disegerakan</p>
---

Apakah kesan dialog tersebut?

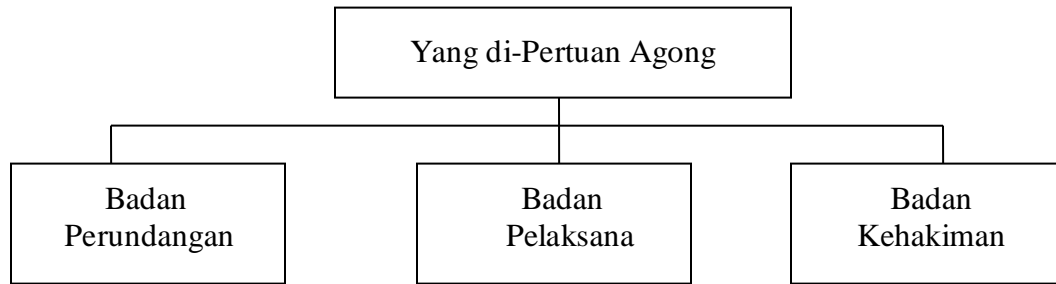
- A Penubuhan Suruhanjaya Cobbold
  - B Penubuhan Suruhanjaya Reid
  - C Pembentukan Malaysia 1963
  - D Perjanjian Persekutuan Tanah Melayu 1957
- 32 Parti Rakyat Brunei (PRB) pimpinan A.M Azahari menentang Brunei menyertai Malaysia.

Apakah alasan penentangan tersebut?

- I Menganggap penubuhan Malaysia sebagai neokolonialisme
  - II Berhasrat untuk menubuhkan Persekutuan Borneo
  - III Enggan berkongsi kekayaan hasil minyak
  - IV Menolak sistem Raja Berperlembagaan
- A I dan II
  - B I dan IV
  - C II dan III
  - D III dan IV

*[Lihat halaman sebelah*

33 Rajah 3 merujuk kepada sistem pemerintahan negara Malaysia.



Rajah 3

Apakah ciri penting dalam pemerintahan tersebut?

- A Negara mengamalkan konsep pengasingan kuasa
- B Yang di-Pertuan Agong berkuasa mentadbir negara
- C Mahkamah membentuk sistem perundangan negara
- D Perdana Menteri melantik pegawai perkhidmatan awam

34 Gambar 4 menunjukkan Jata Negara Malaysia.



Gambar 4

Apakah yang dilambangkan oleh lima bilah keris pada perisai dalam jata tersebut?

- A Negeri-negeri Melayu Tidak Bersekutu
- B Keberanian rakyat Malaysia
- C Islam agama rasmi negara
- D Hak istimewa Melayu

- 35 Pada tahun 1958, Encik Sulaiman ingin mengusahakan tanaman pisang secara kecil-kecilan, tetapi tidak mempunyai sumber modal yang cukup. Berdasarkan pernyataan tersebut, apakah agensi kerajaan yang boleh membantu Encik Sulaiman?
- A Lembaga Pertubuhan Peladang (LPP)
  - B Lembaga Pembangunan Industri Desa (RIDA)
  - C Lembaga Pemasaran Pertanian Persekutuan (FAMA)
  - D Institut Penyelidikan dan Kemajuan Pertanian (MARDI)
- 36 Rancangan Malaya Pertama bermatlamat membangunkan kawasan luar bandar. Bagaimanakah matlamat tersebut dapat dicapai?
- I Menyatukan penduduk luar bandar
  - II Membuka kawasan pertanian baru
  - III Menyediakan kemudahan pinjaman
  - IV Menghapuskan cukai tanaman
- A I dan II
  - B I dan IV
  - C II dan III
  - D III dan IV
- 37 Pernyataan berikut adalah cabaran keempat Wawasan 2020.

Mewujudkan masyarakat yang bermoral dan beretika

Apakah langkah yang perlu diambil untuk mengatasi cabaran tersebut?

- A Memastikan kestabilan politik
- B Mengukuhkan kedudukan ekonomi
- C Menguasai bidang sains dan teknologi
- D Melaksanakan sistem pendidikan berkesan

*[Lihat halaman sebelah*

- 38 Archduke Franz Ferdinand yang merupakan pewaris takhta Austria – Hungary dan isterinya telah dibunuh pada 28 Jun 1914 oleh seorang pengganas Serbia.

Apakah kesan peristiwa tersebut?

- A Pembentukan Perikatan Kuasa Tengah
  - B Penubuhan Liga Bangsa
  - C Perang Dunia Pertama
  - D Perang Dunia Kedua
- 39 Maklumat di bawah berkaitan dengan dasar luar Malaysia.

- Pertubuhan Komanwel
- Pertubuhan Bangsa-bangsa Bersatu
- Pergerakan Negara-Negara Berkecuali

Mengapakah Malaysia menentang dasar apartied di Afrika Selatan?

- A Memiliknegarakan pelaburan negara luar
- B Menutup pejabat kedutaan negara asing
- C Menyalahgunaan hak asasi manusia
- D Mencetuskan ketegangan antara negara

- 40 Peta 2 menunjukkan negara-negara anggota Persatuan Negara-Negara Asia Tenggara (ASEAN).



Peta 2

Apakah matlamat penubuhan ASEAN?

- A Mengekalkan kestabilan politik di rantau Asia Tenggara
- B Mengurangkan pergantungan kepada negara-negara maju
- C Memberi bantuan kepada negara-negara Islam yang bermasalah
- D Memberi bantuan ketenteraan kepada negara-negara di Asia Tenggara

**KERTAS SOALAN TAMAT**