



KEHATTAHAN
PENDIDIKAN
MELAKTIA
Jabatan Pendidikan Negeri Terengganu



**MODUL
PERKEMBANGAN PEMBELAJARAN
SPM 2020**

MPP 3

**EKONOMI
KERTAS 1**

Nama :

Kelas :

DISEDIAKAN OLEH PANEL AKRAM NEGERI TERENGGANU

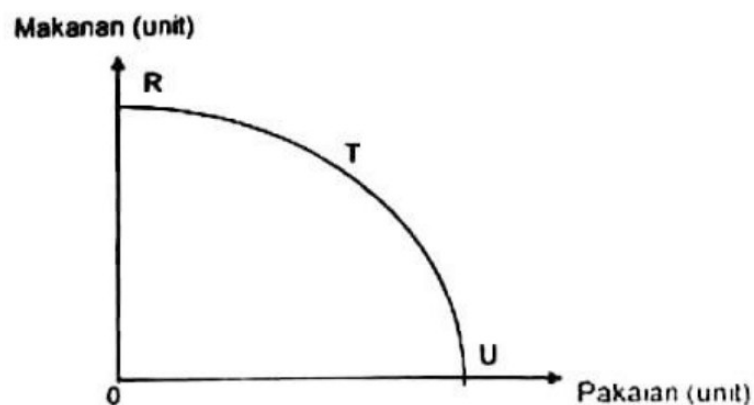
Jualah dibenarkan memuatkan atau menyalin mana-mana bahagian dalam modul ini
tanpa kebenaran Pegawai Pendidikan Negeri Terengganu

- 1 Ilmu ekonomi mengkaji tentang bagaimana manusia
 - A menggunakan wang bagi meningkatkan tabungan masa depan
 - B menyeimbangkan pelbagai kehendak dengan sumber ekonomi yang ada
 - C mengurangkan jurang perbezaan antara golongan kaya dengan golongan miskin
 - D menghasilkan keluaran dengan menggunakan faktor pengeluaran secara maksimum
- 2 Gambar berikut menunjukkan sejenis faktor pengeluaran.



Pernyataan manakah yang menggambarkan faktor pengeluaran tersebut?

- A Input produktif yang dicipta oleh manusia yang membantu dalam proses pengeluaran
 - B Berperanan menyelaras dan menggabungkan faktor pengeluaran
 - C Sumber semulajadi yang mempunyai penawaran terhad
 - D Membenarkan orang lain menjuruskan untungnya
- 3 Rajah berikut menunjukkan keluk kemungkinan pengeluaran Firma MN.



Apakah yang berlaku pada titik R, T dan U?

- A Tingkat teknologi tidak mencukupi
- B Ekonomi tidak mencapai guna tenaga penuh
- C Tidak berlaku masalah kos lepas dalam membuat pilihan
- D Berlaku kecekapan ekonomi dalam mengeluarkan makanan dan pakaian

- 4 Maklumat berikut berkaitan dengan penyelesaian masalah asas ekonomi oleh Syarikat SLL.

- Mengeluarkan barang dengan cara memaksimumkan keuntungan dan meminimumkan kos
- Bergantung kepada corak agihan pendapatan

Antara berikut, masalah asas ekonomi manakah yang dapat diselesaikan oleh Syarikat SLL ?

- I Apa yang hendak dikeluarkan
 - II Bagaimana hendak dikeluarkan
 - III Untuk siapa hendak dikeluarkan
 - IV Berapa yang hendak dikeluarkan
- A I dan II
B I dan III
C II dan III
D III dan IV
- 5 Maklumat berikut berkaitan dengan ciri sistem ekonomi sebuah negara.

- Persaingan bebas antara firma
- Kawalan oleh kerajaan melalui sistem cukai dan subsidi

Negara tersebut mengamalkan sistem ekonomi

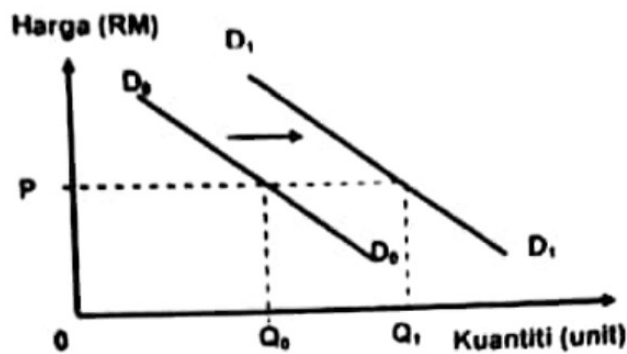
- A perancangan pusat
 - B campuran
 - C kapitalis
 - D Islam
- 6 Jadual berikut menunjukkan permintaan Zainab dan Abim terhadap suatu barang.

| Harga (RM) | Kuantiti diminta (unit) | |
|------------|-------------------------|------|
| | Zainab | Abim |
| 2 | 15 | 18 |
| 4 | 6 | 12 |
| 6 | 2 | 7 |

Berapakah permintaan pasaran pada tingkat harga RM2?

- A 9 unit
- B 18 unit
- C 23 unit
- D 33 unit

- 7 Rajah berikut menunjukkan keluk permintaan bagi suatu barang

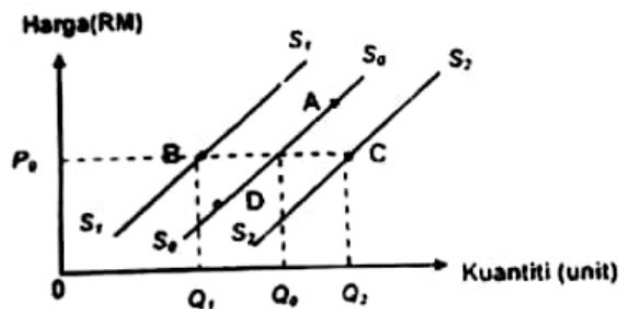


Mengapakah berlaku perubahan keluk D_0D_0 ke D_1D_1 ?

- A Harga barang itu meningkat
 - B Pendapatan pengguna menurun
 - C Harga barang pengganti menurun
 - D Jangkaan harga akan meningkat pada masa depan
- 8 Situasi berikut berkaitan dengan satu penentu penawaran rumah.

Tingkat teknologi meningkat

Titik koordinat yang manakah menunjukkan kesan perubahan penentu penawaran tersebut?



- 9 Jadual berikut menunjukkan permintaan dan penawaran buah manggis di pasaran.

| Harga (RM) | Permintaan (kg) | Penawaran (kg) |
|------------|-----------------|----------------|
| 25 | 10 | 40 |
| 15 | 20 | 30 |
| 10 | 30 | 20 |
| 5 | 40 | 15 |

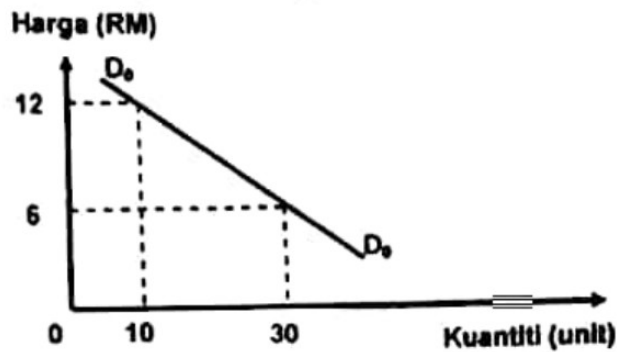
Pilih pernyataan yang benar

- A Pada tingkat harga RM5, berlaku lebih permintaan sebanyak 25 kg
- B Pada tingkat harga RM10, berlaku lebih penawaran sebanyak 10 kg
- C Penawaran terhadap manggis meningkat sebanyak 9 kg apabila harga naik dari RM15 ke RM25
- D Permintaan terhadap manggis meningkat sebanyak 10 kg apabila harga turun dari RM15 ke RM5

10 Andaikan bahawa pasaran bagi barang A berada di tahap keseimbangan. Jika citarasa barang A menurun, apakah yang akan berlaku pada titik keseimbangan yang baharu?

- A Penurunan harga dan kuantiti
- B Peningkatan harga dan kuantiti
- C Peningkatan harga dan penurunan kuantiti
- D Penurunan harga dan peningkatan kuantiti

11 Rajah berikut menunjukkan keluk permintaan suatu barang.



Berapakah nilai keanjalan harga permintaan apabila harga berubah dari RM6 ke RM12?

- A 0.67
- B 0.75
- C 1.33
- D 1.50

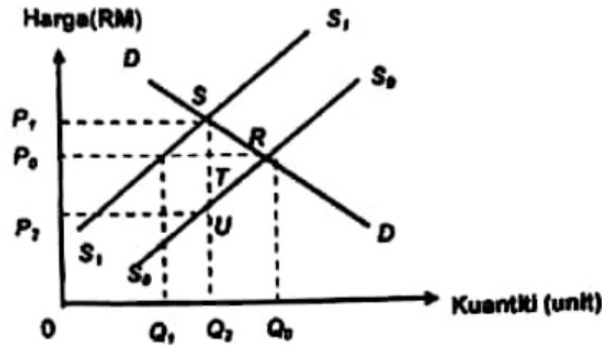
12 Jadual berikut menunjukkan peratus perubahan harga dan peratus perubahan kuantiti bagi penawaran Barang X dan Barang Y.

| Barang | Peratus perubahan Harga (%) | Peratus perubahan Kuantiti (%) |
|--------|-----------------------------|--------------------------------|
| X | 50 | 35 |
| Y | 40 | 60 |

Maklumat manakah yang betul tentang barang tersebut?

- A Peratus perubahan kuantiti lebih kecil daripada peratus perubahan harga bagi barang Y
- B Pekali keanjalan Barang X ialah kurang daripada 1
- C Jenis keanjalan Barang Y ialah tak anjal
- D Keluk penawaran Barang X lebih landai

- 13 Rajah berikut menunjukkan keluk permintaan (DD) dan keluk penawaran (SS) pasaran motosikal sebelum (S_0, S_0') dan selepas pengenalan cukai oleh kerajaan (S_1, S_1').



Apakah kesan pengenalan cukai oleh kerajaan?

- I Cukai per unit ialah P_1P_0
 - II Beban pengguna sebanyak P_1P_2SR
 - III Beban pengeluar sebanyak P_0P_2TU
 - IV Jumlah cukai ialah sebanyak P_2P_1SU
- A I dan II
 B I dan IV
 C II dan III
 D III dan IV
- 14 Seorang petani menjual hasil pertaniannya di pasar tani. Dengan pendapatan yang diperoleh, petani tersebut telah membeli lima kilogram beras.
- Apakah fungsi wang tersebut?
- A Alat ukuran nilai
 - B Alat simpanan nilai
 - C Alat bayaran tertunda
 - D Alat perantaraan pertukaran
- 15 Bagaimanakah cara bank pusat menstabilkan nilai Ringgit Malaysia?
- I Campur tangan dalam pasaran pertukaran asing (FOREX)
 - II Mengeluarkan wang negara iaitu wang kertas dan duit syiling
 - III Memperuntukkan sandaran minimum 80.59% dalam bentuk emas dan nzab antarabangsa
 - IV Memberi pendahuluan sementara kepada kerajaan apabila kerajaan mengalami masalah kekurangan wang
- A I dan II
 B I dan III
 C II dan IV
 D III dan IV

- 16 Apakah kelebihan menggunakan overdraf dalam sesuatu urusan niaga?
- A Boleh mengeluarkan wang tanpa had
 - B Pendeposit di bank perdagangan layak ditawarkan kemudahan ini
 - C Dapat digunakan oleh peniaga yang menghadapi masalah aliran tunai
 - D Faedah yang dikenakan tidak tertakluk terhadap wang yang dikeluarkan
- 17 Maklumat berikut berkenaan dengan sektor ekonomi di Malaysia.

Melibatkan pengeluaran secara langsung daripada alam semulajadi tanpa mengubah suai bentuk barang.

Gambar yang manakah sesuai dengan maklumat tersebut.



- 18 Bagaimanakah individu boleh menggunakan pendapatan boleh gunanya?
- A Membuat caruman PERKESO
 - B Membayar cukai pendapatan
 - C Membuat caruman KWSP
 - D Membayar insuran nyawa
- 19 Maklumat di bawah berkaitan dengan upah wang dan tiga barang di pasaran.

| Upah Wang (RM) | Harga Barang X (RM) | Harga Barang Y (RM) | Harga Barang Z (RM) |
|----------------|---------------------|---------------------|---------------------|
| 6000 | 8.00 | 10.00 | 12.00 |

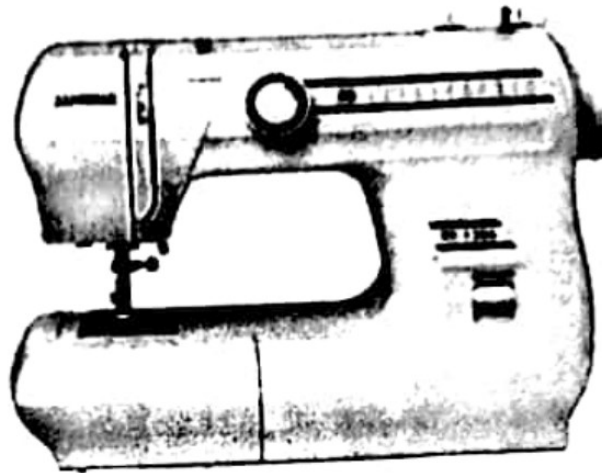
Apakah yang akan terjadi jika harga purata barang berubah kepada RM20.00?

- A Tabungan meningkat
- B Upah benar meningkat
- C Kuasa beli pengguna berkurang
- D Pendapatan boleh guna meningkat

20 Antara yang berikut, manakah merupakan faedah sampingan?

- I Cuti bersalin
 - II Jaminan kerja
 - III Elaun perumahan
 - IV Tempat kerja yang selesa dan selamat
- A I dan II
 - B I dan III
 - C II dan IV
 - D III dan IV

21 Gambar berikut menunjukkan sejenis faktor pengeluaran.



Pemyataan manakah yang tepat berkenaan faktor pengeluaran tersebut?

- A Wujud dalam jangka masa pendek sahaja
- B Kuantitinya berubah mengikut perubahan output
- C Tidak wujud pada tingkat pada tingkat keluaran sifar
- D Pembayaran ke atas input dikenali sebagai kos berubah

22 Jadual berikut menunjukkan kos pengeluaran sebuah firma.

| Jumlah Keluaran (unit) | Kos Tetap (RM) | Kos Berubah (RM) |
|------------------------|----------------|------------------|
| 6 | 30 | 21 |
| 7 | 30 | 26 |
| 8 | 30 | 30 |

Berapakah kos purata pada keluaran ke 8?

- A RM7.00
- B RM7.50
- C RM8.00
- D RM8.50

- 23 Maklumat berikut menunjukkan kos pengeluaran buku dalam masa seminggu oleh firma Q.

| | | |
|-------------|---|--------|
| Kos Tetap | = | RM500 |
| Kos Berubah | = | RM 300 |
| Kos Purata | = | RM 20 |

Berapakah jumlah output yang dihasilkan?


- A 30 unit
 B 40 unit
 C 50 unit
 D 80 unit
- 24 Antara berikut, faktor manakah yang mempengaruhi produktiviti?
- I Modal yang tinggi
 II Peningkatan kualiti sumber insan
 III Kualiti bahan mentah yang rendah
 IV Penyelenggaraan dan pemeriksaan yang kurang teliti
- A I dan II
 B I dan III
 C II dan IV
 D III dan IV
- 25 Gambar di bawah berkaitan dengan perkhidmatan kerajaan.



Apakah matlamat utama kerajaan menyediakan perkhidmatan tersebut?

- A Menjana pendapatan negara
 B Memonopoli pasaran negara
 C Memaksimumkan kebajikan masyarakat
 D Menjaga kestabilan harga barangan di pasaran
- 26 Tenaga Nasional Berhad di Malaysia dianggap sebagai syarikat monopoli semula jadi kerana
- A dimiliki oleh sektor swasta
 B disenaraikan di Bursa Saham
 C mengenakan harga yang tinggi
 D menanggung kos modal yang tinggi

27. Mengapakah kerajaan ingin mencapai objektif tingkat guna tenaga penuh?
- I Mencapai kecekapan peruntukan sumber ekonomi
 - II Memaksimumkan jumlah kapasiti pengeluaran
 - III Menurunkan kuasa beli masyarakat
 - IV Mengurangkan daya saing negara
- A I dan II
 - B I dan IV
 - C II dan III
 - D III dan IV
28. Manakah yang menyebabkan berlakunya inflasi tolakan kos?
- A Pertambahan kos bahan api
 - B Pengembangan kredit bank perdagangan
 - C Peningkatan dalam perbelanjaan kerajaan
 - D Peningkatan dalam perbelanjaan penggunaan
29. Pemyataan manakah yang berkaitan dengan cukai langsung?
- A Koperasi SMAAF Berhad membayar cukai atas keuntungannya
 - B Syarikat Anda Hebak Berhad dikenakan cukai jualan dan perkhidmatan
 - C Puan Hasmah membayar cukai kepada Jabatan Kastam Diraja Malaysia
 - D Syarikat Haiza Berhad dikenakan denda kerana melanggar undang-undang
30. Bagaimanakah dasar kewangan mengatasi masalah "terlalu banyak wang mengejar sedikit barang" dalam ekonomi?
- I Menaikkan kadar cukai
 - II Menaikkan kadar faedah
 - III Menjual surat jaminan kerajaan
 - IV Menaikkan perbelanjaan kerajaan
- A I dan II
 - B I dan IV
 - C II dan III
 - D III dan IV
31. Rajah di bawah merupakan beberapa buah syarikat di dunia.



Apakah X ?

- A Syarikat Sendirian Berhad
- B Syarikat Multinasional
- C Syarikat Kerajaan
- D Syarikat Koperasi

32 Antara berikut, yang manakah merupakan faktor yang mempengaruhi globalisasi?

- A kenaikan taraf perintis
- B perkembangan ekonomi
- C perkembangan teknologi maklumat
- D kenaikan kadar pertukaran mata wang asing

33 Maklumat yang berikut berkaitan dengan sebab wujudnya perdagangan antarabangsa.

New Zealand mengeluarkan dan mengeksport buah Anggur ke Malaysia.

Apakah faktor tersebut?

- A Harga faktor
- B Iklim dan tanah
- C Sumber semula jadi
- D Tingkat kecekapan pengeluaran

34 Antara yang berikut manakah merupakan tujuan kerajaan mengenakan tarif terhadap barang import?

- A Menggalakkan penawaran barang import
- B Memperbaiki imbalan pembayaran
- C Meningkatkan kadar pengangguran
- D Mengurangkan pendapatan negara

36 Jadual di bawah menunjukkan kadar pertukaran antara Ringgit Malaysia (RM) dengan Dolar Australia (Aud)

| Mata wang | Harga belian (RM) | Harga jualan (RM) |
|-----------|-------------------|-------------------|
| 1 Aud | 2.6571 | 2.9571 |

Seorang pelancong Australia ingin menukarkan 400 Aud kepada Ringgit Malaysia. Berapakah Ringgit Malaysia yang diterima oleh pelancong tersebut?

- A RM150.54
- B RM135.27
- C RM1,182.84
- D RM1,162.85

Pilihan jawapan bagi Soalan 36 hingga Soalan 40 berdasarkan jadual berikut

| Pilihan | Pernyataan I | Pernyataan II |
|---------|--------------|---------------|
| A | Betul | Salah |
| B | Salah | Betul |
| C | Salah | Salah |
| D | Betul | Betul |

- 36 I Firma menghadapi masalah kekurangan faktor pengeluaran untuk mengeluarkan barang dan perkhidmatan.
II Firma membuat pilihan untuk memaksimumkan kepuasan.
- 37 I Sektor utama melibatkan aktiviti pemprosesan barang.
II Contoh pekerjaan sektor ketiga ialah nelayan.
- 38 I Eksternaliti ialah kos atau faedah yang tidak diambil kira dalam pengeluaran dan penggunaan sesuatu barang dan perkhidmatan.
II Contoh kos sosial ialah pembakaran sampah secara terbuka.
- 39 I Inflasi tarikan permintaan disebabkan oleh peningkatan permintaan agregat dalam ekonomi.
II Kerajaan melalui alat dasar belanjawan mengatasi inflasi dengan menaikkan kadar faedah pinjaman
- 40 I Pengangguran merupakan penunjuk ekonomi yang mengukur peratus penganggur dalam kalangan tenaga buruh yang sedia ada dalam sesebuah negara
II Pengangguran menyebabkan pendapatan negara sebenar lebih daripada pendapatan negara potensi

KERTAS SOALAN TAMAT