

1. Gambar 1 menunjukkan produk yang dikeluarkan oleh Perniagaan Basyirah Entp.



Gambar 1

Apakah yang menerangkan sifat produk tersebut?

- A. Di perlukan untuk hidup selesa
 - B. Direka bentuk dengan pelbagai fesyen
 - C. Perlu dimiliki dengan harga yang tinggi
 - D. Merupakan objek yang dapat dilihat dan disentuh
2. Antara berikut, yang manakah merupakan aktiviti perniagaan berasaskan perkhidmatan?
- I. Perbankan
 - II. Pembuatan
 - III. Pembalakan
 - IV. Pengangkutan
- A. I dan II
 - B. I dan IV
 - C. II dan III
 - D. III dan IV
3. Maklumat berikut merujuk kepada suatu bentuk pemilikan perniagaan



Gambar 2

Apakah peranan Francaisi dalam pemilikan perniagaan diatas?

- A. Menjalankan aktiviti perniagaan mengikut peraturan dan sistem piawai yang telah ditetapkan
- B. Memberi hak untuk menggunakan imej serta jenama
- C. Memyediakan bantuan modal permulaan
- D. Membantu melaksanakan pengiklanan

4. Maklumat berikut berkaitan Batrisyia Seramik

Pengilangan	
Jumlah Jualan tahunan	Bilangan Pekerja Tetap
17 juta	80 orang

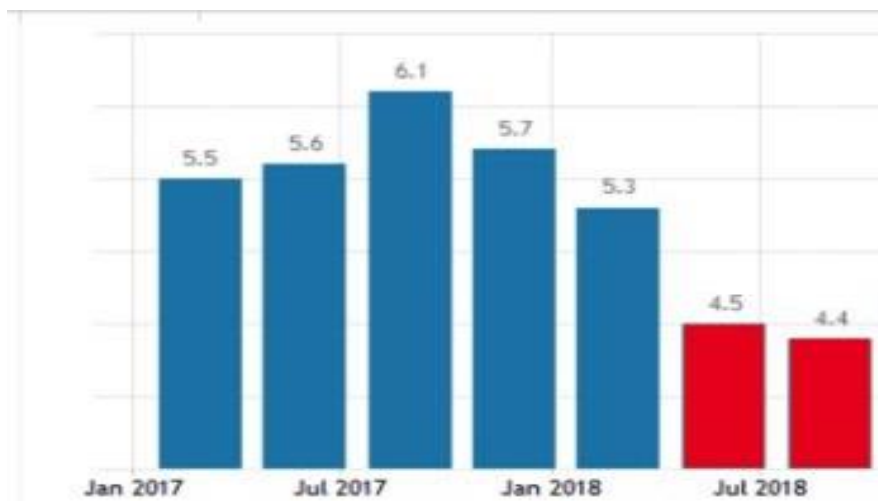
Saiz perniagaan Syarikat Batik Indah ialah..

- A. Kecil
- B. Sederhana
- C. Mega
- D. Besar

5. Jenis pelepasan cukai berbentuk Pengecualian Cukai di berikan kepada...

- A. Syarikat yang menyertai promosi anjuran kerajaan
- B. Perniagaan berasaskan pengeluaran bahan mentah tempatan
- C. Syarikat berstatus MSC dan terlibat dalam industri teknologi tinggi
- D. Syarikat yang terlibat dalam perniagaan pengeluaran makanan dan pembinaan

6. Rajah 1 menunjukkan Trend persekitaran perniagaan bagi sebuah negara



Rajah 1

Mengapakah berlaku keadaan demikian pada negara tersebut?

- A. Gaya pengurusan yang cekap
- B. Pasaran Ekonomi yang mengembang
- C. Sistem politik dan perundangan yang stabil
- D. Pengeluaran yang tidak mencukupi untuk memenuhi permintaan

7. Gambar berkaitan dengan situasi Pasaran perniagaan

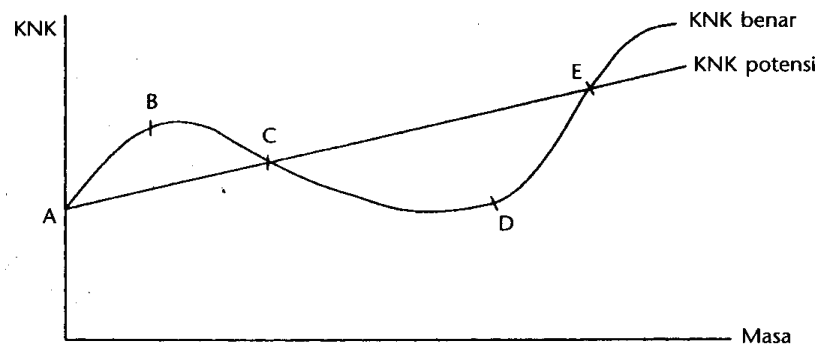


Gambar 3

Pasaran kewangan ialah...

- Pasaran yang mengeluarkan produk untuk ditawarkan kepada semua pengguna
- Pasaran yang berkaitan dengan permintaan dan penawaran semua jenis produk
- Suatu keadaan yang berlakunya proses jual beli antara penjual dengan pembeli terhadap sesuatu produk
- Berkaitan dengan proses jual beli saham dan sekuriti, pertukaran wang asing, pinjaman serta proses perlaburan.

8. Graf kitaran ekonomi untuk tahun 2018



Rajah 2

Apakah kesan yang menyebabkan berlakunya "D"

- Penduduk tidak mempunyai wang untuk berbelanja
- Kadar pengangguran meningkat
- Pendapatan negara naik
- Mampu membayar gaji

- I dan II
- I dan IV
- II dan III
- III dan IV

9. Undang-undang yang di titikberatkan dalam perniagaan

- **Perniagaan perlu mengeluarkan produk yang sesuai dengan tujuan penggunaan seperti makanan yang tidak mengandungi pengawet yang boleh menjejaskan kesihatan**

Petikan diatas dapat dikaitkan dengan

- A. Undang-undang Pengiklanan
- B. Undang-undang Persekitaran
- C. Undang-undang Perlindungan pengguna
- D. Undang-undang kesihatan dan keselamatan

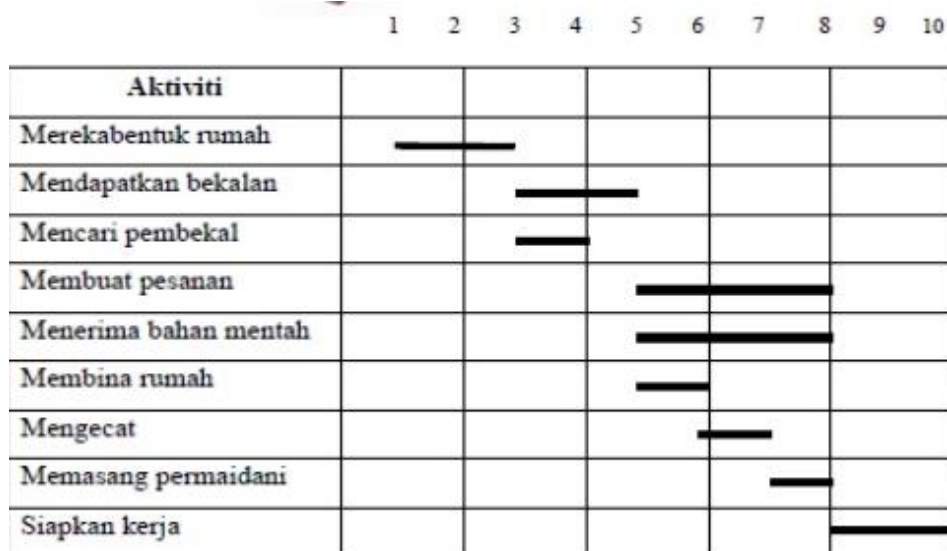
10. Manakah pasangan yang betul

A	Kekuatan	Kelebihan yang diperolehi kesan daripada perubahan persekitaran luaran perniagaan
B	<i>Kelemahan</i>	<i>Sumber tenaga, kepakaran serta bahan mentah yang kurang</i>
C	Ancaman	Perubahan persekitaran luaran yang jejakkan perniagaan
D	Peluang	Keupayaan dan kemampuan untuk terus bersaing

11. Apakah kesan perubahan dari aspek teknologi maklumat

- A. Kaedah pengagihan barang dan perkhidmatan menjadi cekap dan teratur
- B. Pelbagai program berkaitan perniagaan diterapkan dalam sistem pendidikan
- C. Perbezaan kelas sosial dan gaya hidup membuka peluang menembusi pasaran
- D. Sekatan dikenakan keatas barang import untuk melindungi dan menjaga kepentingan peniaga tempatan

12. Carta gantt projek membina sebuah rumah



Rajah 3

Manakah huraian yang tepat tentang carta gantt diatas?

- A. Aktiviti membina sebuah rumah mengambil masa lapan bulan
- B. Proses mendapatkan bekalan mengambil masa tiga bulan
- C. Mereka bentuk rumah memerlukan masa dua bulan
- D. Aktiviti mengecat bermula dari bulan keempat

13. Antara berikut, yang manakah berkaitan dengan objektif perniagaan?

- I. Matlamat yang ingin dicapai oleh organisasi
- II. Boleh dicapai dalam jangka masa yang pendek
- III. Sesuatu yang memberikan inspirasi kepada pekerja
- IV. Terdiri daripada objektif korporat dan objektif fungsian

- A. I dan II
- B. I dan IV
- C. II dan III
- D. III dan IV

14. Maklumat berikut telah disediakan oleh seorang akauntan sebuah syarikat bagi menentukan pengeluaran unit bola sepak

Sewa kedai	RM 20000.00
Harga seunit bola	RM 150.00
Kos berubah seunit bola	RM 100.00

Berapakah unit bola sepak perlu dikeluarkan untuk capai TPM?

- A. 300
- B. 400
- C. 500
- D. 600

15. Apakah kesan kegagalan mencapai matlamat dan objektif perniagaan?

- A Kualiti produk terjejas
- B *Gagal dalam persaingan*
- C Produktiviti pekerja menurun
- D Pengeluaran produk berkurang

16. Mengapakah perniagaan yang gagal mendapat keuntungan akan mengalami kesukaran dalam mengembangkan perniagaannya?

- A. Motivasi pekerja akan terjejas
- B. Imej produk terjejas di mata pengguna
- C. Tidak dapat meningkatkan operasi perniagaan
- D. Terpaksa mengurangkan harga jualan semasa barang

17. Gambar dibawah adalah berkaitan dengan teknologi maklumat



Gambar 4

Bagaimanakah pengguna teknologi maklumat dapat mengintegrasikan bahagian-bahagian fungsian?

- A. Mengurangkan gangguan dalam komunikasi
- B. Maklumat dapat disampaikan dengan pantas dan tepat
- C. Meningkatkan komunikasi antara majikan dengan pekerja
- D. Maklumat perniagaan dapat dihantar dengan mudah dan cepat

18. Maklumat berikut berkaitan dengan dengan satu bahagian fungsian

- Menguruskan rekod
- Mengendalikan mesyuarat
- Menjalankan urusan dalam organisasi

Apakah bahagian fungsian yang bertanggungjawab dengan perkara diatas

- A. Kewangan
- B. Pentadbiran
- C. Sumber manusia
- D. Khidmat pelanggan

19. Apakah kepentingan yang diperoleh oleh peniaga yang berinteraksi dengan organisasi luar?

- I. Matlamat yang ingin dicapai oleh organisasi
- II. Boleh dicapai dalam jangka masa yang pendek
- III. Sesuatu yang memberikan inspirasi kepada pekerja
- IV. Terdiri daripada objektif korporat dan objektif fungsian

- A. I dan II
- B. I dan IV
- C. II dan III
- D. III dan IV

20. Gambar dibawah berkaitan dengan satu sektor perniagaan



Gambar 5

Apakah saluran agihan yang sesuai dengan gambar diatas

- A. Pengeluar → Pemborong → Peruncit → Pengguna
- B. Pengeluar → Ejen → Peruncit → Pengguna
- C. Pengeluar → Peruncit → Pengguna
- D. Pengeluar → Pengguna

21. Antara berikut yang manakah kepentingan sumber manusia kepada sesebuah organisasi perniagaan

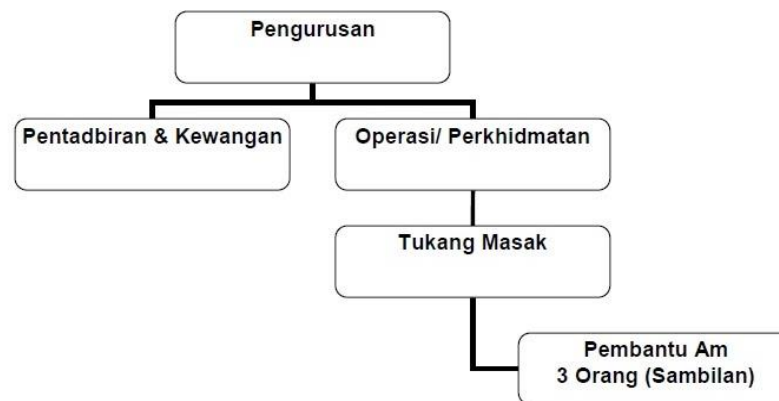
- I. Memastikan pekerja mendapat latihan yang secukupnya
- II. Menjaga sistem komunikasi agar berfungsi dengan baik
- III. Memastikan bahan mentah sentiasa cukup
- IV. Kebajikan pekerja sentiasa dijaga

- A. I dan II
- B. I dan IV
- C. II dan III
- D. III dan IV

22. Mengapakah kemahiran kebolehankerja perlu ada pada seorang bakal Graduan?

- A. Dapat berinteraksi dan berkomunikasi dengan baik
- B. Boleh membuat perancangan dan mengurus diri
- C. Menarik minat syarikat menawarkan kerja
- D. Berkebolehan untuk selesaikan masalah

23. Struktur organisasi sebuah Perniagaan Makanan Panas



Apakah kepentingan struktur organisasi pada sesebuah perniagaan

- A. Dapat mewujudkan rantai arahan dan komunikasi
 - B. Mewujudkan tempat kerja yang kondusif
 - C. Memudahkan proses ambil pekerja
 - D. Memberi insentif kepada pekerja
24. Syarikat Penfilman Amsyar memohon hak cipta terpelihara bagi film yang ditayangkan. Mengapakah syarikat tersebut berbuat demikian?
- A. Mendapat kebenaran untuk memberi diskaun
 - B. Mendapat hak perundangan ke atas hasil karya mereka
 - C. Mendapat bantuan dari pihak kerajaan untuk karya tersebut
 - D. Mendapat kelulusan untuk buat promosi dan tayangan di luar negara
25. Antara yang berikut manakah diklafikasikan sebagai harta intelek?
- I. Lagu
 - II. Kamera
 - III. Komputer
 - IV. Perisian Komputer
- A. I dan II
 - B. I dan IV
 - C. II dan III
 - D. III dan IV

26. Di bawah adalah sumber yang digunakan dalam perniagaan



Bagaimanakah sesebuah perniagaan menguruskan sumber tersebut?

- I. Memohon hak cipta terpelihara
- II. Mendapatkan perlindungan insuran
- III. Membuat penyelenggaraan dan baik pulih secara terancang
- IV. Membuat pendaftaran dengan Perbadanan Harta Intelek Malaysia(MyIPO)

- A. I dan II
- B. I dan IV
- C. II dan III
- D. III dan IV

27. Manakah yang berkaitan dengan petikan di bawah

“Seseorang usahawan menggunakan sesebuah mesin atau jentera dengan cara menyewa daripada bank atau intitusi kewangan bagi tempoh tertentu”

Jenis sumber pembiayaan manakah yang berkaitan dengan petikan di atas?

- A. Syer
- B. Modal
- C. Pajak
- D. Sewa beli

28. Apakah faktor yang perlu dipertimbangkan oleh pihak bank sebelum meluluskan sesuatu pinjaman.

- I. Tempat operasi
- II. Nama perniagaan
- III. Nilai aset sebagai cagaran
- IV. Tempoh bayaran balik pinjaman

- A. I dan II
- B. I dan IV
- C. II dan III
- D. III dan IV

29. Pembiayaan hutang oleh pihak bank atau intitusi kewangan terhadap invoice dikenali sebagai

- A. Pinjaman perniagaan
- B. Pemfaktoran
- C. Overdraf
- D. Pajakan

30. Penyataan manakah yang berkaitan dengan Kos Jualan?

- A. Jumlah jualan barangan dan perkhidmatan ditolak dengan pulangan jualan
- B. Merupakan kos barang yang dibeli oleh sesorang peniaga
- C. Merupakan kos dan belanja untuk membeli barang niaga
- D. Merupakan kos yang dibayar dalam perniagaan

31. Maklumat berkaitan dengan Perniagaan Cik Mai Sate pada 31 Disember 2019

Perkara	Jumlah (RM)
Modal	40000.00
Aset Semasa	15200.00
Liabiliti Semasa	9800.00

Hitung nisbah semasa Perniagaan Cik Mai Sate

- A. 1.55 : 1
- B. 1.46 : 1
- C. 2.01 : 1
- D. 2.21 : 1

32. Maklumat berikut berkaitan dengan Nisbah untung Syarikat My Hero's

Nisbah	Tahun	
	2018	2019
Peratusan Margin Untung Kasar	60%	45%

Apakah yang dapat dirumuskan berdasarkan maklumat diatas?

- I. Syarikat tidak cekap menguruskan penghutang syarikat
- II. Syarikat kurang cekap dalam penentapan harga jualan
- III. Perbelanjaan kos jualan tidak diurus dengan baik
- IV. Kos belian menurun pada tahun 2019

- A. I dan II
- B. I dan IV
- C. II dan III
- D. III dan IV

33. Maklumat berikut berkaitan dengan Penyata Aliran Tunai Syarikat Bang Chik Etp.

Perkara	Nilai (RM)
Baki Awal	(250)
Penghutang	250
Pemiutang	300
Jualan tunai	450
Pinjaman	250

Kira baki akhir....

- A. RM 700
- B. RM 500
- C. RM 350
- D. RM 250

34. Penyata Pendapatan Perniagaan Boboy Food Truck pada 31 Disember 2019

Perkara	Jumlah (RM)
Jualan	RM 24000.00
Kos jualan	RM 8000.00
Untung Bersih	RM 9000.00
Belanja Operasi	RM 7000.00

Kira nilai untung kasar berdasarkan penyata di atas

- A. RM 10,000
- B. RM 13,000
- C. RM 15,000
- D. RM 16,000

35. Antara berikut yang manakah kepentingan penyata kewangan disediakan?

- I. Menunjukkan kedudukan kewangan perniagaan
- II. Menilai kekuatan yang ada pada perniagaan
- III. Mengukur kemampuan perniagaan
- IV. Mengukur prestasi perniagaan

- A. I dan II
- B. I dan IV
- C. II dan III
- D. III dan IV

36. Antara berikut yang manakah berkaitan dengan sifat berani mengambil risiko sebagai seorang usahawan?

- A. Mempunyai semangat untuk bekerja dalam satu pasukan bagi mencapai matlamat perniagaan
- B. Mengambil suatu tindakan untuk memulakan perniagaan yang belum pasti berjaya
- C. Berupaya mengubahsuai sesuatu produk yang sedia ada
- D. Berkemampuan menghasilkan produk baharu

37. Menagapakah kerjaya sebagai ahli perniagaan boleh mendatangkan faedah kepada matlamat peribadi seseorang usahawan?
- Dapat melaksanakan tanggungjawab social perniagaan
 - Menyediakan pelbagai peluang pekerjaan kepada masyarakat
 - Memberi kebebasan mutlak untuk mengurus diri serta ahli keluarga
 - Boleh menghasilkan pelbagai produk yang dapat memenuhi keperluan Masyarakat
38. Gambar yang berikut menunjukkan sejenis stok.



Pernyataan manakah yang betul berkaitan dengan jenis stok berkenaan?

- Stok berisiko rendah
 - Stok dapat dijual dengan pantas
 - Stok tahan lama dan tidak dapat dijual pantas
 - Stok mudah menjadi rosak dan ketinggalan zaman
39. Dokumen yang terlibat dalam perniagaan

ASAL		INVOIS			No. : 0020
		Syarikat Perabot Usop 12, Jalan Zabedah 83000 Batu Pahat Tel:07-4326884			Tarikh: 6 Mac 2012
Kepada Kedai Elektrik Muslimat 20, Jalan Besar Seri Medan 83400 Batu Pahat, Johor					
Bil.	Butir	Kuantiti	Harga Seunit	Jumlah	
1	Meja tulis	1	RM 400.00	RM 400.00	
Tolak: Diskaun niaga				400.00	-
Jumlah				400.00	
(Ringgit Malaysia: Empat ratus sahaja)					
Syarat : 5% 10 hari, 2% 20 hari					
K. & K. di K					
Ani Penerima				Usop Pengurus	

Apakah fungsi dokumen diatas..

- Dokumen yang mengandungi catatan aktiviti jualan yang dilakukan
- Dokumen yang mengandungi catatan perbelanjaan atau kos barang
- Dokumen yang mengandungi catatan aktiviti pembelian yang dilakukan
- Dokumen yang dihantar oleh pembekal kepada peniaga yang menunjukkan barang-barang dibeli secara kredit

40. Perancangan perniagaan yang dilakukan oleh seorang peniaga



Apakah tujuan seseorang peniaga menyediakan dokumen diatas?

- I. Untuk mencari pelanggan
 - II. Untuk mendapat pekerjaan
 - III. Untuk menilai prestasi perniagaan
 - IV. Untuk mendapat bantuan kewangan
-
- A. I dan II
 - B. I dan IV
 - C. II dan III
 - D. III dan IV