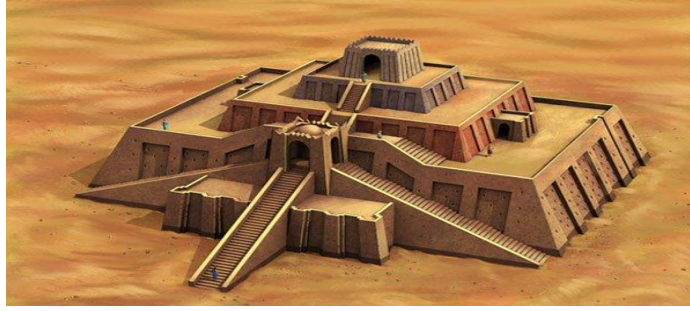


- 1 Gambar 1 adalah binaan ziggurat

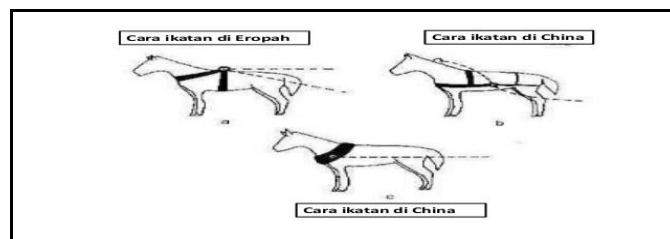


Mengapakah masyarakat Mesopotamia membina binaan tersebut?

- A Penjara bagi rakyat yang melakukan kesalahan
  - B Tempat menyimpan abu mayat bangsawan
  - C Kubu pertahanan dari serangan musuh
  - D Menjalankan upacara keagamaan
- 2 Perkembangan yang pesat dalam perancangan bandar berlaku pada sekitar tahun 2000 S.M dalam Tamadun Indus.

Apakah faktor yang mendorong perkembangan tersebut?

- A Kemahiran ilmu geometri
  - B Kejayaan kegiatan penerokaan
  - C Keluasan kawasan pemerintahan
  - D Kegiatan keagamaan
- 3 Gambar 2 berikut menunjukkan cara ikatan kolar kuda .



Apakah kebaikan ikatan kolar kuda China berbanding Eropah?

- A Menjinakkan kuda
- B Tidak mencekik kuda
- C Pergerakan kuda pantas
- D Memudahkan kawalan kuda

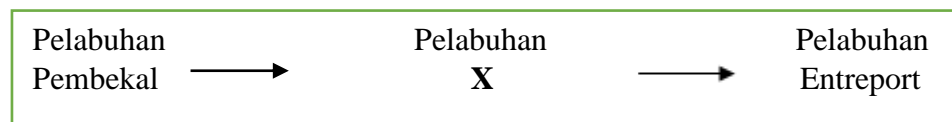
4

- Berbentuk kubah
- Siap semasa Maharaja Flavian
- Tempat pertarungan

Maklumat di atas merujuk kepada monumen

- A Pantheon
- B Aqueduct
- C Acropolis
- D Colloseum

4 Rajah berikut menunjukkan tahap perkembangan sesebuah pelabuhan dalam kerajaan awal di Asia Tenggara.



Pelabuhan X dalam rajah berikut ialah

- A Pelabuhan bandar
- B Pelabuhan nelayan
- C Pelabuhan kerajaan
- D Pelabuhan bebas

5 Gambar 3 menunjukkan candi Angkor Wat di Kemboja



Mengapakah kerajaan Angkor membina candi tersebut?


- A Sebagai pusat kegiatan perdagangan
- B Menjadi pusat pentadbiran
- C Lambang penguasaan alam semesta
- D Memperkukuhkan sistem pertahanan negara

- 6 Surah berikut adalah wahyu kedua yang diturunkan kepada Nabi Muhammad SAW yang mengandungi perintah supaya menyebarkan Islam.

**Surah al-Mudassir ayat 1 hingga 7**

Bagaimanakah Nabi Muhammad SAW melaksanakan perintah tersebut?

- A Mendirikan kerajaan yang berpusat di Mekah
  - B Mengarahkan sahabat menyampaikan dakwah di Madinah
  - C Menawarkan kedudukan tinggi kepada kaum bangsawan Quraisy
  - D Menyampaikan dakwah terhadap keluarga terdekat terlebih dahulu
- 7 Mengapakah orang Arab Quraisy Mekah menentang ajaran Islam?
- A Prinsip perjuangan yang berbeza
  - B Perbezaan kepercayaan yang dianuti
  - C Terpengaruh dengan Bani Qainuqa'
  - D Taksud dengan Nabi Muhammad SAW
- 9 Gambar 4 menunjukkan sambutan Hari Awal Muharram di Malaysia



Sambutan tersebut diadakan setiap tahun untuk memperingati

- A Perjuangan umat Islam
- B Turunnya wahyu pertama
- C Pembukaan semula kota Mekah
- D Kelahiran Nabi Muhammad

- 10 Tindakan berikut dilakukan oleh Nabi Muhammad SAW selepas perang Badar berakhir.

- Mengampunkan tawanan perang
- Membebaskan tawanan wanita

Apakah kesan daripada tindakan tersebut?

- A Suku yang bertelagah berdamai
  - B Islam diterima dengan kerelaan
  - C Kebebasan beragama diamalkan
  - D Pengukuhan pentadbiran kerajaan Islam
- 11 Selepas dua tahun Perjanjian Hudaibiyah dimeterai, orang Quraisy Mekah mencabuli perjanjian tersebut dengan menyokong Bani Bakar yang berperang dengan Bani Khuza'ah.

Apakah kesan daripada pencabulan tersebut?

- A Penyebaran Islam tergendala
  - B Penduduk Madinah semakin terancam
  - C Pembukaan semula kota Mekah
  - D Penghijrahan Nabi Muhammad SAW terhalang
- 12 Dasar sosial Islam yang dilaksanakan oleh kerajaan Turki Uthmaniyah telah menarik minat orang Kristian untuk memeluk Islam.

Mengapakah dasar tersebut menarik minat orang Kristian?

- A Memberi penekanan kepada kecemerlangan individu
- B Mengutamakan kemewahan dalam kehidupan
- C Memperkuat kedudukan sesuatu kabilah
- D Menjamin kemuliaan keturunan

- 13 Gambar 5 merupakan tokoh pengembara Islam pada abad ke- 14.



**IBN BATTUTA**

*Hasil tulisan beliau menjadi rujukan sejarawan hingga kini*

Mengapakah tulisan beliau menjadi rujukan sehingga kini?

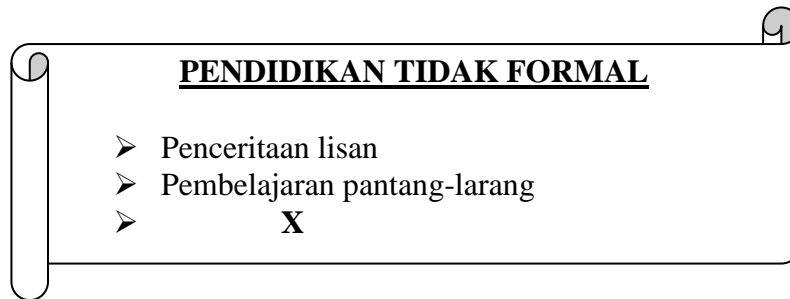
- A Keindahan bahasa
  - B Keunikan ilustrasi
  - C Kepelbagaian teknik
  - D Ketepatan fakta
- 14 Maklumat berikut berkaitan dengan teori kedatangan Islam ke Asia Tenggara.

- Islam dari Semenanjung Tanah Arab
- Islam dari China
- Islam dari India

Mengapakah pakar sejarah fokus kepada wilayah tersebut apabila membincangkan tentang teori kedatangan Islam?

- I Kedudukan wilayah tersebut di tengah-tengah kawasan Asia Tenggara
  - II Unsur budaya wilayah tersebut mempengaruhi budaya Asia Tenggara
  - III Hubungan wilayah tersebut dengan Asia Tenggara telah lama terjalin
  - IV Wilayah tersebut pernah menjadi sebahagian wilayah Asia Tenggara
- A I dan II
  - B I dan IV
  - C II dan III
  - D III dan IV

- 15 Perkara yang manakah menunjukkan kedatangan Islam ke Asia Tenggara mempengaruhi cara hidup bermasyarakat tempatan ?
- A Adat persandingan
  - B Persaudaraan ummah
  - C Amalan bersemah
  - D Semangat assabiyah
- 16 Rajah berikut menerangkan tentang kaedah pendidikan dalam masyarakat Melayu tradisional.



- Apakah X ?
- A Menerusi pantun
  - B Mengadap guru
  - C Pembacaan kitab
  - D Pengajian sekolah pondok
- 17 Pada zaman Reformation di Eropah, pemimpin gereja sering dikritik oleh masyarakat .
- Mengapakah kritikan tersebut berlaku?
- A Perpecahan sesama penganut
  - B Peningkatan kadar cukai
  - C kepincangan amalan
  - D Perbezaan mazhab

- 18 Jadual di bawah berkaitan dengan tokoh Eropah pada abad ke-15.

Tokoh	Negara
Ferdinand Aragon	Sepanyol
Putera Henry	Portugal

Pernyataan manakah yang berkaitan dengan tokoh tersebut?

- A Peperangan sesama mazhab
  - B Pembukaan pelabuhan baru
  - C Perebutan takhta pemerintahan
  - D penerokaan kawasan timur
- 19 Bagaimanakah Land Settlement Order yang diperkenalkan oleh British di Sarawak pada tahun 1933 dapat melindungi tanah milik peribumi?
- A Penetapan harga yang tinggi
  - B Pemindahan hak milik secara warisan
  - C Peningkatan kadar bayaran sewaan
  - D Penghapusan cukai tahunan
- 20 Mengapakah sistem pendidikan pada zaman penjajah gagal menyatupadukan kaum di Tanah Melayu?
- A Perkembangan sekolah vernakular
  - B Penubuhan sekolah Inggeris
  - C Pengaruh golongan mubaligh
  - D Pengamalan asuhan keluarga

- 21 Perkembangan berikut berlaku di Eropah pada abad ke- 19.

- |  |
|--|
| <ul style="list-style-type: none"><li>• Pengenalan kapal berkuasa wap</li><li>• Pembukaan Terusan Suez</li></ul> |
|--|

Mengapakah perkembangan ini meluaskan lagi kegiatan imperialisme Barat di Asia Tenggara?

- I Memendekkan perjalanan  
II Memudahkan urusan perdagangan  
III Mempercepatkan pemberian arahan  
IV Membawa banyak muatan
- A I dan II  
B I dan IV  
C II dan III  
D III dan IV
- 22 Mengapakah kuasa imperialis memperkenalkan sistem birokrasi Barat di Asia Tenggara?
- A Mengukuhkan pertahanan  
B Memajukan tanah jajahan  
C Memudahkan penguasaan ekonomi  
D Meningkatkan taraf hidup penduduk

- 23 Jadual berikut merujuk perkembangan yang berlaku di Thailand.

<b>Tahun</b>	1932
<b>Peristiwa</b>	Revolusi Thai

Apakah implikasi daripada peristiwa tersebut?

- A Sistem raja berkuasa mutlak ditamatkan  
B Penentangan penduduk dapat dilemahkan  
C Perluasan kuasa diperhebatkan  
D Kemerdekaan negara dikekalkan



- 24 Rentap menyerang pasukan James Brooke di Kubu Nanga Skrang pada tahun 1853. Rentap bertindak demikian kerana James Brooke
- A Menghapuskan orang Iban
  - B Menyekat pelayaran Linggir
  - C Menghalang amalan perhambaan
  - D Mengambil alih kuasa memungut cukai

- 25 Undang-undang berikut dikeluarkan oleh British di Tanah Melayu pada awal abad ke -20.

Tidak membenarkan sebarang kegiatan dakwah Islam dilakukan tanpa kebenaran sultan

Apakah kesan pelaksanaan undang-undang tersebut terhadap Kaum Muda?

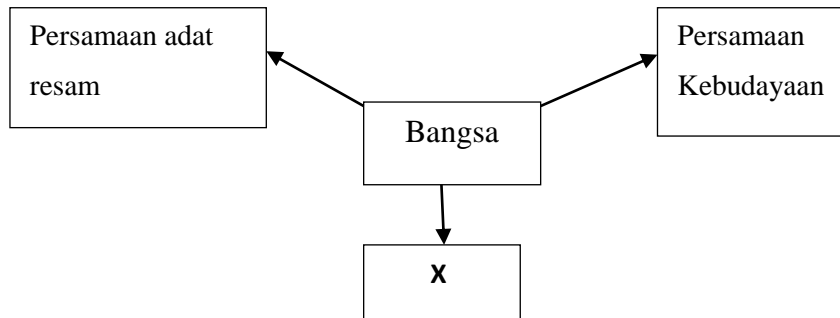
- A Menukar pucuk kepimpinan
  - B Bekerjasama dengan negara Barat
  - C Berkembang di Negeri-Negeri Selat
  - D Melancarkan pemberontakan bersenjata
- 26 Mengapakah Persatuan Sahabat Pena Malaya (PASPAM) mendapat sambutan hangat dalam kalangan penduduk di Tanah Melayu, Sarawak dan Sabah ?
- A Dipimpin golongan intelektual
  - B Mempunyai organisasi yang kemas
  - C Keahlian terbuka kepada semua kaum
  - D Memperjuangkan kebebasan bersuara
- 27 Jadual berikut berkaitan dengan kaedah penyatuan negara Jerman oleh Otto Eduard Von Bismark.

Kaedah	Maksud
Realpolitik	Mewajarkan apa sahaja cara untuk mencapai matlamat politik

Kaedah tersebut merujuk kepada

- A Pelancaran peperangan
- B Penguasaan institusi agama
- C Pengawalan aktiviti ekonomi
- D Penguatkuasaan undang-undang

- 28 Maklumat berikut berkaitan dengan ciri-ciri sesuatu bangsa.



X merujuk kepada persamaan

- A Kegiatan ekonomi
  - B Sistem mata wang
  - C Bahasa pertuturan
  - D Karya kesusasteraan
- 29 Malayan Union memperkenalkan prinsip kerakyatan *Jus Soli*.  
Apakah kesan prinsip tersebut terhadap orang Melayu ?
- A Ekonomi pertanian semakin dipinggirkan
  - B Penggunaan bahasa kebangsaan diperluas
  - C Jumlah penduduk peribumi berkurangan
  - D Perpaduan dalam kalangan penduduk diperkukuh
- 30 Maklumat berikut merujuk perubahan pentadbiran di Tanah Melayu.

Persekutuan Tanah Melayu 1948

Mengapakah orang Melayu menerima pentadbiran tersebut ?

- A Raja berkuasa mutlak dikekalkan
- B Pendidikan vernukular disekat
- C Syarat kerakyatan dilonggarkan
- D Kedudukan istimewa dilindungi

- 31 British telah memperkenalkan Sistem Ahli pada tahun 1951. Bagaimanakah sistem tersebut dapat memperkukuh perpaduan rakyat?
- A Ahli berpendidikan tinggi  
 B Ahli dari pelbagai kaum  
 C Pentadbiran birokrasi diperkenalkan  
 D Penggunaan bahasa kebangsaan diwajibkan
- 32 Apakah usaha pemimpin Tanah Melayu pada tahun 1950-an untuk mencapai kemerdekaan Persekutuan Tanah Melayu?
- A Mengadakan pungutan suara  
 B Menyertai pertubuhan antarabangsa  
 C Menghapuskan parti-parti radikal  
 D Memperkukuhkan perpaduan kaum
- 33 Negeri berikut menyokong pembentukan Malaysia pada tahun 1963.

- |   |
|---|
| <ul style="list-style-type: none"> <li>• Singapura</li> <li>• Sarawak</li> <li>• Sabah</li> </ul> |
|---|

Mengapakah negeri tersebut menyokong pembentukan Malaysia?

- A Ancaman komunis ditamatkan  
 B Kerjasama pertahanan diperkukuhkan  
 C Syarat kewargenegaraan dilonggarkan  
 D Sistem raja berkuasa mutlak dimantapkan
- 34 Jadual berikut menunjukkan peristiwa yang berlaku di Bangkok, Thailand

Tahun	Peristiwa
1966	Presiden Soeharto menghantar Menteri Luar Indonesia Adam Malik untuk memulihara hubungan diplomatik Malaysia -Indonesia

Apakah kesan daripada peristiwa tersebut?

- A Dasar konfrontasi ditamatkan  
 B Kerjasama ekonomi dijalin  
 C Pakatan ketenteraan dibentuk  
 D Ancaman komunis dihapuskan

- 35 Datuk Seri Dr Zulkifli Mohamad Al-Bakri bekas Mufti Wilayah Persekutuan telah dilantik menjadi Senator Dewan Negara pada 10 Mac 2020.

Apakah syarat yang membolehkan beliau dipilih menjadi seorang senator?

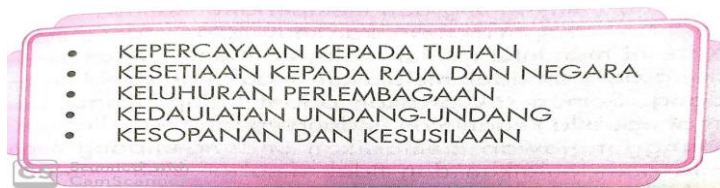
- A Berilmu pengetahuan luas
  - B Berdarah keturunan bangsawan
  - C Mempunyai pendapatan tetap
  - D Cemerlang dalam perkhidmatan awam
- 36 Aminah telah berusia 21 tahun dan ingin melaksanakan tanggungjawab sebagai pengundi dalam pilihanraya umum.

Apakah yang perlu dilakukan oleh Aminah untuk melayakkannya menjadi pengundi?

- A Menyertai kempen parti
  - B Merangka memorandum
  - C Mendaftar sebagai pemilih
  - D Menganggotai parti politik
- 37 Ali merupakan seorang petani muda. Beliau menghadapi masalah dalam memasarkan hasil pertaniannya.

Apakah agensi yang dapat membantu Ali ?

- A MARDI
  - B FELDA
  - C FAMA
  - D RIDA
- 38 Senarai berikut menunjukkan prinsip-prinsip Rukun Negara.



Mengapakah Kepercayaan Kepada Tuhan dijadikan prinsip yang pertama?

- A Agama asas perundangan Malaysia
- B Agama pegangan utama rakyat Malaysia
- C Agama mencorakkan pentadbiran Malaysia
- D Agama Islam agama rasmi Malaysia

- 39 Pasangan manakah yang **betul** tentang faktor teretusnya Perang Dunia Pertama dan Perang Dunia Kedua?

Pilihan Jawapan	Perang Dunia Pertama (1914 -1918)	Perang Dunia Kedua ( 1939 – 1945)
A	Pembentukan Kuasa Paksi	Pembentukan Pakatan Bertiga
B	Jerman menyerang Poland	Amerika menggugurkan bom atom di Hiroshima
C	Kegagalan Liga Bangsa	Kegagalan Pertubuhan Bangsa-Bangsa Bersatu (PBB)
D	Pembunuhan pewaris takhta Austria Hungry	Kegagalan Perjanjian Versailles

- 40 Mengapakah pertubuhan berikut ditubuhkan pada tahun 1967 ?



- A Mengukuhkan pakatan ketenteraan
- B Mengekalkan kestabilan politik
- C Membendung ancaman komunis
- D Menyekat kejatuhan harga getah

KERTAS SOALAN TAMAT