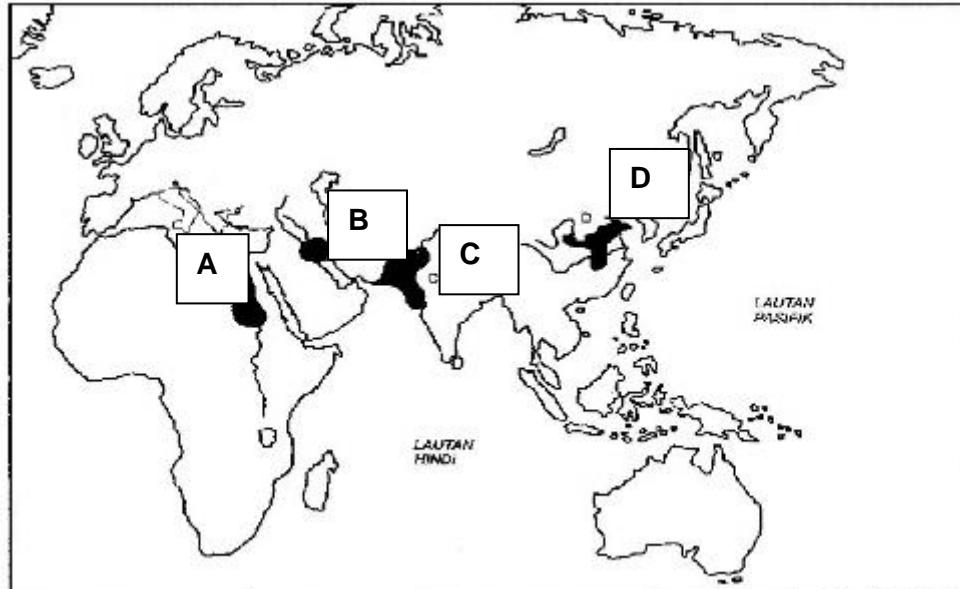


*Kertas soalan ini mengandungi 40 soalan objektif.
Jawab semua soalan.*

- 1 Soalan 1 dan 2 berdasarkan Peta Tamadun Awal Dunia.



Peta 1

Namakan sungai yang terdapat di lokasi A?

- A Sungai Nil
 - B Sungai Tigris
 - C Sungai Indus
 - D Sungai Kuning
- 2 Apakah sumbangan terbesar tamadun C kepada peradaban dunia hari ini?
- A Penciptaan roda.
 - B Penghasilan kertas.
 - C Perancangan bandar.
 - D Sistem tanaman bergilir.
- 3 Sekiranya anda merupakan seorang pelajar di negara kota Athens, apakah matlamat anda dalam menuntut ilmu?
- A Menjawab jawatan pegawai kerajaan.
 - B Menjadi manusia yang seimbang.
 - C Mengetuai upacara keagamaan.
 - D Membentuk warganegara yang kuat.

- 4 Jadual berikut menunjukkan dua orang tokoh yang telah memberikan sumbangan kepada perkembangan tamadun.

Tokoh	Tamadun
Julius Caesar	Rom
Chandragupta Maurya	India

Jadual 1

Apakah sumbangan tokoh tersebut?

- A Memperkenalkan pemerintahan monarki
 - B Menjalankan pentadbiran birokrasi
 - C Melaksanakan sistem republik
 - D Membentuk empayar
- 5 Pernyataan berikut merupakan keistimewaan yang dimiliki oleh masyarakat maritim.

Mahir dalam pembinaan kapal

Apakah impak keistimewaan tersebut kepada kerajaan maritim?

- A Kegiatan pertanian berkembang.
 - B Kerajaan asing salurkan bantuan.
 - C Kemampuan meneroka dunia luar.
 - D Pusat latihan kelautan ditubuhkan.
- 6 Petikan berikut menggambarkan pengaruh raja dalam masyarakat di Asia Tenggara.

Rakyat biasa takut untuk menderhaka kepada raja.

Berdasarkan petikan tersebut, rumuskan nilai yang perlu dicontohi oleh generasi hari ini?

- A Mentaati pemerintah.
- B Jujur dan amanah.
- C Sayangkan negara.
- D Saling menghormati.

7 Mengapakah masyarakat Arab jahiliah marah dan bermasam muka apabila menerima berita kelahiran anak perempuan?

- I Harta tergadai.
- II Hilang pengaruh.
- III Maruah tercabar.
- IV Memalukan keluarga.

- A I dan II
- B I dan IV
- C II dan III
- D III dan IV

8 Jadual berikut merujuk kepada peristiwa penting dalam tamadun Islam.

Peristiwa	Kaedah
X	<ul style="list-style-type: none"> ● Tiga tahun secara rahsia ● Sepuluh tahun secara terbuka

Jadual 2

Apakah peristiwa X?

- A Penyebaran Islam.
- B Penghijrahan orang Islam.
- C Penentangan terhadap Islam.
- D Pemulauan terhadap Nabi Muhammad SAW.

9 Tokoh berikut membantu perjuangan Nabi Muhammad dalam penyebaran Islam.

- | |
|---|
| <ul style="list-style-type: none"> ● Abdullah bin Abu Bakar ● Amir bin Fuhairah ● Abdullah bin Arqat |
|---|

Apakah sumbangan tokoh tersebut?

- A Menawan semula kota Makkah.
- B Meneruskan dakwah Islam ke Taif.
- C Menandatangani Perjanjian Hudaibiyah.
- D Membantu penghijrahan Nabi Muhammad.

- 10 Maklumat berikut berkaitan undang-undang Islam di Madinah.

Keadilan undang-undang Islam

Berdasarkan Piagam Madinah, apakah syarat ditetapkan sebelum menjatuhkan sesuatu hukuman.

- A baiah
 - B saksi
 - C syura
 - D penjamin
- 11 Apa kaedah yang digunakan semasa pelantikan Khalifah Umar bin al-Khattab?
- A Melalui cadangan satu nama
 - B Melalui syura atau musyawarah
 - C Melalui pencalonan beberapa nama
 - D Melalui pencalonan sekelompok masyarakat
- 12 Kerajaan Uthmaniyah mengutamakan dasar diplomasi dan toleransi ketika melakukan perluasan kuasa di Eropah.
Bagaimanakah dasar tersebut dilaksanakan?
- A Menandatangani perjanjian damai
 - B Memperkenalkan amalan syura
 - C Mengiktiraf Gereja Ortodok
 - D Membiayai Gerakan Reformation
- 13 Apakah saranan yang dikemukakan oleh Wali Songo semasa menyebarkan dakwah di Pulau Jawa?
- A Memajukan pertanian
 - B Mengelakkan pembaziran
 - C Menyokong sekularisme
 - D Menguasai kemahiran

14 Tokoh ulama berikut telah menghasilkan karya tentang pemikiran Islam.

- Syeikh Nuruddin al-Raniri
- Abdul Rauf Singkel

Apakah saranan kepada setiap orang Islam dalam penulisan?

- A Setia kepada pemerintah
- B Kepentingan pendidikan
- C Sikap berjimat cermat
- D Kewajipan berjihad

15 Maklumat berikut berkaitan dengan Adat Perpatih.

Adat Perpatih



- Berasal dari Pagar Ruyung
- Bersifat *matrilinea*

Apakah maksud sifat *matrilinea*?

- A Perlantikan ketua adat
- B Perempuan mewarisi harta
- C Perkahwinan dalam kalangan suku
- D Pemerintah bergelar Yam Tuan Besar

16 Pendidikan tidak formal menekankan pengajaran nilai-nilai moral dan budaya yang murni.

Apakah kaedah yang paling berkesan dalam sistem pendidikan ini?

- A Bercerita
- B Hafalan
- C Leteran
- D Denda

17 Senarai berikut merupakan kawasan yang ditakluk oleh Sepanyol pada abad ke-15.

- Peru
- Mexico

Apakah kesan penaklukan terhadap kawasan tersebut?

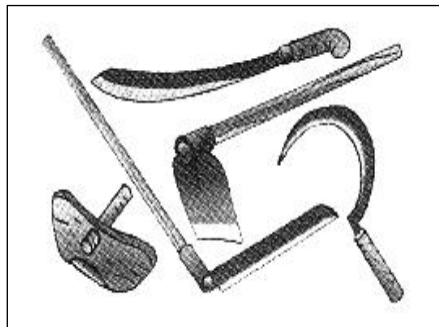
- A Pengukuhan institusi gereja
- B Penghapusan tamadun tempatan
- C Pengekalan pemerintahan tempatan
- D Perkembangan perdagangan antarabangsa

- 18 Jadual berikut merujuk kepada akta yang diperkenalkan semasa Revolusi Perindustrian di Eropah.

Tahun	Perkara
1833	Akta Kilang
1847	Akta Sepuluh Jam

Mengapakah akta tersebut diperkenalkan?

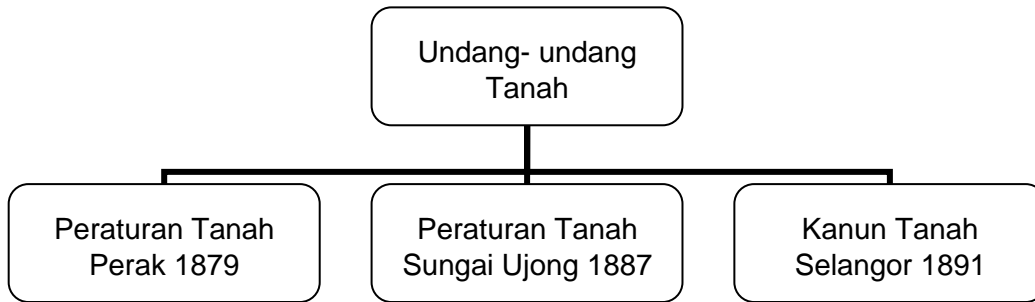
- A Mewajibkan majikan menyediakan kemudahan kesihatan
 - B Melarang wanita bekerja dalam sektor perlombongan
 - C Membenarkan pekerja menyertai kesatuan
 - D Melindungi eksploitasi terhadap pekerja
- 19 Gambar berikut merupakan peralatan yang digunakan oleh masyarakat Melayu tradisional.



Kegiatan manakah yang paling sesuai untuk menggunakan peralatan tersebut?

- A Perlombongan
- B Perdagangan
- C Pertanian
- D Perikanan

20 Andaikan anda ialah petani pada masa penguatkuasaan undang-undang di bawah.



Apakah tindakan anda agar tidak melanggar peraturan penggunaan tanah ketika itu?

- A Mengutip hasil hutan dengan kebenaran penghulu
- B Menggunakan tanah yang diwarisi dengan kebenaran sultan
- C Mengusahakan tanah terbiar, dengan keizinan pembesar Melayu
- D Memohon kebenaran Residen untuk membuka kawasan baharu

21 Pernyataan berikut menunjukkan faktor kedatangan British ke Asia Tenggara.

Kedudukan Asia Tenggara yang begitu strategik kerana terletak di antara China dan India telah menarik minat imperialis Barat untuk menguasainya.

Berdasarkan pernyataan tersebut, mengapakah British berminat untuk menguasai Asia Tenggara?

- A Menjamin pasaran
- B Menyebarkan tamadun
- C Melambangkan kekuatan
- D Mengeluarkan hasil perkilangan

22 Sistem Birokrasi Barat telah diperkenalkan untuk menggantikan sistem pemerintahan beraja.

Bagaimanakah British melaksanakan sistem tersebut di Tanah Melayu?

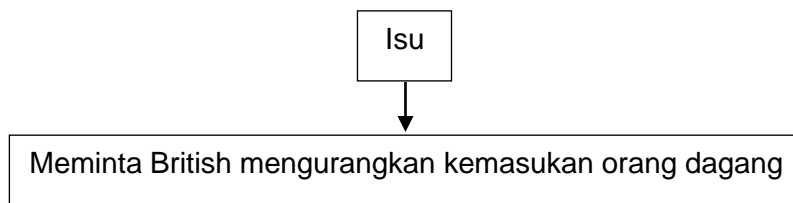
- A Memperkenalkan Sistem Residen
- B Membahagikan pentadbiran kepada dua
- C Memperkenalkan Sistem Encomienda
- D Menubuhkan Union Indochinoise

- 23 Maklumat berikut berkaitan sikap penjajah terhadap masyarakat tempatan di Asia Tenggara.

Penjajah hanya memberikan pendidikan pada peringkat rendah dan terhad kepada golongan elit dan penduduk bandar.

Rumuskan pernyataan tersebut.

- A Sistem perhubungan menyemarakkan nasionalisme
 - B Sistem pendidikan mencetuskan nasionalisme
 - C Kemunculan golongan intelektual di Asia Tenggara
 - D Dasar penjajah Barat menimbulkan rasa tidak puas hati
- 24 Rajah berikut merupakan isu yang dibangkitkan oleh akhbar tempatan.



Mengapakah isu tersebut dibangkitkan?

- A Melindungi orang Melayu dalam perkhidmatan kerajaan
 - B Mengekalkan nilai-nilai baik masyarakat Melayu
 - C Menggalakkan orang Melayu berniaga
 - D Mengancam ekonomi orang Melayu
- 25 Kesatuan Melayu Muda (KMM) bekerjasama dengan Jepun pada akhir tahun 1940 untuk menghalau British dari Tanah Melayu. Jelaskan tindakan yang telah diambil oleh KMM untuk menjayakan usaha tersebut.
- A Menggalakkan perpaduan orang Melayu
 - B Menubuhkan persatuan negeri-negeri
 - C Menggabungkan tenaga intelektual
 - D Menjadi badan propaganda Jepun

26 Maklumat berikut berkaitan pembentukan negara bangsa moden di Eropah.

Negara	Tokoh
Itali	Count Camillo Benso di Cavour
Jerman	Otto Eduard von Bismarck

Apakah persamaan tokoh tersebut?

- A Menewaskan Austria
 - B Membentuk penyatuan
 - C Mengamalkan realpolitik
 - D Mengadakan musyawarah
- 27 Sultan Abu Bakar telah memperkenalkan perlembagaan bertulis yang teratur dan lengkap yang dikuatkuasakan pada tahun 1895. Mengapakah perlembagaan tersebut digubal?
- A Membentuk kerajaan pusat
 - B Membentuk kerajaan bercorak demokrasi
 - C Menghalang kemasukan komunis
 - D Menghalang penguasaan British
- 28 Mengapakah British memperkenalkan Malayan Union di Tanah Melayu pada tahun 1946?
- A Mematuhi Perlembagaan 1941
 - B Menyedarkan orang Melayu
 - C Melicinkan pentadbiran
 - D Menyeragamkan dasar

- 29 Maklumat berikut berkaitan pembentukan Persekutuan Tanah Melayu 1957.

British memilih UMNO dan Raja-raja Melayu

Apakah faktor yang menyebabkan British membuat pilihan tersebut?

- I Hanya menuntut rundingan
 - II Tidak menuntut kemerdekaan
 - III Menuntut konsep sebuah republik
 - IV Terpengaruh dengan orang dagang
-
- A I dan II
 - B I dan IV
 - C II dan III
 - D III dan IV
- 30 Suruhanjaya Reid telah dibentuk pada bulan Mac 1956. Mengapakah Suruhanjaya ini dibentuk?
- A Menggubal undang-undang bertulis
 - B Membincangkan isu-isu kerakyatan
 - C Membentuk pemuafakatan antara kaum
 - D Merangka perlembagaan Persekutuan Tanah Melayu
- 31 Maklumat berikut berkaitan tokoh-tokoh kemerdekaan.

- Tun Abdul Razak
- Tun H.S.Lee
- Tun V.T.Sambanthan

Rumuskan maklumat tersebut.

- A Mengamalkan sikap bekerjasama
- B Mendapatkan kemerdekaan
- C Mengendalikan mesyuarat
- D Mentadbir kerajaan

32 Antara berikut, apakah faktor politik yang mendorong pembentukan Malaysia 1963?

- I Keselamatan
- II Kerjasama
- III Kependudukan
- IV Dasar dekolonisasi

- A I dan II
- B I dan IV
- C II dan III
- D III dan IV

33 Maklumat berikut berkaitan Perjanjian Malaysia 1963.

Perjanjian Malaysia telah ditandatangani di London pada 9 Julai 1963.

Apakah inti pati perjanjian tersebut yang berkaitan dengan kuasa negeri Sabah dan Sarawak?

- A Hal ehwal imigresen
- B Hal ehwal kewangan
- C Hal ehwal pertahanan
- D Hal ehwal pendidikan

34 Maklumat berikut berkaitan badan perundangan di negara kita.

- Dewan Rakyat
 - Dewan Negara

Apakah persamaan dewan tersebut?

- A Tempoh masa berkhidmat
- B Dilantik oleh Yang di-Pertuan Agong
- C Ahlinya boleh dilantik sebagai menteri
- D Pemilihan ahli melalui pilihan raya

35 Gambar berikut merupakan logo Suruhanjaya Pilihan Raya Malaysia.



Bagaimanakah Suruhanjaya Pilihan Raya bertindak memastikan pilihan raya yang diadakan di Malaysia adil dan telus ?

- A Menyediakan jadual waktu berkempen bagi calon
- B Menetapkan manifesto parti politik yang bertanding
- C membenarkan pengundi berdaftar sahaja layak mengundi
- D Melarang pemerhati dari negara luar memantau pengundian

36 Senarai berikut merujuk kepada lambang-lambang negara.

- Jata Negara
- Jalur Gemilang
- Lagu Kebangsaan

Apakah tujuan lambang tersebut diadakan?

- A Mengukuhkan pentadbiran negara
- B Mengukuhkan perpaduan bangsa
- C Menjadikan negara mudah dikenali
- D Memperkenalkan negara kepada dunia

37 Maklumat berikut menerangkan matlamat yang ingin dicapai oleh kerajaan.

- Mengurangkan beban kewangan kerajaan
- Meningkatkan produktiviti dan kualiti barangan serta perkhidmatan

Apakah dasar untuk menjayakan matlamat tersebut?

- A Dasar Penswastaan
- B Dasar Ekonomi Baru
- C Dasar Hala Tuju Cara Baru
- D Dasar Pensyarikatan Malaysia

38 Mengapakah sistem persekolahan aneka jurusan diperkenalkan pada tahun 1965.

- A Meningkatkan minat murid dalam akademik
- B Memperkenalkan sekolah vokasional
- C Menambah bilangan sekolah teknik
- D Melahirkan tenaga kerja mahir

39 Malaysia telah menandatangani perjanjian dengan negara berikut selepas merdeka pada tahun 1957.

- | |
|---|
| <ul style="list-style-type: none">• Britian• Australia• New Zealand |
|---|

Mengapakah perjanjian tersebut ditandatangani?

- A Menambah aset ketenteraan
- B Mengukuhkan pertahanan negara
- C Meningkatkan hubungan diplomatik
- D Menggalakkan kemasukan pelabur asing

40 Industri berasaskan ilmu pengetahuan merupakan penggerak utama dalam menjana keuntungan pada era k-ekonomi.

Apakah sumber paling berharga dalam menjayakan k-ekonomi?

- A Jumlah simpanan dana emas
- B Pemilikan sumber asli
- C Kecanggihan senjata
- D Modal intelek

KERTAS SOALAN TAMAT