

1

Pengamalan sifat keterbukaan antara tamadun Indus dengan tamadun Mesopotamia memberi manfaat kepada kedua-dua pihak.

Apakah kesan pengamalan sifat keterbukaan dalam petikan di atas.

- A Penyebaran agama
- B Perkembangan bidang tulisan
- C Perluasan wilayah pengaruh
- D Pertukaran teknologi

2 Negara kota Anyang terdapatnya istana, kuil dan pusat pentadbiran yang dikelilingi oleh tembok.

Apakah fungsi binaan tembok tersebut?

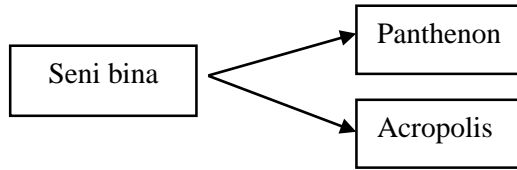
- A Membentuk pembahagian kawasan
- B Menstruktur lapisan masyarakat
- C Mengukuhkan pertahanan
- D Menjadi lambang kekayaan negara

3 Apakah faktor yang membantu kejayaan Shih Huang Ti dalam menyatukan seluruh wilayah kecil di China?

- I Sokongan daripada rakyat
- II Kemajuan bidang perdagangan
- III Pemerintahan secara autokratik
- IV Penghapusan kuasa bangsawan

- A I dan II
- B I dan IV
- C II dan III
- D III dan IV

4

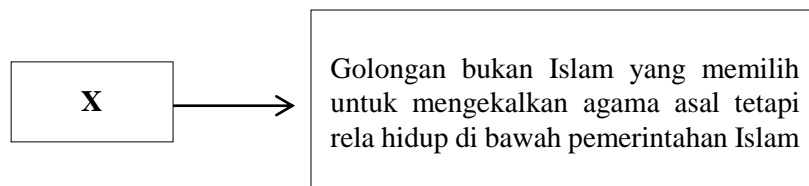


Binaan di atas dikaitkan dengan tamadun

- A Yunani
  - B China
  - C India
  - D Rom
- 5 Bagaimanakah kerajaan Funan berubah daripada kerajaan agraria kepada kerajaan maritim?
- A Pertahanan laut yang kuat
  - B Pelabuhan yang strategik
  - C Pertanian merosot
  - D Persaingan kuasa
- 6 Apakah peranan golongan Brahmin dalam kerajaan awal di Asia Tenggara?
- A Mentadbir wilayah
  - B Menjaga keamanan
  - C Menguruskan pembendaharaan
  - D Mengetuai upacara keagamaan
- 7 Mengapakah Nabi Muhammad SAW digelar al-Amin?
- A Sentiasa dipercayai
  - B Berpengalaman luas
  - C Keturunan baginda dihormati
  - D Bergaul dengan setiap lapisan masyarakat

- 8 Apakah kesan pengamalan Sistem Kabilah dalam masyarakat Arab Jahiliah?
- A Pentadbiran pusat menjadi kukuh
  - B Pengukuhan semangat assabiah
  - C Kebebasan beragama diamalkan
  - D Hubungan dengan pihak luar ditingkatkan
- 9 Apakah yang dimaksudkan dengan kota Madinah al-Munawwarah?
- A Kota Hijaz
  - B Kota Yathrib
  - C Bandar bercahaya
  - D Bandar kemuliaan
- 10 Mengapakah Uthman bin Affan dipilih untuk ke Makkah setelah orang Islam disekat di Hudaibiyah?
- A Sifat lemah lembut
  - B Disokong kaum Ansar
  - C Keturunan Bani Hasyim
  - D Seorang hartawan

11



Siapakah golongan X?

- A Mozarab
- B Mawali
- C Mudejar
- D Zimmi

- 12 Apakah yang dimaksudkan dengan semangat Ghazi?
- A Semangat pahlawan yang sanggup berkorban
  - B Kumpulan tentera infantri elit dalam sistem ketenteraan
  - C Semangat jihad yang tinggi dalam kalangan umat Islam
  - D Kemahiran bermain senjata dalam peperangan
- 13 Senarai berikut adalah teori kedatangan Islam di Asia Tenggara.

- |   |
|---|
| <ul style="list-style-type: none"><li>• Islam dari Arab</li><li>• Islam dari India</li><li>• Islam dari China</li></ul> |
|---|

Apakah persamaan cara penyebaran Islam berdasarkan ketiga-tiga teori tersebut?

- A Perluasan kuasa
  - B Pertukaran kebudayaan
  - C Kegiatan perdagangan
  - D Kegiatan kesusasteraan
- 14 Ulama mengislamkan golongan raja dan bangsawan terlebih dahulu supaya Islam tersebar luas di Asia Tenggara.

Mengapakah ulama bertindak demikian?

- A Mematuhi konsep kedaulatan
  - B Mengetahui kesetiaan rakyat
  - C Menghormati kuasa mutlak
  - D Melindungi kepentingan pemerintah
- 15 Adat Perpatih yang diamalkan oleh masyarakat di Negeri Sembilan mempunyai ciri matrilineal.

Apakah ciri matrilineal dalam adat tersebut?

- A Pelantikan ketua adat
- B Keturunan sebelah bapa diutamakan
- C Perkahwinan sesama suku
- D Anak perempuan mewarisi harta

16 Mengapakah institusi baitulmal diperkenalkan oleh Kesultanan Melayu Melaka?

- A Menetapkan kadar cukai
- B Menguruskan harta kerajaan
- C Mengendalikan adat istiadat istana
- D Menentukan bidang tugas pembesar

17 Jadual berkaitan dengan tokoh di Eropah pada abad ke-15.

<b>Tokoh</b>	<b>Negara</b>
Ferdinand Aragon	Sepanyol
Putera Henry	Portugal

Jadual 1

Pernyataan manakah yang berkaitan dengan tokoh tersebut?

- A Penerokaan kawasan Timur
- B Pembukaan pelabuhan baru
- C Peperangan sesama mazhab
- D Perebutan takhta pemerintahan

18 Golongan berikut muncul di Eropah pada zaman Kemuncak Pertengahan.

<ul style="list-style-type: none"> <li>• Artisan</li> <li>• Pedagang</li> <li>• Ahli Perbankan</li> </ul>
---

Apakah faktor kemunculan golongan tersebut?

- A Kehadiran orang gasar
- B Kelahiran golongan baron
- C Pengukuhan institusi parlimen
- D Pembukaan bandar besar

19 Bagaimanakah Akta Tanah Simpanan Melayu yang diperkenalkan oleh British pada 25 November 1913 memanfaatkan orang Melayu?

- A Memperkenalkan sistem perladangan
- B Mengekalkan hak milik
- C Mempelbagaikan jenis tanaman
- D Meneruskan ekonomi tradisional

- 20 Jadual berikut berkaitan dengan mata wang yang digunakan di Tanah Melayu sebelum kedatangan penjajah Barat.

<b>Negeri</b>	<b>Mata Wang</b>
Kelantan	Dinar Emas
Pahang	Jongkong Tampang
Terengganu	Kupang Emas

Jadual 2

- Mengapakah penggunaan mata wang tersebut semakin pupus menjelang abad ke-19?
- A Kekurangan logam  
 B Kelembapan ekonomi  
 C Pengenalan wang kertas  
 D Penggunaan syiling emas
- 21 Pembesar Mandarin di Vietnam dipilih melalui
- A peperiksaan  
 B pemilihan rakyat  
 C pelantikan maharaja  
 D persetujuan bangsawan
- 22 Sistem pendidikan pada zaman penjajah telah membangkitkan semangat nasionalisme di Asia Tenggara.
- Mengapakah keadaan tersebut berlaku?
- A Kewujudan golongan bangsawan  
 B Kemunculan ramai golongan intelek  
 C Kepelbagaian sukatan mata pelajaran  
 D Kemasukan kaum imigran tidak terkawal

SULIT

1249/9

- 23 Apakah tindakan J.W.W Birch yang menyebabkan orang Melayu bangkit menentang British di Pasir Salak, Perak?
- A Larangan mengutip hasil hutan
  - B Menghalang kemasukan imigran
  - C Campur tangan dalam pentadbiran
  - D Mengambil alih aktiviti perlombongan
- 24 Gambar 1 adalah pemimpin Kesatuan Melayu Singapura pada awal abad ke-20.



Gambar 1 : Mohammad Eunos Abdullah

Antara sumbangan beliau terhadap orang Melayu di Singapura ialah

- A mewartakan tanah pertanian
  - B memberi peluang pendidikan
  - C mendapatkan petempatan khas
  - D menyediakan tapak perniagaan
- 25 Bagaimanakah sempadan kerajaan yang diperintah oleh seseorang raja dalam kerajaan Melayu tradisional ditentukan?
- A Kesetiaan rakyat
  - B Kekayaan hasil bumi
  - C Kegiatan perdagangan
  - D Konsep keutuhan

- 26 Senarai berikut menunjukkan negara bangsa yang baru muncul di Eropah selepas Perang Dunia Pertama.

- |   |
|---|
| <ul style="list-style-type: none"> <li>• Czechoslovakia</li> <li>• Finland</li> <li>• Poland</li> </ul> |
|---|

Apakah peristiwa yang menyebabkan kemunculan negara bangsa baru ini?

- A Persidangan Damai Paris
- B Perjanjian Versailles
- C Penyatuan Etnik Prusia
- D Persekutuan Yugoslavia

- 27 Berikut ialah tiga unit pentadbiran yang dijalankan oleh British di Tanah Melayu sebelum Perang Dunia Kedua.

- |  |
|--|
| <ul style="list-style-type: none"> <li>• Negeri-Negeri Selat (NNS)</li> <li>• Negeri-Negeri Melayu Bersekutu (NNMB)</li> <li>• Negeri-Negeri Melayu Tidak Bersekutu (NNMTB)</li> </ul> |
|--|

Mengapakah British menggabungkan ketiga-tiga unit pentadbiran tersebut dalam Perjanjian Malayan Union 1946?

- I Melicinkan pentadbiran
- II Menghapuskan pengaruh komunis
- III Memajukan penduduk tempatan
- IV Menjimatkan kewangan kerajaan

- A I dan II
- B I dan IV
- C II dan III
- D III dan IV

- 28 Vyner Brooke telah menyerahkan Sarawak kepada British pada tahun 1946.

Mengapakah penyerahan tersebut ditentang oleh pemimpin dan persatuan kaum tempatan Sarawak?

- A Percanggahan dengan Perlembagaan 1941
- B Penghapusan hak istimewa peribumi
- C Penipuan terhadap pembesar
- D Penentangan Majlis Negeri



- 29 Mengapakah British bersetuju memperkenalkan Sistem Ahli di Tanah Melayu pada tahun 1951?
- I Merangka perlembagaan baru
  - II Mengiktiraf sistem pemerintahan beraja
  - III Memberi pendedahan ke arah berkerajaan sendiri
  - IV Mengurangkan tekanan oleh Parti Komunis Malaya
- A I dan II
  - B I dan IV
  - C II dan III
  - D III dan IV
- 30 Bagaimanakah Tunku Abdul Rahman mengadakan kerjasama antara UMNO dan MCA untuk menghadapi pilihan raya Majlis Perbandaran?
- A Membuka keahlian UMNO kepada orang Cina
  - B Menganjurkan Konvensyen Kebangsaan
  - C Menubuhkan Parti Kemerdekaan Malaya
  - D Melantik Jawatankuasa Pilihan Raya
- 31 Pada bulan September 1965, Jeneral Soeharto telah menggulingkan Presiden Soekarno di Indonesia. Apakah kesan peristiwa tersebut terhadap Malaysia?
- A Golongan radikal memberontak
  - B Kedaulatan negara tergugat
  - C Dasar Konfrontasi tamat
  - D Hubungan luar terhad
- 32 Maklumat berikut berkaitan dengan perkembangan politik di Singapura.

Tahun	Peristiwa
1961	Barisan Sosialis memenangi pilihan raya Hong Lim, Singapura

Mengapakah peristiwa tersebut membimbangkan Lee Kuan Yew?

- A Menghalang kemajuan perdagangan
- B Menggugat kemerdekaan negeri
- C Menjejaskan perpaduan kaum
- D Mengukuhkan kuasa British

- 33 Maklumat berikut berkaitan dengan calon yang akan bertanding dalam pilihan raya.

<b>Parti</b>	<b>Calon</b>
Maju	Muthu
Sejahtera	Selamat

Berdasarkan peraturan pilihan raya di Malaysia, mengapakah kedua-dua calon tersebut layak bertanding?

- A Tiada perniagaan
  - B Memiliki kekayaan
  - C Bukan penjawat awam
  - D Memiliki ramai penyokong
- 34 Maklumat berikut berkaitan dengan penubuhan parti politik di Sarawak sehingga tahun 1963.

<b>Tahun</b>	<b>Peristiwa</b>	<b>Pemimpin</b>
1940	Penubuhan Parti Kebangsaan Melayu Sarawak (PKMS)	Datu Patinggi Abang Haji Abdillah

Apakah tujuan penubuhannya?

- A Mendapatkan kemerdekaan
  - B Melahirkan rasa taat setia
  - C Melindungi kaum bumiputera
  - D Menyatupadukan penduduk
- 35 Malaysia mengamalkan sistem Raja Berperlembagaan.

Antara yang berikut, yang manakah berkaitan dengan hak Yang di-Pertuan Agong berdasarkan sistem tersebut?

- I Berkuasa penuh dalam hal kewangan negara
  - II Berhak membatalkan sesuatu undang-undang
  - III Bertindak atas nasihat Perdana Menteri
  - IV Boleh menggunakan kuasa budi bicara
- A I dan II
  - B I dan IV
  - C II dan III
  - D III dan IV

- 36 Maklumat di bawah berkaitan dengan penubuhan agensi dalam Rancangan Malaya Pertama.

Dalam rancangan ini, penduduk luar bandar yang miskin dipindahkan ke petempatan baru dan menjadi petani

Agensi yang dimaksudkan adalah

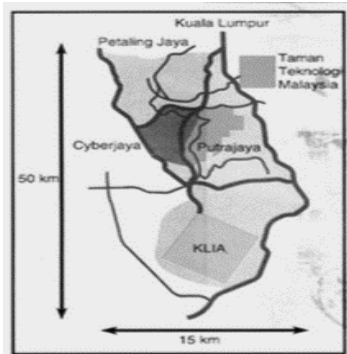
- A Lembaga Pembangunan Industri Desa (RIDA)
  - B Lembaga Kemajuan Tanah Persekutuan (FELDA)
  - C Lembaga Pemasaran Pertanian Persekutuan (FAMA)
  - D Lembaga Kemajuan Perindustrian Malaysia (MARDI)
- 37 Mengapakah Buku Merah diperkenalkan dalam Rancangan Malaya Kedua?
- A Menilai pelaksanaan rancangan pembangunan negara
  - B Mengawal mutu perkhidmatan pegawai kerajaan
  - C Memantau pengurusan kewangan negara
  - D Memeriksa tahap kesihatan penduduk
- 38 Antara langkah kerajaan untuk memajukan bahasa Melayu adalah dengan
- I melaksanakan Dasar Kebudayaan Kebangsaan
  - II menggunakan bahasa Melayu di peringkat pra sekolah
  - III menggalakan mahkamah menggunakan bahasa Melayu
  - IV menubuhkan Dewan Bahasa dan Pustaka
- A I dan II
  - B I dan IV
  - C II dan III
  - D III dan IV

- 39 Logo di bawah berkaitan dengan salah satu pertubuhan yang dianggotai Malaysia pada tahun 1957 demi keamanan dunia.



Pertubuhan yang dimaksudkan adalah

- A Persatuan Negara-negara Asia Tenggara (ASEAN)
  - B Pergerakan Negara-negara Berkecuali (NAM)
  - C Pertubuhan Bangsa-Bangsa Bersatu (PBB)
  - D Pertubuhan Persidangan Islam (OIC)
- 40 Lakaran peta menunjukkan kawasan Koridor Raya Multimedia dan keluasannya.



Lakaran Peta 1

Apakah tujuan penubuhan kawasan koridor tersebut?

- A Menggalakkan pembangunan industri
- B Mengawal kemasukan pendatang asing
- C Membentuk masyarakat bermaklumat
- D Membangunkan kawasan berprestasi rendah

### KERTAS SOALAN TAMAT