

NAMA : NO. KAD PENGENALAN : KELAS : 

## PEJABAT PENDIDIKAN DAERAH SEMPORNA

### PEPERIKSAAN PERCUBAAN SPM TAHUN 2021

#### EKONOMI (3767/1)

#### Kertas 1

1 Jam 15 Minit

Satu jam lima belas minit

---

JANGAN BUKA KERTAS SOALAN INI SEHINGGA DIBERITAHU

1. Kertas soalan peperiksaan ini mengandungi **40** soalan.
2. Jawab **semua** soalan.
3. Tiap-tiap soalan diikuti oleh empat pilihan jawapan iaitu, **A, B, C** dan **D**. Bagi setiap soalan, pilih **satu** jawapan sahaja. **Hitamkan** jawapan anda pada kertas jawapan objektif yang disediakan. Jika anda hendak menukar jawapan, padamkan tanda yang telah dibuat. Kemudian hitamkan jawapan anda yang baharu.
4. Anda dibenarkan menggunakan kalkulator saintifik.

---

Kertas soalan ini mengandungi **16** halaman bercetak

**Arahan :** *Kertas soalan ini mengandungi 40 soalan. Jawab semua soalan.*

1. Gambar berikut menunjukkan sejenis faktor pengeluaran.



Pernyataan manakah yang menggambarkan faktor pengeluaran tersebut?

- A Input produktif yang dicipta oleh manusia untuk meningkatkan pengeluaran
- B Sumber semulajadi yang mempunyai penawaran terhad
- C Berperanan menyelaraskan dan menggabungkan faktor pengeluaran
- D Membenarkan orang lain mengurus keuntungannya

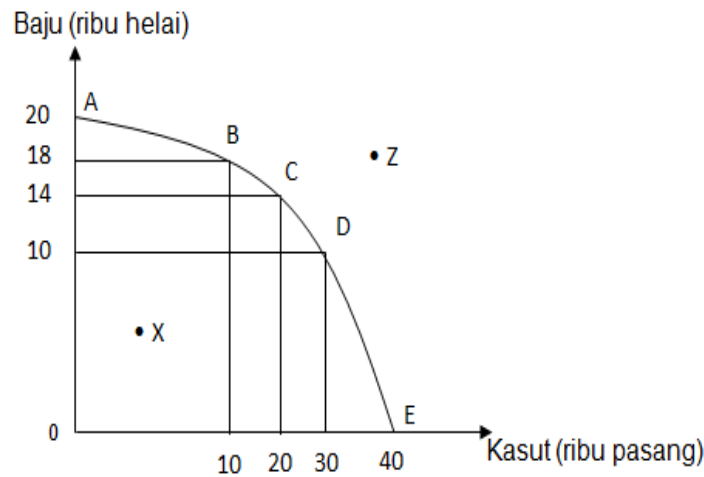
2. Jadual di bawah menunjukkan dua barang yang dikeluarkan oleh satu firma.

Kaedah Pengeluaran	Meja (unit)	Kerusi (unit)
M	100	35
N	70	40
P	40	60
Q	20	75

Jika pihak pengurusan firma tersebut mengambil keputusan untuk mengubah kaedah pengeluaran daripada P kepada Q, berapakah unit meja yang terpaksa dilepaskan?

- A 15 unit
- B 20 unit
- C 40 unit
- D 75 unit

3. Rajah di bawah berkaitan dengan Keluk Kemungkinan Pengeluaran (KKP).



Pernyataan manakah yang **betul** berkaitan dengan KKP di atas?

- I Titik X menunjukkan kombinasi pengeluaran yang cekap
  - II Titik C menunjukkan berlaku kos lepas terhadap baju sebanyak 10 000 unit
  - III Titik Z menunjukkan ketidakupayaan ekonomi dalam mengeluarkan baju dan kasut
  - IV Titik ABCDE menunjukkan masalah pilihan di sepanjang KKP
- |             |              |
|-------------|--------------|
| A I dan II  | C II dan IV  |
| B I dan III | D III dan IV |

4. Maklumat yang berikut berkaitan dengan Encik Awie.

**Encik Awie telah berjaya mendapat pinjaman sebanyak RM30 000. Dia membuat keputusan untuk menggunakan tanah seluas satu hektar bagi mengusahakan kolam ternakan ikan air tawar dengan dibantu oleh dua orang pekerja tempatan.**

Antara yang berikut, masalah asas ekonomi manakah yang telah diselesaikan oleh Encik Awie?

- I Untuk siapa dikeluarkan
- II Apa yang hendak dikeluarkan
- III Bagaimana hendak dikeluarkan
- IV Berapa yang hendak dikeluarkan

- A I dan II  
 B I dan IV  
 C II dan III  
 D III dan IV

5. Pilih pasangan yang **benar** tentang sistem ekonomi dan ciri-cirinya.

	Sumber ekonomi	Keterangan
A	Sistem Ekonomi Islam	<ul style="list-style-type: none"> <li>• Kebajikan masyarakat diutamakan</li> <li>• Individu dan firma bebas tanpa kawalan kerajaan bagi memiliki sumber ekonomi</li> </ul>
B	Sistem Ekonomi Campuran	<ul style="list-style-type: none"> <li>• Terdapat persaingan yang sihat</li> <li>• Pihak swasta dan awam saling melengkapi output dipasaran</li> </ul>
C	Sistem Ekonomi Perancangan Pusat	<ul style="list-style-type: none"> <li>• Tiada persaingan antara firma</li> <li>• Kuasa permintaan dan penawaran menentukan harga sesuatu barang</li> </ul>
D	Sistem Ekonomi Pasaran Bebas	<ul style="list-style-type: none"> <li>• Harga ditentukan oleh mekanisme harga</li> <li>• Individu, swasta dan kerajaan bebas memiliki faktor pengeluaran</li> </ul>

6. Pernyataan manakah **benar** tentang hukum permintaan?

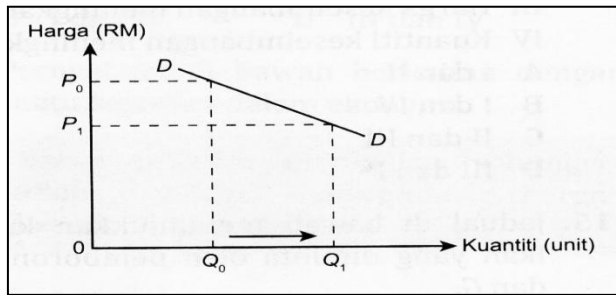
- A Sofea akan membeli lebih banyak barang apabila harga barang jatuh  
 B Fauzan akan membeli lebih banyak barang apabila harga barang meningkat  
 C Syarikat Amir akan mengeluarkan lebih banyak barang apabila harga barang jatuh  
 D Syarikat Wafi akan mengeluarkan lebih banyak barang apabila harga barang meningkat

7. Maklumat di bawah menunjukkan penentu permintaan bagi barang P.

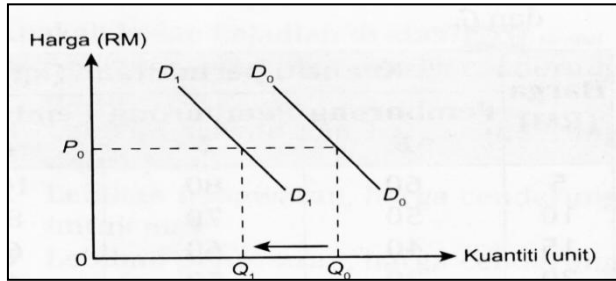
- |  |
|--|
| <ul style="list-style-type: none"> <li>➤ Harga barang P dijangka meningkat pada masa depan.</li> <li>➤ Kadar cukai pendapatan individu dikurangkan.</li> </ul> |
|--|

Keluk manakah yang menunjukkan perubahan permintaan bagi barang P?

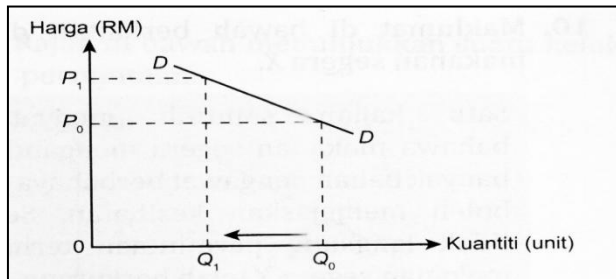
A



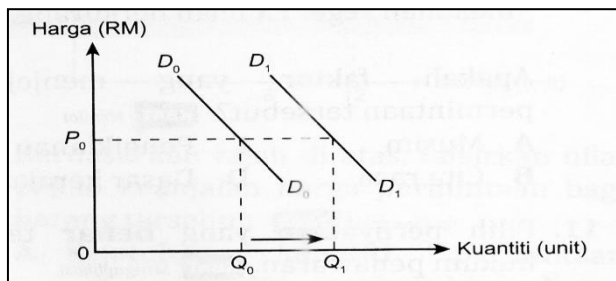
B



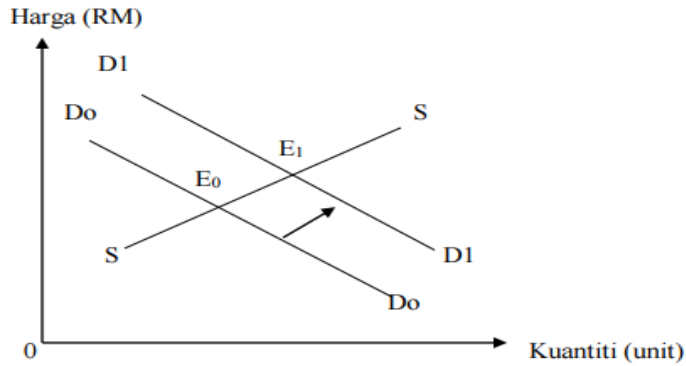
C



D



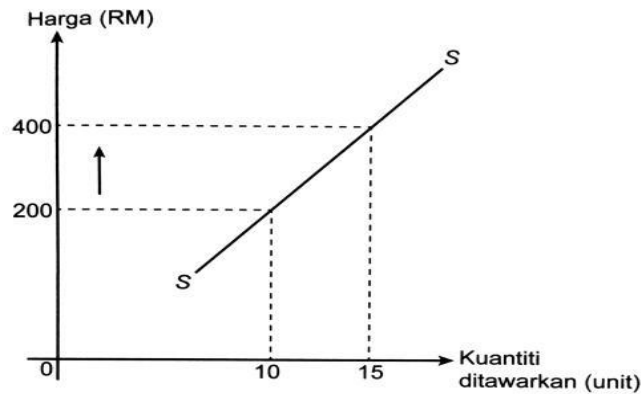
8. Rajah di bawah menunjukkan perubahan keseimbangan pasaran kereta tempatan.



Tindakan kerajaan manakah yang menyebabkan perubahan tersebut?

- A Melonggarkan syarat sewa beli
- B Menaikkan kadar faedah pinjaman
- C Melaksanakan kempen perkongsian kereta
- D Mengurangkan pelepasan cukai pendapatan

9. Rajah di bawah menunjukkan keluk penawaran barang W.



Berapakah nilai keanjalan penawaran barang W?

- A 0.3
- B 0.5
- C 1.0
- D 3.0







- A I dan II  
 B I dan IV  
 C II dan III  
 D III dan IV

16. Jadual di bawah menunjukkan kos yang ditanggung oleh Firma Hasnim.

Jumlah output (unit)	Kos tetap (RM)	Kos berubah (RM)
5	10	20
10	10	40
15	10	55
20	10	65

Berapakah kos purata yang ditanggung oleh Firma Hasnim apabila jumlah output ialah 15?

- A RM2.00  
 B RM3.00  
 C RM3.70  
 D RM4.30

17. Maklumat berikut berkaitan dengan pengeluaran Syarikat Jana Utama.

Syarikat Jana Utama mengeluarkan 9500 pasang kasut dan menjualnya dengan harga RM 48 sepasang.

Kos pengeluaran syarikat ialah :

<b>Kos bahan mentah</b>	<b>RM 92 400</b>
<b>Upah buruh</b>	<b>RM 42 800</b>
<b>Sewa bangunan</b>	<b>RM 16 500</b>
<b>Bil elektrik, air dan telefon</b>	<b>RM 18 200</b>

Berapakah jumlah untung Syarikat Jana Utama pada bulan tersebut?

- A RM169 900  
 B RM286 100  
 C RM350 800  
 D RM456 000

18. Apakah faedah sosial yang akan timbul apabila kerajaan negeri menggalakkan penggunaan lebih banyak basikal di Pulau Pinang?
- A Kos pengangkutan yang lebih tinggi
  - B Kadar pengangguran yang rendah
  - C Kadar kesesakan lalu lintas yang rendah
  - D Kadar pencemaran udara yang lebih tinggi

19. Pernyataan di bawah berkaitan dengan eksternaliti.

Penurunan harga kereta tempatan menyebabkan permintaan kereta meningkat secara mendadak.

Berdasarkan pernyataan diatas, apakah kos sosial yang wujud kesan daripada situasi tersebut?

- A Taraf hidup masyarakat meningkat
  - B Keuntungan syarikat pengedar kereta meningkat
  - C Masalah pencemaran udara semakin meningkat
  - D Pendapatan boleh guna masyarakat meningkat
20. Antara yang berikut, faktor yang manakah akan meningkatkan produktiviti sesebuah organisasi?
- I Prosedur kerja yang fleksibel dan ringkas
  - II Proses membuat keputusan yang rumit
  - III Persekitaran kerja yang sempit dan berbahaya
  - IV Tenaga pekerja yang mahir dan berkebolehan
- A I dan II
  - B I dan IV
  - C II dan III
  - D III dan IV
21. Pernyataan manakah yang betul menggambarkan faedah sosial bagi pembinaan Perkhidmatan Tren Elektrik (ETS)?
- I Pencemaran udara meningkat
  - II Kos perubatan semakin meningkat

- III Peningkatan dalam peluang pekerjaan
- IV Kadar kesesakan lalu lintas yang rendah antara bandar
- A I dan II
- B I dan IV
- C II dan III
- D III dan IV

22. Inflasi tarikan permintaan disebabkan oleh

- I Kenaikan kuasa beli
- II Penurunan kadar upah
- III Kenaikan harga barang import
- IV Penawaran wang bertambah dalam pasaran
- A I dan II
- B I dan IV
- C II dan III
- D III dan IV

23. Jadual di bawah menunjukkan indeks harga pengguna di Malaysia.

Tahun	Indeks harga pengguna (IHP)
2017	112.80
2018	116.80
2019	120.90

Berapakah kadar inflasi pada tahun 2018?

- A 3.39
- B 3.42
- C 3.55
- D 4.05

24. Maklumat di bawah menunjukkan harga semasa bahan api bagi tahun 2019.

Perbandingan Harga Bahan Api 2019		
Bulan	RON 95/liter	DIESEL/liter
Jun	1.70	1.55
Nov	1.95	1.90

Apakah kesan perubahan harga tersebut ke atas ekonomi Malaysia?

- A Kos sara hidup rakyat menurun
- B Berlaku inflasi tolakan kos
- C Keluk penawaran diesel beralih ke kiri
- D Barang eksport Malaysia berdaya saing

25 Antara berikut, manakah yang berkaitan dengan pertumbuhan ekonomi yang mampan?

- I Bilangan tenaga buruh bertambah
  - II Pertambahan pendapatan negara benar
  - III Sikap keterbukaan masyarakat menurun
  - IV Jurang pendapatan antara bandar dan luar bandar semakin bertambah
- A I dan II
  - B I dan IV
  - C II dan III
  - D III dan IV

26. Dasar fiskal mempengaruhi aktiviti ekonomi dengan

- A Kadar faedah dan kadar cukai
- B Kadar cukai dan perbelanjaan kerajaan
- C Kadar faedah dan kadar rizab berkanun
- D Perbelanjaan kerajaan dan kadar rizab berkanun



30. Maklumat di bawah berkaitan dengan ciri-ciri syarikat multinasional.

- Firma mempunyai cawangan di beberapa buah negara
- Pemindahan dan penggunaan teknologi yang canggih
- Z

Apakah firma Z?

- A Firma besar bersaing dengan firma kecil
- B Memaksimumkan keuntungan dan kebajikan
- C Menggunakan bahan mentah di negara sendiri
- D Semua cawangan firma dikawal oleh firma induk di negara asal

31. Pernyataan manakah yang menggambarkan liberalisasi?

- A Daya saing firma tempatan meningkat
- B Mobiliti sumber ekonomi lebih terbatas
- C Mewujudkan halangan bagi kemasukan barang import
- D Menafikan halangan bagi aliran barang merentasi sempadan

32. Apakah kesan dasar lambakan barang dari negara China ke atas Malaysia?

- I Pendapatan negara terjejas
  - II Peningkatan dalam pengangguran
  - III Imbangan pembayaran semakin baik
  - IV Permintaan barangan tempatan meningkat
- A I dan II
  - B I dan IV
  - C II dan III
  - D III dan IV

33. Situasi manakah yang menyebabkan imbalan dagangan cenderung menjadi positif?
- A Kemasukan pelaburan asing ke Malaysia
  - B Peningkatan pelancong asing ke Malaysia
  - C Peningkatan eksport getah asli ke Singapura
  - D Bilangan pelajar Malaysia di luar negara meningkat
34. Bagaimanakah kadar pertukaran asing ditentukan?
- A Interaksi antara permintaan dan penawaran mata wang asing
  - B Jumlah rizab asing yang dimiliki oleh bank pusat sesebuah negara
  - C Jumlah urus niaga yang berlaku di antara sebuah negara dengan negara lain
  - D Permintaan mata wang asing dari negara yang membayar balik pinjaman luar negara
35. Jadual di bawah berkaitan dengan perubahan kadar pertukaran asing antara mata wang Dolar Singapura dengan mata wang Ringgit Malaysia.

Tahun	Kadar Pertukaran Asing
2017	S\$1 = RM3.00
2016	S\$1 = RM3.20

Antara berikut, manakah yang betul bagi menerangkan kesan perubahan tersebut?

- I Import Malaysia naik
  - II Eksport Malaysia bertambah
  - III Imbalan dagangan menjadi positif
  - IV Rizab asing akan mengalir keluar negara
- A I dan II
  - B I dan IV
  - C II dan III
  - D III dan IV

Soalan 36 hingga soalan 40 adalah berdasarkan pilihan jawapan seperti di bawah.

Pilihan	Pernyataan I	Pernyataan II
A	Betul	Salah
B	Salah	Betul
C	Betul	Betul
D	Salah	Salah

36. I Hukum permintaan menyatakan bahawa apabila harga meningkat, kuantiti diminta akan meningkat.  
 II Hukum permintaan digambarkan oleh keluk permintaan mencerun ke atas dari kiri ke kanan
37. I Encik Siva dibayar faedah yang tinggi kerana dia adalah pemegang akaun Semasa  
 II Sebagai pemegang akaun semasa, Encik Siva mendapat kemudahan overdraf
38. I Imbangan dagangan berkaitan dengan beza antara nilai eksport nampak dengan nilai import nampak.  
 II Kenaikan nilai Ringgit Malaysia berbanding mata wang asing boleh menyebabkan imbangan dagangan menjadi semakin positif
39. I Perbelanjaan mengurus bersifat tidak berulang setiap tahun  
 II Contoh perbelanjaan mengurus ialah perkhidmatan sosial
40. I Kadar pertukaran asing adalah nilai satu unit mata wang sesebuah negara dalam sebutan mata wang negara lain.  
 II Perubahan kadar pertukaran asing sesebuah negara akan menyebabkan perubahan permintaan ke atas eksport dan import negara lain