

MODUL PINTAS TINGKATAN LIMA

2021

2 JAM 15 MINIT

3767/2

EKONOMI

Kertas 2

ARAHAN :

1. **Jangan Buka Kertas Peperiksaan Ini Sehingga Diberitahu.**
2. Tulis **nombor kad pengenalan, angka giliran, nama, tingkatan** anda pada petak yang disediakan.
3. Kertas peperiksaan ini mengandungi **dua** bahagian: **Bahagian A** dan **Bahagian B**.
4. Jawab **semua** soalan dalam **Bahagian A** dan **dua** soalan daripada **Bahagian B**.
5. Jawapan anda hendaklah ditulis pada ruang yang disediakan dalam kertas peperiksaan ini.
6. Markah yang diperuntukkan bagi setiap soalan atau ceraihan soalan ditunjukkan dalam kurungan.
7. Jika anda hendak menukar jawapan, batalkan dengan kemas jawapan yang telah dibuat. Kemudian tulis jawapan yang baharu.
8. Anda dibenarkan menggunakan kalkulator saintifik.
9. Semua kertas jawapan anda hendaklah diserahkan kepada pengawas peperiksaan pada akhir peperiksaan.

Kegunaan Pemeriksa			
Kod Pemeriksa :			
Bahagian	Soalan	Markah Penuh	Markah Diperoleh
A	1	20	
	2	20	
	3	20	
B	4	20	
	5	20	
	6	20	
	7	20	
Jumlah			

NO. KAD PENGENALAN

							-												
--	--	--	--	--	--	--	---	--	--	--	--	--	--	--	--	--	--	--	--

ANGKA GILIRAN

--	--	--	--	--	--	--	--	--	--

NAMA :

TINGKATAN :

Kertas peperiksaan ini mengandungi 20 halaman bercetak.

Bahagian A

[60 markah]

Jawab **semua** soalan di bahagian ini.

- 1 (a) Maklumat berikut berkaitan dengan satu faktor pengeluaran.

Bekerja dengan orang lain untuk memperoleh ganjarannya

Huraikan faktor pengeluaran tersebut.

.....

.....

.....

.....

.....

.....

.....

.....

[5 markah]

- (b) Jelaskan cara sistem ekonomi campuran menyelesaikan masalah asas ekonomi berikut:

Jumlah barang yang dikeluarkan

Agihan barang yang dikeluarkan

.....

.....

.....

.....

.....

.....

.....

.....

[4 markah]

(c) Jadual 1 berkaitan dengan penawaran dan permintaan pasaran bagi suatu barang.

Harga (RM)	Penawaran Pasaran (unit)	Permintaan Pasaran (unit)
1	20	40
3	40	20
5	60	10

Jadual 1

- (i) Dengan menggunakan kertas graf yang disediakan di halaman 4, lukiskan keluk keseimbangan pasaran. [4 markah]
- (ii) Berdasarkan jawapan di 1(c)(i), jelaskan keadaan keseimbangan pasaran pada harga RM1.50.

.....

.....

.....

.....

.....

[2 markah]

(d) Maklumat berikut berkaitan dengan keanjalan harga permintaan suatu barang.

Nilai keanjalan harga permintaan ialah 2.7

Jelaskan keanjalan harga permintaan barang tersebut.

.....

.....

.....

.....

.....

.....

.....


.....

.....

.....

[5 markah]

Graf untuk Soalan 1(c)(i)



2 Iklan berikut berkaitan dengan fungsi wang.



Harga Tunai: RM2 779

Harga Ansuran: RM3 000

Bayaran Bulanan: RM200

(a) Jelaskan fungsi wang yang berkaitan dengan iklan tersebut.

.....

.....

.....

.....

.....

.....

.....

.....

.....

.....

[4 markah]

(b) Jelaskan perbezaan pinjaman overdraf dengan pinjaman bercagar.

.....

.....

.....

.....

.....

.....

.....

.....

.....

.....

.....

.....

.....

.....

.....

[6 markah]

(c) Maklumat berikut berkaitan dengan faktor pemilihan pekerjaan oleh Cik Wafa.

Wafa berkelulusan Sijil Tinggi Persekolahan Malaysia (STPM) adalah anak seorang pendidik. Dia bekerja sebagai operator pengeluaran di sebuah kilang di Johor. Dia menerima gaji RM2 500 sebulan. Pada bulan Januari lalu, dia telah menerima tawaran sebagai guru tadika KEMAS di kampungnya Sungai Buloh, Selangor. Gaji yang ditawarkan ialah RM1 500 sebulan.

Mengapakah Cik Wafa menukar pekerjaannya?

.....

.....

.....

.....

.....

.....

.....

.....

.....

.....

.....

.....

[4 markah]

(d) Jadual 2 menunjukkan pendapatan boleh guna dan perbelanjaan Encik Azlan bagi tempoh satu bulan.

Butiran	RM
Pendapatan boleh guna	2 500.00
Makanan	800.00
Bil semasa	300.00
Ansuran motosikal	250.00
Hiburan	150.00
Sewa rumah	600.00
Insurans nyawa	200.00

Jadual 2

Encik Azlan bekerja sebagai kerani kewangan di sebuah syarikat. Dia baru sahaja mendirikan rumah tangga dan isterinya tidak bekerja. Dia bercadang untuk membeli sebuah kereta. Jumlah ansuran kereta tersebut ialah RM450.00 sebulan.

Wajarkah Encik Azlan meneruskan hasratnya? Beri alasan anda.

.....

.....

.....

.....

.....

.....

.....

.....

.....

.....

.....

.....

.....

.....

.....

.....

[6 markah]

3 (a) Logo berikut berkaitan dengan firma dan peranan kerajaan.



Jelaskan firma tersebut.

.....

.....

.....

.....

.....

.....

.....

.....

.....

[4 markah]

(b) Petikan akhbar berikut berkaitan dengan satu tindakan kerajaan.

RM3.3 bilion bantu PKS terjejas COVID-19

KUALA LUMPUR: Sejumlah RM3.3 bilion diperuntukkan di bawah Tabung Bank Negara Malaysia (BNM) dalam Pakej Rangsangan Ekonomi 2020 bagi membantu Perusahaan Kecil dan Sederhana (PKS) meneruskan operasi perniagaan, pekerjaan selain menggalakkan pelaburan dalam negeri.

Sumber: *Berita Harian Online*, 19 Mac 2020

Bagaimanakah tindakan kerajaan tersebut membantu PKS meneruskan operasi perniagaan?

.....

.....

.....

.....

.....

.....

.....

.....

.....

.....

[4 markah]

(c) Jelaskan kebaikan yang diperoleh daripada aktiviti pelaburan langsung asing di Malaysia.

.....

.....

.....

.....

.....

.....

.....

.....

.....

.....

.....

.....

.....

.....

.....

.....

.....

.....

.....

.....

.....

.....

.....

[6 markah]

(d) Mengapakah sekatan diperlukan dalam perdagangan antarabangsa?

.....

.....

.....

.....

.....

.....

.....

.....

.....

.....

.....

.....

.....

.....

.....

.....

.....

.....

.....

.....

.....

.....


[6 markah]

Bahagian B

[40 markah]


Jawab dua soalan sahaja.

- 4 Petikan akhbar berikut berkaitan dengan aktiviti negatif satu unit ekonomi.

	<p style="text-align: center;">Terima banyak kes peniaga daging tidak ikut harga kawalan</p> <p>GEORGETOWN: Pejabat Perdagangan Dalam Negeri dan Hal Ehwal Pengguna negeri menerima sebanyak 12 kes berhubung peniaga daging lembu tempatan yang tidak mengikut peraturan Skim Harga Maksimum Musim Perayaan (SHMMP) sejak dilaksana dua minggu lalu.</p> <p style="text-align: right;">Sumber diubah suai: <i>utusan.com.my</i>, 7 Mei 2021</p>
---	---

- (a) Jelaskan unit ekonomi yang menjadi sasaran kepada aktiviti negatif tersebut. [5 markah]
- (b) Bincangkan kesan kerajaan melaksanakan peraturan tersebut terhadap ekonomi. [9 markah]
- (c) “Pengguna mempunyai cara bagi mengurangkan kesan aktiviti negatif tersebut”.
Jelaskan pernyataan tersebut. [6 markah]

5 Rajah 1 menunjukkan maklumat berkaitan dengan pandemik Covid-19.

 <p>Sumber: <i>Bernama</i>, 2 Mei 2020</p>	<p>Pelbagai sektor terima impak wabak Covid-19</p> <p>Covid-19 menghantui seluruh dunia termasuk Malaysia. Penularannya menghambat ekonomi, sosial dan politik negara, namun dari sisi lain masih memberi sedikit implikasi positif.</p> <p>Sumber: <i>Berita Harian</i>, 27 Mac 2020</p>
Maklumat 1	Maklumat 2

Rajah 1

- (a) Dengan bantuan Rajah 1, jelaskan kesan Maklumat 1 terhadap pasaran makanan di Malaysia. [7 markah]
- (b) Cadangkan cara firma di Maklumat 1 boleh terus meraih keuntungan walaupun dilanda pandemik Covid-19. [4 markah]
- (c) Berdasarkan Maklumat 2, bersetujukah anda bahawa pandemik tersebut memberi implikasi positif terhadap sektor ekonomi yang tertentu? Beri alasan terperinci. [9 markah]

- 6 Maklumat berikut berkaitan dengan sejenis cukai.

Pelaksanaan cukai ke atas minuman bergula dapat kurangkan kos perubatan pada masa depan – MATA

KUALA LUMPUR: Pelaksanaan cukai eksais 40 sen seliter ke atas minuman bergula bermula hari ini. Cukai ini dikenakan ke atas minuman atau jus yang melebihi 12 g gula bagi setiap 100 ml, namun demikian ia tidak melibatkan minuman yang dibancuh di restoran. Ini dapat membantu kerajaan mengurangkan kos perubatan berikutan pengambilan gula berlebihan dalam kalangan rakyat, kata Presiden Persatuan Akauntan Percukaian Malaysia (MATA), Datuk Abdul Aziz Abu Bakar.

Sumber diubah suai: *Utusan Online*, 1 Julai 2019

- (a) Jelaskan cukai tersebut. [4 markah]
- (b) Dengan bantuan gambar rajah yang sesuai, jelaskan beban cukai ditanggung pengguna berbanding dengan pengeluar apabila cukai tersebut dilaksanakan. [7 markah]
- (c) Pelaksanaan cukai tersebut dapat membantu kerajaan mengurangkan perbelanjaan terhadap kos perubatan rakyat.
Bersetujukah anda dengan pernyataan tersebut? Kemukakan alasan anda. [9 markah]
- 7 Petikan akhbar berikut berkaitan dengan imbangan akaun semasa Malaysia.

Lebih akaun semasa dijangka rendah pada tahun 2021

KUALA LUMPUR, 6 Nov - Lebih akaun semasa dijangka lebih rendah sebanyak RM20.3 bilion pada tahun 2021 selari dengan pengembangan dalam aktiviti perindustrian serta pelaburan domestik.

Sumber diubah suai: *Bernama*, 6 November 2020

- (a) Jelaskan butiran-butiran di dalam akaun semasa. [5 markah]
- (b) Mengapakah keadaan imbangan akaun semasa pada tahun 2021 dijangkakan sedemikian? [6 markah]
- (c) Ekonomi negara akan mendapat kebaikan daripada keadaan lebih akaun semasa. Huraikan secara terperinci. [9 markah]

KERTAS PEPERIKSAAN TAMAT