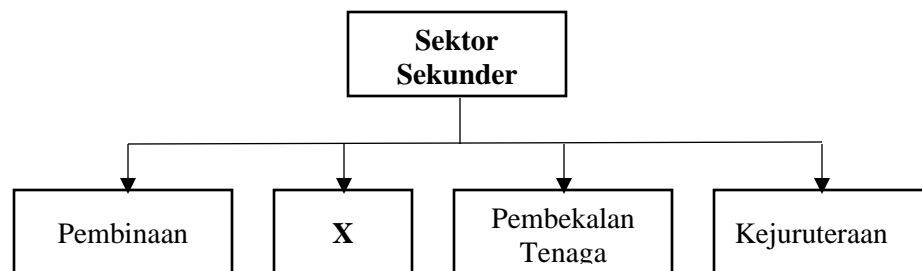


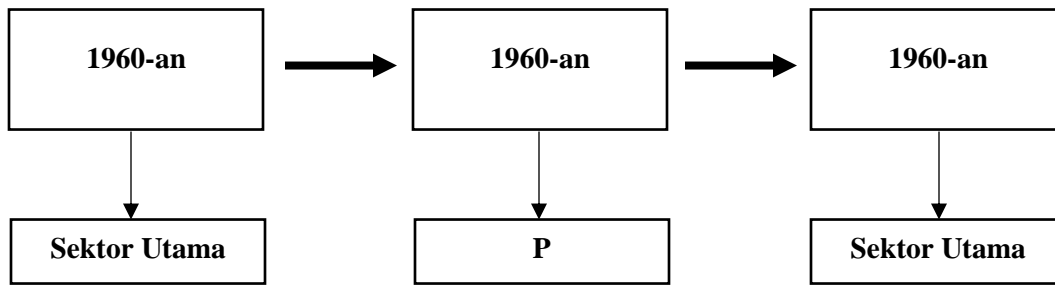
1. Apakah kelebihan bentuk pemilikan Seniap Kuasa Berhad berbanding Kuasa Senin Sendirian Berhad?
 - A. Saham boleh diurus niaga di Bursa Malaysia
 - B. Pemegang syer menanggung liabiliti terhad
 - C. Bilangan ahli maksimum adalah 50 orang
 - D. Dikenakan cukai yang rendah
2. Pernyataan manakah yang menerangkan persamaan antara perniagaan bersaiz kecil dengan perniagaan bersaiz sederhana?
 - A. Pengkhususan kerja mudah dilakukan
 - B. Pekerja berpengalaman mudah diperoleh
 - C. Perniagaan menikmati ekonomi bidangan
 - D. Perubahan dalam strategi perniagaan mudah dilaksanakan
3. Rajah 1 adalah merupakan kategori dalam sektor sekunder.



Rajah 1

Apakah aktiviti perniagaan yang berkaitan dengan X

- A. Pemprosesan kunyit
- B. Penternakan lembu tenusu
- C. Perkhidmatan penghantaran
- D. Pembekalan barang runcit



Rajah 2

4. Rajah 2 berkaitan dengan perkembangan sektor perniagaan di Malaysia. Apakah aktiviti berkaitan **P**?

	P
A	Pembinaan
B	Pelancongan
C	Pelancongan
D	Pengilangan

5. Apakah peranan Bank Negara Malaysia?
- Menyediakan bantuan kewangan kepada usahawan
 - Menawarkan pembiayaan kepada orang ramai
 - Memantau dan mengawal keadaan ekonomi
 - Menerbitkan syer syarikat awam berhad
6. Bagaimanakah kerajaan mengatasi masalah pengangguran bermusim?
- Mengehadkan penggunaan mesin moden untuk proses tertentu
 - Melaksanakan dasar fiskal untuk mengekang kemelesatan ekonomi
 - Memberi insentif kepada peniaga yang membenarkan pekerja terus bekerja
 - Membuat perancangan ekonomi sesuai dengan trend perubahan ekonomi semasa
7. Pernyataan manakah merupakan persekitaran luaran yang boleh menjayakan sesebuah perniagaan?
- Struktur organisasi yang mantap dapat menyelaraskan aktiviti antara jabatan
 - Pembekal bahan mentah memberikan kemudahan kredit jangka pendek
 - Peluang kenaikan pangkat disediakan sebagai untuk meningkatkan motivasi pekerja
 - Sumber kewangan syarikat mencukupi untuk mengembangkan perniagaan

8. Gambar 1 adalah dialog antara seorang pengurus (Encik Abas) dengan staf bawahannya (Puan Natijah).



Gambar 1

- Apakah gaya pengurusan yang ditunjukkan oleh Encik Abas?
- A. Laissez-faire
 - B. Demokratik
 - C. Sederhana
 - D. Autokratik
9. Apakah halangan dalaman yang boleh membantutkan pencapaian wawasan?
- A. Politik semasa
 - B. Kemahiran pentadbiran
 - C. Kemudahan infrastuktur
 - D. Penguatkuasaan undang – undang

10. Pernyataan manakah yang betul tentang fungsian pengurusan pelanggan?
- A. Mengeluarkan produk baru
 - B. Menghasilkan barang melalui proses menukarkan input
 - C. Melaksanakan pengurusan pentadbiran untuk mencapai visi dan misi
 - D. Menyampaikan produk untuk memenuhi keperluan pengguna
11. Pernyataan manakah peranan bahagian fungsian penyelidikan dan pembangunan?
- A. Menambah baik produk sedia ada
 - B. Memproses input menjadi barang
 - C. Menggalakkan berlaku pertukaran barang
 - D. Menggunakan alat transaksi untuk pertukaran barang
12. Mengapakah bahagian fungsian pembelian penting dalam organisasi perniagaan?
- A. Menghasilkan barang dan perkhidmatan
 - B. Mencetak dan mengedarkan bahan promosi
 - C. Menentukan pemilihan pembekal yang bersesuaian.
 - D. Memastikan tidak berlaku kekurangan bekalan produk di pasaran
13. Mengapakah penggunaan teknologi maklumat penting dalam urusan perniagaan?
- A. Mengurangkan persaingan perniagaan
 - B. Memudahkan pelanggan mencuba barang
 - C. Memaksimumkan keuntungan perniagaan
 - D. Mewujudkan hubungan dan jaringan yang luas
14. Bagaimanakah pengurus sumber manusia dapat menjaga kebajikan pekerja?
- A. Melaksanakan program motivasi
 - B. Menyediakan skim latihan kemahiran
 - C. Menyediakan kemudahan klinik panel
 - D. Mengamalkan pengkhususan tugas

15. Situasi berikut berkaitan dengan faedah sistem penggajian sebuah perniagaan.

R	Pekerja menerima ganjaran pada setiap akhir tahun berdasarkan prestasi perniagaan.
S	Pekerja menerima ganjaran berdasarkan jumlah jualan yang diperolehi.

Apakah **R** dan **S**?

	R	S
A	Bonus	Komisen
B	Bonus	Upah
C	Elaun	Upah
D	Elaun	Komisen

16. Pernyataan berikut merupakan prosedur pengurusan sumber perniagaan.

- | |
|--|
| <ul style="list-style-type: none"> • Memasang CCTV di premis perniagaan • Menyediakan jadual penyelenggaraan peralatan |
|--|

Prosedur pengurusan tersebut melibatkan sumber

- A. fizikal
- B. manusia
- C. teknologi
- D. pembiayaan

17. Antara yang berikut, yang manakah sumber teknologi dalam operasi sesebuah perniagaan?

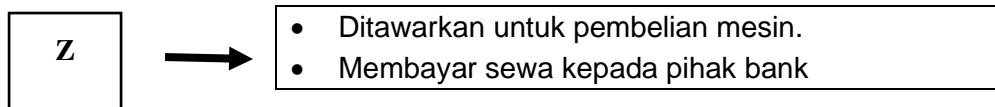
- I Komputer
 - II Mesin pencetak
 - III Perisian komputer
 - IV Karya seni
- A. I dan II
 - B. I dan IV
 - C. II dan III
 - D. III dan IV

18. Apakah faktor yang akan dipertimbangkan oleh pihak bank untuk meluluskan sesuatu pinjaman?

- I Nama perniagaan
- II Bilangan rakan kongsi
- III Nilai aset yang dicagar
- IV Tempoh bayaran balik pinjaman

- A. I dan II
- B. I dan IV
- C. II dan III
- D. III dan IV

19. Maklumat berikut berkaitan dengan sumber pembiayaan luaran.



Apakah **Z**?

- A. Syer
- B. Pajakan
- C. Overdraf
- D. Pemfaktoran

20. Apakah kelemahan sumber pembiayaan dalaman?

- A. Penjamin diperlukan
- B. Cagaran perlu disediakan
- C. Kadar faedah yang tinggi perlu dibayar
- D. Modal sukar ditambah dalam tempoh masa yang singkat

21. Pernyataan yang manakah merupakan kelebihan pembiayaan sewa beli kepada usahawan?

- A. Jentera berkos tinggi mampu digunakan
- B. Kadar faedah tidak dicaj ke atas ansuran
- C. Wang pendahuluan tidak diperlukan ketika membeli
- D. Hak milik jentera diperoleh sebaik sahaja deposit dibayar

22. Gambar 2 adalah perbualan antara Pak Hamid dengan anaknya, Mueez.



Gambar 2

Apakah agensi yang dimaksudkan oleh Mueez?

- A. Agrobank
 - B. Pihak Berkuasa Tempatan
 - C. Syarikat Jaminan Kredit Malaysia (CGC)
 - D. Tabung Ekonomi Kumpulan Usaha Niaga (TEKUN)
23. Apakah kelebihan pinjaman melalui agensi kerajaan berbanding pinjaman bank?
- A. Cagaran dalam apa jua bentuk
 - B. Jumlah pinjaman yang kecil
 - C. Kadar faedah yang rendah
 - D. Tiada syarat pinjaman
24. Apakah contoh kos berubah?
- A. Ansuran jentera
 - B. Sewa kilang
 - C. Premium insurans
 - D. Bahan mentah

25. Pernyataan manakah yang menerangkan kos tetap?
- A. Kos bahan mentah adalah kos tetap
 - B. Kos yang berkaitan dengan tingkat keluaran
 - C. Kos yang tidak berubah dalam jangka panjang
 - D. Kos yang malar walaupun tiada pengeluaran
26. Maklumat berikut berkaitan dengan Kunci Kira-Kira Syarikat Cahaya Sana Sini Sendirian Berhad.

	RM
Modal awal	150 000
Untung bersih	72 000
Ambilan	570
Pinjaman bank	50 000
Pemiutang	17 800

Berapakah ekuiti pemilik?

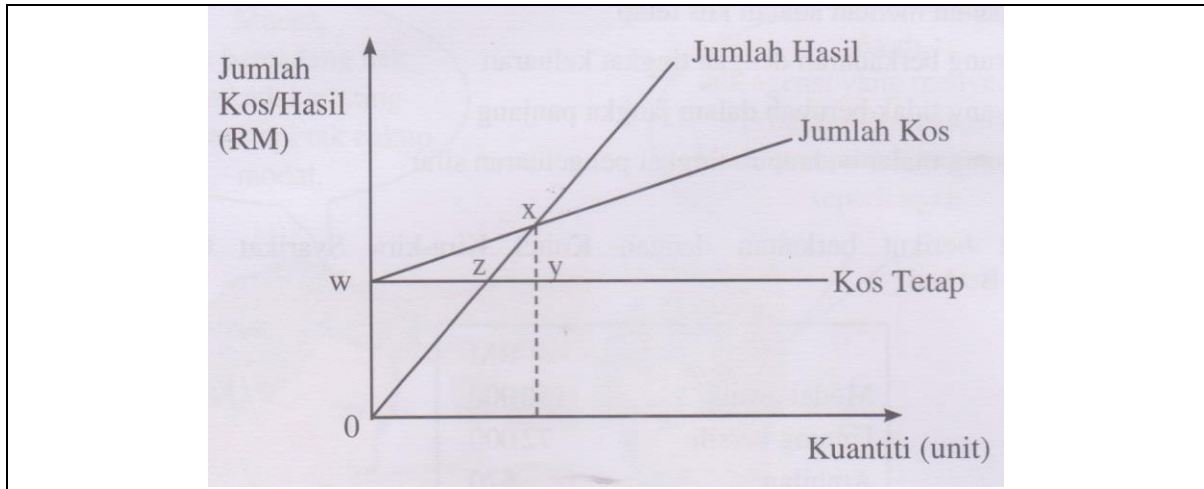
- A. RM 217 800
 - B. RM 221 430
 - C. RM 222 000
 - D. RM 289 230
27. Maklumat berikut diperolehi daripada sebuah perniagaan.

	RM
Sewa diterima	1 200
Susut nilai mesin	800
Stok akhir	900
Untung kasar	8 000
Faedah dibayar	700
Komisen diterima	400

Berapakah untung bersih perniagaan itu?

- A. RM 9 000
- B. RM 8 100
- C. RM 7 200
- D. RM 9 700

28. Rajah 3 berkaitan dengan graf kos dan hasil yang terlibat dalam suatu pengeluaran.



Rajah 3

Titik pulang modal berlaku pada titik

- A. w
- B. x
- C. y
- D. z

29. Maklumat berikut telah disediakan oleh seorang akauntan sebuah syarikat bagi menentukan pengeluaran unit bola sepak

Sewa kedai	RM 20000.00
Harga seunit bola	RM 150.00
Kos berubah seunit bola	RM 100.00

Berapakah unit bola sepak perlu dikeluarkan untuk capai TPM?

- A. 300
- B. 400
- C. 500
- D. 600

30. Apakah kesan yang ditunjukkan oleh nisbah kecairan yang tinggi?

- A. Membolehkan hutang dibayar dalam tempoh yang singkat
- B. Mengukur kadar untung yang boleh diperolehi
- C. Menggambarkan kecekapan pusingan stok
- D. Menunjukkan kecekapan penggunaan aset

31. Apakah peranan usahawan kepada masyarakat?
- A. Meningkatkan nilai sumber
 - B. Mewujudkan kerjasama serantau
 - C. Menyediakan pelbagai jenis barang
 - D. Mempercepatkan proses pembangunan ekonomi
32. Mengapakah telefon bimbit merupakan stok yang berisiko tinggi?
- A. Mudah rosak
 - B. Boleh dijual dengan cepat
 - C. Perlukan khdimat selepas jualan
 - D. Ketinggalan zaman jika disimpan lama
33. Apakah tindakan yang perlu dilakukan selepas perniagaan disiytihkan bankrap?
- A. Melaporkan kewangan perniagaan kepada pendaftar perniagaan
 - B. Memperbaharui sijil perakuan pendaftaran perniagaan
 - C. Menukar jenis pemilikan perniagaan
 - D. Menamatkan pendaftaran perniagaan
34. Antara berikut, yang manakah dokumen yang digunakan sebagai rekod pembelian?
- A. Bil pengangkutan
 - B. Bil mengepos
 - C. Bil insurans
 - D. Bil tunai
35. Apakah tujuan nota kredit dikeluarkan?
- I Pembeli memulangkan bekas kosong yang telah dicaj dalam invois
 - II Caj pengangkutan yang dikenakan ke atas pembeli
 - III Jumlah dalam invois terkurang caj
 - IV Komisen diberi kepada pembeli
- A. I dan II
 - B. I dan IV
 - C. II dan III
 - D. III dan IV

36. Situasi manakah merupakan contoh ambilan oleh pemilik perniagaan?
- Menerima barang daripada pengeluar
 - Memperoleh bekalan daripada pembekal
 - Menerima stok untuk memenuhi pesanan
 - Memperoleh stok untuk kegunaan keluarga
37. Maklumat berikut diambil daripada penyata aliran tunai Encik Ismail yang bercadang memulakan ternakan udang pada Januari 2019.

	RM
Modal:	
Tunai di tangan	50 000
Peralatan	20 000
Penerimaan	175 000
Pembayaran	83 000

Berapakah baki akhir bulan Januari 2019?

- RM 92 000
 - RM 122 000
 - RM 142 000
 - RM 162 000
38. Dokumen berikut merupakan format penyata aliran tunai.

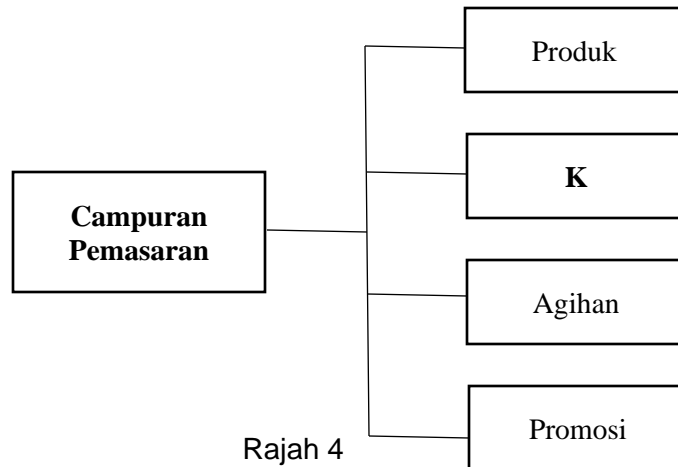
Kedai Elektrik Rahman
Penyata Aliran Tunai bagi tiga bulan berakhir 31 Mac 2019

Butiran	Jan	Feb	Mac
Baki b/b			
<u>Terimaan</u> F			
<u>Bayaran</u> G			

Apakah contoh item bagi **F** dan **G**?

	F	G
A	Modal	Iklan
B	Gaji	Komisen diterima
C	Jualan tunai	Modal
D	Belian tunai	Belanja utility

39. Rajah 4 berkaitan dengan aspek dalam pemasaran dan jualan produk.



Apakah aktiviti **K**?

- Memastikan perniagaan memperoleh keuntungan
- Menyedarkan pengguna akan kewujudan barang
- Membolehkan barang mampu berdaya saing
- Membolehkan output diperoleh pengguna

40. Maklumat di bawah ini menunjukkan persoalan yang boleh dijawab apabila menyediakan rancangan perniagaan.

- Siapakah sasaran pasaran untuk produk kita?

Berapa ramaikah pesaing dalam pasaran?

Bahagian manakah dalam rancangan perniagaan dapat menjawab soalan-soalan berkenaan?

- Rancangan operasi
- Rancangan kewangan
- Rancangan pemasaran
- Rancangan pentadbiran