

SULIT



**PENTAKSIRAN DIAGNOSTIK AKADEMIK
SEKOLAH BERASRAMA PENUH 2021**

PEPERIKSAAN PERCUBAAN SIJIL PELAJARAN MALAYSIA

SEJARAH

1249/1

Kertas 1

November 2021

1 jam

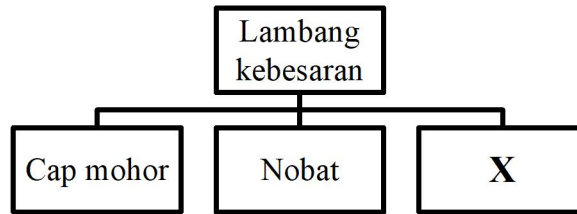
Satu jam

JANGAN BUKA KERTAS SOALAN INI SEHINGGA DIBERITAHU

1. *Kertas soalan ini mengandungi 40 soalan.*
2. *Jawab semua soalan.*
3. *Tiap-tiap soalan diikuti oleh empat pilihan jawapan iaitu A, B, C dan D. Bagi setiap soalan, pilih satu jawapan sahaja. Hitamkan jawapan anda pada kertas jawapan objektif yang disediakan.*
4. *Jika anda hendak menukar jawapan, sila padamkan lorekan yang telah dibuat. Kemudian hitamkan jawapan yang baharu.*

Kertas soalan ini mengandungi 17 halaman bercetak.

- 1 Rajah 1 berkaitan dengan lambang kebesaran yang menjadi salah satu ciri negara bangsa dalam Kesultanan Melayu Melaka.



Rajah 1

Apakah X ?

- A Regalia
B Tepak sireh
C Bahasa Melayu
D Wilayah pengaruh
- 2 Maklumat berikut berkaitan dengan keunggulan pentadbiran Kesultanan Melayu Melaka.

- Temenggung
- Laksamana

Apakah kesan pengenalan jawatan tersebut?

- A Keamanan terjamin
B Percukaian yang adil
C Perbendaharaan teratur
D Adat istiadat terpelihara
- 3 Revolusi Keagungan telah berlaku di England pada tahun 1688.
Mengapakah revolusi tersebut berlaku?
- I Menentang kenaikan cukai
II Menamatkan pemerintahan beraja
III Menegakkan kedaulatan parlimen
IV Memperjuangkan hak asasi rakyat
- A I dan II
B I dan IV
C II dan III
D III dan IV

- 4 Maklumat berikut berkaitan dengan dasar pemerintahan di Thailand.

Raja Mongkut	Raja Chulalongkorn
Melaksanakan birokrasi Barat	Meneruskan dasar terbuka

Mengapakah pemerintah Thailand melaksanakan dasar-dasar tersebut?

- A Mengekalkan warisan budaya
 - B Mempertahankan kedaulatan
 - C Menghapuskan kapitalis Barat
 - D Memansuhkan hak wilayah asing
- 5 Bagaimanakah pelajar Maktab Perguruan Sultan Idris menyedarkan rakyat untuk menentang penjajah pada abad ke-20?
- A Membawa masuk ulama Kaum Muda
 - B Menghasilkan karya nasionalisme
 - C Mempopularkan idea revolusi
 - D Menyebarkan gerakan Islah
- 6 Maklumat berikut berkaitan dengan usaha Kaum Muda di negara kita pada awal abad ke-20.

Kaum Muda berjaya menubuhkan Persatuan Kebajikan a-Jamiah al-Khairiah di Singapura demi kemajuan masyarakat.

Persatuan ini berjaya memajukan masyarakat dalam bidang

- A prasarana madrasah
- B pemerintahan
- C kebudayaan
- D perniagaan

- 7 Gambar 1 menunjukkan pertemuan tiga tokoh pemimpin Kuasa Bersekutu di Yalta, Rusia ketika Perang Dunia Kedua.



Gambar 1

Antara berikut, yang manakah menerangkan tentang hasil pertemuan mereka?

- A Penguatkuasaan teknik serangan *Blitzkrieg*
 - B Penyekatan serta merta serangan Jepun
 - C Peningkatan kerjasama ketenteraan
 - D Penamatan Operasi kod “D-Day”
- 8 Slogan berikut berkaitan dengan usaha Jepun menjayakan misi mereka ke negara kita.

“Asia untuk Orang Asia”

Apakah muslihat Jepun menggunakan slogan tersebut?

- A Menyelamatkan negara Asia
- B Menonjolkan kehebatan kuasa Barat
- C Memenuhi hasrat penduduk tempatan
- D Menaikkan imej sebagai pembela Asia

- 9 Semasa pendudukan tentera Jepun, beberapa jawatan tinggi diberikan kepada penduduk peribumi Sarawak.

Apakah kesan daripada tindakan tersebut?

- A Semangat berkerajaan sendiri semakin meningkat
 - B Orde baharu Asia Timur mula diwujudkan
 - C Slogan “Asia Untuk Asia” dilaksanakan
 - D Imperialis Barat hilang pengaruh
- 10 Rajah 2 menunjukkan perubahan pentadbiran British selepas Perang Dunia Kedua di negara kita.




Rajah 2

Mengapakah British melaksanakan perubahan tersebut?

- I Melicinkan pentadbiran
 - II Meningkatkan pelaburan
 - III Mengukuhkan sistem beraja
 - IV Membentuk perpaduan kaum
- A I dan II
 - B I dan IV
 - C II dan III
 - D III dan IV

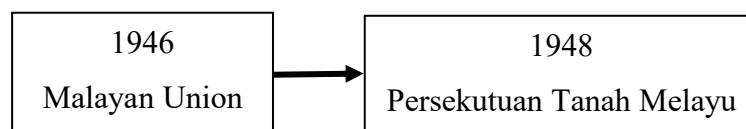
- 11 Ilustrasi 1 menunjukkan demonstrasi penduduk berkaitan penyerahan Sarawak kepada British selepas Perang Dunia Kedua.



Ilustrasi 1

Mengapakah poster mereka mencatatkan “We Do Not Want To Be Colonised” dan “Leburkan Koloni”?

- A Memprotes hukuman terhadap anggota Rukun 13
 - B Bertentangan dengan Perlembagaan 1941
 - C British menindas penduduk tempatan
 - D Vyner Brooke tua dan uzur
- 12 Rajah 3 menunjukkan perubahan pentadbiran di Tanah Melayu.



Rajah 3

Apakah sebab berlaku perubahan tersebut?

- A Tuntutan pelabur asing
- B Sokongan bukan Melayu
- C Cadangan Raja-raja Melayu
- D Desakan Parti Komunis Malaya

- 13 Gambar 2 menunjukkan tindakan sabotaj oleh komunis di Tanah Melayu.



Gambar 2

Mengapakah komunis bertindak sedemikian?

- A Melumpuhkan ekonomi British
 - B Melengahkan kemaraan tentera
 - C Memecah belahkan perpaduan
 - D Membuktikan kekuatan
- 14 Dialog berikut mungkin berlaku dalam kalangan pegawai British di Tanah Melayu pada zaman darurat.

Pegawai I : Kita tidak boleh menamatkan darurat melalui strategi ketenteraan semata-mata.
Pegawai II : Ya betul. Kita juga perlu memperkukuhkan perpaduan penduduk Tanah Melayu.

Berdasarkan dialog tersebut, apakah kesan zaman darurat kepada negara?

- A Sistem pendaftaran kebangsaan diperkenalkan
- B Pasukan keselamatan negara diperbesarkan
- C Kemerdekaan negara disegerakan
- D Kampung Baru diperluaskan

- 15 Jadual 1 berkaitan dengan usaha ke arah kemerdekaan.

Jawatankuasa Hubungan Antara Kaum (CLC)	
Tarikh	Januari 1949
Tujuan	Menghimpunkan pemimpin utama masyarakat pelbagai kaum
Moto	“Kebersamaan dan Keadilan untuk Penduduk Tanah Melayu”

Jadual 1

Sebagai pemimpin CLC, apakah yang akan dilakukan bagi merealisasikan moto tersebut?

- A Membentuk hala tuju yang sama
 - B Memperjuangkan hak sama rata semua rakyat
 - C Meningkatkan kesedaran pendidikan vernakular
 - D Memperketat pemberian syarat kewarganegaraan
- 16 Penyata Jawatankuasa Pelajaran 1956 yang dipengerusikan oleh Dato' Abdul Razak bin Hussein juga dikenali sebagai Penyata Razak 1956.
- Bagaimanakah penyata tersebut berusaha mengintegrasikan rakyat pelbagai kaum di negara kita?
- I Penggunaan kurikulum yang seragam
 - II Pengenalan buku teks berunsur tempatan
 - III Pendidikan sivik diajar secara formal di sekolah
 - IV Pelaksanaan sistem persekolahan yang sama bagi semua
- A I dan II
 - B I dan IV
 - C II dan III
 - D III dan IV

- 17 Jadual 2 berkaitan keputusan Pilihan Raya Majlis Perundangan Persekutuan 1955.

Parti Bertanding	Bilangan Calon	Kerusi Dimenangi
Perikatan	52	51
Parti Negara	30	0
Parti Islam Se-Tanah Melayu	11	1
Parti Kebangsaan Perak	8	0
Calon Bebas	18	0

Jadual 2

Mengapakah Parti Perikatan mencapai kemenangan besar dalam pilihan raya tersebut?





- A Mengadakan kerjasama politik
 - B Mendaftarkan calon lebih awal
 - C Memperjuangkan hak sama rata
 - D Meletakkan calon berpendidikan
- 18 Maklumat berikut berkaitan Suruhanjaya Perlembagaan Persekutuan Tanah Melayu.

Suruhanjaya Reid 1956	
Pengerusi	Lord Reid
Ahli	Sir William Ivor Jennings (Britain) Sir William Mckell (Australia) Hakim B. Malik (India) Hakim Abdul Hamid (Pakistan)

Bagaimanakah suruhanjaya tersebut berperanan membentuk perlembagaan bagi negara merdeka yang sejahtera?

- I Memperuntukkan hak sama rata untuk semua kaum
 - II Mengadakan referendum dalam kalangan penduduk
 - III Memastikan sistem kerajaan Persekutuan yang kuat
 - IV Mengamalkan sikap terbuka menerima pandangan
- A I dan II
 - B I dan IV
 - C II dan III
 - D III dan IV

- 19 Antara berikut, apakah prasarana yang disediakan oleh Jawatankuasa Persediaan Fizikal untuk meraikan pemasyhuran kemerdekaan pada 31 Ogos 1957?

I  Stadium Merdeka	II  Parlimen
III  Dewan Bahasa dan Pustaka	IV  Istana Negara

- A I dan II
 B I dan IV
 C II dan III
 D III dan IV
- 20 Rancangan berikut diperkenalkan setelah negara kita mencapai kemerdekaan.

Rancangan Buku Merah dilancarkan pada 25 Januari 1961

Apakah kepentingan rancangan tersebut?

- A Memodenkan pendidikan
 B Memajukan perindustrian
 C Membangunkan infrastruktur
 D Membanteras ancaman komunis

- 21 Setem kenangan berikut berkaitan keunikan rakyat Malaysia.



Bagaimanakah keunikan tersebut mengukuhkan kedaulatan negara kita?

- A Perkongsian sempadan negeri
 - B Pengamalan adat resam yang sama
 - C Kebebasan mutlak dalam bermasyarakat
 - D Keharmonian hidup dalam kalangan berbilang kaum
- 22 Pasangan manakah yang **betul** berkaitan badan dan pengubalan undang-undang sebelum merdeka.

	Badan	Penggubalan Undang-Undang
A	Majlis Kerja	Undang-undang Negeri-negeri Selat
B	Majlis Persekutuan	Undang-undang Negeri-negeri Melayu Bersekutu
C	Majlis Undangan Negeri	Undang-undang Negeri-negeri Melayu Tidak Bersekutu
D	Majlis Tertinggi	Undang-undang Negeri Sabah

- 23 Perkara berikut terlibat dengan pindaan Perlembagaan Persekutuan pada tahun 1965.

Struktur Mahkamah Atasan

Bagaimanakah pindaan perlembagan 1963 mengukuhkan struktur mahkamah tersebut?

- A Membentuk Mahkamah Khas
- B Memperkenalkan Mahkamah Rayuan
- C Mewujudkan Mahkamah Persekutuan
- D Menubuhkan Mahkamah Tinggi Malaya

- 24 Maklumat berikut berkaitan peranan Majlis Raja-Raja.

Berdasarkan peruntukan Perlembagaan Persekutuan, Majlis Raja-Raja berperanan sebagai pengimbang dalam sistem demokrasi di negara kita.
--

Bagaimanakah Majlis Raja-Raja melaksanakan peranan tersebut?

- A Mengesah pelantikan anggota Jemaah Menteri
 - B Memberi nasihat berkaitan pelantikan jawatan penting
 - C Mempunyai kuasa budi bicara dalam pembentukan kerajaan
 - D Memperkenan semua undang-undang yang diluluskan Parlimen
- 25 Pernyataan berikut berkaitan kebebasan asasi dalam Perlembagaan Persekutuan.

Kebebasan Bersuara, Berhimpun dan Berpersatuan

Setiap warganegara berhak kepada kebebasan bersuara, berhimpun secara aman dan membentuk persatuan.

Mengapakah kebebasan asasi tersebut tidak bersifat mutlak?

- A Tertakluk kepada Akta Parlimen
- B Memerlukan perkenan Yang di-Pertuan Agong
- C Terikat dengan kelulusan Dewan Undangan Negeri
- D Melempi tapisan Suruhanjaya Hak Asasi Manusia Malaysia

26 Logo berikut berkaitan pentadbiran Kerajaan Tempatan.



Berdasarkan Perlembagaan Persekutuan, di bawah senarai apakah pentadbiran tersebut diwartakan?

- A Senarai Persekutuan
- B Senarai Tambahan
- C Senarai Bersama
- D Senarai Negeri

27 Maklumat berikut berkaitan reaksi negara jiran terhadap pembentukan Malaysia.

Reaksi Filipina Terhadap Pembentukan Malaysia
Presiden Diosdado Pangan Macapagal menentang pembentukan Malaysia

Mengapakah Filipina memberi reaksi sedemikian?

- A Menuntut wilayah Sabah
- B Mempertahan keamanan serantau
- C Membantah dasar neokolonialisme
- D Memperjuang pembentukan Kesatuan Negeri Borneo

28 Antara berikut, yang manakah berkaitan kandungan dalam intipati Perjanjian Malaysia?

- A Perhubungan luar di bawah kuasa negeri
- B Pengagihan kerusi parlimen sama rata
- C Pemerintahan beraja mutlak
- D Pengiktirafan kedaulatan

29 Pemisahan Singapura menjadi cabaran utama selepas pembentukan Malaysia.

Apakah faktor pemisahan tersebut?

- A Hak sama rata semua kaum
- B Peningkatan ancaman komunis
- C Kebebasan bersuara secara mutlak
- D Penghapusan pasaran bersama disegerakan

30 Maklumat berikut berkaitan isu yang dihadapi oleh kerajaan semasa memperkenalkan Rancangan Malaysia Pertama (1966-1970).

- Kejatuhan harga bahan mentah
- Terlalu bergantung pada eksport getah dan bijih timah

Apakah usaha kerajaan untuk menangani masalah tersebut?

- A Mengukuhkan integrasi nasional
- B Mempelbagaikan kegiatan ekonomi
- C Menggerakkan industri pelancongan negara
- D Melibatkan sektor swasta dalam industri berat

31 Bagaimanakah Laporan Rahman Talib 1960 berusaha mengekalkan teras pendidikan kebangsaan untuk memupuk perpaduan dan integrasi?

- I Mewujudkan Kurikulum Baru Sekolah Rendah
 - II Menjadikan bahasa Melayu sebagai bahasa pengantar
 - III Mengadakan kurikulum yang sama berorientasikan negara
 - IV Memperkenalkan sistem persekolahan aneka jurusan
- A I dan II
 - B I dan IV
 - C II dan III
 - D III dan IV

- 32 Apakah yang mengukuhkan kedudukan bahasa Melayu sebagai bahasa kebangsaan pada tahun 1967?
- A Penubuhan Universiti Malaya
 - B Pengenalan Akta Bahasa Kebangsaan
 - C Pembinaan sekolah teknik dan vokasional
 - D Penggunaan bahasa Melayu dalam perniagaan
- 33 Rancangan Buku Hijau peringkat kebangsaan telah dilancarkan oleh Tun Abdul Razak pada 20 Disember 1974.
Mengapakah rancangan tersebut dilaksanakan?
- A Membuka lebih banyak petempatan baharu
 - B Menambahkan pengeluaran bahan makanan
 - C Menaik taraf kemudahan kesihatan peneroka
 - D Memberikan kemudahan kredit kepada petani
- 34 Dasar Ekonomi Baru (DEB) dan Dasar Pembangunan Nasional (DPN) berjaya melahirkan masyarakat Perdagangan dan Perindustrian Bumiputera.
Bagaimanakah hasrat tersebut tercapai?
- A Meramaikan golongan peneroka
 - B Menggalakkan pemilikan saham amanah
 - C Menubuhkan agensi pembangunan tanah
 - D Membentuk kelas bumiputera komersial
- 35 Sejak mencapai kemerdekaan, Malaysia menggubal dasar luar yang dinamik dan terbaik-baik dengan semua negara.
Mengapakah dasar tersebut dilaksanakan?
- A Mematuhi desakan negara luar
 - B Menjaga kepentingan kuasa besar
 - C Memelihara kedaulatan negara
 - D Memenuhi tuntutan rakyat

36 Malaysia telah menjayakan misi pengaman anjuran PBB di negara berkonflik berikut.

- Congo (Afrika)
- Kemboja (Asia)
- Bosnia dan Herzegovina (Eropah)

Antara berikut, yang manakah tugas misi di negara tersebut?

- I Membantu pentadbiran
 - II Mengadakan perjanjian
 - III Mengawasi senjata
 - IV Mendaulkan undang-undang
- A I dan II
 - B I dan IV
 - C II dan III
 - D III dan IV

37 Malaysia terlibat secara aktif menyelesaikan konflik politik yang berlaku di Indochina terutamanya di Vietnam dan Kemboja.

Mengapakah Malaysia berbuat sedemikian?

- A Memenuhi aspirasi kuasa besar
- B Menunjukkan kekuatan ketenteraan
- C Menjamin kestabilan rantau Asia Tenggara
- D Menggagalkan agenda penjajahan bentuk baharu

38 Maklumat berikut berkaitan pertubuhan antarabangsa.

- Pertubuhan Kerjasama Islam (OIC)
- Setiausaha Agung pertama ialah Tunku Abdul Rahman Putra al-Haj

Apakah matlamat pertubuhan tersebut?

- A Menyelesaikan konflik serantau
- B Mengukuhkan pakatan ketenteraan
- C Mewujudkan zon aman, bebas dan berkecuali
- D Menjaga kepentingan masyarakat negara anggota

- 39 Krisis politik di Syria yang bermula pada tahun 2011 menyebabkan rakyat Syria menghadapi masalah kekurangan makanan dan kemudahan perubatan. Bagaimanakah rakyat Malaysia memberikan bantuan dan sokongan kepada rakyat negara tersebut?
- I Menghantar pasukan tentera
 - II Memberikan bantuan kemanusiaan
 - III Menjalankan aktiviti kesukarelawanan
 - IV Membangunkan kemudahan asas
- A I dan II
B I dan IV
C II dan III
D III dan IV
- 40 Pengisytiharan Deklarasi Langkawi pada bulan Oktober 1989 membuktikan komitmen Malaysia dan negara Komanwel untuk memelihara alam sekitar. Antara berikut, yang manakah usaha Malaysia untuk menjayakan deklarasi tersebut?
- I Melancarkan Tahun Melawat Langkawi
 - II Melaksanakan Dasar Alam Sekitar Negara
 - III Melancarkan Dasar Teknologi Hijau Negara
 - IV Mengutarakan Antartika sebagai warisan sejagat
- A I dan II
B I dan IV
C II dan III
D III dan IV

KERTAS SOALAN TAMAT