

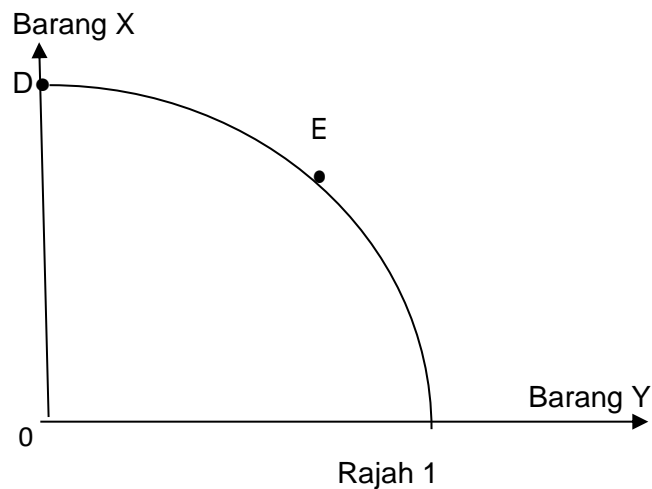
- 1 Ekonomi adalah kajian tentang
- A bagaimana manusia mengatasi masalah kos lepas
 - B bagaimana manusia memperuntukkan sumber ekonomi
 - C tindakan manusia untuk memenuhi kehendak yang terhad
 - D tindakan manusia untuk mengurangkan pembaziran sumber
- 2 Gambar 1 berikut menunjukkan faktor pengeluaran.



Gambar 1

Pernyataan manakah yang menggambarkan faktor pengeluaran tersebut?

- A Input produktif yang dicipta oleh manusia yang membantu dalam proses pengeluaran
 - B Berperanan menyelaraskan dan menggabungkan faktor pengeluaran
 - C Sumber semulajadi yang mempunyai penawaran terhad
 - D Membenarkan orang lain menguruskan untungnya
- 3 Rajah 1 berikut menunjukkan sebuah keluk kemungkinan pengeluaran.



Pilih pernyataan yang tepat apabila kombinasi pengeluaran bergerak daripada titik D ke E

- A Semakin banyak barang X dikeluarkan dalam ekonomi
- B Semakin banyak barang Y dikeluarkan dalam ekonomi
- C Kadar pengangguran adalah tinggi dalam ekonomi
- D Berlaku kemajuan tingkat teknologi pengeluaran

4 Apakah faktor yang mendorong kerajaan untuk campur tangan dalam sistem ekonomi campuran?

- A Melaksanakan projek pembangunan yang berisiko tinggi
- B Memastikan pulangan keuntungan yang tinggi
- C Memaksimumkan kebajikan rakyat
- D Mengelakkan pembaziran sumber

5 Maklumat berikut berkaitan dengan penyelesaian masalah asas ekonomi oleh Syarikat ABC.

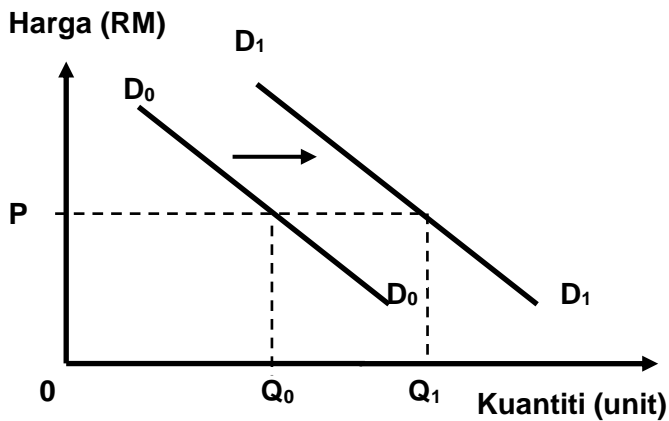
- Mengeluarkan barang dengan cara memaksimumkan keuntungan dan meminimumkan kos
- Bergantung kepada corak agihan pendapatan

Antara berikut, masalah asas ekonomi manakah yang dapat diselesaikan oleh Syarikat ABC?

- I Apa yang hendak dikeluarkan
- II Berapa hendak dikeluarkan
- III Bagaimana hendak dikeluarkan
- IV Untuk siapa hendak dikeluarkan

- A I dan II
- B I dan III
- C II dan III
- D III dan IV

- 6 Pernyataan yang manakah betul tentang keluk permintaan individu ?
- A Kecerunan lebih curam daripada keluk permintaan pasaran
 - B Menunjukkan keluk yang mencerun ke bawah dari kanan ke kiri
 - C Penurunan harga barang itu menyebabkan keluk beralih ke kanan
 - D Hubungan diantara harga dan kuantiti diminta adalah secara positif
- 7 Antara yang berikut yang manakah betul tentang permintaan pasaran ?
- A Diperolehi dengan menjumlahkan secara mendatar kuantiti diminta lebih dari seorang pengguna dalam pasaran
 - B Bentuk keluk permintaan lebih curam daripada keluk permintaan individu dalam pasaran
 - C Mempunyai hubungan langsung diantara harga dan kuantiti diminta dalam pasaran
 - D Perubahan kuantiti diminta individu tidak memberi kesan kepada kuantiti permintaan pasaran
- 8 Rajah 2 berikut menunjukkan keluk permintaan bagi suatu barang.



Rajah 2

Mengapakah berlaku perubahan keluk D_0D_0 ke D_1D_1 ?

- A Harga barang itu meningkat
- B Pendapatan pengguna menurun
- C Harga barang pengganti menurun
- D Jangkaan harga akan meningkat pada masa depan

9 Jadual 1 menunjukkan keanjalan harga permintaan bagi barang A dan barang B.

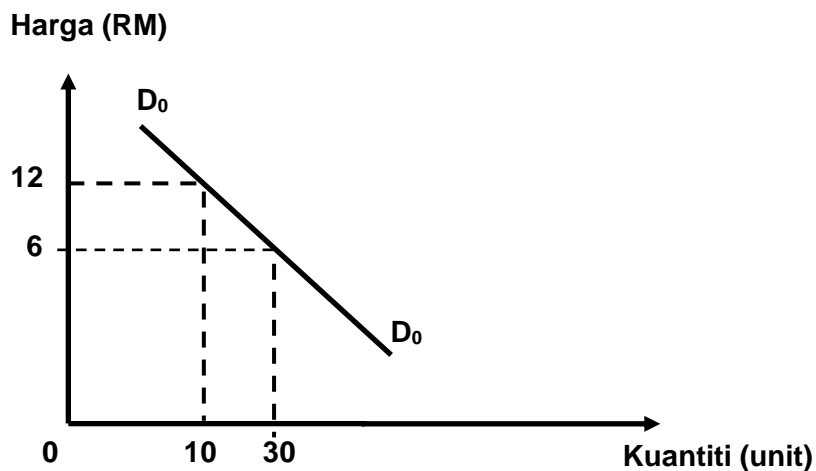
Jenis barang	Nilai Keanjalan Harga Permintaan
A	1.5
B	0.3

Jadual 1

Pernyataan manakah benar ?

- A Barang A adalah tidak anjal
- B Contoh barang B ialah jam tangan jenama Rolex
- C Peniaga perlu menaikkan harga barang B untuk meningkatkan keuntungan
- D Perubahan harga barang A sebanyak 1.5% menyebabkan perubahan kuantiti Barang A sebanyak 1%

10 Rajah 3 berikut menunjukkan keluk permintaan suatu barang.



Rajah 3

Berapakah nilai keanjalan harga permintaan apabila harga berubah dari RM6 ke RM12?

- A 0.67
- B 0.75
- C 1.33
- D 1.50

11. Jadual 2 menunjukkan peratus perubahan harga dan peratus perubahan kuantiti bagi permintaan Barang X dan Barang Y.

Barang	Peratus Perubahan Harga	Peratus Perubahan Kuantiti
X	40%	25%
Y	30%	50%

Jadual 2

Maklumat manakah yang betul tentang **barang X** dan **barang Y**?

	Barang X	Barang Y
A	Merupakan barang mewah	Merupakan barang mesti
B	Keluk permintaan lebih curam	Keluk permintaan lebih landai
C	Pekali keanjalan lebih besar daripada 1	Pekali keanjalan kurang daripada 1
D	Peratus perubahan kuantiti sama dengan peratus perubahan harga	Peratus perubahan kuantiti lebih besar daripada peratus perubahan harga

12. Maklumat yang berikut menunjukkan pekali keanjalan harga permintaan bagi barang L dan barang M.

	Barang L	Barang M
Pekali keanjalan harga	1.3	0.6

Apakah tindakan yang perlu dilakukan oleh pengeluar untuk meningkatkan hasil jualan bagi kedua-dua jenis barang di atas

	Barang L	Barang M
A	Naikkan harga	Turunkan harga
B	Turunkan harga	Naikkan harga
C	Kekalkan harga	Naikkan harga
D	Turunkan harga	Kekalkan harga

13 Cukai yang dikenakan terhadap firma akan menyebabkan

- A Peralihan keluk permintaan
- B Peralihan keluk penawaran
- C Pergerakan sepanjang keluk penawaran
- D Pergerakan sepanjang keluk permintaan

14.



Antara yang berikut, manakah yang **bukan** fungsi institusi kewangan tersebut?

- A Mengeluarkan mata wang
 - B Menerima deposit orang ramai
 - C Merupakan jurubank kepada kerajaan
 - D Merupakan jurubank kepada bank perdagangan
- A.**

15. Pilih pasangan yang betul berkaitan dengan sektor ekonomi

	Pekerjaan	Sektor ekonomi
A	Pengurus kedai G-Mart	Sektor utama
B	Pengurus kilang elektronik	Sektor kedua
C	Pengurus ladang getah	Sektor ketiga
D	Pengurus bank ABC	Sektor utama

16. Faktor manakah yang mempengaruhi seseorang individu dalam memilih pekerjaan?

- A** Majikan
- B** Rakan sekerja
- C** Pengaruh keluarga
- D** Pengalaman dan kemahiran yang dimiliki

17. Encik Hakim tidak bekerja sendiri dan juga tidak bekerja dengan orang lain. Apakah bentuk pendapatan yang mungkin diterima oleh Encik Hakim?

- A** Upah dan untung
- B** Upah dan faedah
- C** Untung dan sewa
- D** Sewa dan faedah

18. Manakah yang menunjukkan perbezaan antara keperluan dengan kehendak

	Keperluan	Kehendak
A	Harga barang dikawal oleh kerajaan	Harga barang ditetapkan oleh kerajaan
B	Terdiri daripada beberapa jenis barang sahaja	Terdiri daripada pelbagai jenis barang
C	Tidak mempunyai unsur kemestian	Mempunyai unsur kemestian
D	Dipengaruhi oleh pendapatan	Tidak dipengaruhi oleh pendapatan

19. Apakah kelemahan menggunakan wang tunai dalam sesuatu urus niaga?
- A Diterima secara meluas dalam urus niaga
 - B Tidak sesuai membeli barang yang mahal seperti kereta
 - C Menikmati harga yang murah kerana tidak melibatkan faedah
 - D Memperoleh diskaun tunai mengikut syarat yang ditentukan
20. Yang berikut merupakan strategi simpanan yang boleh diamalkan oleh setiap individu, **kecuali**
- A Membeli unit Amanah
 - B Membeli insurans nyawa
 - C Menyimpan wang di rumah
 - D Menyimpan di Lembaga Tabung Haji (LTH)
21. Pernyataan manakah yang betul tentang konsep pengeluaran?
- A Pengeluaran jangka masa panjang adalah melebihi lima tahun
 - B Fungsi pengeluaran menunjukkan bagaimana input digabungkan untuk menghasilkan output
 - C Apabila jumlah keluaran mencapai maksimum, keluaran purata menjadi sifar
 - D Keluaran sut merupakan perubahan dalam jumlah keluaran kesan daripada penggunaan satu unit input tetap
22. Maklumat di bawah berkaitan dengan kos pengeluaran suatu barang.

Kos berubah	= RM 60
Kos purata	= RM 4
Jumlah output	= 25 unit

Berapakah kos tetap?

- A RM 15
- B RM 40
- C RM 64
- D RM 100


23. Maklumat yang berikut berkaitan dengan kos purata, jumlah keluaran dan harga seunit bagi Syarikat Muu Berhad.

• Kos purata	RM 20
• Jumlah keluaran	150 unit
• Harga jualan seunit	RM 21.50

Berapakah keuntungan bagi syarikat tersebut?

- A** RM430.00
B RM225.00
C RM161.25
D RM139.50
24. Antara yang berikut, faktor manakah yang meningkatkan produktiviti bagi sebuah firma?
- I. Tenaga kerja yang pasif diserap masuk ke dalam firma
 - II. Penstrukturan organisasi yang khusus dalam skop kerja
 - III. Kawasan persekitaran yang kondusif diperlukan
 - IV. Penggunaan jentera yang terhad untuk keuntungan firma
- A** I dan III
B II dan III
C II dan IV
D I dan IV
25. Apakah faedah sosial jika kerajaan negeri Perlis membangunkan kawasan perindustrian di Lembah Chuping (Chuping Valley)?
- A** Wujudnya masalah sosial
B Peluang pekerjaan yang tinggi
C Kos pengangkutan yang murah
D Kadar pengangguran meningkat
26. Apakah peranan kerajaan dalam ekonomi?
- A** Pengeluar dan majikan
B Menguruskan pentadbiran kerajaan
C Menetapkan dasar ekonomi baharu
D Mengawal jumlah wang dalam ekonomi

27. Gambar 2 di bawah ini berkaitan dengan bidang perindustrian?



Gambar 2

Apakah tindakan kerajaan dalam mengawal selia tindakan tersebut?

- A Melaksanakan Akta Kawalan Harga Barang
 - B Melaksanakan Akta Anti Pencatutan
 - C Pemberian subsidi kepada pengeluar
 - D Menarik lesen perniagaan
28. Antara yang berikut, pernyataan yang manakah benar tentang inflasi?
- A Kenaikan tingkat harga umum barang dan perkhidmatan secara berterusan di pasaran
 - B Kenaikan pendapatan yang diterima oleh pekerja-pekerja dalam sesebuah ekonomi
 - C Kenaikan upah nominal akibat daripada kenaikan tingkat harga umum barang dan perkhidmatan
 - D Kenaikan nilai eksport dalam sesebuah ekonomi menyebabkan imbalan pembayaran lebihan
29. Pengangguran geseran berlaku disebabkan
- A penganggur tidak bersungguh-sungguh atau kurang berminat untuk mencari pekerjaan
 - B masalah ketidakstabilan ekonomi
 - C keadaan ekonomi yang lembap
 - D perubahan struktur ekonomi

30. Apakah kesan pelaksanaan dasar kewangan mengembang oleh Bank Negara terhadap ekonomi?
- A Mengawal kenaikan harga barang
 - B Mengurangkan kuasa beli pengguna
 - C Menjejaskan aktiviti pengeluaran barang
 - D Menurunkan kadar pengangguran dalam ekonomi
- 31 Antara berikut, yang manakah adalah cukai langsung?
- A Cukai pendapatan petroleum
 - B Duti eksais
 - C Levi
 - D Cukai barang dan perkhidmatan
- 32 Rizab tunai merujuk kepada
- A simpanan wajib kerajaan di bank perdagangan
 - B simpanan wajib bank pusat di bank perdagangan
 - C simpanan wajib bank perdagangan di bank pusat
 - D simpanan wajib bank perdagangan di bank itu sendiri
- 33 Bagaimanakah bank pusat mengawal peningkatan kadar pengangguran?

	Rizab berkanun	Syarat sewa beli	Kadar Faedah
A	Diturunkan	Diketatkan	Dinaikkan
B	Diturunkan	Dilonggarkan	Diturunkan
C	Dinaikkan	Dilonggarkan	Dinaikkan
D	Dinaikkan	Diketatkan	Diturunkan

34 Antara yang berikut, yang manakah merupakan perbelanjaan pembangunan kerajaan ?

- I. Pemberian subsidi kepada nelayan
- II. Pembinaan sekolah di negeri Perlis
- III. Pembayaran bonus tahunan kepada kakitangan kerajaan
- IV. Pembelian pesawat tentera untuk Angkatan Tentera Malaysia

- A** I dan II
- B** I dan IV
- C** II dan III
- D** II dan IV

35 Antara berikut, padanan yang manakah adalah benar?

	Bentuk sekatan	Maksud
A	Embargo	Mengehadkan kuantiti barang yang boleh diimport
B	Kuota	Cukai ke atas barang import
C	Subsidi	Bantuan kerajaan kepada pengeluar tempatan
D	Kawalan pertukaran asing	Mengawal nilai mata wang tempatan di pasaran wang antarabangsa

36 Maklumat berikut berkaitan dengan kadar pertukaran asing Ringgit Malaysia dengan Dolar Singapura.

$$\text{RM } 2.95 = \text{S\$}1$$

Berapakah nilai sepasang kasut sekolah yang berharga S\$40 dalam Ringgit Malaysia?

- A** RM 110
- B** RM 118
- C** RM 13.55
- D** RM 100

Soalan 37 hingga **soalan 40** berdasarkan pilihan jawapan seperti jadual di bawah

Pilihan	Pernyataan I	Pernyataan II
A	Betul	Salah
B	Salah	Betul
C	Betul	Betul
D	Salah	Salah

- 37.** I Puan Mariam dibayar faedah yang tinggi kerana dia adalah pemegang akaun semasa
 II Sebagai pemegang akaun semasa, Puan Mariam mendapat kemudahan overdraf
- 38.** I Contoh faedah sosial ialah pencemaran udara
 II Contoh kos sosial ialah menawarkan peluang pekerjaan kepada penduduk sekitar
- 39.** I Globalisasi meluaskan pasaran sesebuah negara
 II Globalisasi mengurangkan persaingan dalam industri
- 40.** I Eksport nampak terdiri daripada pertanian, perlombongan dan pembuatan
 II Eksport tak nampak terdiri daripada perkhidmatan pelancongan, perkhidmatan kewangan dan perkhidmatan perkilangan

KERTAS PEPERIKSAAN TAMAT