

NAMA : .....

TINGKATAN : .....

3766/1  
Perniagaan  
Kertas 1

1 ¼ jam

**MODUL PENINGKATAN PRESTASI MURID TINGKATAN 5****TAHUN 2022/2023**

---

**PERNIAGAAN****Kertas 1****Satu jam lima belas minit**

---

**JANGAN BUKA MODUL INI SEHINGGA DIBERITAHU**

1. Modul ini mengandungi **40** soalan.
  2. Jawab **semua** soalan.
  3. *Tiap-tiap soalan diikuti oleh empat pilihan jawapan, iaitu **A, B, C dan D**. Bagi setiap soalan, pilih **satu** jawapan sahaja. **Hitamkan** jawapan anda pada kertas jawapan objektif yang disediakan.*
  4. *Jika anda hendak menukar jawapan, padamkan tanda yang telah dibuat. Kemudian hitamkan jawapan yang baharu.*
  5. *Anda dibenarkan menggunakan kalkulator saintifik.*
- 

Modul ini mengandungi 24 halaman bercetak.

1 Pernyataan manakah menerangkan tujuan utama sesebuah perniagaan dijalankan?

- A Membina imej perniagaan
- B Membantu usahawan membina kerjaya
- C Menawarkan barang dan perkhidmatan
- D Memenuhi keperluan dan kehendak pengguna

2 Gambar 1 berkaitan kaedah perniagaan Organisasi Bukan Bermotifkan Untung (OBBU).

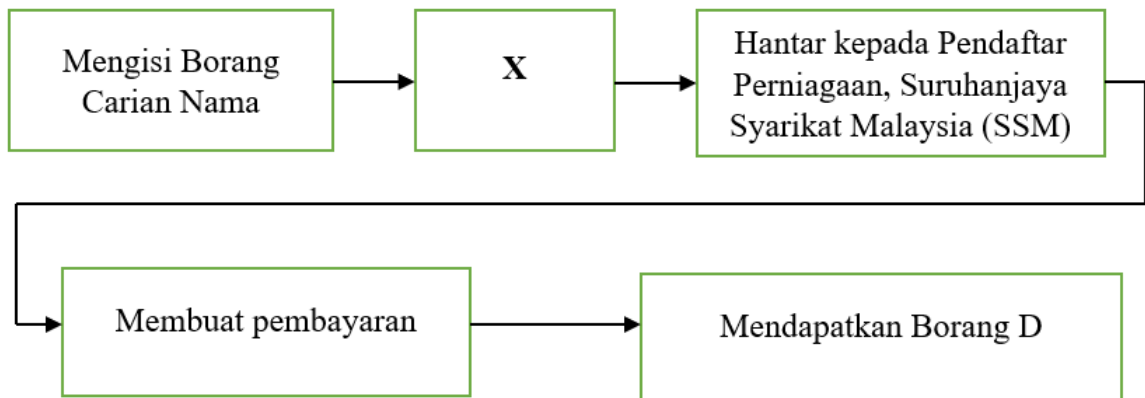


Gambar 1

Apakah kaedah perniagaan tersebut?

- A Secara percuma
- B Jualan pada harga kos
- C Jualan pada harga di atas kos
- D Jualan pada harga di bawah kos

3 Rajah 1 adalah proses pendaftaran penubuhan perniagaan milikan tunggal.

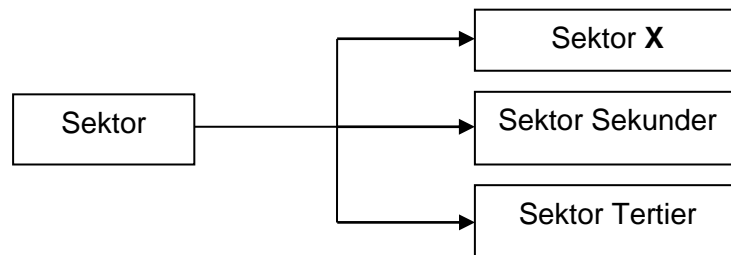


Rajah 1

Apakah X?

- A Mengisi Borang A
  - B Mengisi Borang PNA 42
  - C Mendapatkan khidmat nasihat
  - D Mendapatkan lesen perniagaan
- 4 Pernyataan manakah benar tentang kelebihan Perkongsian Liabiliti Terhad (PLT)?
- A Penjimatan kos
  - B Liabiliti tidak terhad
  - C Beban cukai yang rendah
  - D Didaftarkan di bawah Akta Perkongsian 1961

- 5 Rajah 2 berkaitan dengan sektor perniagaan.



Rajah 2

Apakah pekerjaan yang mewakili Sektor X?

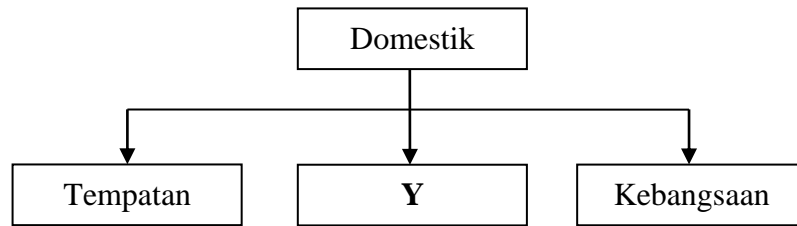
- A Jurutera
  - B Buruh binaan
  - C Penternak ayam
  - D Pemborong sayur
- 6 Maklumat berikut berkaitan rekod jualan Syarikat Pembekal Baju Sukan Cergas untuk tempoh 2 tahun.

Tahun	Jualan Tahunan (RM)
2019	15 juta
2020	18 juta

Apakah saiz perniagaan tersebut?

- A Kecil
- B Besar
- C Global
- D Sederhana

7 Rajah 3 menunjukkan skala perniagaan.



Rajah 3

Pernyataan manakah berkaitan dengan Y?

- A Melibatkan penjualan produk bagi pasaran Malaysia dan Singapura
- B Menjual produk di antara Kota Setar dengan Kuala Muda
- C Membekalkan barang dan perkhidmatan di Jitra sahaja
- D Melibatkan penjualan suatu produk di Malaysia sahaja

8 Maklumat berikut berkaitan dengan Syarikat Muda Sendirian Berhad.

Syarikat Muda Sendirian Berhad yang menghasilkan produk batik tempatan telah mendapat pengecualian cukai selama 5 tahun kerana mengeksport produk batik ke luar negara.

Apakah jenis pelepasan cukai yang akan diterima oleh syarikat tersebut?

- A Taraf perintis
- B Potongan cukai
- C Pengecualian cukai
- D Elaun pelaburan semula

- 9 Gambar 2 menunjukkan logo pihak berkuasa tempatan.



Gambar 2

Apakah peranan pihak tersebut?

- A Mewujudkan kawasan industri di Baling
  - B Menyediakan lokasi strategik untuk projek pertanian
  - C Menyediakan sumber pembiayaan kepada usahawan kecil
  - D Mewujudkan pasar dan gerai menjual makanan dan buah-buahan di Baling
- 10 Maklumat berikut menunjukkan sejenis pengangguran.

Encik Bakar bekerja sebagai buruh binaan di kawasan perumahan yang baru dibina. Projek pembinaan rumah tersebut dijangka siap sepenuhnya dalam tempoh dua tahun. Encik Bakar terpaksa mencari pekerjaan baharu apabila projek tersebut tamat.

Pengangguran di atas dikenali sebagai

- A pengangguran kitaran
- B pengangguran struktur
- C pengangguran teknologi
- D pengangguran bermusim

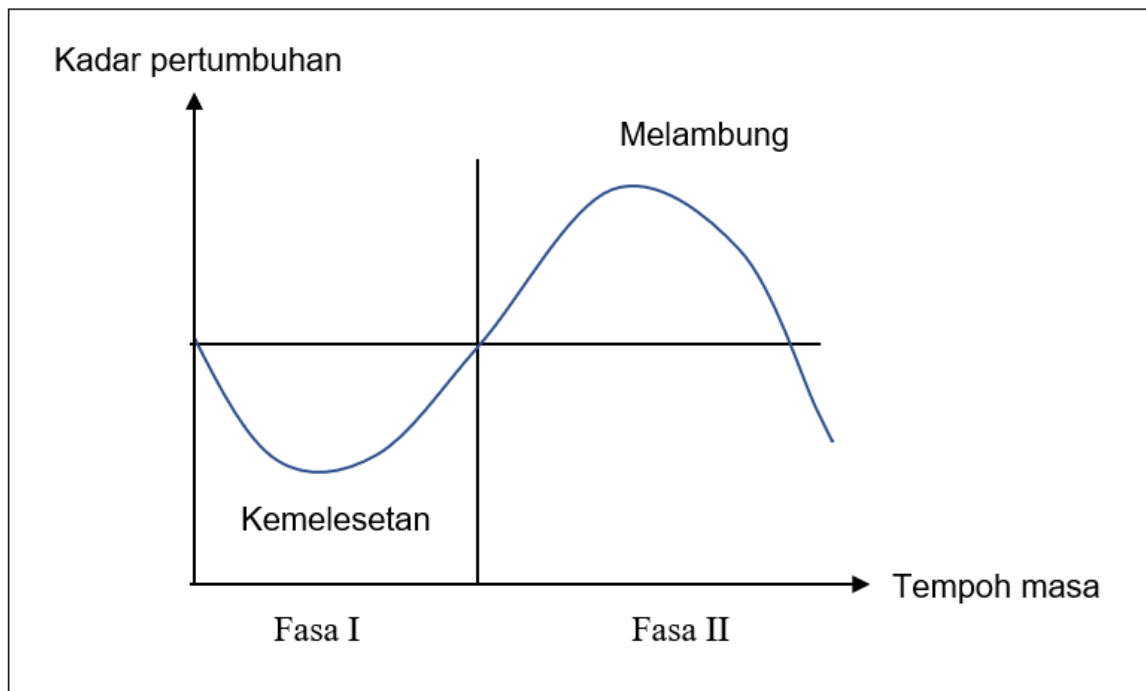
- 11 Situasi berikut menggambarkan tindakan yang diambil oleh Azli dan Azwan ekoran tindakan kerajaan untuk mengawal satu keadaan ekonomi.

- Azli memilih untuk menambahkan simpanan dalam bank berbanding membelanjakan pendapatannya
- Azwan enggan meminjam wang daripada bank untuk memulakan perniagaan kerana bayaran balik yang terlalu tinggi

Apakah tujuan tindakan kerajaan tersebut dan mengapakah Azli bertindak sedemikian?

	<b>Tujuan Tindakan Kerajaan</b>	<b>Alasan Tindakan Azli</b>
A	Mengatasi deflasi	Kadar faedah simpanan tinggi
B	Mengatasi deflasi	Kadar faedah simpanan rendah
C	Mengatasi inflasi	Kadar faedah simpanan tinggi
D	Mengatasi inflasi	Kadar faedah simpanan rendah

12 Rajah 4 menunjukkan graf kitaran ekonomi di Malaysia pada tahun 2021.



Rajah 4

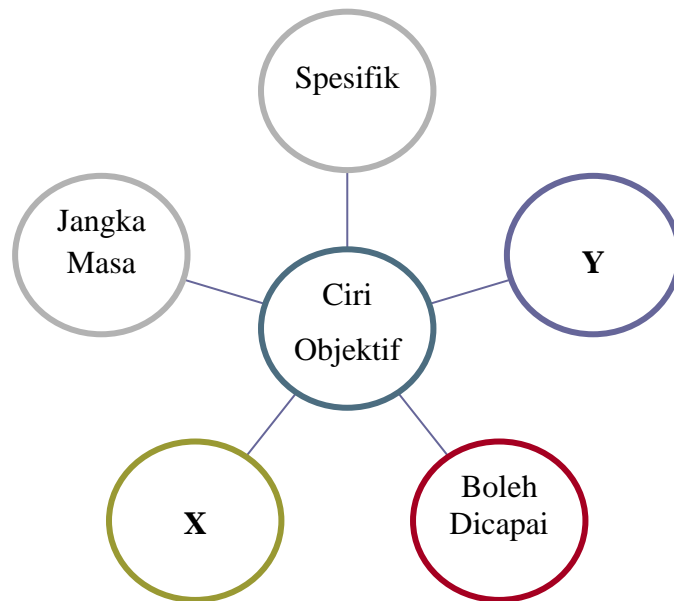
Apakah yang berlaku apabila perniagaan berada di fasa melambung?

- I Pengangguran meningkat kerana penduduk kehilangan pekerjaan
  - II Perniagaan tidak mampu membayar upah yang semakin meningkat.
  - III Pengeluaran produk akan ditambahkan bagi memenuhi peningkatan penggunaan produk.
  - IV Perniagaan berkembang ke peringkat antarabangsa termasuk aktiviti eksport dan pelaburan.
- A I dan II  
B I dan IV  
C II dan III  
D III dan IV



- 13 Apakah kekurangan sumber manusia dalaman?
- A Memerlukan program induksi
  - B Mempunyai pengetahuan stereotaip
  - C Membelanjakan kos merekrut yang tinggi
  - D Memerlukan masa untuk menyesuaikan diri
- 14 Pernyataan manakah yang menerangkan tentang visi perniagaan?
- A Pembentukan maklumat yang lebih khusus
  - B Penetapan perancangan jangka masa panjang
  - C Menjelaskan tujuan utama sesebuah perniagaan
  - D Menerangkan aktiviti perniagaan yang dijalankan

15 Rajah 5 berkaitan dengan ciri objektif perniagaan.



Rajah 5

Pernyataan manakah merupakan ciri X dan Y?

	X	Y
A	Peluang yang tidak mustahil untuk dicapai	Objektif yang ditetapkan boleh dibandingkan dengan pencapaian sebelum dan selepas
B	Objektif boleh dicapai jika pekerja mengembleng tenaga sepenuhnya	Penentuan objektif perlu ada tempoh masa
C	Penentuan objektif perlu ada tempoh masa	Objektif yang ditetapkan boleh dibandingkan dengan pencapaian sebelum dan selepas
D	Peluang yang tidak mustahil untuk dicapai	Objektif boleh dicapai jika pekerja mengembleng tenaga sepenuhnya

16 Apakah kelebihan bagi perniagaan yang menguasai syer pasaran?

- I Meraih keuntungan yang besar
  - II Menjadi pemimpin dalam pasaran
  - III Mempelbagaikan pilihan pengguna
  - IV Menarik minat pengguna untuk membeli barang
- A I dan II
  - B I dan IV
  - C II dan III
  - D III dan IV

17 Apakah peranan pengurusan sumber manusia?

- A Meningkatkan gaji pekerja
- B Menyediakan pinjaman kewangan kepada pekerja
- C Menyediakan kemudahan dan fasiliti kepada pekerja
- D Meningkatkan prestasi pekerja melalui kursus secara intensif

18 Gambar 3 menunjukkan sebuah perniagaan.

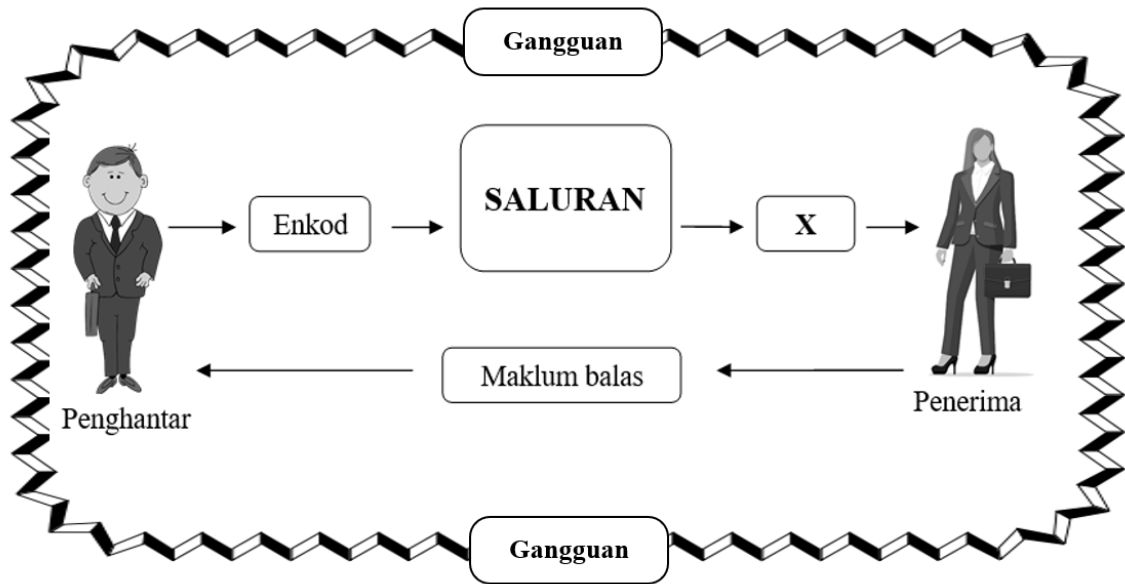


Gambar 3

Apakah saluran agihan yang sesuai digunakan oleh perniagaan tersebut?

- A Pengeluar → Pengguna
- B Pengeluar → Peruncit → Pengguna
- C Pengeluar → Ejen → Peruncit → Pengguna
- D Pengeluar → Pemborong → Peruncit → Pengguna

19 Rajah 6 menunjukkan proses aliran maklumat.



Rajah 6

Apakah fungsi **X**?

- A Kaedah untuk menghantar mesej
  - B Menerima mesej yang dihantar oleh penghantar
  - C Penerima menterjemah mesej yang dihantar oleh penghantar
  - D Pengolahan idea dalam bentuk tulisan, gambar dan pertuturan
- 20 Mengapakah sesebuah perniagaan perlu menjalinkan hubungan yang baik dengan pembekal?
- A Menyediakan kemudahan pembayaran tunai
  - B Mendapatkan kelulusan tender daripada kerajaan
  - C Mendapatkan penghantaran yang cepat dan berkualiti
  - D Menggalakkan pembelian untuk dalam kuantiti yang banyak

- 21 Maklumat berikut berkaitan dengan peranan pengurusan sumber manusia.

Konsep pengurusan Jepun seperti Total Quality Management (TQM), Kaizen, 5S dan Zero Defect boleh diamalkan dalam memberikan perkhidmatan terbaik kepada para pelanggan.

Apakah peranan tersebut?

- A Prestasi pasukan
- B Penyelesaian masalah
- C Pemantapan budaya profesional
- D Pewujudan semangat berpasukan

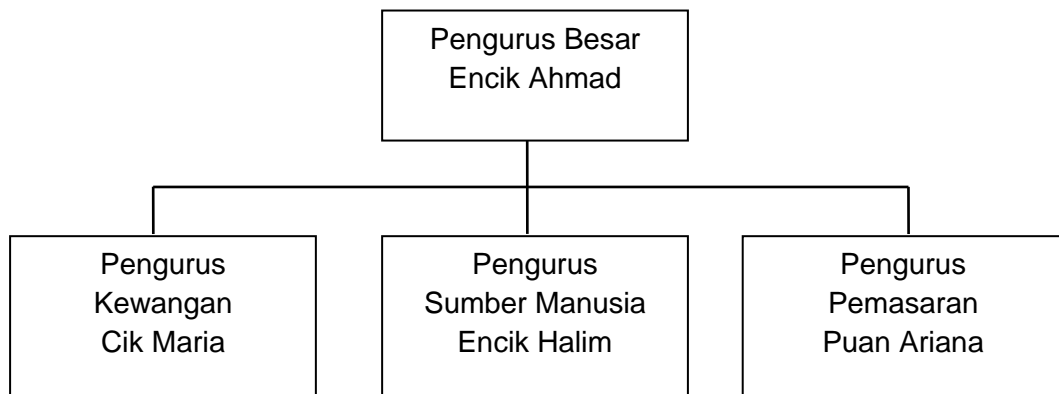
- 22 Maklumat berikut berkaitan dengan Syarikat Elektriko Berhad.

Syarikat Elektriko Berhad ialah sebuah syarikat yang menghasilkan dan memasarkan pelbagai jenis barangan elektrik. Syarikat ingin mengeluarkan satu produk baharu. Sehubungan itu, syarikat telah membentuk satu kumpulan khas seramai lima orang untuk membuat rekaan produk daripada idea yang telah disaring.

Apakah kemahiran kebolehterapan yang sesuai dengan situasi di atas?

- I Kerja berpasukan
  - II Pengurusan sendiri
  - III Penyelesaian masalah
  - IV Penggunaan teknologi terkini
- A I dan II
  - B I dan IV
  - C II dan III
  - D III dan IV

23 Rajah 7 menunjukkan salah satu contoh jenis struktur organisasi.



Rajah 7

Apakah jenis struktur organisasi tersebut?

- A Struktur organisasi berdasarkan pelanggan
  - B Struktur organisasi berdasarkan wilayah
  - C Struktur organisasi berdasarkan matriks
  - D Struktur organisasi berdasarkan fungsi
- 24 Apakah maksud produk siap?
- A Barang yang tidak habis dijual
  - B Barang siap yang disimpan di dalam gudang
  - C Barang akhir setelah siap diproses dan sedia untuk dijual di pasaran
  - D Barang yang diperiksa secara berkala untuk memastikan bekalan sentiasa ada
- 25 Apakah prosedur mengurus sumber teknologi?
- A Paten
  - B Harta intelek
  - C Lesen perisian
  - D Perlindungan insurans

26 Antara berikut, yang manakah ciri pembiayaan sewa beli?

- I Aset yang dicagar akan menjadi hak milik bank sekiranya hutang gagal dijelaskan
  - II Aset akan menjadi hak milik perniagaan setelah semua ansuran dijelaskan
  - III Aktiviti menyewa aset dengan tujuan untuk membeli aset tersebut
  - IV Aktiviti menyewa aset memerlukan cagaran
- A I dan II
  - B I dan IV
  - C II dan III
  - D III dan IV

27 Maklumat berikut berkaitan dengan peranan sebuah agensi kerajaan.

- Membantu usahawan yang tidak mempunyai cagaran
- Memudahkan permohonan pembiayaan usahawan diterima oleh bank

Apakah agensi kerajaan tersebut?

- A Majlis Amanah Rakyat (MARA)
- B Kementerian Sains, Teknologi dan Inovasi (MOSTI)
- C Tabung Ekonomi Kumpulan Usaha Niaga (TEKUN)
- D Credit Guarantee Corporation Malaysia Berhad (CGC)



28 Maklumat berikut berkaitan dengan penyata kewangan.

- Menunjukkan rekod penerimaan dan pembayaran secara tunai
- Menunjukkan keupayaan perniagaan untuk menjelaskan liabiliti semasa

Apakah jenis penyata kewangan tersebut?

- A Penyata Aliran Tunai
- B Penyata Pendapatan
- C Akaun Untung Rugi
- D Kunci Kira-kira

29 Maklumat berikut diperolehi daripada buku Perniagaan Chinta bagi tahun berakhir 31 Disember 2021.

	RM
Modal awal	100 200
Inventori akhir	12 140
Belian	15 780
Jualan	23 640
Untung bersih	34 000

Hitung peratusan pulangan atas modal

- A 12.11%
- B 15.74%
- C 23.59%
- D 33.93%

- 30 Antara berikut, yang manakah kegunaan penyata kewangan kepada pihak berkepentingan dalam perniagaan?

	Pihak berkepentingan	Kegunaan
I	Pembekal	Menilai kemampuan peniaga membayar hutang
II	Pemilik	Menentukan hala tuju perniagaan
III	Pembiaya	Membandingkan prestasi kewangan antara tahun semasa dengan tahun sebelumnya
IV	Pelabur	Membuat pertimbangan untuk pemberian ganjaran seperti dividen

- A I dan II  
 B I dan IV  
 C II dan III  
 D III dan IV
- 31 Maklumat berikut berkaitan dengan kelebihan menjadi usahawan.

- |   |
|---|
| <ul style="list-style-type: none"> <li>• Dapat memperkenalkan produk ke peringkat antarabangsa</li> <li>• Mewujudkan kerjasama serantau</li> <li>• Mewujudkan pengaliran masuk modal asing</li> </ul> |
|---|

Kelebihan di atas merujuk kepada

- A diri  
 B negara  
 C keluarga  
 D masyarakat

32 Antara berikut, yang manakah ciri-ciri lokasi yang strategik?

- I Mudah untuk dikunjungi
  - II Berhampiran dengan peruncit
  - III Kemudahan peralatan yang mencukupi
  - IV Kawasan yang menjadi tumpuan ramai
- A I dan II  
B I dan IV  
C II dan III  
D III dan IV

33 Bagaimanakah pemasaran membantu seorang usahawan?

- I Meningkatkan jualan produk
  - II Menentukan harga yang sesuai
  - III Menjamin keuntungan yang lumayan
  - IV Memperkenalkan produk sedia ada di pasaran baharu
- A I dan II  
B I dan IV  
C II dan III  
D III dan IV

34 Maklumat berikut menunjukkan perbezaan ciri antara dua bentuk pemilikan perniagaan.

Ciri	Perniagaan X	Perniagaan Y
Pemilik	Rakan kongsi	Pemegang saham
Liabiliti	Tidak terhad	Terhad

Penyataan manakah menjelaskan ciri di atas?

- A Perniagaan Y tertakluk di bawah Akta Perkongsian Liabiliti Terhad 2012
- B Perniagaan X tertakluk di bawah Akta Pendaftaran Perniagaan 1956
- C Perniagaan X diuruskan oleh ahli lembaga pengarah
- D Perniagaan Y diuruskan oleh pemilik perniagaan

35 Maklumat berikut berkaitan dengan satu urus niaga perniagaan.

Encik Fatah membuat belian barang niaga secara kredit sebanyak RM7 860.

Apakah dokumen yang terlibat?

- A Resit
- B Invois
- C Memo
- D Bil tunai

36 Gambar 4 berkaitan dengan satu kaedah promosi.



Gambar 4

Pernyataan manakah yang menerangkan gambar tersebut?

- A Memujuk dan mempengaruhi pelanggan untuk membeli sesuatu produk
- B Pemberian pelbagai insentif untuk menarik minat pelanggan
- C Pertemuan secara bersemuka dengan bakal pelanggan
- D Maklumat lebih diyakini oleh pelanggan

- 37 Berikut merupakan petikan Penyata Aliran Tunai bagi Perniagaan Dinamik 22 bagi tempoh berakhir 31 Mac 2021.

Perniagaan Dinamik 22  
Penyata Aliran Tunai bagi tempoh tiga bulan berakhir 31 Mac 2021

Butiran	Januari (RM)	Februari (RM)	Mac (RM)
Baki b/b		(800)	29 560
Penerimaan			
Jualan	22 000	6 600	7 920
Akaun belum terima	6 000	4 000	4 400
Pinjaman		30 000	
Sewa			800
Jumlah penerimaan	6 000	40 600	13 120
Pembayaran			
Belian	4 800	5 040	4 939
Akaun belum bayar		3 200	3 360
Ansuran pinjaman			600
Gaji	<b>A</b>	2 000	3 000
Jumlah pembayaran	6 800	10 240	11 899
Lebih / (kurangan)	(800)	30 360	<b>B</b>
Baki h/b	(800)	29 560	30 781

Berdasarkan petikan penyata kewangan tersebut, hitung nilai **A** dan **B**.

	<b>A</b>	<b>B</b>
A	1200	1221
B	2000	1221
C	6000	1121
D	2000	1121

38 Apakah tujuan Rancangan Perniagaan disediakan?

- I Memohon sumber pembiayaan
  - II Merancang pelaksanaan perniagaan
  - III Melambangkan imej sesebuah perniagaan
  - IV Mendaftar perniagaan dengan Suruhanjaya Syarikat Malaysia (SSM)
- A I dan II  
B I dan IV  
C II dan III  
D III dan IV

39 Antara berikut, manakah yang berkaitan dengan kos berubah bagi sebuah Kilang Kasut Adiwira?

- I Bil utiliti
  - II Sewa premis
  - III Insurans kebakaran
  - IV Getah pelapik kasut
- A I dan II  
B I dan IV  
C II dan III  
D III dan IV

40 Soalan 40 adalah berdasarkan pilihan jawapan yang berikut.

	I	II
A	Betul	Betul
B	Betul	Salah
C	Salah	Betul
D	Salah	Salah

- I Pihak francais akan memberikan semua jenis bantuan dan kemudahan termasuk pembiayaan modal kepada francais.
- II Perniagaan francais memberi peluang kepada usahawan untuk menceburi perniagaan yang berisiko rendah.

### SOALAN TAMAT