

MODUL PINTAS TINGKATAN LIMA

1 JAM 15 MINIT

3766/1

PERNIAGAAN

Kertas 1

ARAHAN :

1. Jangan Buka Kertas Peperiksaan Ini Sehingga Diberitahu.
2. Kertas peperiksaan ini mengandungi **40** soalan.
3. Jawab **semua** soalan.
4. Tiap-tiap soalan diikuti oleh empat pilihan jawapan, iaitu **A, B, C** dan **D**. Bagi setiap soalan, pilih **satu** jawapan sahaja. **Hitamkan** jawapan anda pada kertas jawapan objektif yang disediakan.
5. Jika anda hendak menukar jawapan, padamkan tanda yang telah dibuat. Kemudian hitamkan jawapan yang baharu.
6. Anda dibenarkan menggunakan kalkulator saintifik.

NAMA :

TINGKATAN :

Kertas peperiksaan ini mengandungi 16 halaman bercetak.

3766/1

[Lihat halaman sebelah

1 Perniagaan manakah merupakan bentuk milikan tunggal?

- A Klinik Wong & Tan
- B Koperasi Sepakat Bersatu
- C Kedai Gunting Rambut Amin
- D Syarikat Gemilang Indah Berhad

2 Pilih pasangan yang betul.

	Saiz Perniagaan	Kekurangan
A	Kecil	Pemilik tidak mampu membayar upah pekerja mahir yang lebih tinggi
B	Besar	Pemilik menanggung beban kerja yang berat
C	Besar	Pemilik perlu memastikan persekitaran kerja yang lebih produktif
D	Kecil	Pemilik mampu mengupah tenaga pakar yang berpengalaman luas

3 Maklumat berikut berkaitan dengan klasifikasi perniagaan.

GD Enterprise adalah pengeluar cili kisar di Sabak Bernam. Perniagaan ini mempunyai pekerja seramai 50 orang dengan jumlah jualan tahunan sebanyak RM1 juta.

Apakah klasifikasi perniagaan tersebut?

	Saiz	Sektor
A	Kecil	Primer
B	Sederhana	Sekunder
C	Kecil	Sekunder
D	Sederhana	Primer

4 Pernyataan berikut berkaitan dengan skala perniagaan.

Syarikat Gemilang memasarkan produk ke seluruh negara termasuk Sabah dan Sarawak.

Apakah skala perniagaan tersebut?

- A Zon
- B Daerah
- C Tempatan
- D Kebangsaan

- 5 Apakah peranan kerajaan negeri dalam membantu perniagaan?
- A Mewujudkan kawasan industri
 - B Mengawal kenaikan harga barang dan perkhidmatan
 - C Menggubal undang-undang perlindungan pengguna
 - D Memberi pelepasan cukai dalam sektor-sektor tertentu
- 6 Gambar 1 berkaitan dengan sebuah agensi kerajaan.



Gambar 1

Apakah peranan agensi tersebut?

- A Mempromosi produk dan perkhidmatan
 - B Mengenal pasti pasaran baharu
 - C Membiayai modal perniagaan
 - D Menghasilkan produk berkualiti
- 7 Antara berikut, yang manakah kelebihan sumber manusia luaran?
- I Kos merekrut yang tinggi
 - II Berupaya memberi pelbagai idea baharu
 - III Semangat yang tinggi untuk menjalankan tugas
 - IV Mengambil masa untuk memahami budaya baharu
- A I dan II
 - B I dan IV
 - C II dan III
 - D III dan IV

8 Rajah 1 berkaitan analisis SWOT.

Kekuatan (S)	Kelemahan (W)
Q	Ancaman (T)

Rajah 1

Apakah Q?

- A Hubungan baik dengan pelanggan
 - B Suasana politik yang stabil
 - C Keadaan ekonomi meleset
 - D Jenama yang popular
- 9 Apakah kesan perubahan persekitaran dari aspek pasaran?
- A Lambakan barang import
 - B Pelaksanaan cukai eksport
 - C Guna tenaga penuh dicapai
 - D Pendapatan boleh guna meningkat
- 10 Apakah maksud misi?
- A Sasaran yang lebih khusus
 - B Menjelaskan hala tuju perniagaan
 - C Panduan untuk membuat keputusan
 - D Menjelaskan matlamat utama perniagaan

- 11 Jadual 1 berkaitan dengan projek landskap.

AKTIVITI \ MINGGU	MINGGU 1	MINGGU 2	MINGGU 3	MINGGU 4
Melawat tapak dan menyediakan kertas cadangan				
Membersihkan tapak				
Memulakan kerja				
Kerja selesai / maklum balas pelanggan				

Jadual 1

Antara berikut, yang manakah ciri-ciri objektif berdasarkan jadual tersebut?

- I Boleh dicapai
 - II Munasabah
 - III Jangka masa
 - IV Boleh diukur
- A I dan II
 - B I dan IV
 - C II dan III
 - D III dan IV

- 12 Maklumat berikut berkaitan dengan kos pengeluaran 30 000 unit sandal yang dikeluarkan oleh Zass Shoes Sdn. Bhd.

Kos Tetap	RM300 000
Kos Berubah	RM150 000

Berapakah titik pulang modal bagi sandal sekiranya harga jualan seunitnya ialah RM20?

- A 20 000 unit
- B 30 000 unit
- C 40 000 unit
- D 50 000 unit

- 13 Pernyataan berikut berkaitan dengan faktor yang mempengaruhi perubahan visi, misi dan objektif perniagaan.

Restoran Melan Sdn. Bhd. mempunyai pekerja yang mampu menguasai pelbagai bahasa dan dibayar gaji yang tinggi.


Apakah faktor tersebut?

A	Ekonomi	Sumber manusia
B	Sumber manusia	Kewangan
C	Kewangan	Sosiobudaya
D	Sosiobudaya	Ekonomi

- 14 Apakah tujuan fungsian penyelidikan dan pembangunan?

- A Menguruskan program syarikat
- B Meningkatkan tahap pengeluaran produk
- C Melaksanakan program latihan kemahiran
- D Memastikan sumber kewangan yang kukuh

- 15 Rajah 2 berkaitan dengan aplikasi teknologi maklumat dalam perniagaan.



Rajah 2

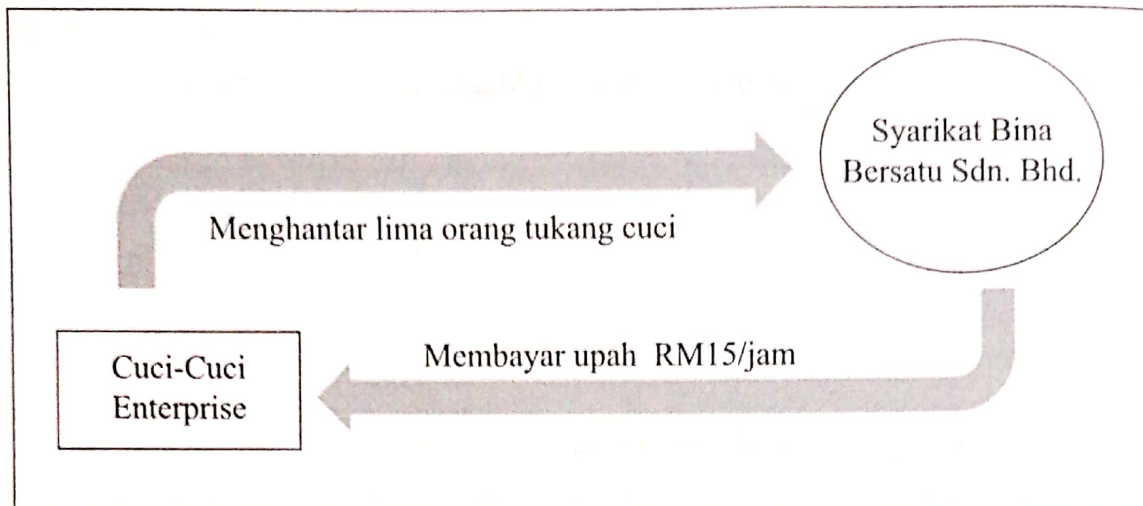
Antara berikut, pasangan manakah menerangkan situasi R dan S?

	Aplikasi Teknologi Maklumat	Situasi
I	<i>e-banking</i>	Menyediakan tempahan pelanggan
II	<i>e-dagang</i>	Pembelian dan pembayaran secara berterusan
III	<i>e-banking</i>	Meluaskan skop perniagaan
IV	<i>e-government</i>	Membuat pentaksiran cukai perniagaan

- A I dan II
 B I dan IV
 C II dan III
 D III dan IV

[Lihat halaman sebelah

16 Rajah 3 berkaitan interaksi antara dua perniagaan.



Rajah 3

Apakah interaksi antara bahagian fungsian bagi perniagaan kecil dengan perniagaan besar?

- A Bahagian kewangan menguruskan gaji
- B Bahagian sumber manusia melantik staf baharu
- C Bahagian sumber manusia dan kewangan berhubung berkenaan upah
- D Bahagian sumber manusia dan kewangan menentukan latihan untuk staf baharu

17 Pernyataan berikut berkaitan satu langkah pembangunan produk baharu.

Kajian semula jualan, kos dan unjuran keuntungan bagi mengenal pasti sama ada dapat memenuhi objektif syarikat.

Apakah langkah tersebut?

- A Komersialisasi
- B Ujian pemasaran
- C Penyaringan idea
- D Analisis perniagaan

- 18 Situasi berikut berkaitan dengan aspek pengelolaan sumber manusia dalam pembangunan perniagaan yang mampan.

Seramai 23 kakitangan Hotel D'Muara diraikan sempena Majlis Anugerah Pekerja Cemerlang di Dewan Majlis Bandaraya Shah Alam.

Apakah aspek pengelolaan tersebut?

- A Penghargaan dan hukuman
 - B Sistem penggajian
 - C Penyelesaian masalah
 - D Standard prosedur operasi tugas
- 19 Maklumat berikut berkaitan kemahiran kebolehterjaya bagi pemilihan jawatan pengurus jualan di sebuah syarikat jualan rotan.

Calon A	Mempunyai Diploma Pengurusan Perniagaan dalam bidang pemasaran.
Calon B	Pengalaman 5 tahun bekerja sebagai jurujual di sebuah kedai perabot jati.

Antara berikut, yang manakah merupakan kelebihan kepada syarikat sekiranya calon B dipilih?

- I Mempunyai kelayakan yang sesuai
 - II Mahir menggunakan teknologi terkini
 - III Menjimatkan kos melatih pekerja
 - IV Mencapai sasaran jualan
- A I dan II
 - B I dan IV
 - C II dan III
 - D III dan IV

20 Gambar 2 berkaitan dengan kemahiran kebolehterajaan.



Gambar 2

Apakah kemahiran kebolehterajaan tersebut?

- A Berpengetahuan tentang perkhidmatan
- B Keberkesanan mencapai sasaran individu
- C Kelayakan yang bersesuaian
- D Berpengalaman

21 Apakah sistem penggajian yang sesuai oleh majikan kepada pekerjaanya?

	Pegawai Jualan	Kerani Pentadbiran
A	Elaun telefon	Komisen
B	Elaun perumahan	Elaun telefon
C	Bonus tahunan	Komisen
D	Komisen	Elaun perumahan

- 22 Situasi berikut berkaitan pengurusan sumber fizikal sebuah perniagaan.

Perniagaan Jamu Md Ali adalah pengeluar produk kesihatan di Puncak Alam. Encik Md Ali telah mengambil seorang juruteknik untuk menyelenggara mesin serta mendapatkan insurans kecurian untuk perniagaannya.

Mengapakah Perniagaan Jamu Md Ali mengambil tindakan tersebut?

- I Memastikan pengeluaran berjalan lancar
 - II Menambahkan aktiviti promosi
 - III Meningkatkan kemahiran pekerja
 - IV Memulihkan perniagaan kepada keadaan asal jika berlaku risiko
- A I dan II
 - B I dan IV
 - C II dan III
 - D III dan IV

- 23 Apakah tujuan mengurus sumber teknologi dalam operasi sesebuah perniagaan?

- A Mendapatkan lesen perisian
- B Membaiki peralatan
- C Menyelenggara mesin
- D Melindungi keselamatan pekerja

- 24 Situasi berikut berkaitan prosedur pengurusan sumber sebuah syarikat produksi animasi.

T	Pengurus Operasi memasang CCTV di studio.
U	Pengurus Produksi mendaftar paten animasi yang dihasilkan.

Apakah T dan U?

	T	U
A	Manusia	Pembiayaan
B	Teknologi	Manusia
C	Fizikal	Teknologi
D	Pembiayaan	Fizikal

25 Gambar 3 berkaitan logo sebuah agensi kerajaan.



Gambar 3

Pernyataan manakah yang berkaitan dengan agensi tersebut?

- A Mempromosikan barangan ke luar negara
- B Menawarkan modal tambahan
- C Memberikan jaminan kredit
- D Menjalankan aktiviti penyelidikan

26 Dialog berikut berkaitan dengan sumber pembiayaan perniagaan.

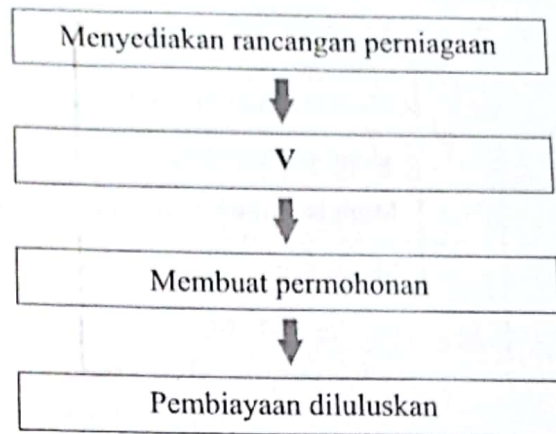
Alif Adam : Saya mahu membuka sebuah lagi kedai pakaian terpakai di pekan Sekinchan. Saya ingin mendapatkan modal daripada bank atau agensi kerajaan.

Nik Badrul : Saya cadangkan awak cuba dapatkan daripada agensi kerajaan.

Mengapakah Nik Badrul memberikan cadangan tersebut?

- A Syarat pembiayaan fleksibel
- B Pinjaman tanpa cagaran
- C Jumlah modal terhad
- D Faedah yang tinggi

- 27 Rajah 4 merupakan prosedur mendapatkan sumber pembiayaan untuk sesebuah perniagaan.



Rajah 4

Apakah V?

- A Menyediakan kontrak pinjaman
 - B Menyerahkan borang permohonan
 - C Mendapatkan khidmat nasihat
 - D Mengeluarkan surat kelulusan
- 28 Antara berikut, yang manakah kemudahan yang disediakan oleh Majlis Amanah Rakyat?
- I Memberikan jaminan kredit
 - II Mengeluarkan lesen perniagaan
 - III Menyediakan ruang niaga
 - IV Mengadakan latihan keusahawanan
- A I dan II
 - B I dan IV
 - C II dan III
 - D III dan IV

- 29 Antara berikut, yang manakah kepentingan penyata kewangan kepada pihak-pihak tertentu dalam perniagaan?

	Pihak Berkepentingan	Kepentingan
I	Pembekal	Menentukan jumlah dividen
II	Pelabur	Membuat keputusan untuk melabur
III	Pembiaya	Mengetahui kemampuan membayar balik pinjaman
IV	Pekerja	Mengukur prestasi perniagaan

- A I dan II
 B I dan IV
 C II dan III
 D III dan IV
- 30 Maklumat berikut berkaitan dengan Kunci Kira-kira Syarikat Kreatif Intelek Sdn. Bhd.

	RM
Aset semasa	55 000
Liabiliti semasa	25 000
Untung bersih	30 000

Berapakah nisbah semasa perniagaan tersebut?

- A 1.0 : 1
 B 1.8 : 1
 C 2.2 : 1
 D 2.7 : 1
- 31 Maklumat berikut berkaitan dengan prestasi kewangan Syarikat Susan Sdn. Bhd.

Tahun	2018	2019
Kadar pusing ganti stok	2.5 kali	3.2 kali

Pernyataan manakah menerangkan justifikasi prestasi tersebut?

- A Syarikat Susan mengurus stok lebih cekap pada tahun 2018 berbanding 2019
 B Syarikat Susan mengurus stok lebih cekap pada tahun 2019 berbanding 2018
 C Stok telah diganti sebanyak 2.5 kali pada tahun 2019 berbanding 2018
 D Stok telah diganti sebanyak 3.2 kali pada tahun 2018 berbanding 2019

- 32 Antara berikut, yang manakah merupakan modal bagi Pusat Tuisyen Cerdik?
- I Premis
 - II Komputer
 - III Paten
 - IV Insurans
- A I dan II
 - B I dan IV
 - C II dan III
 - D III dan IV
- 33 Apakah kelebihan berniaga untuk mencapai matlamat peribadi?
- A Memupuk minat keusahawanan dalam kalangan ahli keluarga
 - B Membentuk diri bijak mengurus masa
 - C Mengurangkan kadar pengangguran
 - D Memenuhi kehendak dan keperluan masyarakat
- 34 Apakah akta yang menggabungkan ciri-ciri sebuah syarikat dan perkongsian?
- A Akta Perkongsian 1961
 - B Akta Syarikat 2016
 - C Akta Koperasi 1993
 - D Akta Perkongsian Liabiliti Terhad 2012
- 35 Apakah faedah mendaftarkan perniagaan di Suruhanjaya Syarikat Malaysia?
- A Melayakkan pengecualian cukai
 - B Menambahkan hasil jualan
 - C Melahirkan pekerja berkualiti
 - D Meningkatkan imej syarikat

- 36 Maklumat berikut berkaitan tanggungjawab yang perlu dipatuhi oleh seorang usahawan.

Puan Selvi telah didenda RM2 000 kerana gagal menunjukkan lesen dan sijil pendaftaran perniagaan di kedainya.

Apakah tanggungjawab tersebut?

- A Memperbaharui sijil perakuan pendaftaran perniagaan
- B Memaparkan papan tanda mengikut spesifikasi
- C Mempamerkan sijil perakuan pendaftaran perniagaan dan lesen perniagaan
- D Menamatkan pendaftaran perniagaan dalam tempoh 30 hari

- 37 Mengapakah sesebuah perniagaan perlu menyimpan resit pembayaran?

- A Menyenaraikan semua urusan niaga
- B Menunjukkan rekod ambilan
- C Mendepositkan wang ke bank
- D Membuktikan hutang dijelaskan

- 38 Apakah maksud jualan?

- A Menukarkan hak milik produk
- B Menentukan lokasi agihan produk
- C Memberikan kepuasan penggunaan produk
- D Menetapkan harga produk

- 39 Maklumat berikut berkaitan dengan aspek dalam campuran pemasaran.

Syarikat Persona Zaujah telah menawarkan pemberian diskaun 20% atas pembelian yang dibuat oleh golongan pelajar.

Apakah aspek tersebut?

- A Produk
- B Harga
- C Agihan
- D Promosi

- 40 Apakah kepentingan menyediakan rancangan perniagaan?

- A Menjangka risiko yang akan timbul
- B Mendapatkan keuntungan yang banyak
- C Memastikan projek dapat berdaya saing
- D Meyakinkan pelanggan membeli produk

KERTAS PEPERIKSAAN TAMAT