

MODUL PINTAS TINGKATAN LIMA

1 JAM 15 MINIT

3766/1

PERNIAGAAN

Kertas 1

ARAHAN :

1. Jangan Buka Kertas Peperiksaan Ini Sehingga Diberitahu.
2. Kertas peperiksaan ini mengandungi 40 soalan.
3. Jawab semua soalan.
4. Tiap-tiap soalan diikuti oleh empat pilihan jawapan, iaitu A, B, C dan D. Bagi setiap soalan, pilih **satu** jawapan sahaja. **Hitamkan** jawapan anda pada kertas jawapan objektif yang disediakan.
5. Jika anda hendak menukar jawapan, padamkan tanda yang telah dibuat. Kemudian hitamkan jawapan yang baharu.
6. Anda dibenarkan menggunakan kalkulator saintifik.

NAMA :

TINGKATAN :

Kertas peperiksaan ini mengandungi 16 halaman bercetak.

[Lihat halaman sebelah

3766/1

1 Antara berikut, yang manakah ciri perkongsian?

- A Rakan kongsi aktif menanggung liabiliti terhad dan aktif dalam pengurusan perniagaan
- B Perniagaan tertakluk di bawah Akta Pendaftaran Perniagaan 1956
- C Perkongsian tertakluk kepada beberapa terma dalam Akta Perkongsian 1961
- D Rakan kongsi lelap menanggung liabiliti tidak terhad setakat modal yang dilaburkan sahaja

2 Maklumat berikut berkaitan dengan sebuah perniagaan.

HY Shoe Factory Sdn. Bhd. adalah pengeluar kasut untuk pasaran tempatan. Perniagaan ini mempunyai pekerja seramai 25 orang dengan jumlah jualan tahunan sebanyak RM1 juta.

Apakah saiz dan sektor perniagaan tersebut?

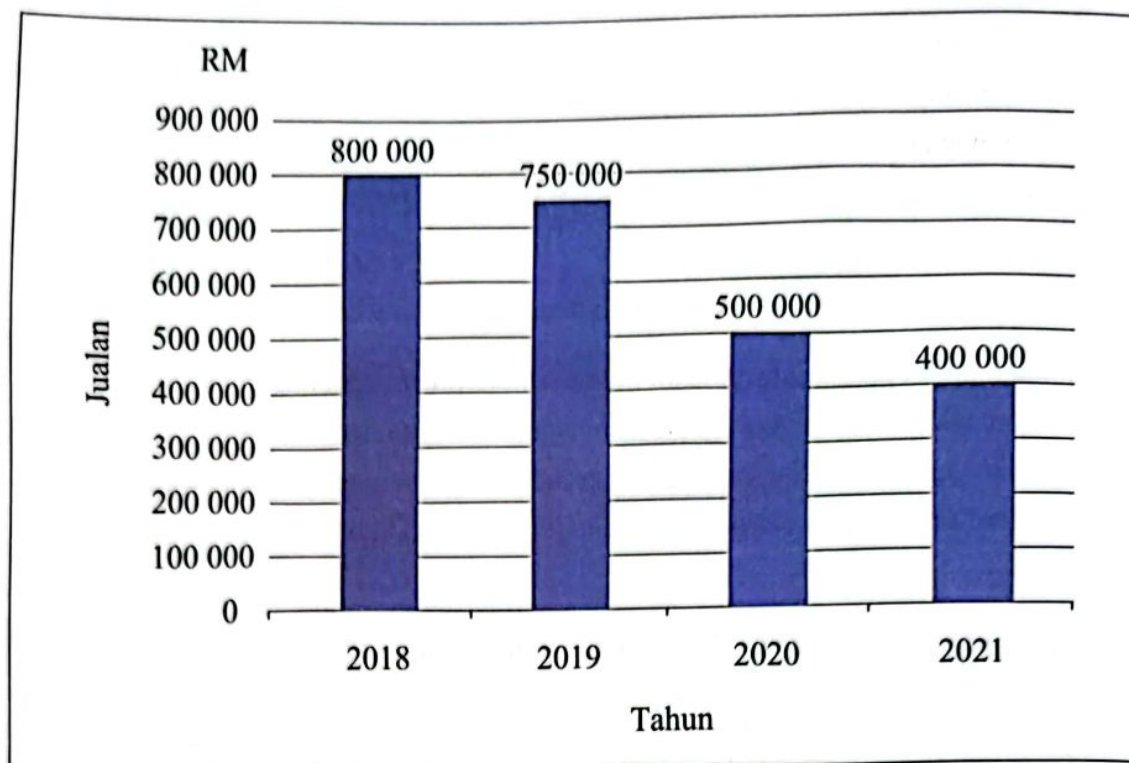
	Saiz	Sektor
A	Kecil	Primer
B	Sederhana	Sekunder
C	Kecil	Sekunder
D	Sederhana	Primer

3 Apakah skala perniagaan bagi pasaran antarabangsa?

- A Zon dan global
- B Negeri dan zon
- C Negeri dan kebangsaan
- D Zon dan kebangsaan

- 4 Apakah cabaran perniagaan bersaiz kecil?
- A Menanggung kos overhead yang tinggi
 - B Memerlukan ramai pekerja mahir
 - C Meningkatkan keuntungan tahunan
 - D Mematuhi lebih banyak peraturan yang ditetapkan
- 5 Bagaimanakah kerajaan mengatasi masalah pengangguran kitaran?
- A Mengehendkan penggunaan mesin moden untuk proses tertentu
 - B Melaksanakan dasar fiskal untuk mengekang kemelesetan ekonomi
 - C Memberi insentif kepada peniaga yang membenarkan pekerja terus bekerja
 - D Membuat perancangan ekonomi sesuai dengan trend perubahan ekonomi semasa
- 6 Apakah peranan kerajaan negeri dalam membantu perniagaan?
- A Mewujudkan kawasan industri
 - B Mengawal kenaikan harga barang dan perkhidmatan
 - C Menggubal undang-undang perlindungan pengguna
 - D Memberi pelepasan cukai dalam sektor-sektor tertentu

7 Rajah 1 menunjukkan hasil jualan tahunan Kilang Perabot Sayyid dari tahun 2018 hingga tahun 2021.



Rajah 1

Faktor luaran manakah yang mungkin menyebabkan situasi tersebut berlaku?

- I Penularan Covid-19 dalam kalangan pekerja
- II Pengurusan yang kurang cekap
- III Pekerja yang tidak berkemahiran
- IV Ekonomi negara yang tidak stabil

- A I dan II
- B I dan IV
- C II dan III
- D III dan IV

8 Apakah gaya pengurusan sederhana?

- A Pekerja bebas membuat keputusan
- B Majikan memberi arahan dengan tegas
- C Perhubungan baik antara majikan dengan pekerja
- D Majikan mempengaruhi semua keputusan

9. Apakah kesan perubahan persekitaran dari aspek pasaran?

- A Lambakan barang import
- B Pelaksanaan cukai eksport
- C Guna tenaga penuh dicapai
- D Pendapatan boleh guna meningkat

10. Pernyataan manakah merujuk kepada visi perniagaan?

- A Sasaran pencapaian boleh diukur
- B Panduan untuk membuat keputusan
- C Fokus perancangan dalam jangka pendek
- D Perancangan dibuat sebelum penetapan misi

11. Maklumat berikut berkaitan dengan objektif sebuah perniagaan.

Syarikat Kasut Jayadiri menyasarkan pengeluaran kasut sebanyak 15 000 pasang dalam masa tiga minggu sebagai memenuhi permintaan pelanggan dari dalam dan luar negara.

Antara berikut, yang manakah ciri-ciri objektif syarikat tersebut?

- I Boleh dicapai
 - II Jangka masa
 - III Spesifik
 - IV Munasabah
- A I dan II
 - B I dan IV
 - C II dan III
 - D III dan IV

- 12 Maklumat berikut berkaitan dengan kos pengeluaran 10 000 benih anak pokok sawit yang dikeluarkan oleh Encik Hassan.

Kos Tetap	RM50 000
Kos Berubah	RM100 000

Berapakah titik pulang modal bagi benih anak pokok sawit sekiranya harga jualan sepokok ialah RM15?


- A 10 000 pokok
 - B 20 000 pokok
 - C 30 000 pokok
 - D 40 000 pokok
- 13 Pernyataan berikut berkaitan dengan faktor yang mempengaruhi perubahan objektif sebuah perniagaan kraf.

Pihak pengurusan Kraf Gemilang Sdn. Bhd. terpaksa mengubah suai objektif perniagaan dengan memberi penekanan kepada keunikan ukiran produk yang dicipta oleh pekerjaanya kerana jualan yang merosot akibat kemelesetan ekonomi.

Apakah faktor tersebut?

- A Pemasaran dan sosiobudaya
 - B Sumber manusia dan ekonomi
 - C Pengeluaran dan ekologi
 - D Kewangan dan politik
- 14 Apakah tujuan bahagian fungsian Teknologi Maklumat dan Komunikasi (ICT)?
- A Mencipta produk baharu
 - B Meningkatkan komunikasi perniagaan
 - C Menyimpan maklumat dan data perniagaan
 - D Mengeluarkan katalog untuk tujuan pemasaran

- 15 Rajah 2 berkaitan dengan aplikasi teknologi maklumat dalam perniagaan.



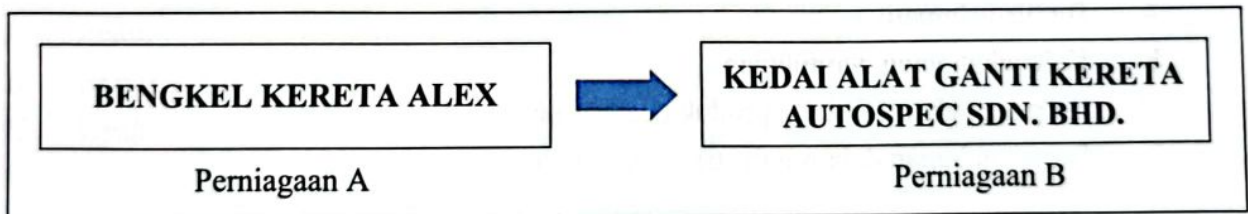
Rajah 2

Antara berikut, pasangan manakah menerangkan situasi R dan S?

	Aplikasi Teknologi Maklumat	Situasi
I	<i>e-banking</i>	Menyediakan kemudahan pembayaran
II	<i>e-dagang</i>	Pembelian dan pembayaran secara berterusan
III	<i>e-banking</i>	Meluaskan skop perniagaan
IV	<i>e-government</i>	Membuat pentaksiran cukai perniagaan

- A I dan II
 B I dan IV
 C II dan III
 D III dan IV

- 16 Rajah 3 berkaitan dengan interaksi antara dua perniagaan.



Rajah 3

Bagaimanakah interaksi dan perkaitan bahagian fungsian dalam dua perniagaan tersebut?

- A Bahagian Jualan Perniagaan A akan menghubungi Bahagian Belian Perniagaan B untuk membeli alat ganti kereta
 B Bahagian Jualan Perniagaan A akan mengeluarkan invois kepada Bahagian Kewangan Perniagaan B
 C Bahagian Belian Perniagaan B akan menghubungi Bahagian Belian Perniagaan A untuk membeli alat ganti kereta
 D Bahagian Kewangan Perniagaan B akan mengeluarkan invois kepada Bahagian Kewangan Perniagaan A

- 17 Apakah maksud penjanaan idea?
- A Proses memenuhi keperluan pasaran
 - B Menghasilkan produk yang berpotensi
 - C Mereka bentuk produk
 - D Proses membuat keputusan
- 18 Pernyataan berikut berkaitan dengan Puan Ellie, seorang pembantu peribadi kepada pengurus besar syarikat.

Puan Ellie telah menggunakan komputer syarikat untuk berniaga secara dalam talian tanpa mendapat kelulusan dan kebenaran pihak pengurusan syarikat.

Apakah jenis kesalahan yang dilakukan oleh Puan Ellie?

- A Ponteng kerja
 - B Pecah amanah
 - C Salah guna aset syarikat
 - D Ingkar arahan tanpa sebab yang kukuh
- 19 Rizal, seorang graduan dalam bidang kejuruteraan awam, telah memohon pekerjaan sebagai jurutera awam di sebuah syarikat pembinaan.
- Apakah kemahiran kebolehkeraan yang dimiliki oleh Rizal?
- A Berpengalaman
 - B Kelayakan yang bersesuaian
 - C Berpengetahuan tentang produk pembinaan
 - D Berpengalaman dalam industri kejuruteraan

- 20 Maklumat berikut berkaitan dengan dua orang calon yang ditemu duga bagi pemilihan jawatan pengurus jualan di sebuah syarikat perabot.

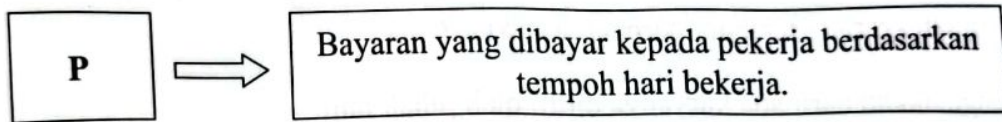
Calon A	Mempunyai Diploma Pengurusan Perniagaan dalam bidang pemasaran.
Calon B	Berpengalaman 5 tahun bekerja sebagai jurujual di sebuah kedai perabot jati.

Antara berikut, yang manakah merupakan kelebihan kepada syarikat sekiranya calon B dipilih?

- I Mempunyai kelayakan yang sesuai
- II Mahir menggunakan teknologi terkini
- III Menjimatkan kos melatih pekerja
- IV Mencapai sasaran jualan

- A I dan II
- B I dan IV
- C II dan III
- D III dan IV

- 21 Maklumat berikut berkaitan dengan sistem penggajian sebuah organisasi perniagaan.



Apakah P?

- A Elaun
- B Bonus
- C Upah
- D Gaji


- 22 Situasi berikut berkaitan dengan pengurusan sumber fizikal sebuah perniagaan.

Syarikat Warisan Rempah Sdn. Bhd. adalah pengeluar rempah-ratus di Selangor. Pihak syarikat telah mengambil beberapa tindakan iaitu mendapatkan insurans kebakaran untuk kilangnya dan menggaji seorang juruteknik untuk membuat pemeriksaan ke atas mesin-mesin yang digunakan.

Mengapakah syarikat mengambil tindakan tersebut?

- I Memastikan pengeluaran dapat berjalan dengan lancar
 - II Mendapatkan keuntungan jika berlaku risiko kebakaran
 - III Meningkatkan hasil jualan sekiranya produk yang dihasilkan berkualiti
 - IV Memulihkan perniagaan kepada keadaan asal jika berlaku risiko kebakaran
- A I dan II
 - B I dan IV
 - C II dan III
 - D III dan IV
- 23 Syarikat Penerbitan Watan memohon hak cipta terpelihara bagi buku yang diterbitkannya. Apakah tujuan syarikat tersebut berbuat demikian?
- A Mengelakkan daripada karyanya ditiru oleh pihak lain
 - B Mengelakkan paten dicetak rompak oleh pihak lain
 - C Mendapatkan kelulusan untuk menjual bukunya
 - D Mendapatkan perlindungan insurans daripada Akta Hak Cipta 1987

- 24 Gambar 1 berkaitan dengan pengurusan sumber di dua premis perniagaan.



Gambar 1

Apakah kesan pengurusan sumber fizikal dan teknologi bagi kedua-dua perniagaan tersebut?

- A Kilang Roti Azizah mengurus lebih banyak sumber fizikal berbanding Pusat Tuisyen Bestari Didik
 - B Pusat Tuisyen Bestari Didik mengurus lebih banyak sumber teknologi berbanding Kilang Roti Azizah
 - C Kilang Roti Azizah tidak perlu menguruskan sumber teknologinya
 - D Pusat Tuisyen Bestari Didik mempunyai lebih banyak sumber fizikal daripada Kilang Roti Azizah
- 25 Gambar 2 berkaitan dengan logo sebuah agensi kerajaan.



Gambar 2

Pernyataan manakah yang berkaitan dengan agensi tersebut?

- A Mempromosikan barangan ke luar negara
- B Menawarkan bantuan modal
- C Memberikan jaminan kredit
- D Menawarkan geran penyelidikan

- 26 Apakah kelemahan sumber pembiayaan daripada bank kepada usahawan?
- A Dokumentasi yang sedikit
 - B Jumlah pinjaman yang terhad
 - C Memerlukan cagaran dalam bentuk harta
 - D Menghadapi kerenah birokrasi
- 27 Antara berikut, dokumen manakah yang diperlukan semasa membuat permohonan pembiayaan daripada agensi kerajaan?
- I Salinan bil utiliti
 - II Kontrak sewaan premis
 - III Salinan kad pengenalan
 - IV Lesen perniagaan
- A I dan II
 - B I dan IV
 - C II dan III
 - D III dan IV
- 28 Situasi berikut berkaitan dengan sebuah perniagaan yang memerlukan sumber pembiayaan.

Syarikat Pembinaan DSR memerlukan sebuah kren dan sebuah jentolak bagi kerja-kerja pembinaan dalam tempoh tiga bulan.

Apakah jenis pembiayaan yang sesuai untuk dipilih?

- A Pemfaktoran
- B Sewa beli
- C Gadaian
- D Pajakan

- 29 Pernyataan berikut berkaitan dengan kegunaan penyata kewangan kepada suatu pihak.

Menilai prestasi perniagaan serta membuat pertimbangan untuk pemberian bonus dan dividen.

Siapakah pihak yang dimaksudkan?

- A Pihak pengurusan
 - B Pemegang saham
 - C Pembekal
 - D Pelabur
- 30 Maklumat berikut berkaitan dengan Kunci Kira-kira Syarikat Anggun Kreatif Sdn. Bhd.

	RM
Aset Semasa	55 000
Liabiliti Semasa	25 000
Untung Bersih	30 000

Berapakah nisbah semasa perniagaan tersebut?

- A 1.0 : 1
- B 1.8 : 1
- C 2.2 : 1
- D 2.7 : 1

- 31 Maklumat berikut berkaitan dengan prestasi kewangan Syarikat Megah Perdana Sdn. Bhd.

Tahun	2020	2021
Kadar pusing ganti stok	3.5 kali	4.2 kali

Pernyataan manakah menerangkan justifikasi prestasi tersebut?

- A Syarikat Megah Perdana mengurus stok lebih cekap pada tahun 2020 berbanding 2021
- B Syarikat Megah Perdana mengurus stok lebih cekap pada tahun 2021 berbanding 2020
- C Stok telah diganti sebanyak 3.5 kali pada tahun 2021 berbanding 2020
- D Stok telah diganti sebanyak 4.2 kali pada tahun 2020 berbanding 2021

- 32 Manakah antara berikut merupakan faktor penyumbang dalam memulakan perniagaan?

- A Pengetahuan
- B Sumber fizikal
- C Sumber manusia
- D Bantuan profesionalisme

- 33 Encik Nasir membuka sebuah restoran di Pulau Indah, Klang.
Apakah kelebihan Encik Nasir berbuat demikian kepada masyarakat?

- A Memenuhi keperluan dan kehendak
- B Mengurangkan kebergantungan kepada barang import
- C Menjalankan tanggungjawab sosial
- D Membangunkan ekonomi negara

- 34 Antara berikut, jenis perniagaan manakah yang tertakluk di bawah Akta Pendaftaran Perniagaan 1956?
- A Teguh Jaya PLT
 - B Syarikat Mesra Alam Sdn. Bhd.
 - C Kedai Runcit Sally
 - D Mitraland Berhad
- 35 Apakah faedah mendaftarkan perniagaan di Suruhanjaya Syarikat Malaysia?
- A Melayakkan mendapat pinjaman mikro daripada agensi kerajaan
 - B Mendapat pengecualian cukai daripada kerajaan
 - C Menambahkan hasil jualan perniagaan
 - D Meningkatkan imej syarikat
- 36 Antara berikut, yang manakah merupakan tanggungjawab yang perlu dipatuhi oleh usahawan setelah mendaftarkan perniagaan?
- I Memperbaharui sijil perakuan pendaftaran perniagaan dua bulan sebelum tamat
 - II Memastikan nama dan nombor pendaftaran perniagaan tertera pada dokumen rasmi
 - III Mempamerkan papan tanda mengikut spesifikasi pihak berkuasa tempatan
 - IV Menyimpan lesen perniagaan
- A I dan II
 - B I dan IV
 - C II dan III
 - D III dan IV
- 37 Antara berikut, yang manakah merupakan rekod kos operasi?
- A Memo
 - B Bil tunai
 - C Bil utiliti
 - D Invois

- 38 Apakah matlamat pemasaran dan jualan?
- A Memudahkan perancangan strategi
 - B Memperuntukkan sumber pada bahagian tertentu
 - C Meningkatkan aktiviti perniagaan
 - D Menjana keuntungan perniagaan

- 39 Gambar 3 menunjukkan satu kaedah promosi.



Gambar 3

Apakah kaedah tersebut?

- A Jualan langsung
 - B Promosi jualan
 - C Pengiklanan
 - D Publisiti
- 40 Apakah kepentingan menyediakan rancangan perniagaan?
- A Menjangka risiko yang akan timbul
 - B Mendapatkan keuntungan yang banyak
 - C Memastikan projek dapat berdaya saing
 - D Meyakinkan pelanggan membeli produk

KERTAS PEPERIKSAAN TAMAT