

2 Jam 15 Minit

Dua jam lima belas minit

JANGAN BUKA KERTAS SOALAN INI SEHINGGA DIBERITAHU

1. *Kertas soalan ini mengandungi **tiga** bahagian: **Bahagian A, Bahagian B dan Bahagian C.***
2. *Jawab **lima** soalan daripada **Bahagian A** , **dua** soalan di **Bahagian B** dan **satu** soalan **wajib** di **bahagian C.***
3. *Jawapan hendaklah ditulis dalam kertas jawapan yang disediakan.*
4. *Markah yang diperuntukkan bagi setiap soalan atau ceraihan soalan ditunjukkan dalam kurungan.*
5. *Anda dibenarkan menggunakan kalkulator saintifik yang tidak boleh diprogramkan.*
6. *Semua kertas jawapan anda hendaklah diserahkan kepada pengawas peperiksaan pada akhir peperiksaan.*

Kertas ini mengandungi 9 halaman bercetak

[Lihat halaman sebelah

Bahagian A
[50 markah]
Jawab lima soalan sahaja

1 (a) Huraikan tujuan perniagaan [3 markah]

(b) Maklumat berikut berkaitan bentuk pemilikan perniagaan.

Anis merupakan seorang pemilik restoran yang menjual pelbagai menu sarapan pagi. Sahabat baiknya Sara amat berminat untuk bekerjasama menguruskan restoran milik Anis. Mereka bersetuju untuk menukar nama perniagaan kepada Restoran Anissa.

Mengapakah Anis dan Sara memilih bentuk pemilikan perniagaan di atas? [4 markah]

(c) Jelaskan rakan kongsi aktif. [3 markah]

2. (a) Jelaskan jenis pelepasan cukai taraf perintis. [3 markah]

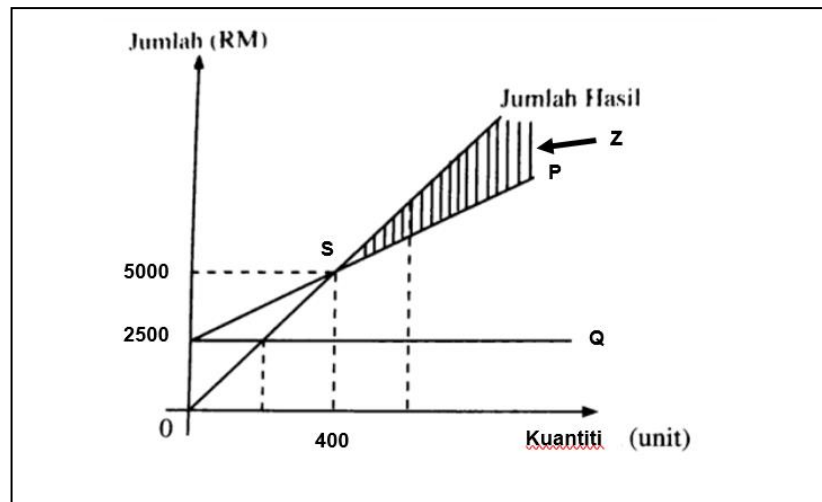
(b) Situasi berikut berkaitan seorang usahawan.

Masyitah merupakan usahawan pengeluar kain sutera berjenama 'Sutera Eksklusif'. Produk beliau telah berjaya dipasarkan ke seluruh negara. Masyitah bercadang mencari pasaran baru dengan menembusi pasaran antarabangsa seperti Perancis dan Belanda.

Terangkan agensi kerajaan yang dapat membantu Masyitah menembusi pasaran antarabangsa. [5 markah]

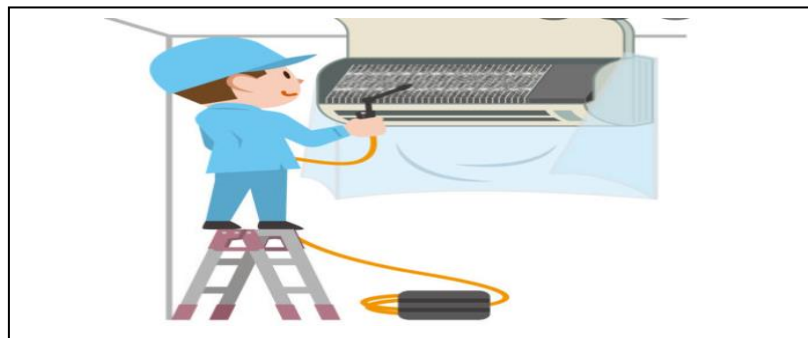
(c) Jelaskan cara mengatasi pengangguran bermusim. [2 markah]

3. (a) Rajah 1 menunjukkan titik pulang modal sebuah perniagaan barangan plastik.



Rajah 1

- Apakah P dan Q ? [2 markah]
- (b) Jelaskan kawasan Z [4 markah]
- (c) Jelaskan ciri-ciri fizikal sesuatu produk yang baik. [4 markah]
4. Gambar 1 menunjukkan proses penyelenggaraan dan baik pulih penghawa dingin di sebuah kilang.



Gambar 1

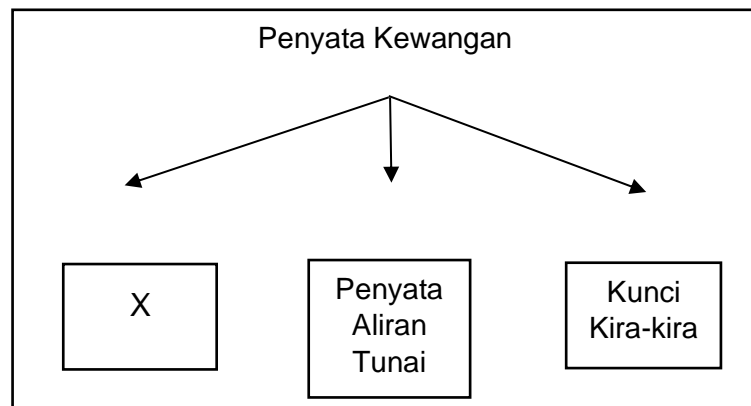
- (a) Mengapakah penyelenggaraan perlu dijalankan secara berjadual? [2 markah]
- (b) Jelaskan harta intelek. [4 markah]
- (c) Terangkan **dua** jenis sumber pembiayaan dalaman. [4 markah]

5. Jadual di bawah menunjukkan butiran dalam kunci kira-kira/ penyata kedudukan kewangan.

Aset bukan semasa	RM100 000
Aset semasa	RM50 000
Liabiliti bukan semasa	RM80 000
Liabiliti semasa	RM30 000

- (a) Hitungkan nisbah semasa berdasarkan maklumat di atas. [2 markah]
- (b) Jelaskan langkah-langkah pembangunan produk baru berikut :
 (i) Penjanaan idea [2 markah]
 (ii) Komersialisasi [2 markah]
- (c) Terangkan kepentingan interaksi antara sebuah perniagaan dengan organisasi luar. [4 markah]

6. Rajah 2 menunjukkan jenis-jenis penyata kewangan



Rajah 2

- (a) Jelaskan X. [5 markah]
- (b) Terangkan peranan fungsian kewangan bagi memastikan sumber kewangan diagihkan dengan cekap. [5 markah]

Bahagian B
[30 markah]
Jawab dua soalan sahaja

7. Maklumat berikut berkaitan dengan sebuah pasaraya.

Miro Mart Sdn Bhd merupakan sebuah pasaraya yang beroperasi di Terengganu. Bilangan pekerja tetap seramai 200 orang dengan jualan tahunan RM30 juta.

Kebelakangan ini, Miro Mart menghadapi masalah pusing ganti pekerja. Ramai yang berhenti kerja kerana mendapat tawaran yang lebih menarik di syarikat lain. Bagi mengatasi masalah ini, pengurus sumber manusia telah merancang strategi bagi mengatasi masalah ini.

- (a) Jelaskan perkaitan antara saiz perniagaan dengan bentuk pemilikan perniagaan. [5 markah]
- (b) Terangkan faktor-faktor yang dipertimbangkan oleh Miro Mart Sdn. Bhd. sebelum menetapkan gaji yang sesuai dibayar kepada pekerjanya. [6 markah]
- (c) Bagaimanakah usaha yang boleh dibuat oleh pihak pengurusan syarikat untuk mengelakkan pekerja dari berpindah kerja ke syarikat lain. [4 markah]

8. Maklumat berikut berkaitan dengan sebuah syarikat minuman.

Syarikat Minum Jus Sihat Sdn Bhd mengeluarkan Jus Pisang Susu Bermadu. Syarikat juga menyediakan perkhidmatan penghantaran Jus Pisang Susu Bermadu di sekitar Kawasan Kuala Nerus, Terengganu. Misi syarikat ialah jus berkualiti tinggi dan menyediakan perkhidmatan penghantaran jus yang cekap dan mesra pelanggan. Syarikat memiliki mesin pengisar buah, mesin pembungkusan, 2 buah van dan 1 buah motosikal. Bagi melancarkan aktiviti perniagaan, syarikat perlu mengurus sumber agar dapat berfungsi dengan baik. Permintaan yang tinggi daripada penduduk di sekitar Kuala Nerus, Terengganu menyebabkan syarikat terpaksa menambah bilangan kenderaan yang digunakan. Oleh itu, syarikat sedang mempertimbangkan untuk membeli kenderaan dan mesin.

- (a) Mengapakah Syarikat Minum Jus Sihat Sdn Bhd menetapkan misi bagi perniagaannya? [6 markah]
- (b) Huraikan prosedur mengurus sumber bagi Syarikat Minum Jus Sdn Bhd. [4 markah]
- (c) Cadangkan jenis sumber pembiayaan yang sesuai. Beri alasan anda. [5 markah]

9. Pernyataan berikut berkaitan dengan sebuah perniagaan.

Encik Adam seorang usahawan muda yang baru memulakan perniagaan restoran berkonsepkan makanan barat. Walaupun banyak restoran lain menjual makanan yang sama, namun beliau yakin dengan keunikan resepinya dan strategi pemasaran yang dijalankan melalui aplikasi WhatsApp dan Facebook, mampu bersaing dan menjana keuntungan. Selain itu, harga yang ditawarkan lebih menarik berbanding pesaing.

Dalam tempoh 2 tahunakan datang, En Adam berhasrat membuka sebuah lagi cawangan yang baharu.

Laporan kewangan yang disediakan oleh Penyelia Kewangan perniagaan Encik Adam menggambarkan kedudukan kewangan yang sangat baik dan sistematik

Disebabkan perniagaannya masih baharu dan persaingan yang sengit, beliau perlu memikirkan strategi campuran pemasaran yang lebih berkesan untuk meningkatkan jualan.

- (a) Jelaskan ciri-ciri keperibadian seorang usahawan yang dimiliki oleh Encik Adam. [5 markah]
- (b) Terangkan kepentingan penyata kewangan kepada Perniagaan Encik Adam. [4 markah]
- (c) Berdasarkan petikan, huraikan elemen campuran pemasaran yang sesuai. [6 markah]

Bahagian C

[20 markah]

Soalan ini **wajib** dijawab

10. Puan Aishah pemilik NS Bundle menjalankan perniagaan jualan kasut terpakai di premisnya berhampiran stadium utama negeri Terengganu. Perniagaannya juga dijalankan secara dalam talian.

Terdapat ramai pemborong besar yang menjual kasut bundle di Malaysia namun syarikat lebih memilih untuk mendapatkan bekalan kasut terpakai daripada Adela Bundle yang terletak di Selatan Thailand. Kesemua produk yang dijual merupakan kasut terpakai berjenama terkenal daripada Korea, Jepun dan negara-negara Eropah.

Terkini, jualan kasut terpakai mendapat sambutan menggalakkan daripada masyarakat melalui dalam talian seluruh negara termasuk negara-negara luar seperti Singapura dan Brunei. Terdapat juga pembeli yang menjual semula kasut terpakai untuk mendapatkan keuntungan.



Akibat daripada peperangan yang berlaku di Ukraine telah membawa kesan besar terhadap ekonomi global. Harga kasut terpakai juga terkesan iaitu meningkat kerana kenaikan kadar pertukaran mata wang asing. NS Bundle bersama rakan strategik niaga sedang memikirkan langkah terbaik bagi memastikan kelangsungan perniagaan mereka.

Berdasarkan kes tersebut, jawab soalan berikut:

- (a) Mengapakah Puan Aishah memilih Adela Bundle sebagai pemborong utama mereka? [5 markah]
- (b) Huraikan trend persekitaran bagi perniagaan ini? [3 markah]

- (c) Huraikan dua faktor luaran yang mempengaruhi perubahan kepada perniagaan. [6 *markah*]
- (d) Mengapakah ramai pengguna memilih untuk membeli produk terpakai bagi kegunaan harian mereka? [3 *markah*]
- (e) Jelaskan peranan rakan strategik niaga dalam membantu perniagaan Puan Aishah? [3 *markah*]

KERTAS SOALAN TAMAT