

ARAHAN: Jawab SEMUA soalan.

- 1 Apakah peranan golongan rakyat dalam Kesultanan Melayu Melaka?
  - A Melaksanakan arahan
  - B Mengakui kuasa sultan
  - C Mengukuhkan ekonomi
  - D Menjalankan pentadbiran
  
- 2 Fasal 9 dalam Undang-undang Laut Melaka, terdapat penegasan bahawa seorang malim harus arif tentang ilmu pelayaran.  
Apakah tujuan penegasan tersebut?
  - A Menjamin kecelesaan
  - B Menjaga kebajikan rakyat
  - C Memastikan pelayaran selamat
  - D Menunjukkan kewibawaan nakhoda
  
- 3 Gambar di bawah menunjukkan tokoh yang terlibat dalam perkembangan gerakan nasionalisme di Asia Tenggara.



Raden Adjeng Kartini

Apakah perkara yang didedahkan dalam karyanya berjudul *Hilang Gelap Terbitlah Terang* pada tahun 1911?

- I Dasar diskriminasi Belanda
  - II Kemunduran bangsanya
  - III Pemodenan pentadbiran
  - IV Tuntutan hak yang sama
- A I dan II
  - B I dan IV
  - C II dan III
  - D III dan IV

8 Apakah reaksi kakitangan kerajaan Sarawak terhadap pekeliling berikut?

Pekeliling No 9 / 1946

- A Mengadakan persidangan
- B Menyokong penyerahan
- C Menyertai Hari Hartal
- D Meletakkan jawatan

9 Pihak British telah mengadakan pertemuan dengan Raja-raja Melayu di Kuala Kangsar pada 27 Mei 1946.

Apakah hasil pertemuan tersebut?

- I Perjanjian baharu dibentuk
  - II Penubuhan persekutuan bertaraf naungan
  - III Pelantikan Gabenor telah diiktiraf oleh British
  - IV Penggubalan Perlembagaan Rakyat dilaksanakan
- A I dan II
  - B I dan IV
  - C II dan III
  - D III dan IV

10 Pengenalan Persekutuan Tanah Melayu 1948 telah menjadi asas ke arah perpaduan kaum.

Apakah buktinya?

- A Penubuhan Parti Perikatan
- B Penubuhan Jawatankuasa Kerja
- C Pilihanraya dimenangi oleh Parti Perikatan
- D Penubuhan Jawatankuasa Hubungan Antara Kaum

11 Mengapakah Parti Komunis Malaya berjaya meluaskan pengaruh selepas British Military Administration (BMA) mengambil alih pentadbiran di Tanah Melayu?

- A Dibenarkan menyumbang artikel akhbar
- B Diiktiraf sebagai pertubuhan yang sah
- C Disokong oleh Pejabat Tanah Jajahan
- D Diluluskan membuka cawangan yang baharu

- 15 Maklumat berikut merujuk kepada keputusan pilihan raya peringkat negeri pada tahun 1954.

Perikatan UMNO-MCA memenangi 226 daripada 268 kerusi

Apakah yang dapat dibuktikan daripada keputusan tersebut?

- A Keperluan rakyat dipenuhi
  - B Kesetiaan rakyat kepada raja
  - C Kebebasan bersuara diiktiraf
  - D Kejayaan kerjasama pelbagai kaum
- 16 Apakah peranan Majlis Perundangan Persekutuan yang ditubuhkan selepas Pilihan Raya Umum 1955?
- A Menggubal undang-undang
  - B Mengambil alih pentadbiran
  - C Mengetuai pentadbiran negeri
  - D Menguruskan kewangan negara
- 17 Dialog tersebut memaparkan senario politik negara era sebelum merdeka.

**Tokoh A:** Kami wakil orang Ceylon dan kaum Serani menyokong rundingan kemerdekaan yang di lakukan.

**Tokoh B:** Ketua Parti Rakyat, Parti Negara dan Parti Buruh juga sokong.

Apakah rumusan daripada sokongan tersebut?

- A Kesungguhan membanteras penjajah
- B Kesanggupan mengenyepikan ideologi parti
- C Kesiediaan menerima adat resam setiap kaum
- D Kehormatan terhadap arahan pemimpin negara

12 Mengapakah rakyat bergantung pada makanan berikut semasa Zaman Darurat?

- |   |
|---|
| <ul style="list-style-type: none"> <li>• Jagung</li> <li>• Keledck</li> <li>• Ubi kayu</li> </ul> |
|---|

- A Catuan bekalan makanan
- B Kemusnahan ladang getah
- C Sekatan perintah berkurung
- D Kerosakan peralatan pertanian

13 Maklumat berikut berkaitan dengan sistem pentadbiran British di Tanah Melayu.

Tahun	Sistem Pentadbiran
1951	Sistem Ahli

Apakah tanggungjawab Ahli dalam Sistem Ahli?

- I Menjaga portfolio
  - II Mencadangkan undang-undang
  - III Melantik Ahli yang berkeelayakan
  - IV Mengetuai pentadbiran dalam negara
- A I dan II
  - B I dan IV
  - C II dan III
  - D III dan IV

14 Mengapakah Laporan Fenn-Wu diterbitkan selepas Laporan Barnes dikeluarkan?

- A Sokongan daripada pegawai British
- B Bantahan daripada masyarakat Cina
- C Perkembangan pendidikan Vernakular
- D Kajian terhadap pendidikan kebangsaan

- 4 Bagaimanakah tokoh berikut membangkitkan kesedaran nasionalisme dalam kalangan masyarakat di negara kita pada awal abad ke-20?

- Abdul Rahim Kajai
- Muhammad Rakawi Yusuf
- Zainal Abidin Ahmad (Za'ba)

- A Mewujudkan persatuan  
B Membentuk parti politik  
C Mengasaskan gerakan revolusi  
D Menghasilkan pemulisan kreatif
- 5 Mengapakah rancangan pendudukan Jepun terhadap negara kita merupakan salah satu usaha untuk membentuk kawasan Lingkungan Sekemakmuran Asia Timur Raya?
- A Mengukuhkan ekonomi Jepun  
B Memperbesar ketenteraan Jepun  
C Menjamin kestabilan politik Jepun  
D Menonjolkan identiti dan imej Jepun
- 6 Apakah taktik yang digunakan oleh Jepun untuk mendesak Albert Kwok di Sabah menyerah diri?
- A Menawarkan pengampunan terbuka kepada ahli  
B Melancarkan serangan balas dengan pantas dan kejam  
C Memujuk ahli gerila menyerahkan diri secara sukarela  
D Memberikan peluang orang tempatan dalam pentadbiran kerajaan
- 7 Raja-raja Melayu berhimpun di Hotel Station sebagai tanda menunjukkan bantahan terhadap Malayan Union.  
Mengapakah Raja-raja Melayu bertindak sedemikian?
- A Menyokong kongres Melayu  
B Mengadakan Majlis Raja-raja  
C Memulaukan pelantikan Gabenor  
D Membincangkan draf Perlembagaan

25 Perlembagaan memperuntukkan kuasa Yang di-Pertuan Agong dalam pemerintahan negara.


Apakah bidang kuasa baginda?

- I Menggubal undang-undang
  - II Melantik diplomat Malaysia
  - III Melantik Ketua Audit Negara
  - IV Penasihat utama Perdana Menteri
- A I dan II
  - B I dan IV
  - C II dan III
  - D III dan IV

26 Bagaimanakah sistem pemerintahan beraja berperanan mengimbangi pemerintahan demokrasi?

- A Raja berkecuali dalam politik
- B Konsep taat setia rakyat kepada raja
- C Mengikut peruntukan perlembagaan
- D Raja sebagai Ketua Eksekutif Negeri

27 Gambar berikut berkaitan dengan kemudahan awam di negara kita.



Taman Rekreasi

Pihak manakah yang bertanggungjawab terhadap kemudahan tersebut?

- A Pertubuhan bukan kerajaan
- B Kerajaan Tempatan
- C Kerajaan Negeri
- D Syarikat swasta

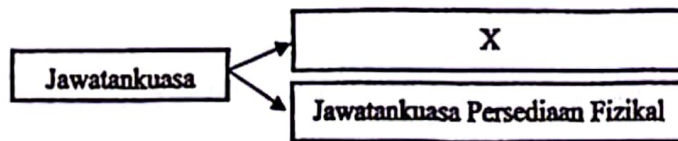
18 Soalan 18 berdasarkan situasi di bawah.

Izzati warganegara Singapura ingin memohon menjadi rakyat Malaysia

Bagaimanakah cara Izzati memohon menjadi warganegara Malaysia?

- A Naturalisasi
- B Permohonan pendaftaran
- C Penguatkuasaan undang-undang
- D Kebenaran Majlis Tertinggi Kabinet

19 Jawatankuasa berikut ditubuhkan bagi membuat persediaan sambutan pemsyukuran Kemerdekaan Negara.



Apakah X?

- A Majlis Eksekutif
- B Majlis Perundangan
- C Jawatankuasa Kerja
- D Jawatankuasa Sambutan

20 Prinsip kedaulatan merupakan kuasa tertinggi bagi sesebuah negara.

Mengapakah kita perlu mengekalkan prinsip tersebut?

- I Membuktikan kehebatan
  - II Mengekalkan kesejahteraan
  - III Menjamin kemakmuran negara
  - IV Mengukuhkan kerjasama rakyat
- A I dan II
  - B I dan IV
  - C II dan III
  - D III dan IV

21 Gambar berikut merupakan bangunan Parlimen Malaysia.



Apakah ciri negara berdaulat yang dikaitkan dengan gambar tersebut?

- A Kewarganegaraan
  - B Persempadanan
  - C Pemrintahan
  - D Perundangan
- 22 Bagaimanakah rakyat boleh memainkan peranan dalam mengekalkan perpaduan kaum?
- A Menghayati Rukun Negara
  - B Menyokong segala dasar Kerajaan
  - C Menganggotai pasukan ketenteraan
  - D Mematuhi undang-undang Malaysia

23

*Charter of Justice*

Apakah matlamat undang-undang tersebut diperkenalkan oleh British di Negeri - negeri Selat?

- A Mewujudkan Mahkamah Tinggi
  - B Melindungi penduduk asal
  - C Menjaga keamanan negara
  - D Menjaga kebajikan rakyat
- 24 Perlembagaan Persekutuan Tanah Melayu 1957 dipinda pada tahun 1963 dan 1965. Apakah rasional pindaan tersebut?
- A Desakan daripada pihak British
  - B Mengkaji peruntukan kuasa raja
  - C Menguatkuasakan undang-undang
  - D Menyesuaikan peruntukan negeri baharu



**SULIT**

28 Bagaimanakah penyelarasan antara Kerajaan Persekutuan dengan Kerajaan Negeri dilaksanakan?

- A Mesyuarat Jemaah Menteri
- B Mesyuarat Setiausaha Persekutuan Negeri
- C Mesyuarat Menteri Besar dan Ketua Menteri
- D Mesyuarat Jawatankuasa Kerajaan Persekutuan dan Negeri

29 Antara berikut wilayah manakah yang menyertai gagasan Malaysia pada tahun 1963?

- I Brunei
  - II Filipina
  - III Sarawak
  - IV Singapura
- A I dan II
  - B I dan IV
  - C II dan III
  - D III dan IV

30 Maklumat berikut berkaitan dengan pembentukan Malaysia



Mengapakah tarikh pengisytiharan pembentukan Malaysia telah ditangguhkan ?

- A Tindakan ketenteraan Indonesia
  - B Singapura mengumumkan pemisahan
  - C Laporan Setiausaha PBB lewat diterima
  - D Parlimen Persekutuan Tanah Melayu dibubarkan
- 31 Mengapakah penduduk di kawasan pedalaman Sarawak dan Sabah tidak mendapat peluang pendidikan yang secukupnya?
- A Keutamaan terhadap sistem pendidikan tidak formal
  - B Kekurangan sekolah di luar bandar
  - C Kekurangan sumber kewangan
  - D Ketiadaan sekolah Melayu

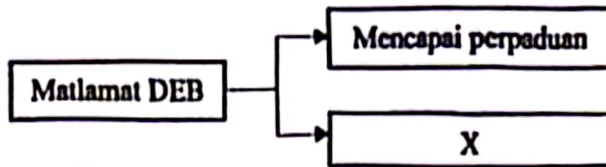
- 32 Apakah langkah yang diambil oleh kerajaan Malaysia bagi mengatasi masalah Peristiwa 13 Mei 1969?
- A Membubarkan Parlimen
  - B Menghentikan pilihan raya
  - C Menubuhkan Majlis Gerakan Negara
  - D Mendapatkan perlindungan Pertubuhan Bangsa-Bangsa Bersatu
- 33 Maklumat berikut berkenaan dengan satu laporan yang berkaitan dengan matlamat bagi memperkukuh perpaduan.

- Kurikulum Baru Sekolah Rendah (KBSR)
- Kurikulum Bersepadu Sekolah Menengah (KBSM)

Apakah dasar pendidikan yang memperkenalkan kurikulum di atas?

- A Penyata Razak
  - B Laporan Rahman Talib
  - C Kajian Aminuddin Baki
  - D Laporan Jawatankuasa Kabinet
- 34 Dasar Kebudayaan Kebangsaan digubal oleh kerajaan pada tahun 1971. Apakah prinsip dasar tersebut?
- I Bertunjangkan agama Islam
  - II Mengutamakan elemen dari luar
  - III Memperkukuh identiti kenegerian
  - IV Berasaskan kebudayaan rakyat asal
- A I dan II
  - B I dan IV
  - C II dan III
  - D III dan IV

35 Rajah berikut berkaitan dengan matlamat Dasar Ekonomi Baru (DEB)



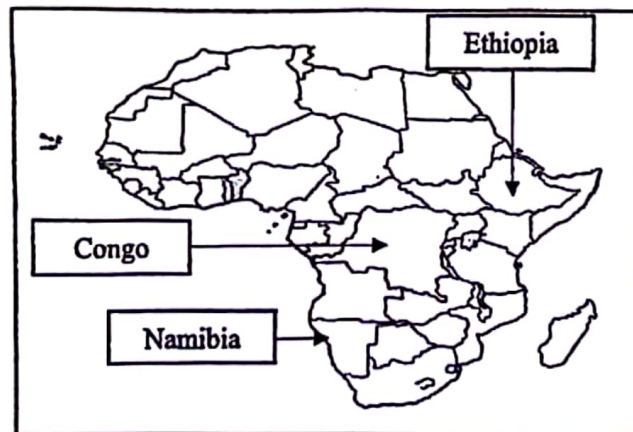
Apakah X?

- A Memodenkan pertanian komersial
- B Memajukan sektor perindustrian
- C Mencapai kesejahteraan kaum
- D Merapatkan jurang ekonomi

36 Manakah padanan gelaran yang tepat dengan tokoh bumiputera tersebut?

	TOKOH	BIDANG
A	Tan Sri Azman Hashim	Korporat
B	Tan Sri Mustapha Kamal	Hartanah
C	Tan Sri Effendi Norwawi	Perbankan
D	Tan Sri Syed Mokhtar al-Bukhari	Perniagaan

37 Peta berikut berkaitan misi pengaman yang disertai Malaysia di bawah Pertubuhan Bangsa-Bangsa Bersatu.



Mengapakah Malaysia menyertai misi tersebut ?

- A Mendaulatkan undang-undang
- B Menghapuskan dasar aparteid
- C Memberi latihan kemahiran teknikal
- D Meningkatkan taraf hidup penduduk

**SULIT**

38 Apakah manfaat yang Malaysia diperolehi daripada menyertai Pergerakan Negara-negara Tanpa Pihak (NAM)?

- A Mendapat pengiktirafan dunia
- B Menjadi kuasa ekonomi dunia
- C Menjalinkan hubungan luar yang lebih terbuka
- D Meningkatkan kekuatan angkatan ketenteraan negara

39 Ekonomi dunia didominasi oleh negara maju.

Apakah kesan tindakan tersebut terhadap Malaysia?

- I Pelaksanaan pembayaran levi
  - II Penggunaan mata wang USD
  - III Pembentukan pelbagai tarif dan cukai
  - IV Pelbagai sekatan dan halangan dikenakan
- A I dan II
  - B I dan IV
  - C II dan III
  - D III dan IV

40 Gambar menunjukkan Anugerah Langkawi yang diisytiharkan oleh Malaysi



Apakah kriteria melayakkan seseorang menerima anugerah tersebut?

- A Memajukan inovasi temakan
- B Menaikkan bidang pelancongan
- C Membangunkan bidang alam sekitar
- D Melakukan penyelidikan dalam perubatan

**KERTAS PEPERIKSAAN TAMAT**

1249/1@2024 Hak Cipta PPMP Sejarah Daerah Kulal