



**SOALAN PRAKTIS BESTARI
PROJEK JAWAB UNTUK JAYA (JUJ) 2014**



**SIJIL PELAJARAN MALAYSIA
EKONOMI ASAS
Kertas 1 Set 3**

3757/1

1 1/4 jam

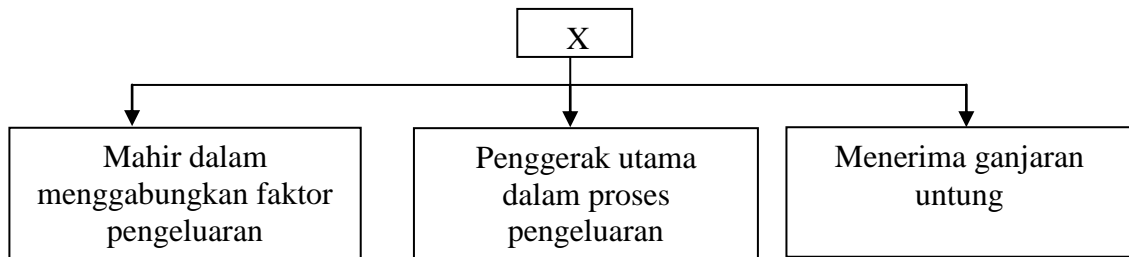
Satu jam lima belas minit

JANGAN BUKA KERTAS SOALAN INI SEHINGGA DIBERITAHU

1. *Kertas soalan ini mengandungi 40 soalan.*
2. *Jawab semua soalan.*
3. *Tiap-tiap soalan diikuti oleh empat pilihan jawapan, iaitu A, B, C dan D. Bagi setiap soalan, pilih satu jawapan sahaja. **Hitamkan** jawapan anda pada kertas jawapan objektif yang disediakan.*
4. *Jika anda hendak menukar jawapan, padamkan tanda yang telah dibuat. Kemudian hitamkan jawapan yang baru.*
5. *Anda dibenarkan menggunakan kalkulator saintifik yang tidak boleh diprogramkan.*

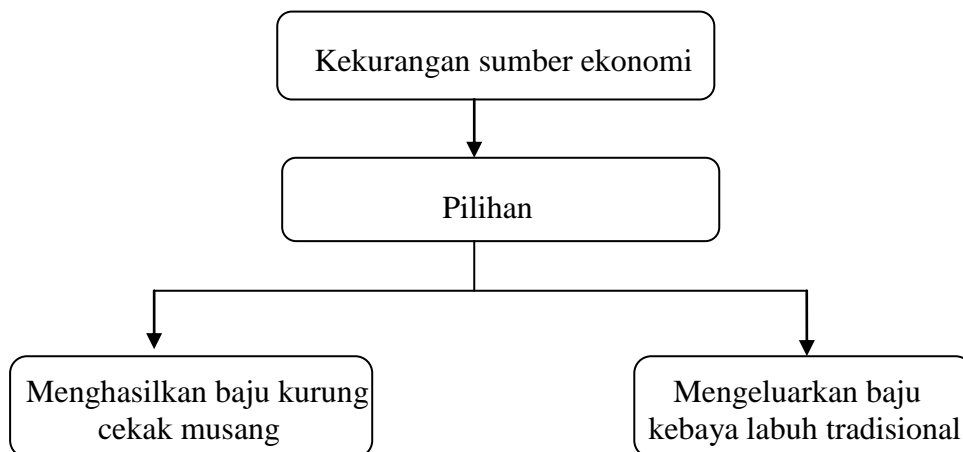
Kertas soalan ini mengandungi 15 halaman bercetak dan 2 halaman tidak bercetak

- 1 Rajah di bawah berkaitan dengan ciri satu sumber ekonomi



Pilih pernyataan yang benar tentang sumber ekonomi X?

- A Tanah
 - B Buruh
 - C Modal
 - D Usahawan
- 2 Rajah di bawah menunjukkan masalah ekonomi yang dihadapi oleh suatu unit ekonomi.



Unit ekonomi manakah yang menghadapi masalah tersebut?

- A Surirumah
- B Syarikat kain
- C Penari tradisional
- D Kementerian Kebudayaan

- 3 Gambar di bawah menunjukkan sejenis barang dalam ekonomi.



Pilih pernyataan yang benar tentang barang di atas?

- I Penawaran terhad
- II Melibatkan kos lepas
- III Disediakan oleh kerajaan
- IV Tiada pengecualian penggunaan

- A I dan II
- B I dan III
- C II dan IV
- D III dan IV

- 4 Pernyataan di bawah berkaitan dengan penyelesaian suatu masalah asas ekonomi.

Penggunaan kaedah intensif buruh atau intensif modal
dalam pengeluaran barang

Apakah masalah asas ekonomi tersebut?

- A Apa yang hendak dikeluarkan
- B Berapa hendak dikeluarkan
- C Bagaimana hendak dikeluarkan
- D Untuk siapa hendak dikeluarkan

- 5 Pilih cirri sistem ekonomi yang diamalkan oleh Malaysia.

- A Tiada campur tangan kerajaan dalam urusan ekonomi
- B Harga ditentukan oleh mekanisme harga dan kawalan kerajaan
- C Sumber ekonomi milik Allah, manusia hanya pemegang amanah
- D Tiada persaingan antara firma dengan firma

6 Antara yang berikut, pekerjaan manakah yang boleh dikaitkan dengan sektor kedua?

- I Buruh binaan
- II Juruteknik kilang
- III Bomba
- IV Mekanik

- A I dan II
- B I dan IV
- C II dan III
- D III dan IV

7 Maklumat berikut berkaitan dengan ciri sejenis pendapatan.

- Diberi mengikut masa
- Dikira mengikut kuantiti
- Boleh diberi dalam bentuk barang

Pernyataan di atas adalah berkaitan dengan

- A sewa
- B untung
- C dividen
- D upah

8 Apakah faktor yang mendorong individu bekerja sendiri?

- I Menerima gaji yang lumayan
- II Ada peluang naik pangkat
- III Sanggup menanggung risiko
- IV Tidak terikat dengan masa bekerja

- A I dan II
- B II dan III
- C III dan IV
- D I dan IV

- 9 Jadual di bawah menunjukkan pendapatan dan perbelanjaan Encik Manan dalam tempoh satu tahun.

Butiran	Jumlah (RM)
Pendapatan tahunan	35 000
Caruman KWSP	3 850
Premium insuran nyawa	1 600
Cukai pendapatan	250
Bayaran zakat	400
Caruman PERKESO	525

Hitungkan pendapatan boleh guna.

- A RM 28 375
 B RM 28 900
 C RM 29 300
 D RM 29 975
- 10 Maklumat berikut berkaitan dengan satu persamaan dalam ekonomi

$$\text{Pendapatan Boleh Cukai} = \text{Jumlah Pendapatan} - X$$

Apakah X?

- A Cukai pendapatan
 B Zakat
 C Rawatan ibu bapa
 D Insurans kereta

11 Gambar di bawah adalah perbualan dua orang sahabat tentang pinjaman.



Hitungkan jumlah faedah yang perlu dibayar oleh Arisha jika tempoh pinjamannya ialah 2 tahun.

- A RM 350
- B RM 700
- C RM 2 857
- D RM 5 000

12 Maklumat berikut berkaitan peranan suatu unit ekonomi.

- Menggunakan barang dan perkhidmatan
- Bersama-sama membuat keputusan ekonomi
- Menawarkan input-input pengeluaran

Apakah objektif penggunaan unit ekonomi tersebut?

- A Memaksimumkan keluaran
- B Memaksimumkan keuntungan
- C Memaksimumkan kebajikan
- D Memaksimumkan kepuasan

13 Maklumat di bawah menunjukkan jadual permintaan suatu barang.

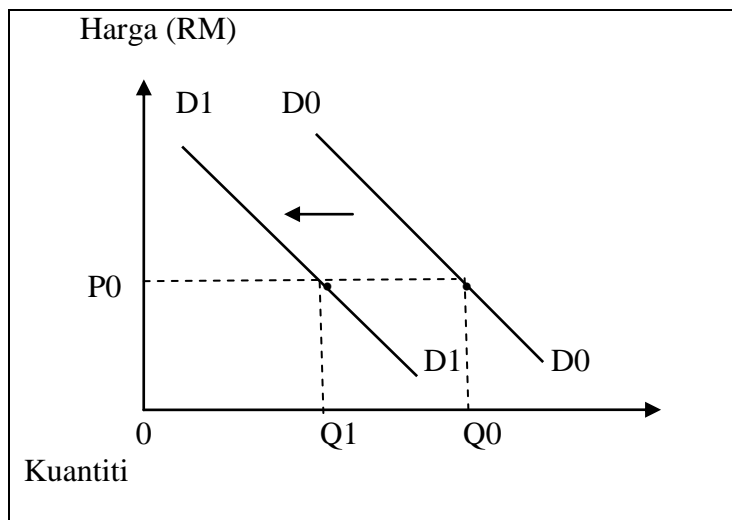
Harga	Kuantiti Diminta (Unit)
100	10
80	15
60	22
40	27
20	30

Antara yang berikut, pernyataan manakah yang benar?

- I Apabila harga turun dari RM80 ke RM40 kuantiti diminta naik 12 unit
- II Keluk permintaannya mencerun ke atas dari kiri ke kanan
- III Apabila harga naik dari RM20 ke RM 40, pekali keanjalannya adalah anjal
- IV Harga berkurang, kuantiti diminta meningkat

- A I dan II
- B I dan IV
- C II dan III
- D II dan IV

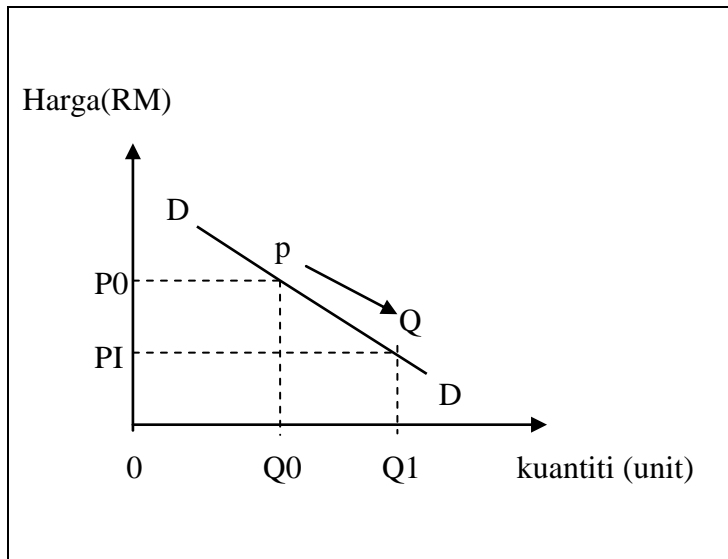
14 Rajah di bawah menunjukkan keluk permintaan bagi basikal 'Fixie'



Antara yang berikut, yang manakah menyebabkan keluk permintaan berubah dari D0D0 ke D1D1?

- A Peningkatan pendapatan pengguna
- B Peningkatan dalam citarasa pengguna
- C Penurunan harga basikal biasa
- D Jangkaan harga akan turun pada masa hadapan

15 Rajah menunjukkan keluk permintaan susu segar.



Apakah faktor yang menyebabkan titik P bergerak titik Q?

- A Penurunan harga susu soya
- B Peningkatan harga dadih
- C Penurunan harga susu segar
- D Peningkatan pendapatan pengguna

16 Jadual menunjukkan harga dan kuantiti permintaan bagi suatu barang

Harga (RM)	Kuantiti Diminta (Unit)
40	4
20	5

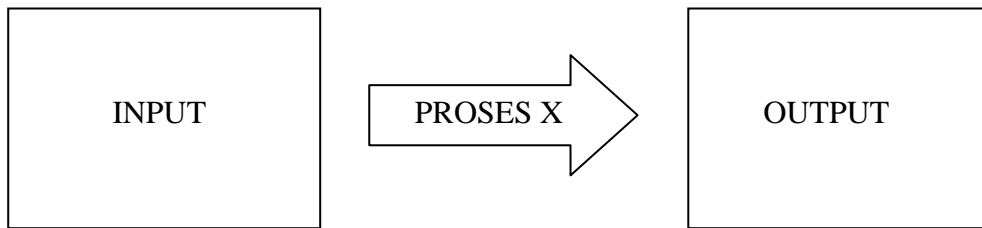
Tafsirkan jenis keanjalan harga permintaan bagi barang tersebut.

- A Apabila harga menurun sebanyak 50 %, kuantiti diminta meningkat sebanyak 25 %
- B Apabila harga meningkat sebanyak 25%, kuantiti diminta meningkat sebanyak 50%
- C Apabila harga menurun sebanyak 1%, kuantiti diminta meningkat sebanyak 0.5%
- D Apabila harga meningkat 1%, Kuantiti diminta meningkat 0.5%

17 Antara yang berikut yang manakah merupakan kos tetap bagi Syarikat Perabot Indah?

- A Bil elektrik .
- B Upah buruh
- C Sewa kilang
- D Kos papan lapis

18 Maklumat di bawah menerangkan suatu proses dalam ekonomi



Apakah proses X?

- A Menggabungkan faktor-faktor pengeluaran untuk menghasilkan barang siap
- B Menggunakan bahan mentah untuk menghasilkan barang separuh siap
- C Menggabungkan faktor-faktor pengeluaran untuk menghasilkan barang dan perkhidmatan
- D Menggunakan faktor-faktor pengeluaran untuk menghasilkan perkhidmatan

19 Pernyataan di bawah berkaitan suatu konsep ekonomi.

Kuantiti sesuatu barang yang sanggup ditawarkan oleh sesebuah firma pada satu tingkat harga dalam tempoh masa tertentu

Apakah konsep tersebut?

- A Pengeluaran
- B Penawaran
- C Permintaan
- D Pasaran

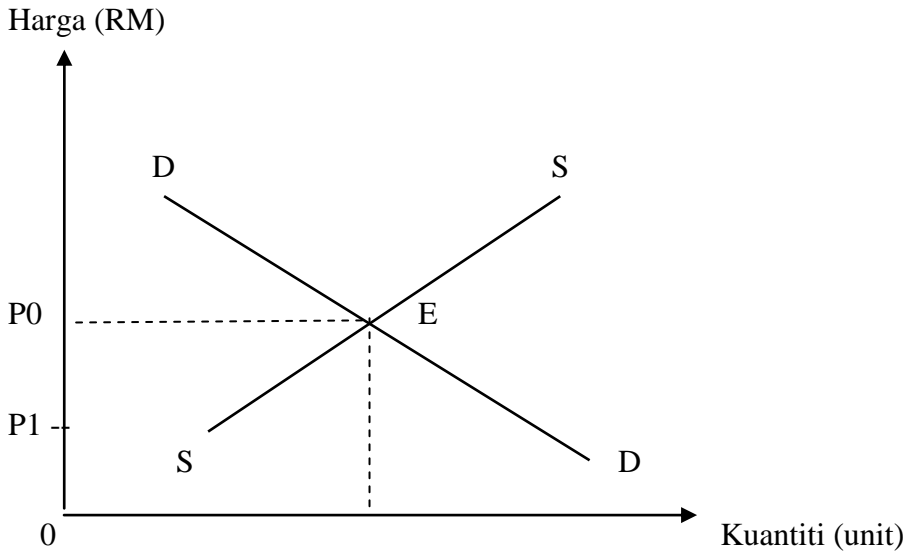
20 Jadual menunjukkan permintaan dan penawaran pasaran bagi suatu barang

Harga (RM)	Penawaran (unit)		Permintaan Pasaran (unit)
	Firma A	Firma B	
3	10	35	105
6	15	45	90
9	20	55	75
12	25	65	50

Berapakah kuantiti dan harga keseimbangan?

	Harga keseimbangan	Kuantiti keseimbangan
A	RM 3	105 unit
B	RM 6	90 unit
C	RM 9	75 unit
D	RM 12	50 unit

21 Rajah di bawah menunjukkan keluk keseimbangan pasaran kasut sukan



Apakah yang akan berlaku sekiranya tingkat harga ditetapkan pada P1?

- A Lebih permintaan, harga akan jatuh
 - B Lebih permintaan, harga akan naik
 - C Lebih penawaran, harga akan jatuh
 - D Lebih penawaran, harga akan naik
- 22 Pilih pernyataan yang benar tentang konsep pasaran faktor
- A Isi rumah membayar upah, sewa, untung dan faedah kepada firma
 - B Jika tingkat upah melebihi upah keseimbangan maka berlaku lebih permintaan buruh
 - C Firma mengeluarkan barang dan perkhidmatan kepada isi rumah
 - D Suatu keadaan di mana pembeli dan penjual bertemu untuk menjalankan urusanniaga faktor-faktor pengeluaran

23 Antara yang berikut, manakah yang merupakan aliran fizikal?

- I Isi rumah menawarkan faktor-faktor pengeluaran kepada firma
- II Firma menawarkan barang-barang dan perkhidmatan kepada isi rumah
- III Firma memberi ganjaran faktor-faktor pengeluaran kepada isi rumah
- IV Isi rumah membeli barang-barang dan perkhidmatan daripada firma

- A I dan II
- B I dan IV
- C II dan III
- D III dan IV

24 Pilih pernyataan yang benar tentang wang.

- A Deposit semasa merupakan wang sah
- B Wang syiling merupakan wang tanda
- C Semua wang adalah seragam
- D Wang kertas tidak tahan lama

25 Gambar di bawah menunjukkan iklan Syarikat Indah Permai Sendirian Berhad.



Tawaran istimewa RM 320 000
Ansuran Bulanan RM 2000

Apakah fungsi wang dalam iklan itu.

- I Diterima umum
- II Bayaran tertunda
- III Unit ukuran nilai
- IV Penyimpan nilai

- A I dan III
- B I dan IV
- C II dan III
- D III dan IV

26 Maklumat berikut berkaitan dengan perkhidmatan sejenis bank

- Menyediakan kemudahan simpanan bersindiket
- Perkhidmatan berasaskan upah

Apakah bank tersebut?

- A Bank Pusat
- B Bank Saudagar
- C Bank Perdagangan
- D Bank Simpanan Nasional

27 Encik Hakim menyewa sebidang tanah daripada Bank Islam Malaysia Berhad . Dia telah membayar sewa bagi tanah itu selama tujuh tahun dan kemudian ingin mengambil alih tanah tersebut. Sewa yang telah dibayar sebelum ini dikira sebagai sebahagian daripada bayaran tanah tersebut.

Apakah prinsip yang digunakan?

- A Murabahah
- B Mudharabah
- C Bai At Takjiri
- D Bai Bithaman Ajil

28 Manakah di antara berikut merupakan fungsi Bank Pusat?

- A Menanggung jamin terbitan syer
- B Menjadi jurubank kepada orang ramai
- C Menyediakan perkhidmatan sewa beli
- D Mengawal edaran wang dalam ekonomi

29 Maklumat berikut berkaitan dengan perkhidmatan institusi kewangan bukan bank.

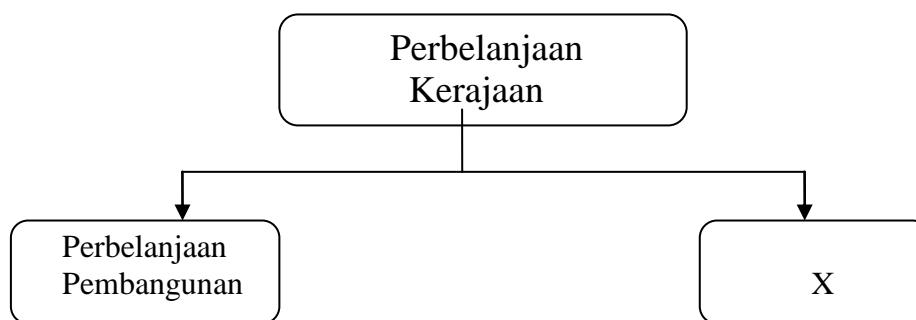
- Memberi perlindungan risiko berdasarkan prinsip Islam

Institusi kewangan manakah yang menawarkan perkhidmatan di atas?

- A Bank Islam
- B Syarikat Takaful
- C Lembaga Tabung Haji
- D Bank Simpanan Nasional

- 30 Pernyataan manakah yang menerangkan sektor kedua?
- A Menyediakan pelbagai perkhidmatan
 - B Contoh pekerjaan ialah peguam
 - C Menggunakan sumber alam semula jadi
 - D Melibatkan aktiviti perkilangan dan pembinaan
- 31 Pergantungan ekonomi negara kepada sektor utama akan menyebabkan
- A peningkatan pendapatan negara
 - B pertambahan peluang pekerjaan
 - C harga komoditi semakin stabil
 - D penggunaan sumber asli berlebihan
- 32 Antara yang berikut, manakah kesan perubahan struktur ekonomi negara?
- I Kadar pengangguran meningkat
 - II Guna tenaga sektor kedua dan ketiga meningkat
 - III Kemasukan pelaburan asing berkurangan
 - IV Perkembangan pesat sektor perkilangan
- A I dan II
 - B I dan III
 - C II dan IV
 - D III dan IV
- 33 Pilih pernyataan yang **benar** tentang belanjawan negara.
- A Sumber hasil terbesar kerajaan datangnya daripada cukai tidak langsung
 - B Anggaran jumlah hasil dan jumlah perbelanjaan kerajaan persekutuan untuk satu tahun kewangan
 - C Belanjawan lebihan menunjukkan jumlah perbelanjaan kerajaan melebihi jumlah hasil negara
 - D Belanjawan negara diwujudkan bagi membolehkan kerajaan menabung

34 Rajah berikut berkaitan perbelanjaan kerajaan.



Contoh perbelanjaan X ialah

- A Pencen dan ganjaran
- B Keselamatan
- C Pentadbiran am
- D Perkhidmatan ekonomi

35 Sumber pinjaman manakah yang merupakan pinjaman luar negara?

- A Pinjaman pasaran
- B Sijil pelaburan
- C Bil perbendaharaan
- D Sekuriti kerajaan

36 Maklumat berikut menunjukkan urus niaga antarabangsa Negara Z.

Eksport Nampak	RM 180 juta
Import Nampak	RM 220 juta

Apakah kesan daripada urus niaga tersebut?

- A Imbangan dagangan positif
- B Imbangan dagangan negatif
- C Imbangan pembayaran positif
- D Imbangan pembayaran negatif

Soalan 37 hingga 40 berdasarkan jadual berikut.

Pilihan	Pernyataan I	Pernyataan II
A	Betul	Salah
B	Salah	Betul
C	Salah	Salah
D	Betul	Betul

- 37 I Keluk penawaran mencerun ke atas dari kiri ke kanan
 II Keluk penawaran menunjukkan hubungan positif antara harga dengan kuantiti
- 38 I Buruh ialah individu yang menyumbangkan tenaga fizikal dan mental dalam proses pengeluaran
 II Buruh mendapat ganjaran dalam bentuk untung
- 39 I Kadar pengangguran yang tinggi dan stok barang berlebihan menunjukkan keadaan inflasi di dalam negara.
 II Pada masa inflasi, Bank Pusat akan melonggarkan syarat sewabeli.
- 40 I Dalam perdagangan antarabangsa, negara pengimport membuat pembayaran dengan menggunakan mata wang negara pengeksport
 II Mata wang negara pengeksport yang dimiliki oleh negara pengimport dikenali sebagai pertukaran asing

KERTAS SOALAN TAMAT