

SULIT

2280/2

## GEOGRAFI

Kertas 2

2015

2 jam



JABATAN PENDIDIKAN KELANTAN

## PEPERIKSAAN PERCUBAAN SPM 2015

### GEOGRAFI

Kertas 2

Dua jam

JANGAN BUKA KERTAS SOALAN INI SEHINGGA DIBERITAHU

#### Arahan:

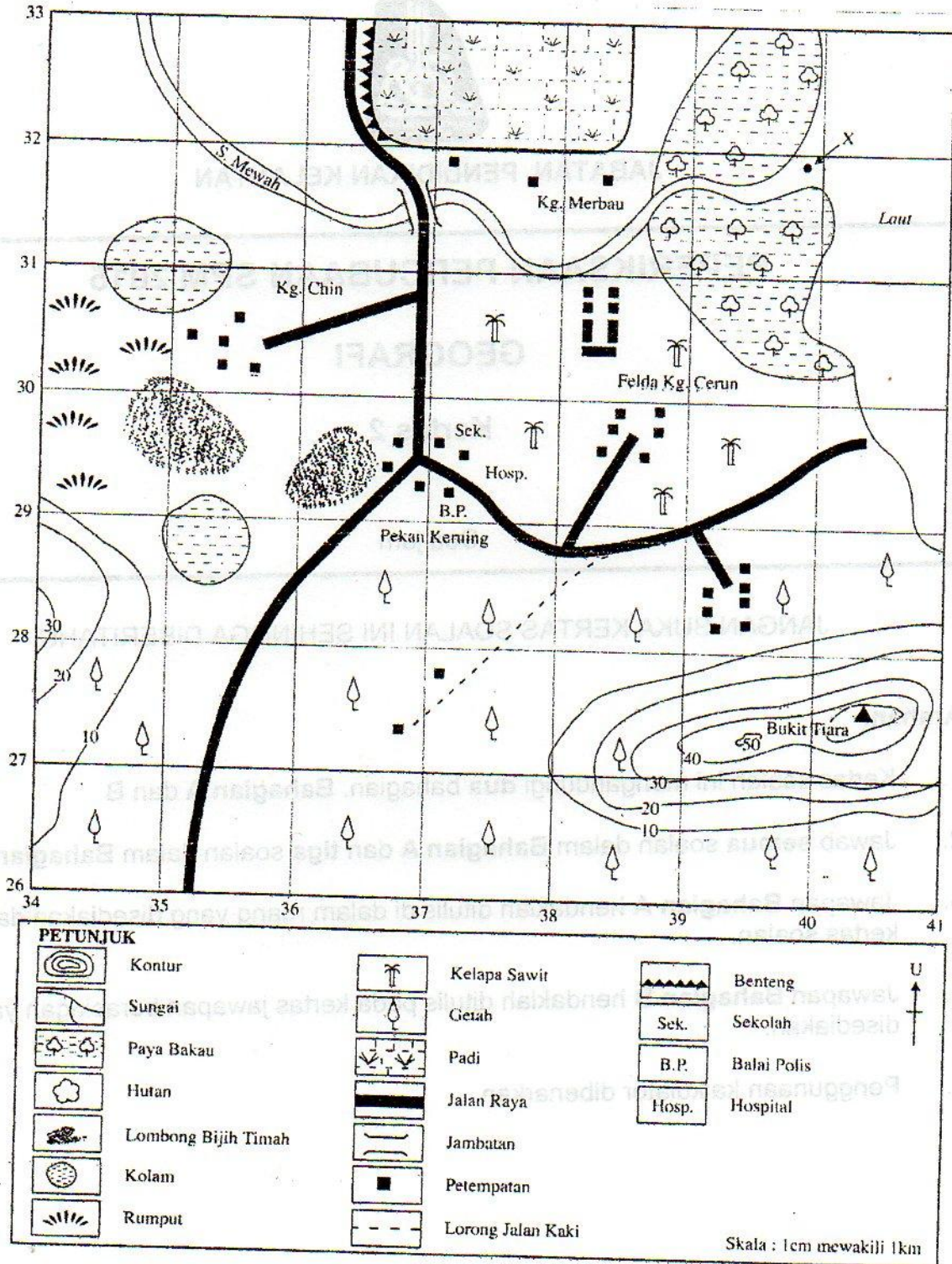
1. Kertas soalan ini mengandungi dua bahagian. **Bahagian A** dan **B**
2. Jawab **semua** soalan dalam **Bahagian A** dan **tiga** soalan dalam **Bahagian B**
3. Jawapan **Bahagian A** hendaklah ditulis di dalam ruang yang disediakan dalam kertas soalan.
4. Jawapan **Bahagian B** hendaklah ditulis pada kertas jawapan berasingan yang disediakan.
5. Penggunaan kalkulator dibenarkan.

### BAHAGIAN A

[ 40 markah ]

Jawab semua soalan.

Soalan 1 hingga 5 berdasarkan peta topo di bawah. Kaji peta in dengan teliti sebelum menjawab soalan berikut.



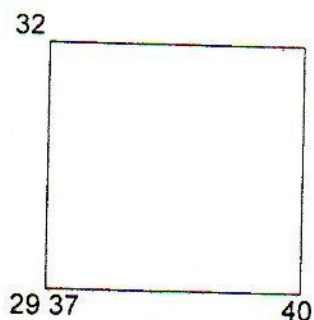
1 Namakan simbol fizikal yang bertanda X.

\_\_\_\_\_ [2 markah]

2 Nyatakan bearing simpang tiga Kg. Chin RG 369308 dari puncak Bukit Tiara RG 404276.

\_\_\_\_\_ [2 markah]

3 (a) Namakan dua jenis tanaman dalam segi empat grid di bawah.



(i) \_\_\_\_\_

(ii) \_\_\_\_\_

[2 markah]

(b) Nyatakan dua faktor yang mempengaruhi penanaman tanaman tersebut.

(i) \_\_\_\_\_

(ii) \_\_\_\_\_

[2 markah]

4 (a) Nyatakan tiga fungsi Pekan Keruing

(i) \_\_\_\_\_

(ii) \_\_\_\_\_

(iii) \_\_\_\_\_

[3 markah]

(b) Nyatakan jenis bentuk muka bumi berdasarkan garis kontor sebelah timur peta.

\_\_\_\_\_


[1 markah]

5 Berdasarkan bukti dalam peta, nyatakan empat faktor yang mempengaruhi kegiatan pertanian di bahagian timur peta.

- (i) \_\_\_\_\_
- (ii) \_\_\_\_\_
- (iii) \_\_\_\_\_
- (iv) \_\_\_\_\_

[4 markah]

Soalan 6 berdasarkan gambar di bawah.



(a) Namakan jenis hutan di atas

\_\_\_\_\_ [2 markah]

(b) Nyatakan empat kepentingan kawasan di atas.

- (i) \_\_\_\_\_
- (ii) \_\_\_\_\_
- (iii) \_\_\_\_\_
- (iv) \_\_\_\_\_


[4 markah]

(c) Berikan empat punca bagaimana kawasan tersebut mengalami kemusnahan.

- (i) \_\_\_\_\_
- (ii) \_\_\_\_\_
- (iii) \_\_\_\_\_
- (iv) \_\_\_\_\_

[4 markah]

Soalan 7 berdasarkan rajah di bawah.



(a) Nyatakan apakah jenis aktiviti perniagaan di atas.

(i)

\_\_\_\_\_

[1 markah]

(b) Berikan 3 kesan aktiviti di atas terhadap sungai.

(i)

\_\_\_\_\_

(ii)

\_\_\_\_\_

(ii)

\_\_\_\_\_

[3 markah]

(c) Jelaskan tiga fungsi sungai.

(i)

\_\_\_\_\_

(ii)

\_\_\_\_\_

(iii)

\_\_\_\_\_

[3 markah]

(d) Berikan cadangan anda untuk memajukan kawasan di atas.

(i)

\_\_\_\_\_

(ii)

\_\_\_\_\_

(iii)

\_\_\_\_\_

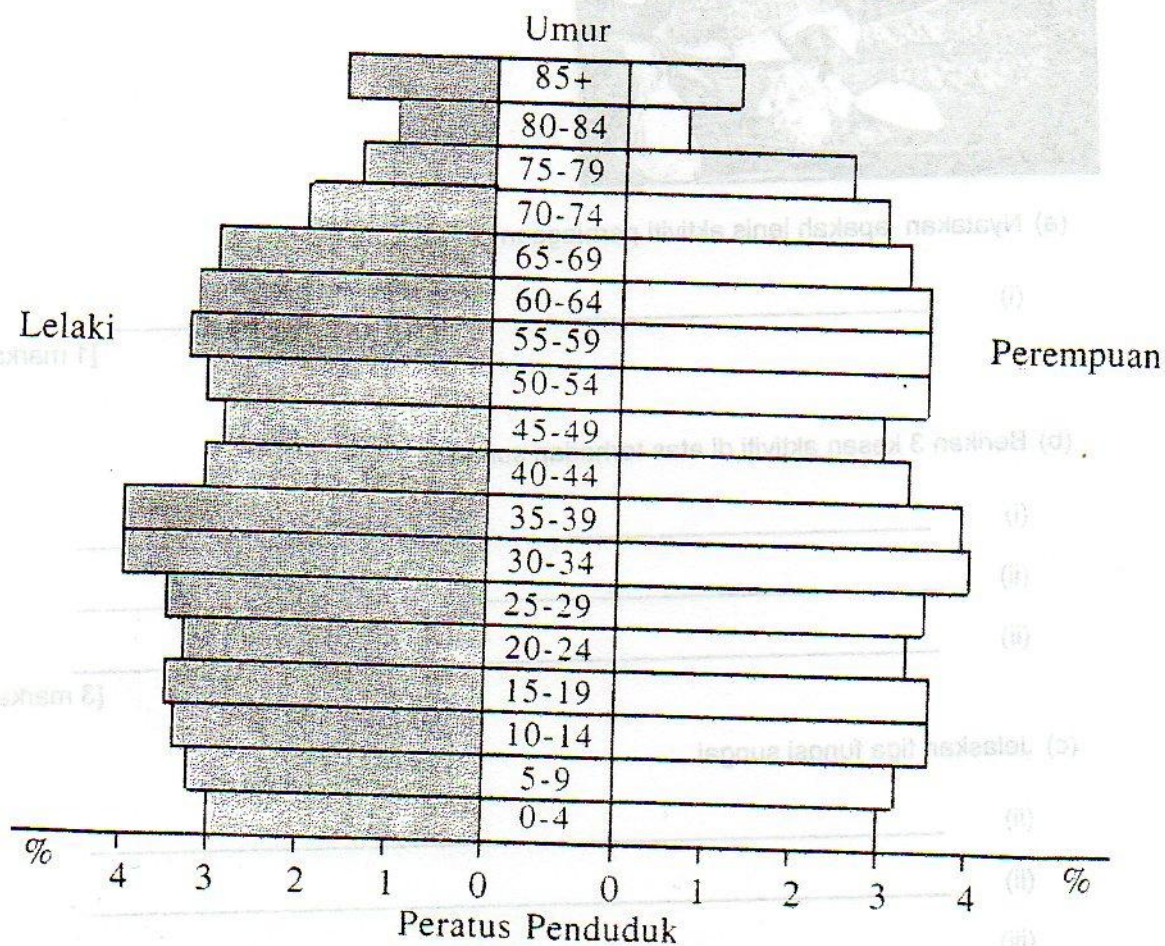
[3 markah]

**Bahagian B**

**[ 60 markah ]**

Jawab mana-mana tiga soalan daripada bahagian ini.

8 Rajah di bawah menunjukkan satu bentuk piramid penduduk di negara X.



- (a) Nyatakan empat ciri kependudukan piramid penduduk negara X seperti rajah di atas. [4 markah]
- (b) Berdasarkan rajah di atas, kumpulan dewasa adalah paling tinggi. Terangkan kesan yang mungkin dialami oleh negara X. [4 markah]
- (c) Jika Malaysia menjadi negara penduduk berlebihan pada tahun 2080, apakah langkah-langkah yang boleh diambil untuk mengatasi masalah tersebut. [6 markah]
- (d) Akhir-akhir ini ramai warga Bangladesh telah berhijrah ke Malaysia. Jelaskan faktor tolakan yang menyebabkan kebanyakan mereka ke sini. [6 markah]

Bulan	J	F	M	A	M	J	J	O	S	O	N	D
Negara X ( C )	19	20	18	15	13	10	10	11	13	14	17	16
Negara Y ( C )	27	27	28	29	30	32	28	27	27	26	25	24

Suhu tahunan di negara X dan Y

- 9 (a) Berdasarkan jadual di atas, lukiskan sebuah graf yang sesuai untuk menunjukkan taburan suhu tahunan di negara X dan Y. Gunakan skala 1 cm bagi 2 C. [10 markah]
- (b) Banyak pekerjaan di Malaysia dipengaruhi ciri-ciri iklim Khatulistiwa. Sejauh manakah pernyataan ini benar? [5 markah]
- (c) Nyatakan lima kelebihan pengkelompokan kilang di satu-satu kawasan tertentu. [5 markah]

- 10 (a) Berdasarkan kajian luar tentang satu jenis kegiatan ekonomi yang pernah anda jalankan,
- (i) Huraikan faktor yang mempengaruhi kegiatan ekonomi tersebut. [5 markah]
- (ii) Terangkan masalah yang dihadapi dalam menjalankan kegiatan ekonomi tersebut. [5 markah]

Hakisan dan pemiskinan tanah adalah disebabkan oleh amalan teknik pertanian yang tidak sempurna

- (b) Berdasarkan pernyataan di atas, nyatakan lima teknik pertanian yang boleh mengekalkan kesuburan tanah. [5 markah]
- (c) Penyelidikan dan Pembangunan (R&D) penting dalam sektor pertanian di Malaysia. Berikan lima sebab mengapa anda berpendapat sedemikian. [5 markah]

11 (a) Di atas peta Malaysia; namakan,

- (i) Pulau peranginan bertanda P
- (ii) Pelabuhan kontena bertanda Q
- (iii) Pusat memproses gas asli bertanda R
- (iv) Pusat pendaratan ikan bertanda S

[4 markah]

(b) Kejatuhan harga bijih timah telah menjejaskan ekonomi negara pengeluar

- (i) Jelaskan faktor yang mempengaruhi kejatuhan harga tersebut
- (ii) Apakah usaha-usaha untuk memajukan bekas lombong bijih timah di Malaysia ?

[5 markah]

[5 markah]

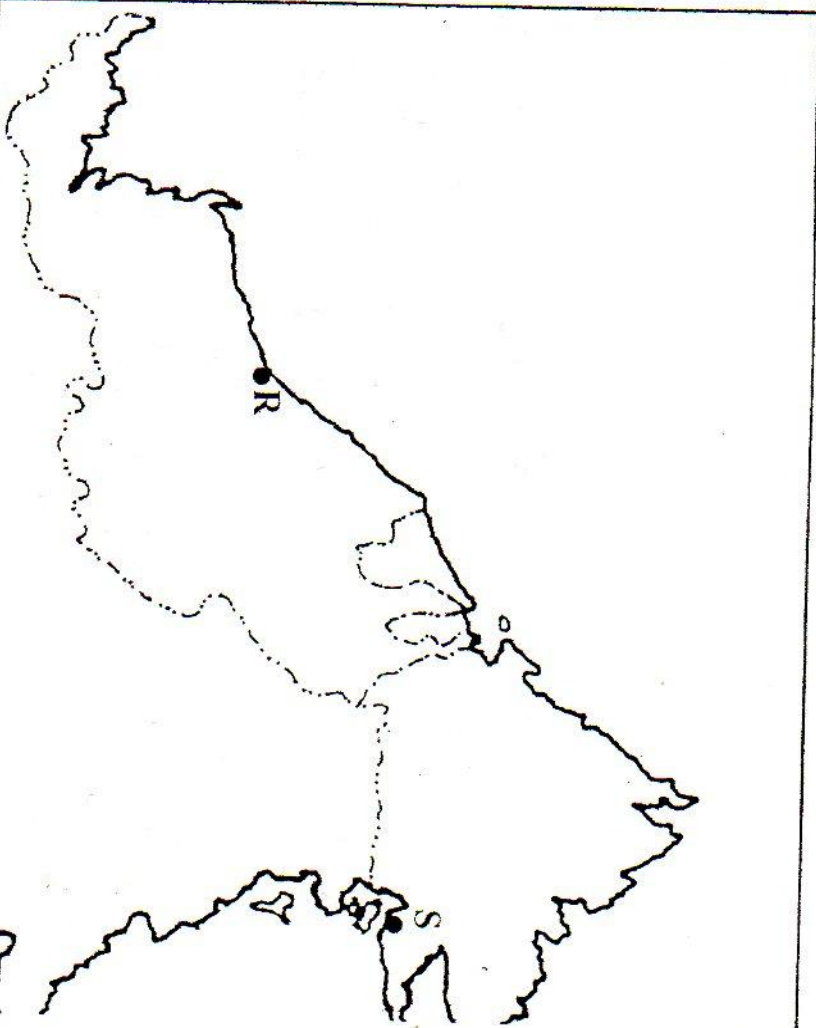
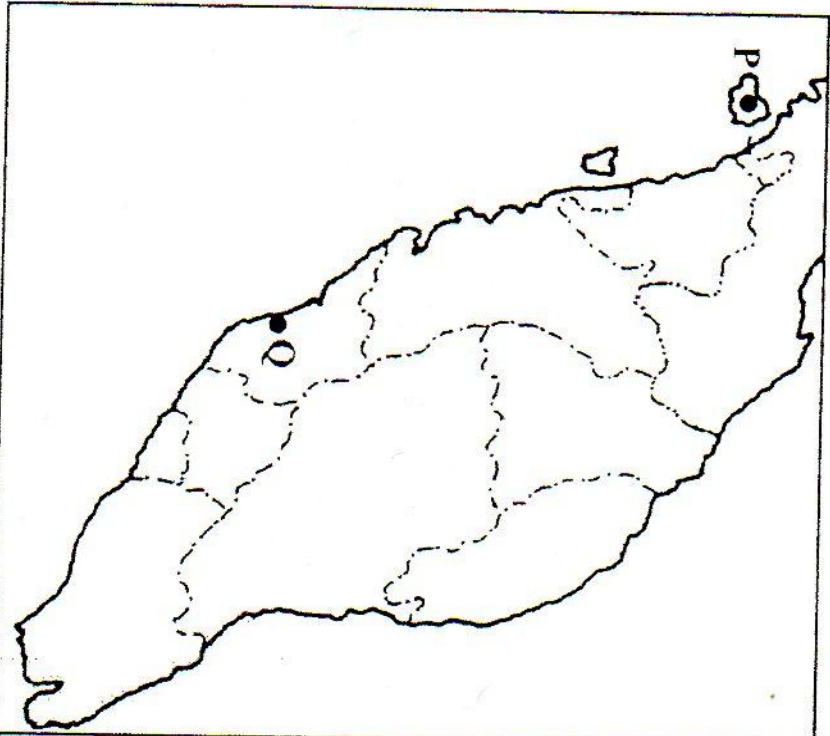
Air adalah keperluan asas hidupan yang diperolehi daripada pelbagai punca mengikut keadaan geografi tempatan

(c) Bagaimanakah sumber air tersebut diperolehi ?

[6 markah]

**KERTAS SOALAN TAMAT**





Peta 2 : MALAYSIA

P	
Q	

R	
S	