

**BAHAN KECEMERLANGAN
SPM**

BK 9

GEOGRAFI
Kertas 2

NAMA :.....

TINGKATAN :.....

2280/2
Geografi
Kertas 2
2014
2 jam

Nama : Tingkatan:

No. Kad Pengenalan: : Angka Giliran:

BAHAN KECEMERLANGAN 9

SIJIL PELAJARAN MALAYSIA

GEOGRAFI

Kertas 2

Dua jam

JANGAN BUKA KERTAS SOALAN INI SEHINGGA DIBERITAHU

1. *Kertas soalan ini mengandungi 2 bahagian: Bahagian A dan Bahagian B.*
2. *Jawab semua soalan dalam Bahagian A dan tiga soalan dalam Bahagian B.*
3. *Jawapan Bahagian A hendaklah ditulis di dalam ruang yang disediakan dalam kertas soalan.*
4. *Jawapan Bahagian B hendaklah ditulis pada kertas jawapan berasingan yang disediakan.*
5. *Jawapan kedua-dua bahagian ini hendaklah diserahkan bersama.*
6. *Penggunaan kalkulator dibenarkan.*

<i>Untuk Kegunaan Pemeriksa</i>		
Bahagian	Soalan	Markah
A	1	
	2	
	3	
	4	
	5	
	6	
B	7	
	8	
	9	
	10	
	11	
Markah		

Kertas soalan ini mengandungi 08 halaman bercetak dan 0 halaman tidak bercetak

[Lihat sebelah

KERTAS 2

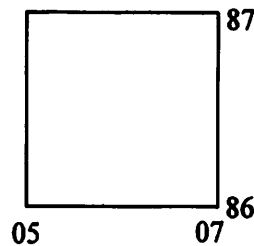
Bahagian A

[40 markah]

Jawab semua soalan.

Soalan 1 hingga Soalan 5 berdasarkan peta topo siri 2280/2/BK9/2014. Kaji peta ini dengan teliti sebelum menjawab soalan berikutnya.

- 1 (a) Nyatakan dua simbol kawasan yang terdapat dalam segi empat grid di bawah.



- (i)
- (ii)

[2 markah]

- (b) Aras tertinggi jalan raya dalam segi empat grid di atas ialah..... meter.

[1 markah]

- 2 (a) Panjang Sungai Seladang dari RG 120863 ke RG 134870 ialah..... kilometer.

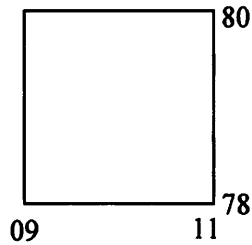
[2 markah]

- (b) Nyatakan tiga fungsi Sungai Seladang.

- (i)
- (ii)
- (iii)

[3 markah]

- 3 (a) Berapakah keluasan kawasan belukar, riung dan huma dalam segi empat grid di bawah?



..... kilometer persegi [2 markah]

- 4 (a) Pola petempatan Ladang Mewah di bahagian tenggara peta ialah

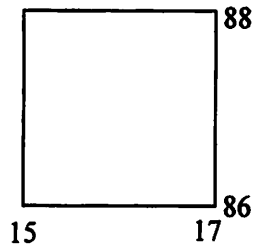
..... [1 markah]

- (b) Nyatakan empat fungsi petempatan Kuala Teruntum.

- (i)
- (ii)
- (iii)
- (iv)

[4 markah]

5 (a) Namakan dua jenis tanaman yang terdapat dalam segi empat grid di bawah.



(i)

(ii)

[2 markah]

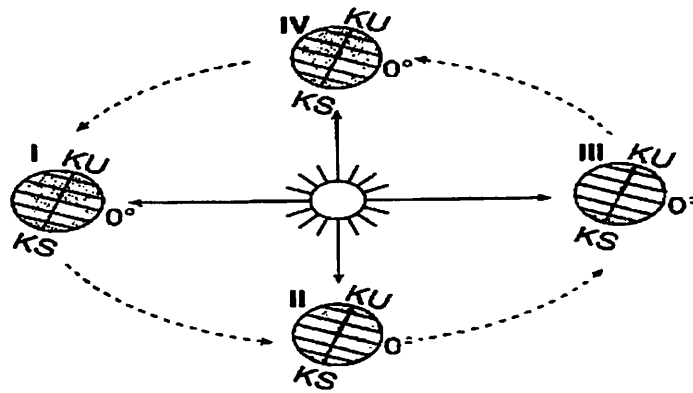
(b) Nyatakan tiga faktor yang menggalakkan penanaman tanaman di 5(a).

(i)

(ii)

(iii)

[3 markah]



Pergerakan bumi

- 6 (a) Pergerakan bumi di atas dikenali sebagai [1 markah]
- (b) Bumi bergerak di atas orbitnya dari arah ke [2 markah]
- (c) Satu pergerakan bumi yang lengkap di atas orbitnya mengambil masa selama hari. [1 markah]
- (d) Nyatakan empat kesan pergerakan bumi seperti dalam gambar rajah di atas.
- (i)
- (ii)
- (iii)
- (iv) [4 markah]
- (e) Pada kedudukan III dalam gambar rajah di atas, kawasan yang manakah mengalami siang selama 24 jam? [1 markah]
- (f) Pada kedudukan I dalam gambar rajah di atas, kutub utara mengalami musim [1 markah]

Bulan	J	F	M	A	M	J	J	O	S	O	N	D
Suhu (°C)	27	27	27	28	28	27	28	27	27	27	27	27
Hujan (mm)	330	112	225	348	192	102	148	227	239	236	279	296

Stesen X

- 7 (a) Nyatakan dua alat yang digunakan untuk mendapat data tersebut.
- (i)
- (ii) [2 markah]
- (b) Negara X mengalami iklim jenis [1 markah]
- (c) (i) Julat suhu tahunan di Stesen X ialah [1 markah]
- (ii) Min suhu tahunan di Stesen X ialah [1 markah]
- (iii) Jumlah hujan tahunan di Stesen X ialah [1 markah]
- (d) Jelaskan dua ciri suhu Stesen X.
- (i)
- (ii) [2 markah]
- (e) Kemukakan dua langkah bagi menyederhanakan suhu di Stesen X.
- (i)
- (ii) [2 markah]

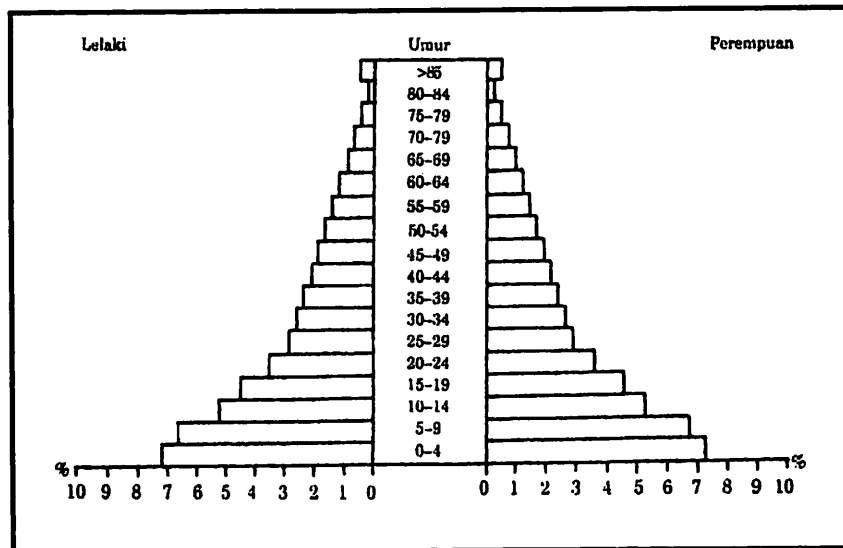
Bahagian B
[60 markah]

Jawab mana-mana tiga soalan daripada bahagian ini.

Jadual di bawah menunjukkan kedatangan pelancong luar negara ke Malaysia pada tahun 2001.

Negara Asal	Peratus
Singapura	54
Thailand	8
Indonesia	6
China	4
Lain-lain	28

- 8 (a) Berdasarkan jadual di atas, bina carta pai yang menunjukkan kedatangan pelancong luar negara ke Malaysia pada tahun 2001 dengan menggunakan jejari 5cm. [8 markah]
- (b) Nyatakan empat kepentingan sektor perindustrian di negara Malaysia. [4 markah]
- (c) Berikan empat faktor yang mempengaruhi perkembangan sektor perindustrian di Malaysia. [4 markah]
- (d) Senaraikan empat kesan kegiatan perindustrian terhadap alam sekitar. [4 markah]
- 9 (a) Di atas peta No. 1 (Malaysia), di halaman 8, namakan:
(i) Pusat pendaratan ikan bertanda P
(ii) Pusat penyelidikan perikanan bertanda Q
(iii) Pusat pendaratan ikan bertanda R
(iv) Pusat pendaratan ikan bertanda S [4 markah]
- (b) Nyatakan empat ciri perikanan pinggir pantai di Malaysia. [4 markah]
- (c) Berikan empat faktor yang menggalakkan perikanan di Malaysia. [4 markah]
- (d) (i) Senaraikan empat kesan kegiatan perikanan terhadap alam sekitar. [4 markah]
(ii) Kemukakan empat usaha yang boleh dilakukan untuk meningkatkan hasil perikanan di Malaysia. [4 markah]



Rajah 1 : Piramid penduduk Negara P pada tahun 2005

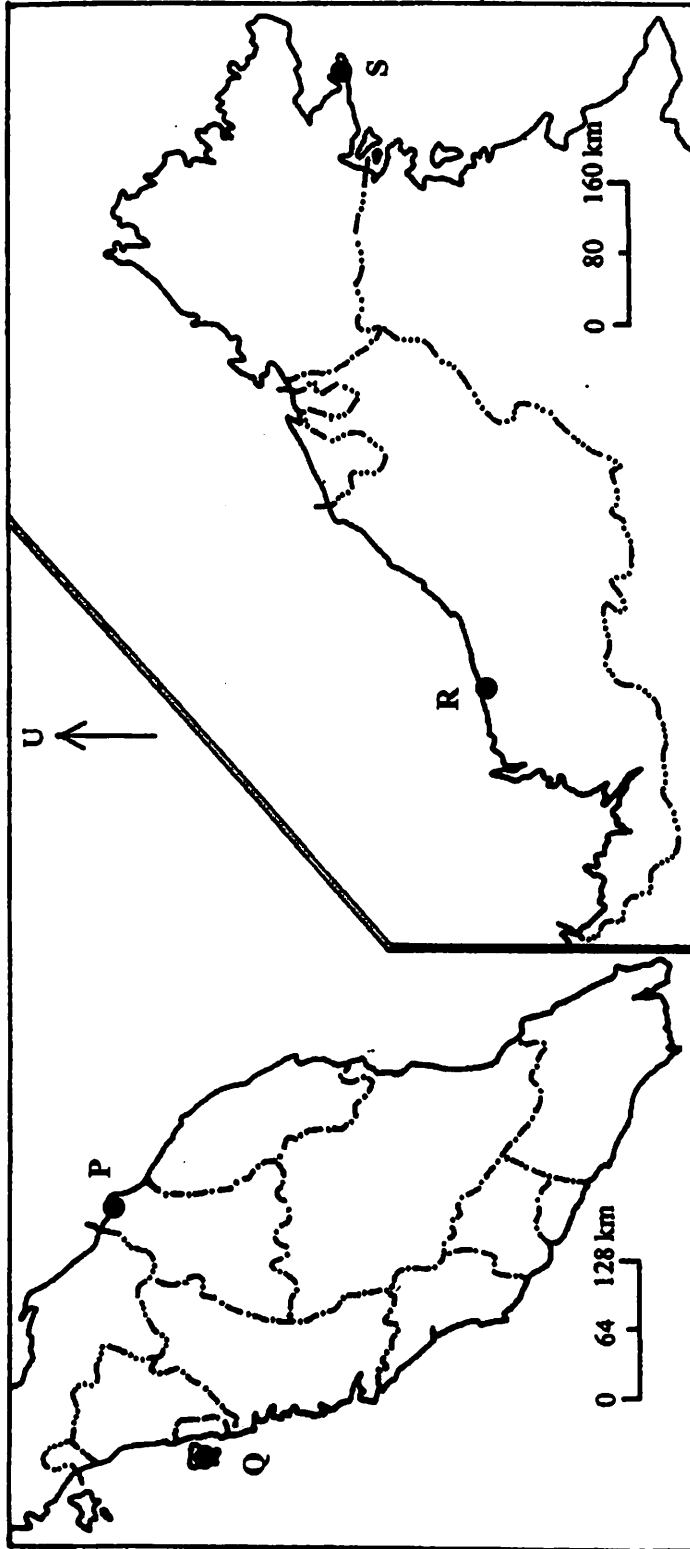
- 10 (a) Berdasarkan piramid penduduk di atas, jelaskan **lima** ciri kependudukan negara P. [5 markah]
- (b) Nyatakan **lima** masalah kependudukan di negara P. [5 markah]
- (c) Berikan **lima** faktor yang mempengaruhi migrasi antarabangsa ke Malaysia. [5 markah]
- (d) Kemukakan **lima** kesan migrasi antarabangsa di Malaysia. [5 markah]
- 11 (a) Berikan **empat** faktor yang menyebabkan kejadian jerebu di Malaysia. [4 markah]
- (b) Nyatakan **enam** kesan fenomena jerebu kepada manusia dan alam sekitar. [6 markah]
- (c) Kemukakan **lima** faktor yang menyebabkan kejadian pulau haba di Malaysia. [5 markah]
- (d) Cadangkan **lima** langkah bagi mengatasi kesan kejadian pulau haba di negara Malaysia. [5 markah]

KERTAS SOALAN TAMAT

Nama :

Tingkatan :

Peta No. 1 Malaysia Bagi Soalan No. 9 (a)



Peta 1 : MALAYSIA

P		R	
Q		S	