

SULIT



**LEMBAGA PEPERIKSAAN
KEMENTERIAN PELAJARAN MALAYSIA**

SIJIL PELAJARAN MALAYSIA 2011

1249/1

SEJARAH

Kertas 1

Nov./Dis.

1 jam

Satu jam

JANGAN BUKA KERTAS SOALAN INI SEHINGGA DIBERITAHU

1. *Kertas soalan ini mengandungi **40** soalan.*
2. *Jawab **semua** soalan.*
3. *Tiap-tiap soalan diikuti oleh empat pilihan jawapan, iaitu **A, B, C dan D**. Bagi setiap soalan, pilih **satu** jawapan sahaja. **Hitamkan** jawapan anda pada kertas jawapan objektif yang disediakan.*
4. *Jika anda hendak menukar jawapan, padamkan tanda yang telah dibuat. Kemudian hitamkan jawapan yang baharu.*

Kertas soalan ini mengandungi 14 halaman bercetak dan 2 halaman tidak bercetak.

[Lihat halaman sebelah

1249/1 © 2011 Hak Cipta Kerajaan Malaysia

SULIT



- 1 Setiap negara kota dalam tamadun Mesopotamia mempunyai pintu gerbang yang pelbagai bentuk.

Apakah kepentingan pintu gerbang dalam tamadun tersebut?

- A Lambang kekayaan
- B Panduan laluan kapal
- C Sempadan empayar
- D Simbol keagamaan

- 2 Apakah sumbangan Imhotep terhadap Tamadun Mesir Purba?

- A Memperkenalkan teknik pembinaan bangunan
- B Memajukan teknologi bidang pertanian
- C Menggubal undang-undang
- D Mencipta sistem tulisan

- 3 Negara berikut mengamalkan sistem pemerintahan demokrasi yang diwarisi daripada Tamadun Yunani.

- | |
|---|
| <ul style="list-style-type: none">• Malaysia• Indonesia• Amerika Syarikat |
|---|

Apakah ciri demokrasi yang diamalkan oleh negara tersebut?

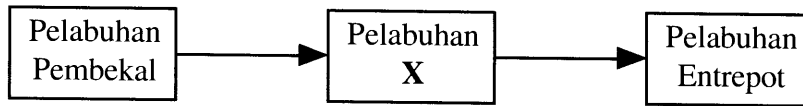
- A Perdana Menteri mengetuai negara
- B Rakyat diberi hak memilih pemimpin
- C Dewan Senat meluluskan undang-undang
- D Ahli Dewan Perhimpunan dilantik oleh ketua negara

- 4 Pada tahun 509 S.M., Rom mengamalkan sistem pemerintahan republik yang ditadbir oleh dua orang konsul.

Mengapakah dua orang konsul tersebut dilantik?

- A Memudahkan perluasan empayar
- B Mengukuhkan hubungan luar
- C Menghalang pemusatan kuasa
- D Memilih pemimpin berwibawa

- 5 Rajah berikut menunjukkan tahap perkembangan sesebuah pelabuhan dalam kerajaan awal di Asia Tenggara.



Pelabuhan X dalam rajah tersebut ialah

- A pelabuhan bandar
 - B pelabuhan nelayan
 - C pelabuhan kerajaan
 - D pelabuhan bebas
- 6 Gambar berikut menunjukkan candi Angkor Wat di Kemboja.



Mengapakah kerajaan Angkor membina candi tersebut?

- A Sebagai pusat kegiatan perdagangan
 - B Menjadi pusat pentadbiran
 - C Lambang penguasaan alam semesta
 - D Memperkukuh sistem pertahanan negara
- 7 Mengapakah Nabi Muhammad SAW digelar sebagai al-Amin?
- A Keturunan baginda dihormati
 - B Memiliki kebijaksanaan
 - C Berpengalaman luas
 - D Sentiasa dipercayai

- 8 Antara yang berikut, yang manakah berkaitan dengan masyarakat Arab Jahiliah?
- I Menghalalkan amalan riba
 - II Menjalankan pemerintahan berpusat
 - III Menjalin kerjasama antara kabilah
 - IV Mengamalkan perkahwinan bebas
- A I dan II
B I dan IV
C II dan III
D III dan IV
- 9 Nabi Muhammad SAW berjaya membuka semula kota Makkah pada tahun 630 Masihi bersamaan tahun 8 Hijrah.
Apakah peristiwa yang mempercepatkan pembukaan semula kota tersebut?
- A Perluasan kegiatan tentera Quraisy
B Penguasaan ekonomi oleh Rom
C Penawanan kafilah perdagangan Parsi
D Pembunuhan seorang anggota Bani Khuzaah
- 10 Apakah kepentingan Piagam Madinah yang dirangka oleh Nabi Muhammad SAW pada tahun 622 Masihi?
- A Memberi panduan pemerintahan negara
B Melindungi tradisi masyarakat Arab
C Menamatkan permusuhan dengan Rom
D Menyediakan strategi menghadapi ancaman Quraisy Makkah
- 11 Dasar sosial Islam yang diamalkan kerajaan Turki Uthmaniyah telah menarik minat orang Kristian di Eropah untuk memeluk Islam.
Apakah aspek yang ditekankan dalam dasar tersebut?
- A Warisan bangsa
B Jurai keturunan
C Pengumpulan kekayaan
D Kecemerlangan individu

- 12 Apakah pembaharuan yang telah dilaksanakan oleh Khalifah Abu Bakar al-Siddiq dalam sistem pertahanan negara?
- A Menyediakan pakaian seragam tentera
 - B Membentuk tentera sukarela
 - C Memperkukuh tentera laut
 - D Memperkenalkan gaji untuk tentera
- 13 Wilayah berikut termasuk dalam jajahan takluk Kesultanan Melayu Melaka.

- | |
|--|
| <ul style="list-style-type: none">• Aru• Siak• Rokan |
|--|

Apakah usaha sultan Melaka untuk memperkukuh kedudukan Islam di wilayah tersebut?

- A Membina institusi pendidikan
 - B Melatih pendakwah tempatan
 - C Mendirikan pusat penterjemahan
 - D Menghantar ulama mengajar agama
- 14 Ajaran Islam disebarkan dalam kalangan masyarakat Asia Tenggara secara aman dan tertib.
- Keadaan tersebut berlaku kerana masyarakat Asia Tenggara
- A sedia menerima perubahan
 - B tabah menghadapi cabaran
 - C bersepakat dalam perjuangan
 - D bekerjasama untuk kesejahteraan
- 15 Sekolah pondok merupakan institusi pendidikan penting di Tanah Melayu pada abad ke-17.
- Pernyataan manakah yang berkaitan dengan institusi tersebut?
- A Peperiksaan secara berpusat
 - B Waktu pembelajaran tidak terbatas
 - C Mufti mengawal sukatan pelajaran
 - D Bangunan dibina oleh pemerintah

16 Jadual berikut berkaitan dengan tokoh ulama yang terdapat di negara kita.

Tokoh Ulama	Negeri
Tuk Pulai Condong	Kelantan
Tuk Ku Pulau Manis	Terengganu

Apakah peranan tokoh ulama tersebut?

- A Menasihati sultan
- B Mengawal adat istiadat
- C Menguatkuasakan undang-undang
- D Mengetuai pentadbiran wilayah

17 Pada abad ke-16, Gerakan *Reformation* berlaku di Eropah Barat.

Apakah bidang yang berkaitan dengan gerakan tersebut?

- A Politik
- B Agama
- C Kewangan
- D Pendidikan

18 Sistem feodal yang diamalkan pada awal Zaman Pertengahan di Eropah mempunyai persamaan dengan sistem feodal yang diamalkan dalam masyarakat Melayu tradisional.

Apakah persamaan tersebut?

- A Raja pemilik tanah secara mutlak
- B Golongan agama menerajui pentadbiran
- C Petani berpeluang meningkatkan status sosial
- D Rakyat berhak memilih pemerintah

19 Antara yang berikut, bank manakah yang ditubuhkan oleh pemodal tempatan di Tanah Melayu?

- I Mercantile Bank
 - II Kwong Yik Bank
 - III Ban Hin Lee Bank
 - IV The Chartered Bank
- A I dan II
 - B I dan IV
 - C II dan III
 - D III dan IV

20 Apakah kesan peristiwa berikut?

Tahun	Peristiwa
1897	British menubuhkan Lembaga Pesuruhjaya Wang di bawah Ordinan XIII

- A Mata wang tradisional terhapus
- B Nilai mata wang merosot
- C Pinjaman wang sukar diperolehi
- D Penggunaan wang asing dibenarkan

21 Jadual berikut berkaitan dengan kejayaan Jepun dalam bidang ketenteraan.

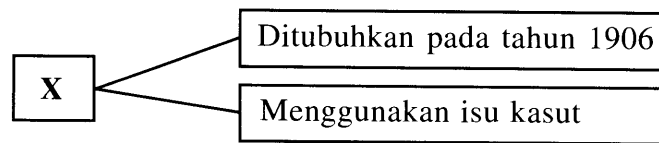
Tahun	Kejayaan
1895	Menewaskan China
1905	Menewaskan Rusia

Apakah kesan kejayaan tersebut terhadap Asia Tenggara?

- A Pengukuhan sistem pertahanan
- B Perluasan kawasan pemerintahan
- C Kemunculan semangat nasionalisme
- D Kemantapan kuasa pemerintah tempatan

[Lihat halaman sebelah
SULIT

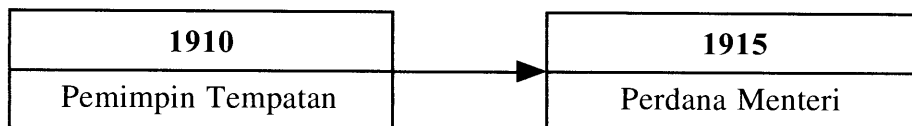
22 X dalam rajah berikut adalah pertubuhan nasionalisme tahap awal di Burma.



Apakah X?

- A Liga Antipemisahan
- B Persatuan Belia Buddha
- C Liga Pembebasan Rakyat AntiFasis
- D Parti Dobama Asiayone

23 Rajah berikut menerangkan perubahan jawatan Tok Janggut di Kelantan.



Apakah peristiwa yang menyebabkan perubahan tersebut?

- A Pembunuhan Penasihat British
- B Perluasan kuasa British
- C Penawanan Pasir Puteh
- D Pengunduran tentera Siam

24 Novel berikut adalah karya Ishak Haji Muhammad (Pak Sako).

- *Anak Mat Lela Gila*
- *Putera Gunung Tahan*

Apakah persamaan tema dalam novel tersebut?

- A Menghargai warisan bangsa
- B Menghargai sumbangan tokoh
- C Kepentingan pendidikan moden
- D Cinta akan tanah air

25 Senarai berikut adalah undang-undang tubuh kerajaan Melayu.

• Undang-undang Tubuh Kerajaan Johor 1895

• Undang-undang Tubuh Kerajaan Terengganu 1911

Mengapakah undang-undang tersebut digubal?

- A Meningkatkan kecekapan pemerintah
- B Membentuk pentadbiran demokratik
- C Memperkukuh sistem pertahanan
- D Mengekalkan kedaulatan negeri

26 Tokoh berikut telah berjaya menyatukan negara masing-masing pada abad ke-19.

• Count Camillo Bensor di Cavour - Itali
• Otto Eduard von Bismarck - Jerman

Bagaimanakah mereka berjaya melakukan penyatuan tersebut?

- A Mewujudkan pakatan strategik
- B Menyekat pengaruh agama
- C Mengamalkan realpolitik
- D Melaksanakan sistem perundingan

27 Mengapakah Pertubuhan Kebangsaan Melayu Bersatu (UMNO) ditubuhkan pada tahun 1946?

- A Mengeratkan perpaduan pelbagai kaum
- B Menentang pelaksanaan Malayan Union
- C Memperjuangkan kemerdekaan Tanah Melayu
- D Mengimbangi kemajuan ekonomi antara rakyat

28 Malayan Union memperkenalkan prinsip kerakyatan *jus soli*.

Mengapakah orang Melayu menentang prinsip kerakyatan tersebut?

- A Menggugat kedudukan raja
- B Memusnahkan status quo
- C Pembentukan pelbagai budaya
- D Penghapusan ekonomi tradisional

[Lihat halaman sebelah
SULIT

29 Mengapakah sistem berikut diperkenalkan oleh British di Tanah Melayu?

Tahun	Perkara
1951	Sistem Ahli diperkenalkan

- A Merangka perlembagaan baru
- B Membincangkan syarat kewarganegaraan
- C Melatih penduduk tempatan berkerajaan sendiri
- D Melaksanakan pilihan raya umum

30 Tokoh berikut telah dilantik memegang portfolio dalam Sistem Ahli pada tahun 1951.

- | |
|---|
| <ul style="list-style-type: none"> • Dato' Onn bin Jaafar • Dr. Lee Tiang Keng • Dato' E.E.C. Thuraisingam |
|---|

Apakah persamaan tugas mereka dalam sistem tersebut?

- A Menasihati raja dalam pentadbiran
- B Mencadangkan undang-undang
- C Merangka sistem pendidikan
- D Memajukan kegiatan ekonomi

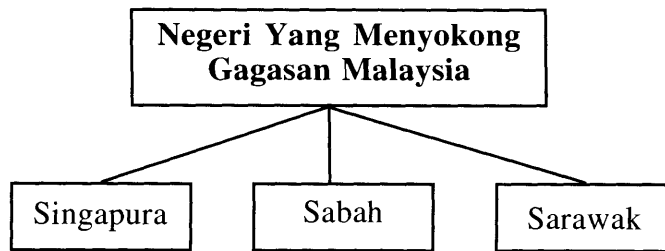
31 Jadual berikut berkaitan dengan keadaan hubungan antara Malaysia dengan Indonesia pada peringkat awal penubuhan Malaysia.

Tarikh	Peristiwa
20 Januari 1963	Indonesia mengumumkan kempen Ganyang Malaysia

Bagaimanakah kempen tersebut dilaksanakan?

- A Mempererat hubungan dengan Filipina
- B Melakukan serangan dari udara
- C Melawat ke negara Afro-Asia
- D Menyokong parti pembangkang

32 Rajah berikut berkaitan dengan pembentukan Malaysia.



Mengapakah negeri tersebut menyokong gagasan Malaysia?

- A Menamatkan ancaman komunis
 - B Memperkukuh amalan demokrasi
 - C Mengelakkan campur tangan asing
 - D Memenuhi desakan penduduk tempatan
- 33 Pilihan raya kecil diadakan di mana-mana kawasan di negara kita sekiranya wakil rakyat
- A meninggal dunia
 - B dipecat dari parti
 - C menyertai parti lain
 - D hilang sokongan
- 34 Jadual berikut menerangkan jenis undang-undang yang terdapat di negara kita.

Jenis Undang-undang	Keterangan
Enakmen	Dibuat oleh Dewan Undangan Negeri
X	Dibuat oleh Dewan Undangan Negeri Sabah dan Sarawak

Apakah X?

- A Kanun
- B Piagam
- C Ordinan
- D Akta

[Lihat halaman sebelah
SULIT

35 Seorang rakyat Malaysia menghadapi masalah berikut:

- Disabitkan dengan kesalahan jenayah oleh mahkamah
- Diisytiharkan muflis

Dalam sistem pilihan raya di Malaysia, individu terbabit dengan masalah di atas **tidak** berhak

- A menganggotai parti politik
- B membuang undi
- C menyediakan manifesto
- D menjadi calon pilihan raya

36 Rancangan Malaya Pertama dilaksanakan pada tahun 1956 hingga 1960. Apakah matlamat rancangan tersebut?

- A Membangunkan kawasan luar bandar
- B Menyusun semula sistem pendidikan
- C Memajukan sektor perindustrian berat
- D Memperkukuh sistem pertahanan negara

37 Kerajaan telah memperkenalkan program pembangunan in-situ melalui Dasar Pertanian Negara (DPN).

Apakah tujuan program tersebut?

- A Membuka petempatan baru
- B Menambah peluang pekerjaan
- C Memperkemas sistem pemasaran
- D Memulihkan kawasan berproduktiviti rendah

- 38 Gambar berikut menunjukkan penderitaan yang dialami rakyat Palestin akibat kekejaman tentera Israel.



Bagaimanakah Malaysia membantu untuk mengurangkan penderitaan tersebut?

- A Menghantar bantuan ketenteraan
 - B Menganjurkan persidangan antarabangsa
 - C Meningkatkan kerjasama kebudayaan
 - D Menambah pelaburan pelbagai sektor
- 39 Apakah kesan peperangan berikut terhadap Eropah?

Tahun	Peperangan
1914-1918	Perang Dunia Pertama

- A Keperluan bahan mentah meningkat
- B Kerjasama antara etnik diperkukuh
- C Pakatan tentera dibentuk
- D Pemerintahan beraja tamat

40 Jadual berikut berkaitan dengan Dasar Luar Malaysia Tahap 1.

Dasar Luar Malaysia	
Tahap 1 (1957-1970)	<ul style="list-style-type: none">• Dasar Pro-Barat• Dasar terbaik-baik dengan negara jiran dan negara Komanwel

Mengapakah Malaysia mengamalkan dasar tersebut?

- I Keperluan pasaran
 - II Sikap diskriminasi
 - III Persamaan ideologi
 - IV Ancaman keselamatan
- A I dan II
 - B I dan IV
 - C II dan III
 - D III dan IV

KERTAS SOALAN TAMAT