

SULIT



LEMBAGA PEPERIKSAAN  
KEMENTERIAN PELAJARAN MALAYSIA

SIJIL PELAJARAN MALAYSIA 2012

1249/1

SEJARAH

Kertas 1

Nov./Dis.

1 jam

Satu jam

---

JANGAN BUKA KERTAS SOALAN INI SEHINGGA DIBERITAHU

1. *Kertas soalan ini mengandungi 40 soalan.*
2. *Jawab semua soalan.*
3. *Tiap-tiap soalan diikuti oleh empat pilihan jawapan, iaitu A, B, C dan D. Bagi setiap soalan, pilih satu jawapan sahaja. Hitamkan jawapan anda pada kertas jawapan objektif yang disediakan.*
4. *Jika anda hendak menukar jawapan, padamkan tanda yang telah dibuat. Kemudian hitamkan jawapan yang baharu.*

---


Kertas soalan ini mengandungi 14 halaman bercetak dan 2 halaman tidak bercetak.

[Lihat halaman sebelah  
SULIT

1249/1 © 2012 Hak Cipta Kerajaan Malaysia



1 Gambar 1 berkaitan dengan Kod Undang-Undang Hammurabi.



Gambar 1

Apakah prinsip undang-undang tersebut?

- A Mengutamakan konsep permufakatan
- B Berasaskan sistem kepercayaan tempatan
- C Berteraskan hak rakyat terhadap keadilan
- D Hukuman yang sama untuk semua golongan

2 Bandar berikut wujud pada zaman tamadun Indus.

- Anga
- Kalinga
- Karusa

Apakah persamaan fungsi bandar tersebut?

- A Pusat perdagangan
- B Pusat penterjemahan
- C Pusat ketenteraan
- D Pusat pertanian


- 3 Jadual 1 menunjukkan perubahan sistem pemerintahan dalam tamadun Rom.

Tahun	Perubahan
509 Sebelum Masihi	Rom menjadi sebuah republik

Jadual 1

Mengapakah perubahan tersebut berlaku?

- A Penaklukan oleh orang kasar
  - B Pemberontakan golongan *patrician*
  - C Pertembungan dengan tamadun luar
  - D Peningkatan ekonomi penduduk
- 4 Gambar 2 menunjukkan tokoh tamadun awal dunia.



Gambar 2

Apakah sumbangan mereka?

- A Memperkenalkan pemerintahan demokrasi
  - B Menyeragamkan undang-undang
  - C Mengasaskan sistem empayar
  - D Mengamalkan kepimpinan melalui teladan
- 5 Unsur mitos merupakan elemen penting dalam kerajaan awal di Asia Tenggara. Apakah kepentingan unsur tersebut?
- A Memperkukuh kedudukan pemerintah
  - B Mendaulatkan sistem perundangan
  - C Mengiktiraf golongan pendeta
  - D Mengekalkan warisan tradisi

[Lihat halaman sebelah  
SULIT

- 6 Dalam sistem pentadbiran kerajaan Srivijaya, terdapat jawatan datu. Apakah peranan datu dalam sistem pentadbiran tersebut?
- A Ketua agama  
 B Pentadbir daerah  
 C Pemerintah tentera  
 D Pencatat salasilah raja

- 7 Jadual 2 berkaitan dengan sejarah awal perkembangan Islam di Makkah.

<b>Tarikh</b>	6 Ogos 610 Masihi bersamaan 17 Ramadhan
<b>Tempat</b>	Gua Hirak
<b>Peristiwa</b>	Allah menurunkan wahyu yang pertama kepada Nabi Muhammad SAW

Jadual 2

Apakah kesan peristiwa tersebut?

- A Zaman Jahiliah berakhir  
 B Pelbagai kaum bersatu  
 C Negara bangsa diasaskan  
 D Sistem khalifah dilaksanakan
- 8 Jadual 3 berkaitan dengan peristiwa yang berlaku di Semenanjung Tanah Arab.

<b>Tahun</b>	<b>Peristiwa</b>
630 Masihi	Nabi Muhammad SAW membuka semula Kota Makkah

Jadual 3

Mengapakah peristiwa tersebut berlaku?

- A Tentera Quraisy menyerah kalah  
 B Sistem pertahanan Quraisy lemah  
 C Pihak Quraisy mencabuli isi perjanjian  
 D Kaum Quraisy membunuh orang Islam

- 9 Abdullah bin Arqat membantu Rasulullah SAW berhijrah ke Madinah. Apakah bentuk bantuan yang diberikan?
- A Mengawal keselamatan
  - B Menjadi penunjuk jalan
  - C Menyiasat pergerakan musuh
  - D Membekal barang keperluan
- 10 Jadual 4 berkaitan dengan peperangan yang berlaku antara orang Quraisy Makkah dengan orang Islam.

Peristiwa	Tahun	Pihak Yang Menang
Perang Khandak	627 Masihi	Tentera Islam

Jadual 4

- Apakah faktor kemenangan tentera Islam dalam peperangan tersebut?
- A Peralatan perang lengkap
  - B Bilangan tentera ramai
  - C Bantuan luar diperoleh
  - D Strategi perang mantap
- 11 Sistem wazarah telah diperkenalkan oleh kerajaan Bani Umayyah. Bagaimanakah sistem tersebut dilaksanakan?
- A Urus setia menguruskan rekod kewangan
  - B Wazir dilantik mengetuai pentadbiran
  - C Pelbagai jabatan kerajaan ditubuhkan
  - D Ulama dilantik menjadi pentadbir
- 12 Bagaimanakah khalifah dilantik pada zaman pemerintahan kerajaan Bani Abbasiyah?
- A Pemilihan dilakukan oleh ulama
  - B Mengamalkan sistem pewarisan
  - C Melalui perundingan Majlis Syura
  - D Berdasarkan wasiat khalifah terdahulu

13 Jadual 5 berkaitan dengan pengislaman pemerintah di Asia Tenggara.

Negeri	Pemerintah
Pattani	Raja Phaya Tu Nak Pa diislamkan oleh Syeikh Said
Pasai	Raja Malik al-Salih diislamkan oleh Syeikh Ismail dari Semenanjung Tanah Arab

Jadual 5

Mengapakah para ulama mengislamkan golongan raja?

- A Menyekat pengaruh agama lain
  - B Menguasai bidang pentadbiran
  - C Mendapatkan anugerah raja
  - D Mempengaruhi rakyat jelata
- 14 Pedagang Islam memainkan peranan penting menyebarkan Islam pada peringkat awal kedatangan Islam ke Asia Tenggara.
- Bagaimanakah mereka dapat melaksanakan peranan tersebut?
- A Menghasilkan karya
  - B Menerajui pentadbiran
  - C Membuka perkampungan
  - D Menirikan pusat pendidikan
- 15 Karya berikut mempunyai pengaruh terhadap rakyat Kesultanan Melayu Melaka.

- Hikayat Amir Hamzah
- Hikayat Muhammad Ali Hanafiah

Apakah pengaruh karya tersebut?

- A Memperluas ilmu pengetahuan
- B Mewujudkan golongan intelek
- C Memantapkan sistem perundangan
- D Meningkatkan semangat perjuangan

16 Selepas kedatangan Islam, sistem politik di Asia Tenggara mengalami perubahan. Apakah perubahan tersebut?

- I Institusi kesultanan diperkenalkan
  - II Islam dijadikan asas perundangan
  - III Pembesar dilantik secara musyawarah
  - IV Sistem raja berkuasa mutlak tamat
- A I dan II  
B I dan IV  
C II dan III  
D III dan IV

17 Jadual 6 berkaitan dengan tokoh di Eropah pada abad ke-15.

Tokoh	Negara
Ferdinand Aragon	Sepanyol
Putera Henry	Portugal

Jadual 6

Pernyataan manakah yang berkaitan dengan tokoh tersebut?

- A Penerokaan kawasan Timur
  - B Pembukaan pelabuhan baru
  - C Peperangan sesama mazhab
  - D Perebutan takhta pemerintahan
- 18 Golongan berikut muncul di Eropah pada zaman Kemuncak Pertengahan.

- |   |
|---|
| <ul style="list-style-type: none"><li>• Artisan</li><li>• Pedagang</li><li>• Ahli Perbankan</li></ul> |
|---|

Apakah faktor kemunculan golongan tersebut?

- A Kehadiran orang kasar
- B Kelahiran golongan *baron*
- C Pengukuhan institusi parlimen
- D Pembukaan bandar-bandar besar

- 19 Apakah sumbangan Henry N. Ridley terhadap perusahaan getah?
- A Memberi subsidi baja
  - B Membawa masuk imigran luar
  - C Mengagih benih secara percuma
  - D Memajak tanah peribumi untuk penanaman
- 20 Akta Tanah Simpanan Melayu telah diperkenalkan pada 25 November 1913. Apakah kesan akta tersebut terhadap orang Melayu?
- A Taraf hidup meningkat
  - B Meneroka petempatan baru
  - C Kekal dengan pertanian tradisional
  - D Membayar cukai yang tinggi
- 21 British telah memperkenalkan Sistem Birokrasi Barat di Tanah Melayu. Mengapakah sistem tersebut ditentang oleh penduduk tempatan?
- A Tanah peribumi dirampas
  - B Pemimpin kehilangan kuasa
  - C Pengaruh golongan agama merosot
  - D Kegiatan ekonomi tradisional terjejas
- 22 Apakah kesan Sistem Tanaman Paksa terhadap penduduk Indonesia?
- A Meningkatkan ekonomi
  - B Mewujudkan jurang sosial
  - C Menghapuskan cukai pertanian
  - D Menyediakan peluang pekerjaan
- 23 Mengapakah negara-negara Barat memberi tumpuan kepada negara China pada abad ke-19?
- A Bahan mentah banyak
  - B Tenaga mahir ramai
  - C Tanah subur
  - D Pasaran luas



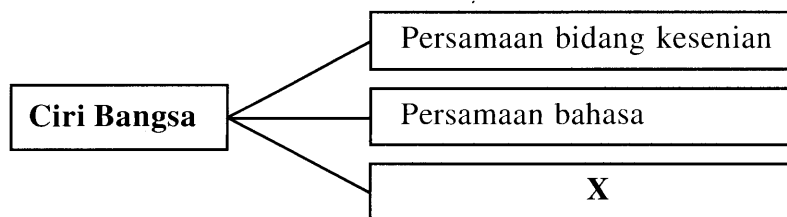
- 24 Jadual 7 menerangkan novel yang diterbitkan sebelum Perang Dunia Kedua di Tanah Melayu.

<b>Tajuk Novel</b>	Melor Kuala Lumpur
<b>Pengarang</b>	Harun Aminurrashid
<b>Tahun Terbitan</b>	1930-an

Jadual 7

Apakah mesej yang disampaikan oleh pengarang dalam novel tersebut?

- A Mencintai tanah air
  - B Menghargai warisan bangsa
  - C Kebebasan kaum wanita
  - D Perpaduan antara kaum
- 25 Gerakan Islah bertujuan membetulkan pandangan orang Melayu terhadap Islam. Apakah saranan gerakan tersebut kepada orang Melayu?
- A Mengutamakan pemimpin
  - B Memelihara warisan tradisi
  - C Berani mengkritik penjajah
  - D Bekerjasama dengan kaum imigran
- 26 Rajah 1 berkaitan dengan ciri sesuatu bangsa.



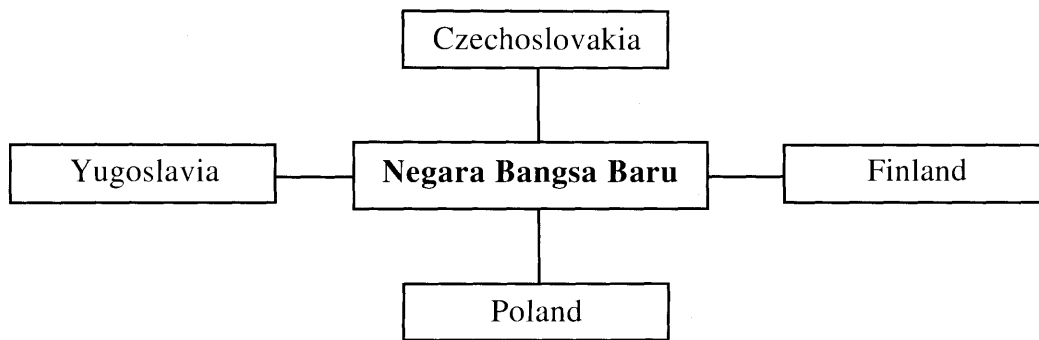
Rajah 1

Apakah X?

- A Persamaan falsafah hidup
- B Persamaan warna kulit
- C Persamaan adat resam
- D Persamaan kepercayaan

[Lihat halaman sebelah  
SULIT

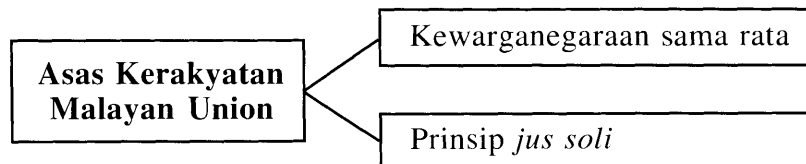
- 27 Rajah 2 menunjukkan negara bangsa baru yang muncul di Eropah pada awal abad ke-20.



Rajah 2

Apakah asas bagi kemunculan negara tersebut?

- A Kumpulan etnik
  - B Sistem demokrasi
  - C Kedudukan geografi
  - D Kekayaan hasil bumi
- 28 Rajah 3 berkaitan dengan asas kerakyatan Malayan Union pada tahun 1946.




Rajah 3

Apakah kesan pelaksanaan asas kerakyatan tersebut?

- A Perkembangan ekonomi luar bandar
  - B Pengukuhan kuasa pembesar tempatan
  - C Pengurangan jumlah penduduk peribumi
  - D Perpaduan dalam kalangan rakyat terjejas
- 29 Apakah langkah kerajaan British di Tanah Melayu yang bersesuaian dengan Piagam Atlantik 1945?
- A Mengadakan rundingan dengan AMCJA-PUTERA
  - B Membentuk Jawatankuasa Perundingan Perpaduan Kaum
  - C Menerima cadangan pembentukan Persekutuan Tanah Melayu
  - D Mengekalkan kedudukan Negeri-Negeri Melayu Bersekutu

- 30 Pada tahun 1951, Dato' Onn bin Jaafar mencadangkan agar keahlian UMNO dibuka kepada orang bukan Melayu.  
Mengapakah beliau bertindak demikian?
- A Memantapkan pentadbiran kerajaan
  - B Mengiktiraf peranan kaum imigran
  - C Memperkuat organisasi parti
  - D Memperkukuh perpaduan
- 31 Antara yang berikut, manakah jenis kerakyatan yang telah diterima dalam Perjanjian Persekutuan Tanah Melayu 1957?
- I Melalui permohonan
  - II Kuat kuasa undang-undang
  - III Perkenan Raja-Raja Melayu
  - IV Kelulusan Dewan Undangan Negeri
- A I dan II
  - B I dan IV
  - C II dan III
  - D III dan IV
- 32 Mengapakah Parti Tindakan Rakyat bimbang kemenangan Barisan Sosialis dalam pilihan raya Hong Lim di Singapura pada tahun 1961?
- I Menggugat proses kemerdekaan
  - II Memecahbelahkan perpaduan kaum
  - III Membantutkan perkembangan ekonomi
  - IV Melemahkan kepimpinan Lee Kuan Yew
- A I dan II
  - B I dan IV
  - C II dan III
  - D III dan IV
- 33 Apakah tujuan penubuhan Parti Perikatan di Sarawak pada tahun 1962?
- A Membasmi ancaman komunis
  - B Menyokong gagasan Malaysia
  - C Menentang Persekutuan Borneo
  - D Memajukan kehidupan peribumi


- 34 Apakah peranan Suruhanjaya Cobbold dalam menjayakan pembentukan Malaysia?
- A Memujuk Singapura menyertai Persekutuan
  - B Menggalakkan penubuhan Parti Perikatan
  - C Melaksanakan sistem birokrasi Barat
  - D Meninjau pendapat rakyat Sabah dan Sarawak
- 35 Antara yang berikut, yang manakah lambang negara Malaysia?
- I Wau
  - II Keris
  - III Jata Negara
  - IV Lagu Kebangsaan
- A I dan II
  - B I dan IV
  - C II dan III
  - D III dan IV
- 36 Gambar 3 adalah bendera Jalur Gemilang yang menjadi kebanggaan bangsa dan negara Malaysia.



Gambar 3

- Rakyat Malaysia mesti berbangga dengan bendera tersebut kerana ia adalah lambang
- A keagungan
  - B kegigihan
  - C kemajuan
  - D kedaulatan

- 37 Gambar 4 menunjukkan *Buku Merah* yang diperkenalkan oleh Kementerian Pembangunan Luar Bandar dalam Rancangan Malaya Kedua.



Gambar 4

Mengapakah buku tersebut diperkenalkan?

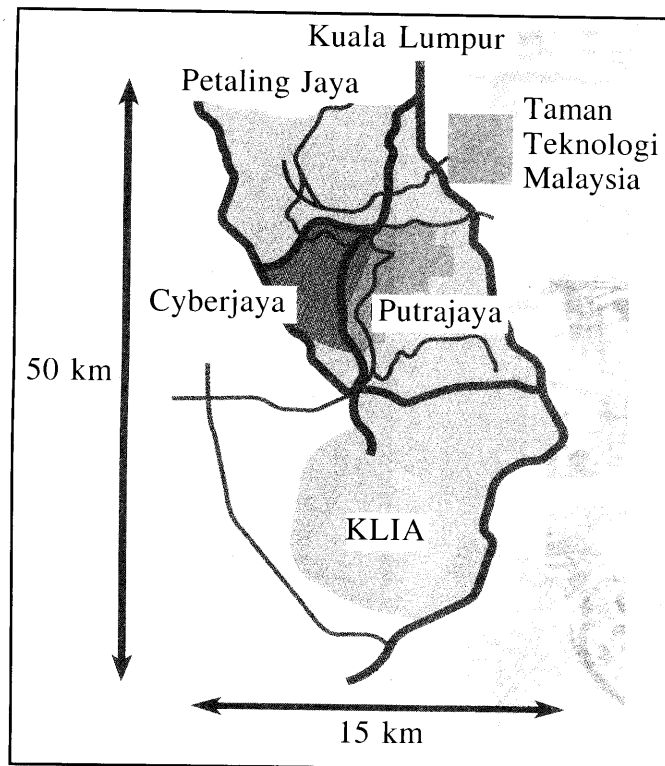
- A Menilai pelaksanaan rancangan pembangunan
  - B Memantau pengurusan kewangan negara
  - C Menetapkan sistem pentadbiran kerajaan
  - D Mengawal mutu perkhidmatan kerajaan
- 38 Dasar berikut memberi sumbangan ke arah mencapai Wawasan 2020.

- Dasar Bahasa Kebangsaan
- Dasar Kebudayaan Kebangsaan
- Dasar Pendidikan Kebangsaan

Apakah sumbangan dasar tersebut?

- A Mewujudkan integrasi kaum
- B Meningkatkan taraf hidup rakyat
- C Menjamin kecemerlangan negara
- D Membina masyarakat berdaya saing

39 Peta 1 menunjukkan kawasan Koridor Raya Multimedia.



Peta 1

Mengapakah kerajaan mewujudkan koridor tersebut?

- A Membangunkan wilayah pembangunan baru
  - B Mewujudkan keseimbangan ekonomi
  - C Merencanakan perkembangan perindustrian
  - D Membentuk masyarakat yang bermaklumat
- 40 Sebagai anggota Pertubuhan Bangsa-Bangsa Bersatu (PBB), Malaysia telah memberi sumbangan ke arah memelihara keamanan dunia.
- Apakah sumbangan tersebut?
- I Menentang dasar apartheid
  - II Menghantar pasukan pemerhati
  - III Membebaskan negara yang dijajah
  - IV Menyarankan pembentukan tentera pelbagai negara
- A I dan II
  - B I dan IV
  - C II dan III
  - D III dan IV

KERTAS SOALAN TAMAT

**JAWAPAN (Sejarah K1 2012)**

**1 C    2 A    3 B    4 C    5 A    6 B    7 A    8 C    9 B    10 D**

**11 B    12 B    13 D    14 C    15 D    16 A    17 A    18 D    19 C    20 C**

**21 B    22 B    23 D    24 C    25 C    26 C    27 A    28 C    29 C    30 D**

**31 A    32 B    33 B    34 D    35 D    36 D    37 A    38 A    39 D    40 A**