

SULIT



LEMBAGA PEPERIKSAAN  
KEMENTERIAN PELAJARAN MALAYSIA

SIJIL PELAJARAN MALAYSIA 2013

1249/1

SEJARAH

Kertas 1

Nov./Dis.

1 jam

Satu jam

---

JANGAN BUKA KERTAS SOALAN INI SEHINGGA DIBERITAHU

1. *Kertas soalan ini mengandungi 40 soalan.*
2. *Jawab semua soalan.*
3. *Tiap-tiap soalan diikuti oleh empat pilihan jawapan, iaitu A, B, C dan D. Bagi setiap soalan, pilih **satu** jawapan sahaja. **Hitamkan** jawapan anda pada kertas jawapan objektif yang disediakan.*
4. *Jika anda hendak menukar jawapan, padamkan tanda yang telah dibuat. Kemudian hitamkan jawapan yang baharu.*

---

Kertas soalan ini mengandungi 14 halaman bercetak dan 2 halaman tidak bercetak.


[Lihat halaman sebelah

1249/1 © 2013 Hak Cipta Kerajaan Malaysia

SULIT



- 1 Gambar 1 berkaitan dengan simbol Yin dan Yang.



Gambar 1

- Apakah maksud simbol tersebut?
- A Mandat dari syurga
  - B Pemujaan roh nenek moyang
  - C Unsur alam yang saling melengkapi
  - D Ramalan peristiwa yang akan berlaku
- 2 Sistem pemerintahan di Mesopotamia berasaskan sistem beraja.  
Apakah bentuk sistem beraja tersebut?
- A Oligarki
  - B Demokrasi
  - C Aristokrasi
  - D Teokrasi
- 3 Tokoh berikut telah menyumbang kepada peningkatan tamadun China.

- Lao Tze
- Confucius

Apakah sumbangan mereka?

- A Pengasas ajaran
- B Perancang bandar
- C Mengatur strategi peperangan
- D Menggubal kod undang-undang

- 4 Jadual 1 berkaitan dengan kejayaan seorang tokoh dalam tamadun awal di China.

Tokoh	Kejayaan
Shih Huang Ti	Menyatukan seluruh wilayah kecil di China

Jadual 1

Apakah faktor yang membantu kejayaan tokoh tersebut?

- I Pemerintahan secara autokratik
  - II Penghapusan kuasa bangsawan
  - III Kemajuan perdagangan
  - IV Sokongan rakyat
- A I dan II
  - B I dan IV
  - C II dan III
  - D III dan IV
- 5 Raja Indravarman I memerintah kerajaan Angkor mulai tahun 877 Masihi.  
Apakah sumbangan baginda terhadap kerajaan Angkor?
- A Menyediakan kemudahan pelabuhan
  - B Memajukan perusahaan perkapalan
  - C Menghapuskan cukai tanaman
  - D Membina takungan air
- 6 Dalam kerajaan awal Asia Tenggara, rakyat biasa takut untuk menderhaka kepada raja.  
Mengapakah mereka bersikap demikian?
- A Raja menguasai empayar
  - B Raja menjadi ketua pendeta
  - C Raja adalah bayangan tuhan
  - D Raja memiliki kekuatan tentera

7. Pada 6 Ogos 610 Masihi, bersamaan 17 Ramadhan, Nabi Muhammad SAW menerima wahyu yang pertama.

Apakah kesan peristiwa tersebut?

- A Penyebaran agama Islam
- B Kemunculan kerajaan baharu Islam
- C Penentangan orang Arab Quraisy terhadap Islam
- D Pemisahan antara Zaman Jahiliah dengan Zaman Islam

- 8 Maklumat berikut berkaitan dengan kehidupan masyarakat Arab pada Zaman Jahiliah.

- |  |
|--|
| <ul style="list-style-type: none"> <li>• Menyembah berhala</li> <li>• Menanam bayi perempuan yang baru lahir</li> <li>• X</li> </ul> |
|--|

Apakah X?

- A Membina petempatan kekal
  - B Mahir membina sistem pengairan
  - C Mengamalkan semangat assabiah
  - D Mempunyai susun lapis masyarakat
- 9 Rajah 1 menunjukkan syarat Perjanjian Hudaibiyah yang ditandatangani antara Nabi Muhammad SAW dengan masyarakat Quraisy Makkah pada tahun 628 Masihi (6 Hijrah).



Rajah 1

Apakah kesan perjanjian tersebut?

- A Penghijrahan penduduk berkurangan
- B Pertambahan wilayah jajahan
- C Perluasan penyebaran Islam
- D Pengukuhan angkatan tentera

10 Orientalis Barat menganggap hijrah Nabi Muhammad SAW dan umat Islam dari Makkah ke Madinah sebagai pelarian.

Apakah alasan untuk menyangkal anggapan tersebut?

- I Diberi sambutan meriah
  - II Dijemput penduduk tempatan
  - III Galakan oleh pemimpin Quraisy
  - IV Mendapat bantuan masyarakat Arab
- A I dan II
  - B I dan IV
  - C II dan III
  - D III dan IV

11 Bagaimanakah Khalifah Uthman bin Affan r.a. berjaya meluaskan wilayah Islam?

- A Semangat jihad dipupuk
- B Armada laut diperkukuh
- C Perkahwinan politik digalakkan
- D Perjanjian dengan pemimpin tempatan dimeterai

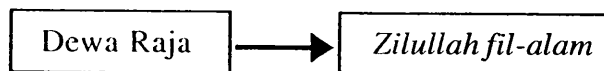
12 Kerajaan Islam berikut mempunyai pengaruh terhadap kerajaan Islam di Asia Tenggara.

- |  |
|--|
| <ul style="list-style-type: none"><li>• Abbasiyah</li><li>• Turki Uthmaniyah</li></ul> |
|--|

Apakah pengaruh tersebut?

- A Sistem Pembesar Empat Lipatan
- B Perluasan kawasan empayar
- C Pembentukan Majlis Syura
- D Amalan institusi kesultanan

- 13 Pedagang Islam berjaya menarik minat penduduk tempatan di Asia Tenggara untuk mendalami ajaran Islam.  
Bagaimanakah mereka dapat berbuat demikian?
- A Menulis kitab agama
  - B Mendirikan madrasah
  - C Mengamalkan sikap jujur
  - D Memuliakan kedudukan raja
- 14 Kedatangan Islam ke Asia Tenggara telah mengubah sistem pemerintahan dan pentadbiran.  
Apakah bukti pernyataan di atas?
- I Wazir dilantik mentadbir wilayah
  - II Institusi kesultanan diperkenalkan
  - III Undang-undang syariah dilaksanakan
  - IV Jawatan tradisional dimansuhkan
- A I dan II
  - B I dan IV
  - C II dan III
  - D III dan IV
- 15 Rajah 2 menunjukkan perubahan konsep dalam sistem pemerintahan Kesultanan Melayu Melaka pada abad ke-15 Masihi.



Rajah 2

Mengapakah perubahan tersebut berlaku?

- A Perluasan wilayah
- B Perubahan pemimpin
- C Pengiktirafan kerajaan
- D Pengislaman pemerintah

16 Undang-undang berikut wujud pada zaman Kesultanan Melayu Melaka.

- Hukum Kanun Melaka
- Undang-Undang Laut Melaka

Apakah kepentingan undang-undang tersebut?

- I Menentukan struktur kerajaan
  - II Menetapkan sempadan wilayah
  - III Menyekat pengaruh budaya luar
  - IV Memajukan kegiatan perdagangan
- A I dan II  
B I dan IV  
C II dan III  
D III dan IV
- 17 Apakah tujuan penjelajahan orang Eropah ke Asia pada abad ke-16?
- A Mengaut keuntungan
  - B Memperoleh hamba abdi
  - C Menyebarkan ilmu pengetahuan
  - D Memperkenalkan sistem pemerintahan
- 18 Jadual 2 menerangkan tentang seorang tokoh yang telah memperkenalkan satu sistem tanaman di Britain semasa Revolusi Pertanian.

Tokoh	Sumbangan
Lord Townshend	Memperkenalkan sistem penanaman secara bergilir

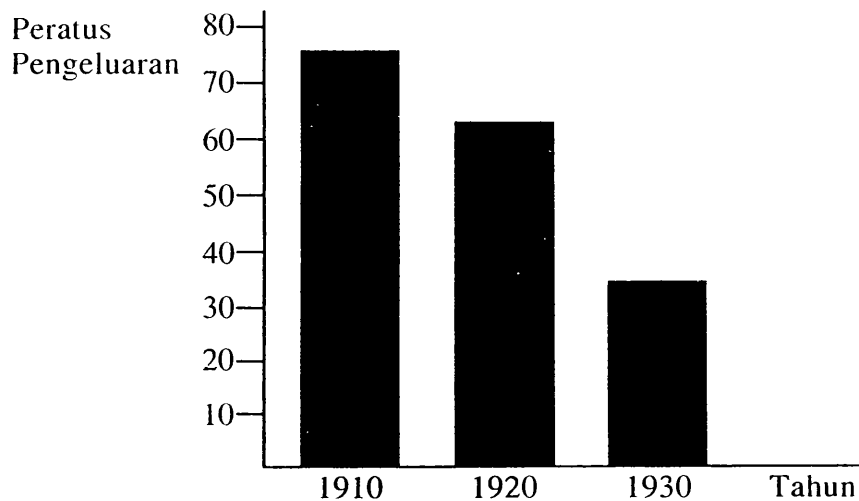
Jadual 2

Apakah kelebihan sistem tersebut?

- I Kesuburan tanah dikekalkan
  - II Penggunaan jentera digalakkan
  - III Tanaman yang sama diusahakan
  - IV Tanah digunakan sepanjang tahun
- A I dan II  
B I dan IV  
C II dan III  
D III dan IV

[Lihat halaman sebelah  
SULIT

- 19 Graf 1 menunjukkan pengeluaran bijih timah oleh pelombong Cina di Tanah Melayu pada abad ke-20.



Graf 1

Mengapakah pengeluaran tersebut merosot?

- A Imigran dihantar pulang
  - B Tenaga kerja mahir kurang
  - C Kapal korek diperkenalkan
  - D Cukai eksport meningkat
- 20 Pelombong Eropah menguasai perusahaan perlombongan bijih timah pada abad ke-20.

Mengapakah pelombong Eropah berjaya menguasai perusahaan tersebut?

- I Teknologi moden
  - II Sokongan pembesar
  - III Buruh mencukupi
  - IV Modal besar
- A I dan II
  - B I dan IV
  - C II dan III
  - D III dan IV
- 21 Penjajah Barat telah melaksanakan sistem birokrasi Barat di tanah jajahan mereka di Asia Tenggara.

Apakah ciri sistem birokrasi tersebut?

- A Pengekalan pemerintahan beraja
- B Pelantikan pembesar daerah
- C Pengenalan sistem ufti
- D Pentadbiran melalui biro

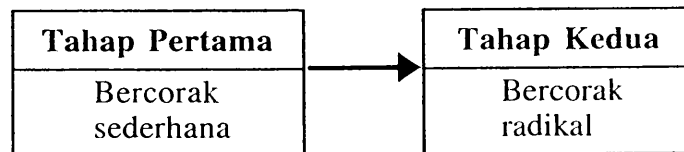


- 22 British telah memperkenalkan jawatan berikut di Tanah Melayu pada abad ke-19 dan awal abad ke-20.

- |  |
|--|
| <ul style="list-style-type: none"> <li>• Residen</li> <li>• Penasihat British</li> </ul> |
|--|

Apakah persamaan tugas pegawai yang menjawat jawatan tersebut?

- A Menjaga kepentingan penduduk tempatan  
 B Menasihati sultan dalam pentadbiran  
 C Memperkukuh pentadbiran tradisional  
 D Melatih pembesar tempatan mentadbir
- 23 Rajah 3 menunjukkan perubahan corak gerakan nasionalisme di Asia Tenggara.



Rajah 3

Mengapakah gerakan tersebut bercorak radikal pada tahap kedua?

- A Sokongan pemerintah tempatan  
 B Kekurangan sumber kewangan  
 C Sekatan pengaruh dari luar  
 D Perjuangan tidak berkesan
- 24 Bagaimanakah British menghalang Gerakan Islah di Negeri-Negeri Melayu pada awal abad ke-20?
- I Mengugut pemimpin  
 II Menyekat kegiatan dakwah  
 III Menghalang kemasukan risalah  
 IV Menyekat peluang belajar ke luar negara
- A I dan II  
 B I dan IV  
 C II dan III  
 D III dan IV

25 Tokoh berikut telah berjuang menentang penjajah.

- Mat Salleh
- Dato' Bahaman

Mengapakah perjuangan mereka gagal?

- A Senjata tidak lengkap
- B Tenaga tentera kurang
- C Kemudahan asas kurang
- D Sokongan pembesar tidak cukup

26 Pada tahun 1911, Sultan Zainal Abidin III meluluskan perlembagaan yang dikenali sebagai Undang-Undang Tubuh Kerajaan Terengganu.

Mengapakah perlembagaan tersebut diluluskan?

- A Meluaskan wilayah pengaruh
- B Mengekalkan kedaulatan negeri
- C Membentuk kerajaan demokrasi
- D Mengukuhkan hubungan dengan Siam

27 Maklumat berikut merujuk kepada perlembagaan kerajaan Melayu.

- Undang-Undang Tubuh Kerajaan Johor
- Undang-Undang Tubuh Kerajaan Terengganu

Apakah persamaan kandungan kedua-dua perlembagaan tersebut?

- I Raja dipilih melalui sistem giliran
  - II Cukai tanah dikuatkuasakan
  - III Islam sebagai agama rasmi
  - IV Raja mesti berbangsa Melayu
- A I dan II
  - B I dan IV
  - C II dan III
  - D III dan IV

- 28 Apakah hasrat British membentuk sebuah bangsa Malayan Union?
- A Menumpukan taat setia
  - B Menguatkan pasukan tentera
  - C Membantu dalam pentadbiran
  - D Membanteras ancaman komunis
- 29 Pada 8 Februari 1946, Vyner Brooke telah menyerahkan Sarawak kepada British. Apakah kesan sekiranya penyerahan tersebut **tidak** dilaksanakan?
- A Kemasukan kaum imigran akan berterusan
  - B Pembentukan kerajaan sendiri menjadi kenyataan
  - C Pembubaran Majlis Mesyuarat Negeri dilaksanakan
  - D Hak istimewa penduduk peribumi terjejas
- 30 Pada bulan Februari 1952, UMNO Kuala Lumpur dan MCA telah menjalin kerjasama dalam bidang politik. Apakah kesan kerjasama tersebut terhadap UMNO dan MCA?
- A Ditentang hebat oleh Parti Kemerdekaan Malaya
  - B Mendapat bantuan kewangan daripada British
  - C Gagal mendapat sokongan semua kaum
  - D Menang dalam pilihan raya majlis perbandaran
- 31 Apakah faktor yang menyebabkan British menggantikan Malayan Union dengan Persekutuan Tanah Melayu 1948?
- A Kekuatan perpaduan orang Melayu
  - B Pertambahan bilangan kaum imigran
  - C Memenuhi desakan orang dagang
  - D Akur tuntutan golongan radikal

{Lihat halaman sebelah  
SULIT

- 32 Jadual 3 menerangkan tentang hubungan tegang antara Malaysia dengan Indonesia.

<b>Tarikh</b>	20 Januari 1963
<b>Peristiwa</b>	Konfrontasi Indonesia terhadap Malaysia
<b>Kempen</b>	Ganyang Malaysia

Jadual 3

Apakah tindakan Indonesia semasa peristiwa tersebut?

- I Menceroboh ruang udara
  - II Menghantar bantahan rasmi
  - III Melancarkan pemberontakan
  - IV Menyerang kapal-kapal nelayan
- A I dan II
  - B I dan IV
  - C II dan III
  - D III dan IV
- 33 Jadual 4 berkaitan dengan perkembangan politik di Singapura.

<b>Tahun</b>	<b>Peristiwa</b>
1959	Lee Kuan Yew mencadangkan supaya Singapura digabungkan dengan Tanah Melayu

Jadual 4

Mengapakah Lee Kuan Yew membuat cadangan tersebut?

- A Mengawal kemasukan imigran
- B Melemahkan parti berhaluan kiri
- C Memperkukuh semangat setia kawan
- D Mengamalkan konsep pengagihan kuasa

- 34 Apakah bidang kuasa Yang di-Pertuan Agong seperti yang termaktub dalam Perlembagaan Malaysia?
- A Membubarkan Parlimen
  - B Menggubal undang-undang
  - C Memilih ahli Dewan Rakyat
  - D Menetapkan tarikh pilihan raya
- 35 Apakah syarat untuk menjadi Ahli Dewan Negara dalam sistem pemerintahan di Malaysia?
- A Menang dalam pilihan raya
  - B Aktif dalam pertubuhan politik
  - C Berumur sekurang-kurangnya 21 tahun
  - D Cemerlang dalam perkhidmatan awam
- 36 Mengapakah Majlis Perundingan Negara mengisytiharkan Rukun Negara pada 31 Ogos 1970?
- A Menyusun semula masyarakat
  - B Memperkukuh perpaduan rakyat
  - C Meningkatkan kemajuan ekonomi
  - D Memartabatkan bahasa kebangsaan
- 37 Pernyataan berikut adalah cabaran kelapan Wawasan 2020.

Menjamin masyarakat yang adil dan saksama ekonominya

Bagaimanakah cabaran tersebut dapat dipenuhi oleh kerajaan?

- A Kekayaan negara dikongsi bersama
  - B Pelaburan asing dipertingkatkan
  - C Memantapkan jati diri rakyat
  - D Membangunkan modal insan
- 38 Perang Dunia Pertama tercetus di Eropah mulai tahun 1914 hingga tahun 1918. Mengapakah Amerika Syarikat turut terlibat dalam perang tersebut?
- A Menguji senjata
  - B Permintaan Britain
  - C Mempertahankan Serbia
  - D Menyekat ideologi komunis

39 Blok dunia berikut terbentuk semasa Perang Dingin.

- |   |
|---|
| <ul style="list-style-type: none"><li>• Blok kapitalis</li><li>• Blok komunis</li></ul> |
|---|

Apakah ciri blok kapitalis?

- I Mengamalkan pemerintahan demokratik
  - II Mengamalkan sistem satu parti
  - III Memiliknegarakan perniagaan
  - IV Menjamin kebebasan individu
- A I dan II
  - B I dan IV
  - C II dan III
  - D III dan IV
- 40 Deklarasi Langkawi dihasilkan dalam Mesyuarat Ketua-Ketua Kerajaan Komanwel (CHOGM) di Kuala Lumpur pada tahun 1989.
- Apakah persetujuan yang dicapai dalam deklarasi tersebut?
- A Penyelarasan bantuan teknikal
  - B Menyediakan dana pendidikan
  - C Mengatasi masalah pencemaran
  - D Membanteras penyalahgunaan dadah

**KERTAS SOALAN TAMAT**