


1 Gambar 1 adalah bangunan ziggurat. **T4 B1 ms 13**



Gambar 1

Mengapakah masyarakat Mesopotamia membina bangunan tersebut ?

- A Penjara bagi rakyat yang melakukan kesalahan
- B Tempat menyimpan abu mayat bangsawan
- C Kubu pertahanan dari serangan musuh
- D Menjalankan upacara keagamaan


2 Kedua-dua Bandar berikut terdapat dalam tamadun Indus

- Mohenjo Daro
- Harappa

Apakah faktor kemajuan Bandar tersebut? **T4 B1 ms 27**

- A Penambahan penduduk
- B Penguasaan ilmu geometri
- C Perubahan struktur organisasi
- D Perkembangan sistem pengangkutan

3 Rajah 1 menunjukkan perubahan sistem pemerintahan di Yunani



Mengapakah perubahan tersebut berlaku? **T4 B2 ms 43**

- A Pembubaran Dewan Perhimpunan
- B Campur tangan kuasa asing
- C Penubuhan Dewan Senat
- D Desakan dari rakyat

- 4 Apakah persamaan sistem demokrasi yang diamalkan di Yunani dengan sistem demokrasi yang diamalkan pada masa kini ? **T4 B2 ms 43**
- A Penglibatan rakyat dalam pembentukan kerajaan
 - B Golongan agama menjadi penasihat pemerintah
 - C Pilihan raya diadakan setiap lima tahun
 - D Raja menjadi ketua pentadbir negara
- 5 Apakah faktor kemajuan kerajaan Srivijaya sebagai pusat perdagangan utama di Asia Tenggara dari abad ke-7 hingga abad ke-13 Masihi ? **T4 B3 ms 80**
- A Hasil galian banyak
 - B Tenaga kerja cekap
 - C Kadar cukai rendah
 - D Tentera laut kuat
- 6 Mengapakah kerajaan maritim sangat bergantung kepada kerajaan agraria? **T4 B3 ms 83**
- A Mendapat bekalan makanan
 - B Memperkuat sistem pertahanan
 - C Meningkatkan kutipan cukai
 - D Memperluas kawasan taklukan
- 7 Mengapakah masyarakat Arab jahiliah marah dan bermasam muka apabila menerima kelahiran anak perempuan ? **T4 B4 ms 101**
- A Harta tergadai
 - B Hilang jawatan
 - C Maruah tercabar
 - D Keluarga terancam
- 8 Bentuk pemuluan terhadap keluarga Nabi Muhammad SAW yang dilakukan oleh orang Quraisy Makkah adalah larangan **T4 B4 ms 112**
- A mendekati orang ramai
 - B menjalin hubungan luar
 - C memasuki kota Makkah
 - D menjalankan perniagaan

9 Jadual 1 berkaitan dengan peristiwa hijrah dalam sejarah islam

Tarikh	Peristiwa
1 Rabiulawal (12 September 622 Masihi)	Penghijrahan orang islam Makkah ke Madinah

Apakah kepentingan peristiwa tersebut ? **T4 B5 ms 122 & 127**

- I Persaudaraan ummah diperkukuh
- II Kerajaan yang adil dibentuk
- III Perang saudara tamat
- IV Struktur masyarakat berubah

- A I dan II
- B I dan IV
- C II dan III
- D III dan IV

10 Apakah peristiwa yang membawa kepada pembukaan semula kota Makkah ?

T4 B5 ms 134

- A Penyeksaan terhadap golongan hamba
- B Pencabulan syarat Perjanjian Hudaibiyah
- C Pemuluan terhadap keluarga Bani Hashim
- D Pertelingkahan antara suku Aus dan Khazraj

11 Maklumat berikut berkaitan dengan sumbangan Ibn al-Nafis **T4 B6 ms 152**

Ibn al- Nafis (1210 -1288) adalah seorang doktor Arab yang banyak menyumbang kepada kemajuan ilmu perubatan dan sains pada abad ke-13. Beliau juga terlibat dalam perundangan, politik dan kajian anatomi.

Sumber : <http://www.ncbi.nlm.nih.gov/pubmed/18481505>

Apakah sumbangan beliau?

- A Menulis ensiklopedia undang-undang
- B Membuka pusat pengajian akademik
- C Membetulkan teori peredaran darah
- D Menubuhkan hospital pesakit kusta

12 Bagaimanakah Khalifah Umar bin Al-Khattab memajukan bidang pertanian ?

T4 B6 ms 147

- A Mengeksport lebih hasil
- B Membina sistem pengairan
- C Memperkenalkan penggunaan batas
- D Melaksanakan sistem penggiliran

13 Maklumat berikut berkaitan dengan teori kedatangan islam ke Asia Tenggara

- Islam dari Semenanjung Tanah Arab
- Islam dari China
- Islam dari India

Mengapakah pakar sejarah fokus wilayah tersebut apabila membincangkan tentang teori kedatangan islam ? **T4 B7 ms 175-178**

- I Kedudukan wilayah tersebut di tengah-tengah kawasan Asia Tenggara
- II Unsur budaya wilayah tersebut mempengaruhi budaya Asia Tenggara
- III Hubungan wilayah tersebut dengan Asia Tenggara telah lama terjalin
- IV Wilayah tersebut pernah menjadi sebahagian wilayah Asia Tenggara

- A I dan II
- B I dan IV
- C II dan III
- D III dan IV

14 Mengapakah Sultan Mansur Shah (Melaka) menghantar kitab al-dur al-Manzum ke Sumatera –Pasai ? **T4 B7 ms 183**

- A Untuk dibahaskan
- B Untuk diterjemahkan**
- C Sebagai lambang kedaulatan
- D Sebagai hadiah perkahwinan

15 Karya sastera manakah yang dibacakan kepada tentera Melaka ketika serangan Portugis ? **T4 B7 ms 183**

- A Hikayat Amir Hamzah
- B Hikayat Nabi Bercukur
- C Hikayat Nur Muhammad
- D Hikayat Merong Mahawangsa

16 Pemerintahan kerajaan Kesultanan Melayu Melaka memberi perhatian terhadap perkembangan ilmu pengetahuan.

Apakah faktor yang membantu perkembangan ilmu pengetahuan dalam kerajaan tersebut ? **T4 B8 ms 202**

- A Perubahan pucuk pimpinan
- B Peningkatan taraf hidup rakyat
- C Kemunculan kelas pertengahan
- D Kedatangan ulama dari luar negara

- 17 Gambar 2 menunjukkan suasana penjualan surat pengampunan (indulgences) di Eropah pada abad ke -16. **T4 B9 ms 221**



Gambar 2

Mengapakah Marthin Luther menentang penjualan surat pengampunan tersebut

- A Menjejaskan kedudukan bangsawan
 - B Menyekat perkembangan ekonomi
 - C Menghalang kemajuan pendidikan
 - D Menggugat kesucian ajaran agama
- 18 Zaman Renaissance di Eropah berlaku dari tahun 1350 hingga tahun 1600. Pernyataan manakah yang berkaitan dengan zaman tersebut ?
T4 B9 ms 217-219
- A Pengukuhan sistem feodal
 - B Penghargaan terhadap seni
 - C Peningkatan kuasa gereja
 - D Peluasan tanah jajahan
- 19 Mengapakah undang - undang berikut dilaksanakan di Tanah Melayu ?
T4 B10 ms 265

Enakmen Pendaftaran Sekolah 1920

- A Menyebarkan ajaran agama
- B Membasmi pengaruh komunis
- C Menyekat kemasukan imigran
- D Mewajibkan pendidikan vernakular

- 20 Jadual 2 menunjukkan peningkatan nilai eksport getah di Tanah Melayu pada awal abad ke-20. **T4 B10 ms 250**

Tahun	Nilai Eksport (dalam Pound Sterling)
1932	9 077 000
1933	14 253 000
1934	32 557 000

Mengapakah peningkatan nilai eksport tersebut berlaku ?

- A Kemunculan teknologi moden
B Kerjasama negara pengeluar
C Permintaan dunia bertambah
D Penglibatan pekebun kecil
- 21 Apakah faktor yang membolehkan Thailand mengekalkan kemerdekaannya ?
T5 B1 ms 13
- A Kekuatan tentera
B Perkongsian kuasa
C Kedudukan strategik
D Pemodenan pentadbiran
- 22 Sepanyol telah memperkenalkan Sistem Polo di Filipina.
Apakah kesan pengenalan sistem tersebut ? **T5 B1 ms 15**
- A Pertambahan tenaga kerja asing
B Penindasan penduduk peribumi
C Pengangguran semakin meningkat
D Pengeluaran hasil pertanian berkurangan
- 23 Kaum Muda gagal meluaskan pengaruhnya ke Negeri –Negeri Melayu berbanding Negeri-Negeri Selat.
Mengapakah keadaan tersebut berlaku ? **T5 B2 ms 50**
- A Bilangan ahli sedikit
B Sumber kewangan kurang
C Penyebaran risalah disekat
D Kemudahan perhubungan terhad

24 Tokoh berikut adalah pengarang Majalah Guru pada tahun 1920an. **T5 B2 ms 52**

- Muhammad Dato' Muda Linggi
- Yusuf Ahmad
- Mohd Sidin Rashid

Apakah isu yang dibangkitkan dengan orang Melayu yang dibangkitkan oleh pengarang tersebut ?

- I Kemunculan golongan radikal
- II Pendidikan anak-anak
- III Kemunduran ekonomi
- IV Pengurangan kuasa pembesar

- A I dan II
- B I dan IV
- C II dan III
- D III dan IV

25 Jawatan berikut diwujudkan oleh British di Negeri –Negeri Melayu pada abad ke-19 dan awal abad ke-20 **T5 B5 ms 30**

- Residen
- Penasihat British

- A Menguasai sumber alam
- B Memajukan kemudahan asas
- C Mengekalkan sistem monarki
- D Mempertahan kuasa pembesar

26 Negara berikut muncul di Eropah pada awal abad ke-20 **T5 B3 ms 68**

- Poland
- Yugoslavia
- Czechoslovakia

Kemunculan negara-negara tersebut adalah berdasarkan

- A lokasi strategik
- B kumpulan etnik
- C sistem perundangan
- D kekayaan hasil bumi

27 Apakah kepentingan sistem Pembesar Empat Lipatan dalam pemerintahan Kesultanan Melayu Melaka? **T5 B3 ms 78**

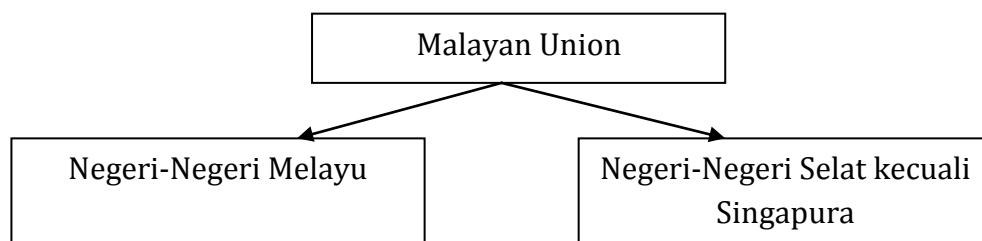
- A Memastikan adat istiadat dipatuhi
- B Memastikan sistem warisan terpelihara
- C Menjamin keutuhan sistem pemerintahan beraja
- D Mempertahan sistem perundangan tempatan

28 Piagam Atlantik 1945 yang dikeluarkan oleh Pertubuhan Bangsa – Bangsa Bersatu tidak menggalakkan penjajahan bentuk baharu.

Apakah tindakan British di Tanah Melayu yang bersesuaian dengan piagam tersebut? **T5 B4 ms 104**

- A Menamatkan Malayan Union
- B Memperkukuh sistem pertahanan
- C Mengawal kedatangan kaum imigran
- D Mengurangkan kuasa Raja-Raja Melayu

29 Rajah 2 berkaitan dengan negeri yang diletakkan di bawah Malayan Union.



Rajah 2

Mengapakah Singapura dikecualikan? **T5 B4 ms 96**

- A Sumber kewangan kerajaan terhad
- B Majlis Raja-Raja membuat bantahan
- C Kaum imigran melancarkan penentangan
- D Bimbang taraf pelabuhan bebas akan terjejas

30 Pada 8 Februari 1946, Vyner Brooke mengisytiharkan penyerahan Sarawak kepada British. **T5 B4 ms 110**

Mengapakah penyerahan tersebut mendapat bantahan penduduk tempatan?

- A Sistem beraja tergugat
- B Sempadan wilayah berubah
- C Negeri menjadi tanah jajahan
- D Kegiatan perdagangan terjejas

31 Maklumat berikut adalah usaha untuk menyatukan kaum di Tanah Melayu.

- Jawatankuasa Hubungan Antara Kaum (CLC)
- Pembukaan keahlian Pertubuhan Kebangsaan Melayu Bersatu (UMNO) kepada buka orang bukan Melayu

Mengapakah usaha tersebut penting ? **T5 B5 ms 120 -121**

- A Merangka perlembagaan Persekutuan
- B Mempercepat kemerdekaan negara
- C Menetapkan syarat kerakyatan
- D Memantapkan Sistem Ahli

32 Sistem Ahli diperkenalkan di Tanah Melayu pada tahun 1951. **T5 B5 ms 118**

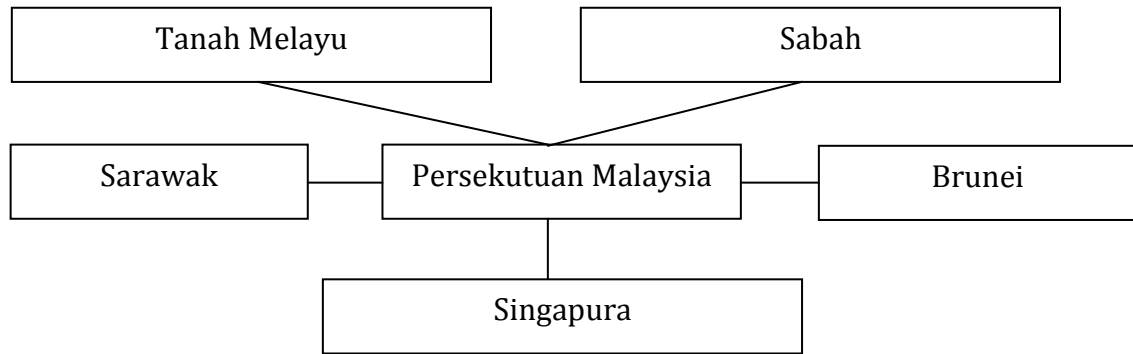
Bagaimanakah sistem tersebut dapat memperkukuh perpaduan rakyat ?

- A Ahli dipantau oleh suruhanjaya bebas
- B Undang-undang antiperkauman digubal
- C Ahli dilantik dalam kalangan pelbagai kaum
- D Mewajibkan penggunaan bahasa kebangsaan

33 Brunei telah menarik diri daripada menyertai Persekutuan Malaysia. Apakah kesan sekiranya Brunei menyertai Malaysia? **T5 B6 ms 140**

- A Kerajaan Kalimantan Utara menjadi semakin kuat
- B Hubungan dengan Filipina dapat diperkukuh
- C Pengaruh golongan sosialis meningkat
- D Sumber ekonomi bertambah banyak

- 34 Rajah 3 menunjukkan idea awal wilayah yang akan membentuk Persekutuan Malaysia.



Mengapakah British menyokong wilayah dan negeri tersebut digabungkan dalam Persekutuan Malaysia ? **T5 B6 ms 139**

- I Dapat menghalang kemasukan imigran
- II Mampu membendung pengaruh komunis
- III Berupaya memperkukuh sistem pertahanan
- IV Boleh mengekalkan sistem pemerintahan beraja

- A I dan II
- B I dan IV
- C II dan III
- D III dan IV

- 35 Apakah bidang kuasa Badan Kehakiman dalam Perlembagaan Persekutuan? **T5 B7 ms 174-175**

- I Melantik Jemaah Menteri
- II Menentukan kesahihan undang-undang
- III Membatalkan akta yang bercanggah dengan perlembagaan
- IV Menentukan bidang kuasa Yang di-Pertuan Agong

- A I dan II
- B I dan IV
- C II dan III
- D III dan IV

36 Pernyataan berikut berkaitan dengan sistem pentadbiran di Malaysia.

Sistem Raja Berperlembagaan dan Demokrasi Berparlimen yang diamalkan negara sejak merdeka terbukti berkesan mewujudkan kestabilan dan memakmuran kepada negara.

Sumber : Bernama, 30 Januari 2013

Bagaimanakah sistem tersebut dapat mewujudkan kestabilan dan kemakmuran negara ? **T5 B7 ms 161-162**

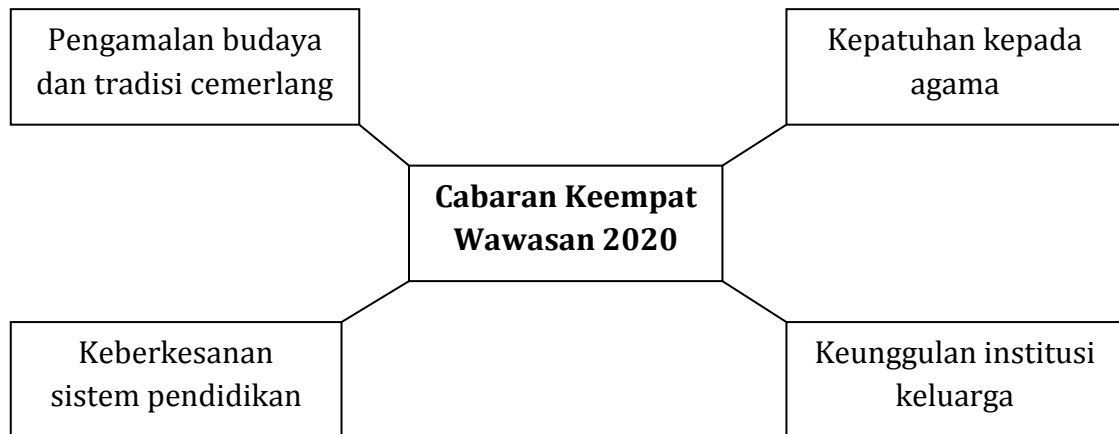
- I Rakyat berpeluang membentuk kerajaan
 - II Pandangan rakyat biasa diambil kira
 - III Hak rakyat untuk bersuara disekat
 - IV Kebebasan mutlak rakyat terjamin
-
- A I dan II
 - B I dan IV
 - C II dan III
 - D III dan IV

37 Ordinan Pelajaran 1952 diperkenalkan untuk menyatukan penduduk di Tanah Melayu. **T5 B8 ms 213**

Berdasarkan ordinan tersebut, bagaimanakah perpaduan dapat dicapai ?

- A Menjadikan bahasa Melayu dan bahasa Inggeris sebagai bahasa penghantar
- B Mewajibkan pelajaran agama dan akhlak di peringkat sekolah menengah
- C Memberikan pendidikan percuma kepada semua murid sekolah rendah
- D Memperkenalkan kursus aliran kemahiran di sekolah bantuan kerajaan

38 Rajah 4 berkaitan dengan satu cabaran Wawasan 2020.



Bagaimanakah cabaran tersebut dapat ditangani ? **T5 B8 ms 221**

- A Mengekalkan keadilan ekonomi
- B Meningkatkan etika masyarakat
- C Memantapkan perpaduan rakyat
- D Membina masyarakat yang saintifik

39 MAPHILINDHO merupakan gabungan Malaysia, Filipina dan Indonesia. Apakah matlamat penubuhannya ? **T5 B9 ms 254**

- A Meningkatkan persefahaman
- B Menghapuskan ancaman komunis
- C Memajukan kegiatan perdagangan
- D Membentuk pakatan tentera serantau

40 Jadual 3 berkaitan dengan Persatuan Negara-Negara Asia Tenggara (ASEAN)

Tahun	1971
Tempat	Kuala Lumpur
Peristiwa	Mesyuarat Menteri-Menteri Luar Asean

Jadual 3

Apakah keputusan yang dicapai dalam mesyuarat tersebut ? **T5 B9 ms 258**

- A Penubuhan Pusat Kajian Bahasa Inggeris (RELC)
- B Pembentukan Perundingan Ekonomi Asia Timur (EAEC)
- C Pengisytiharan Zon Aman, Bebas dan Berkecuali (ZOPFAN)
- D Pembinaan Pusat Serantau untuk Sains dan Matematik (RECSAM)

**SKEMA JAWAPAN KERTAS 1
SPMU 2016**

NO	JAWAPAN	MUKA SURAT
1	D	13
2	B	27
3	D	43
4	A	43
5	D	80
6	A	83
7	C	101
8	D	112
9	A	122 & 127
10	B	134
11	C	152
12	B	147
13	C	175-178
14	B	183
15	A	183
16	D	202
17	D	221
18	B	217-219
19	B	265
20	C	250
21	D	13
22	B	15
23	C	50
24	C	52
25	A	30
26	B	68
27	C	78
28	B	104
29	D	96
30	C	110
31	B	120-121
32	C	118
33	D	140
34	C	139
35	C	174-175
36	A	161-162
37	A	213
38	B	221
39	A	254
40	C	258

A = 8

B = 11

C = 12

D = 9