

SPMU 2017

7 Jun 2017 (Rabu)
8.00 hingga 1.00 ptg

SEJARAH

Kertas 3

Tiga jam

JANGAN BUKA KERTAS SOALAN INI SEHINGGA DIBERITAHU

Berdasarkan tajuk yang telah diberi calon dikehendaki melaksanakan tugas berikut :

- I. Membuat rujukan untuk mengumpul maklumat daripada pelbagai sumber seperti buku teks, buku ilmiah, akhbar, majalah, risalah, internet dan lain-lain.*
- II. Pada hari peperiksaan, calon **dibenarkan** membawa masuk **buku teks, buku ilmiah dan bahan bercetak yang berkaitan ke dalam bilik peperiksaan.***
- III. Bahan tersebut boleh digunakan sebagai rujukan untuk menjawab soalan*

<i>Untuk Kegunaan Pemeriksa</i>			
Tema 7	Soalan	Markah Penuh	Markah Diperoleh
	1	5	
	2	30	
	3	20	
	4	10	
	5	10	
	6	10	
	7	10	
	8	5	
JUMLAH		100	

TUGASAN UMUM

Tamadun moden hari ini terhutang budi kepada tamadun awal manusia. Ciptaan, teknik dan konsep yang mereka hasilkan menyebabkan kemajuan hidup manusia dan meletakkan asas untuk kehidupan di dunia moden

Sumber : <http://www.history.com/topics/ancient-history>






Merujuk Tema 7: Huraian Sukatan Pelajaran dan buku teks Sejarah Tingkatan 4 Bab 1 & 2

TUGASAN SPESIFIK

Tamadun moden hari ini terhutang budi kepada tamadun awal manusia. Ciptaan, teknik dan konsep yang mereka hasilkan menyebabkan kemajuan hidup manusia dan meletakkan asas untuk kehidupan di dunia moden

Sumber : <http://www.history.com/topics/ancient-history>

Berdasarkan pernyataan tersebut, jawab soalan / tugas berikut

Aspek	Soalan / Tugas	Markah
Pengenalan	1. Jelaskan konsep tamadun	5 markah
Isi dan Huraian	2. Huraikan cara masyarakat dalam tamadun awal membina kehidupan yang bertamadun	30 markah
	<p>3. Binaan berikut adalah warisan tamadun awal</p> <div style="display: flex; flex-wrap: wrap; justify-content: space-around;"> <div style="text-align: center; width: 45%;"> <p>(i)</p>  <p>Taman Tergantung Babylon</p> </div> <div style="text-align: center; width: 45%;"> <p>(ii)</p>  <p>Piramid dan Sphinx</p> </div> <div style="text-align: center; width: 45%;"> <p>(iii)</p>  <p>Tinggalan Bandar Mohenjo-Daro</p> </div> <div style="text-align: center; width: 45%;"> <p>(iv)</p>  <p>Tembok Besar China</p> </div> <div style="text-align: center; width: 45%;"> <p>(v)</p>  <p>Aqueduct</p> </div> </div> <p>Jelaskan keunikan binaan tersebut</p>	20 markah

	4. Mengapakah binaan tersebut perlu dikekalkan ?	10 <i>markah</i>
	5. Cadangkan usaha-usaha untuk memelihara dan memulihara warisan tamadun dunia	10 <i>markah</i>
	6. Tamadun awal menjadi asas kepada kemajuan hidup manusia masa kini. Buktikan kebenaran pernyataan di atas	10 <i>markah</i>
	7. Jelaskan iktibar yang diperolehi daripada kajian anda terhadap tamadun awal manusia	10 <i>markah</i>
Kesimpulan	8. Apakah rumusan tentang tamadun awal manusia ?	5 <i>markah</i>

KERTAS PEPERIKSAAN TAMAT