



**BAHAGIAN PENGURUSAN SEKOLAH BERASRAMA PENUH  
DAN SEKOLAH KECEMERLANGAN**

---

**PENTAKSIRAN DIAGNOSTIK AKADEMIK SBP 2015  
PERCUBAAN SIJIL PELAJARAN MALAYSIA**

---

**SEJARAH**

**Kertas 1**

**Satu Jam**

---

**JANGAN BUKA KERTAS SOALAN INI SEHINGGA DIBERITAHU**

**Arahan:**

- 1. Kertas soalan ini mengandungi **40** soalan.*
- 2. Jawab **semua** soalan.*
- 3. Tiap-tiap soalan diikuti oleh empat pilihan jawapan iaitu **A, B C dan D**. **Pilih satu jawapan** yang terbaik bagi setiap soalan dan hitamkan ruangan yang sepadan pada kertas jawapan objektif anda.*
- 4. Jika anda hendak menukar jawapan, sila padamkan lorekan yang telah dibuat. Kemudian hitamkan jawapan yang baharu.*

---

Kertas soalan ini mengandungi **14** halaman bercetak.

*Kertas soalan ini mengandungi 40 soalan.*

*Jawab semua soalan.*

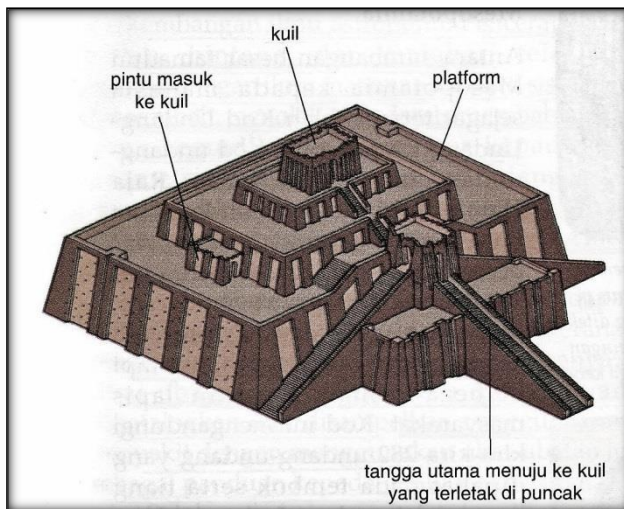
Gambar 1 adalah pokok papyrus yang terdapat di Tamadun Mesir Purba



**Gambar 1**

1. Apakah kepentingan pokok papyrus tersebut?
  - A Penciptaan roda
  - B Pembinaan pengairan
  - C Pembinaan Piramid
  - D Penciptaan kertas
  
2. Bagaimanakah pemerintah Tamadun Hwang Ho dapat meningkatkan ekonomi pertanian penduduk setempat?
  - A Mengenakan cukai yang rendah
  - B Memberi tanah yang luas
  - C Memberi subsidi
  - D Membina terusan

Gambar 2 adalah binaan Zigurat Tamadun Mesopotamia.



**Gambar 2**

3. Apakah fungsi binaan tersebut?

- A Kubu pertahanan
- B Pusat pendidikan
- C Pusat keagamaan
- D Kawalan banjir

Jadual 1 berkaitan dengan tokoh yang telah menyumbang terhadap perkembangan tamadun.

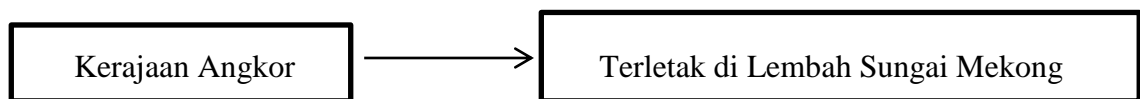
Tokoh	Tamadun
Alexander The Great	Yunani
Shih Huang Ti	China

**Jadual 1**

4. Apakah sumbangan tokoh di atas?

- A Membentuk empayar pemerintahan
- B Memperkenalkan pemerintahan monarki
- C Mengasaskan pentadbiran secara birokrasi
- D Melaksanakan sistem pemerintahan republik

5. *Sresthin* merupakan persatuan perdagangan dan perusahaan yang wujud dalam tamadun India.  
Apakah matlamat persatuan tersebut?
- A Melahirkan pedagang yang berjaya
  - B Mewujudkan kawasan perdagangan
  - C Memberi pinjaman kewangan
  - D Mengawal kualiti barang
6. Kedah Tua berjaya menjadi pelabuhan entrepot.  
Mengapakah keadaan ini berlaku?
- A Kekayaan hasil hutan
  - B Kekuatan tentera
  - C Penduduk yang ramai
  - D Hubungan dengan kuasa luar
7. Rajah 1 berkaitan dengan kerajaan Angkor.



**Rajah 1**

Mengapakah Angkor menjadi kerajaan agraria yang kuat pada zaman tamadun awal Asia Tenggara?

- A Tentera yang setia
- B Empayar yang luas
- C Berhampiran Tasik Tonle Sap
- D Rakyat jelata pelbagai keturunan

8. Mengapakah Nabi Muhammad SAW tidak mengikut penduduk Islam Makkah berhijrah ke Habsyah?

- A Menjaga keselamatan orang Islam Makkah
- B Mengurus perniagaan di Makkah
- C Dihalang pemerintah Habsyah
- D Ditentang pihak Quraisy

9. Maklumat berikut berkaitan dengan Perjanjian Aqabah.

Tahun	Peristiwa
622 Masihi	Memeterai Perjanjian Aqabah Pertama

Apakah tindakan Nabi Muhammad SAW selepas memeterai perjanjian tersebut?

- A Memansuhkan sistem kabilah di Madinah
  - B Menghantar Mus'ab Usman ke Madinah
  - C Memerangi musuh Islam di Madinah
  - D Mengarahkan penduduk Madinah berhijrah
10. Bagaimanakah kedudukan orang Islam yang memihak kepada Makkah dalam perjanjian Hudaibiyah?
- A Diberi hukuman yang setimpal
  - B Perlu dipulangkan ke Madinah
  - C Diiktiraf sebagai penduduk Makkah
  - D Tidak perlu dipulangkan ke Madinah

11. Antara yang berikut, yang manakah sumbangan Khalifah Uthman bin Affan kepada kerajaan Islam Madinah?

- I Meluaskan wilayah Islam
- II Melaksanakan gerakan al-Riddah
- III Menubuhkan Jabatan Kehakiman
- IV Membina angkatan laut Islam

- A I dan II
- B I dan IV
- C II dan III
- D III dan IV

12. Maklumat berikut berkaitan dengan tokoh falsafah Islam pada abad ke-14.

Tokoh	Keterangan
Ibn Rushd	Hasil karya beliau menjadi rujukan di Eropah sehingga abad ke 19

Mengapakah karya beliau menjadi rujukan di Eropah?

- A Menekankan ilmu mantik
- B Mengembangkan puisi syair
- C Membangunkan ilmu pelayaran
- D Menekankan kepelbagaian teknik

13.

*Konsep Daulat*

Mengapakah konsep tersebut digunakan oleh raja-raja Melayu di Asia Tenggara setelah kedatangan Islam?

- A Melambangkan kemakmuran kerajaan
- B Menimbulkan penghormatan rakyat
- C Mengekalkan warisan tradisi
- D Memelihara hak penduduk

14. Bagaimanakah pertapakan Islam di Melaka menyebabkan pengislaman wilayah Aru, Rokan, Siak, Kampar dan Inderagiri?
- A Pendidikan dipergiat
  - B Penguasaan kawasan
  - C Perdagangan diperluas
  - D Hubungan luar diperkukuh

15. Rajah 2 menunjukkan pengubahsuaian sistem pemerintahan berasaskan Islam di Asia Tenggara pada abad ke-15 Masihi.

Institusi Kesultanan

**Rajah 2**

Mengapakah pengubahsuaian tersebut berlaku?

- A Pengaruh proses Bai'ah
  - B Perubahan pemimpin
  - C Mengikut cara Turki
  - D Keinginan pemerintah
16. Bagaimanakah Syahbandar membantu perkembangan Islam di Asia Tenggara pada abad ke-16?
- A Menjaga keselamatan kawasan perairan
  - B Mengawal keamanan dalam negeri
  - C Memastikan kesejahteraan istana
  - D Mengetuai bandar pelabuhan
17. Mengapakah golongan petani di Eropah mencari perlindungan dari golongan Baron pada Zaman Gelap?
- A Kehidupan tidak selamat
  - B Peluang mengelak cukai
  - C Terikat dengan bangsawan
  - D Bergiat dalam perdagangan

18. Rajah 3 menunjukkan sumber tenaga di Eropah sebelum abad ke-18.

Manusia
Binatang
Tenaga Air

**Rajah 3**

Apakah sumber tenaga yang digunakan selepas abad ke-18 di Eropah?

- A Solar  
 B Gasolin  
 C Elektrik  
 D Wap
19. Pada abad ke-19, British telah memperkenalkan undang-undang tanah berkonsepkan sistem Barat di Perak, Selangor dan Negeri Sembilan  
 Mengapakah British memperkenalkan undang-undang tanah tersebut?
- A Melahirkan tenaga mahir  
 B Menyatukan pelbagai kaum  
 C Memudahkan kerja pentadbiran  
 D Membanteras ancaman komunis
20. Jadual 2 berkaitan dengan mata wang yang digunakan di Tanah Melayu sebelum kedatangan penjajah Barat.

Negeri	Mata Wang
Kelantan	Dinar emas
Pahang	Jongkong tampang
Terengganu	Kupang emas

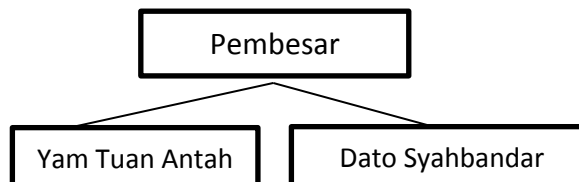
**Jadual 2**

Mengapakah mata wang tersebut digunakan di negeri-negeri Melayu tersebut?

- A Memajukan pentadbiran negeri  
 B Memudahkan pembayaran ufti  
 C Menggalakkan pembelian tanah  
 D Melicinkan urusan perdagangan



21. Raja Mongkot dan Chulalongkorn telah memperkenalkan sistem Birokrasi Barat di Thailand. Mengapakah sistem tersebut diperkenalkan?
- A Menambah kuasa raja
  - B Mengekalkan kemerdekaan
  - C Menghalang penentangan rakyat
  - D Mengetepikan tradisi bangsa
22. Penjajah Belanda memperkenalkan Sistem Tanaman Paksa di Indonesia. Mengapakah penduduk Indonesia tidak berpuas hati terhadap sistem tersebut?
- A Ekonomi sara diri terjejas
  - B Menindas penduduk pribumi
  - C Perusahaan tradisional terancam
  - D Perdagangan tukar barang terganggu
23. Mengapakah British menggunakan nama sultan Terengganu ketika menghantar tiga orang pembesar untuk menawan semula Kuala Berang dari pejuang tempatan?
- A Pembesar sangat berpengaruh
  - B Sultan berkuasa mutlak
  - C British menghormati sultan
  - D Rakyat tidak menderhaka kepada sultan
24. Rajah 4 berkaitan dengan pembesar di Negeri Sembilan yang menentang British.



**Rajah 4**

Mengapakah mereka menentang British?

- A Pembinaan balai polis
- B Penguasaan British di Sungai Ujong
- C Pengenalan sistem perdagangan bebas
- D Pelaksanaan pendidikan sekular

25. Kedua-dua negara berikut merupakan negara bangsa di Eropah pada abad ke-19.
- Jerman
  - Itali

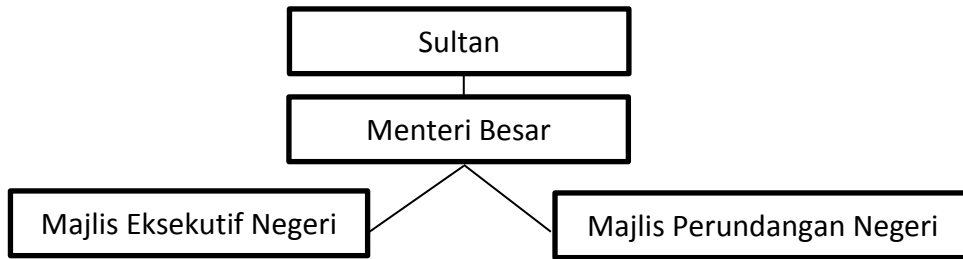
Apakah persamaan penyatuan kedua-dua negara tersebut?

- A Mengenenepikan perbezaan warna kulit
  - B Menyatukan masyarakat majmuk
  - C Menggunakan kaedah *realpolitik*
  - D Menerima pelbagai bangsa
26. Mengapakah Itali berjaya menewaskan Austria pada tahun 1860?
- A Kekuatan pegangan agama
  - B Kebijaksanaan pemimpin
  - C Sokongan semua bangsa
  - D Kerjasama dengan Perancis
27. Apakah peranan Majlis Mesyuarat Kerajaan dalam sistem pentadbiran di Terengganu?
- A Membantu Sultan
  - B Melantik Menteri Besar
  - C Melantik pembesar istana
  - D Mentadbir daerah
28. Senarai berikut adalah tindakan British yang menyebabkan orang Melayu menentang Malayan Union.
- Pemberian kerakyatan yang longgar
  - Dasar sama rata

Mengapakah tindakan tersebut menyebabkan orang Melayu menentang Malayan Union?

- A Mencampuri adat istiadat penduduk tempatan
- B Menjejaskan status quo orang Melayu
- C Menghalang perpaduan kaum
- D Mengubah sempadan negeri

29. Rajah 5 merujuk kepada struktur pentadbiran peringkat negeri di Tanah Melayu pada tahun 1948.



**Rajah 5**

Apakah bidang kuasa Sultan?

- A Mengetuai angkatan tentera
  - B Mengetuai upacara rasmi
  - C Melantik Menteri Besar
  - D Melantik Exco
30. Maklumat berikut berkaitan dengan Suruhanjaya Reid.

Tarikh	Ahli
Mac 1956	Lord Reid (Pengerusi) Sir Ivor Jennings Sir William McKell Tuan B. Malik Tuan Abdul Hamid

Apakah tugas Suruhanjaya Reid?

- A Menubuhkan Jawatankuasa Antara Kaum
  - B Menetapkan syarat mendapatkan kerakyatan
  - C Merangka perlembagaan Persekutuan Tanah Melayu
  - D Melaksanakan pilihan raya Majlis Perundangan Persekutuan
31. Pada 27 Mei 1961, Tuanku Abdul Rahman telah mencadangkan pembentukan Malaysia di Hotel Adelphi, Singapura.  
Mengapakah beliau bertindak demikian?
- A. Mewujudkan kerjasama ekonomi
  - B. Mengimbangi pengaruh kuasa pembesar
  - C. Memperkasa sistem raja berperlembagaan
  - D. Mengamalkan pengagihan kuasa

32. Apakah yang dilaksanakan oleh pemimpin Tanah Melayu pada tahun 1950-an agar kemerdekaan Persekutuan Tanah Melayu dicapai tanpa pertumpahan darah?
- A Mengadakan rundingan
  - B Mengadakan pungutan suara
  - C Mendapatkan sokongan luar
  - D Mengadakan rundingan dengan komunis
33. Mengapakah Parti Rakyat Brunei di bawah pimpinan A.M.Azahari menentang gagasan Malaysia?
- A Membentuk gagasan Melayu Raya
  - B Menubuhkan Persekutuan Borneo
  - C Bimbang ancaman komunis
  - D Bekerjasama dengan Filipina

34. Pernyataan berikut berkaitan dengan Perkara 24 dalam Perlembagaan Malaysia.

*Seseorang yang mempunyai kerakyatan negara lain akan dilucutkan kewarganegaraannya.*

Mengapakah perkara tersebut digubal dalam Perlembagaan Malaysia?

- A Menjamin kesetiaan rakyat kepada negara
  - B Menjamin hak istimewa kaum bumiputera
  - C Mengawal penghijrahan rakyat ke luar negara
  - D Mengawal kemasukan pendatang asing ke negara ini
35. Pernyataan berikut berkaitan dengan Perkara 153 dalam Perlembagaan Malaysia.


*Peranan Yang di-Pertuan Agong dalam menjaga dan memelihara hak istimewa serta kedudukan orang Melayu dan bumiputera Sabah dan Sarawak*

Apakah hak istimewa orang Melayu dan bumiputera yang dimaksudkan dalam pernyataan tersebut?

- A Menjadi ahli Dewan Rakyat
- B Penerimaan pangkat kebesaran
- C Jawatan dalam perkhidmatan awam
- D Kebebasan menganuti mana-mana agama

36. Undang-undang darurat di bawah 'Undang-undang X' boleh diisytiharkan jika keselamatan negara terancam.  
Siapakah yang berkuasa mengisytiharkan undang-undang tersebut?
- A Perdana Menteri
  - B Menteri Pertahanan
  - C Yang di-Pertuan Agong
  - D Mahkamah Persekutuan
37. Melalui Rancangan Malaya Pertama, kerajaan telah memperkenalkan Lembaga Pembangunan Industri Desa (RIDA).  
Apakah tujuan agensi tersebut ditubuhkan?
- A Membangunkan masyarakat luar bandar
  - B Menggalakkan kemasukan pelabur
  - C Mengawal kemasukan buruh luar
  - D Mengurangkan beban kerajaan
38. Cabaran Keenam Wawasan 2020 ialah membina masyarakat yang maju dan saintifik.  
Bagaimanakah matlamat tersebut dapat dicapai?
- A Penghayatan prinsip Rukun Negara
  - B Penguasaan terhadap ilmu pengetahuan
  - C Menghayati Falsafah Pendidikan Kebangsaan
  - D Mengukuhkan perpaduan masyarakat pelbagai kaum

39. Gambar 3 adalah senjata yang memusnahkan bandar Hiroshima dan Nagasaki.



**Gambar 3**

- Mengapakah tindakan mengebom bandar tersebut dilakukan oleh Amerika Syarikat?
- A Membanteras ancaman komunis
  - B Menguji keberkesanan teknologi moden
  - C Mengalihkan perhatian Kuasa Bersekutu
  - D Mengelakkan tempoh peperangan yang lama
40. Negara-negara Selatan atau Negara Dunia Ketiga masih bergantung kepada negara maju dalam pemasaran bahan mentah.  
Mengapakah keadaan ini berlaku?
- A Ketandusan pemimpin berwibawa
  - B Kehabisan bahan mentah
  - C Kekurangan kepakaran
  - D Ketiadaan sokongan negara berjiran

**KERTAS SOALAN TAMAT**